

الصف السادس الابتدائي
حل محافظات كتاب الاضواء
دراسات 2020/2021



تم تعديل هذه الامتحانات وفقا لتعدادات الوزارة للعام الدراسي ٢٠٢٠ / ٢٠٢١

محافظة القاهرة ادارة تعليم الجيزة التعليمية

(مجاب عنه ص ٢٢)

مستر / احمد عبد الواحد

(اولا) الجغرافيا



السؤال الاول: (١) امامك خريطة صماء لمصر، اكتب مدلول الارقام التي عليها:

أ/ احمد عبد الواحد
معلم اول الدراسات الاجتماعية

١- منطقة زراعية فيضية

٢- قناة

٣- منخفض الفيوم

٤- البحر الاحمر

(ب) اختر الإجابة الصحيحة مما بين القوسين:

١- تمدنا البيئة بالمعادن.

٢- من الصناعات الكيميائية صناعة

٣- من العادات السلبية في البيئة الزراعية

(الزراعية - الصناعية - الصحراوية - الساحلية)

(الآلات - السبارات - الأدوية - الرخام)

(التعاون - كثرة الإنجاب - احترام الكبير - التزاوج بينهم)

(الجلود - القطن - الحديد - الرخام)

٤- من المواد الخام الحيوانية

السؤال الثاني: (١) اكمل العبارات الآتية بكلمات مناسبة:

١- تتميز التربة الرملية بأنها خصب و

٢- يجب بناء المصانع بعيدا عن المناطق السكانية

٣- يعد الحج من الحبوب الغذائية.

٤- من الصناعات الحرفية البدوية الفخار والسجاد

(ب) بم تفسر؟

١- شهرة محافظة الفيوم السياحية لوجود السواحي ومجيرة فارون وعين السيلين

٢- اهتمام الدولة بإنشاء المزارع السمكية.

٣- تلوث الهواء في المناطق الصناعية.

٤- بسبب ادخلة وارتبة المصانع

(ثانيا) التاريخ:

السؤال الثالث: (١) اكمل العبارات الآتية بكلمات مناسبة:

١- كان الوالي يدعو الديوان للانعقاد في الولاية العثمانية.

٢- من الأسباب المعلنة للحملة الفرنسية تأديب الخليفة

٣- تخلص محمد علي من المعاليك في مذبحة القلعة عام ١٨١١م.

(ب) صواب ما تحته خط:

- ١- تولى المعاليك حكم مصر عقب انهيار الدولة الفاطمية. الأيوبية
- ٢- اندلعت ثورة القاهرة الأولى من حي بولاق. الازهر الشريف

مسور الأوضاع الاقتصادية
لإدولة الممالك
وضمنها

- (ج) ما النتائج المتتالية على دخول عكا
١٨٠٠م (نابليون بونابرت) على بلاد الشام ١٧٩٩م
١- قام بترحيل أمهر الصنائع والحرفيين من مصر إلى الأستانة. نعم الاول
- ٢- شاب سوري قتل كليبر في يونيو ١٨٠٠م. مسليمان الحلب
- ٣- أمر جنوده بدخول الأزهر بخيولهم. بما يلعبون بونايرت

(ب) اكتب كلمة (صواب) أمام العبارة الصحيحة، وكلمة (خطأ) أمام العبارة غير الصحيحة.

- (X)
(✓)
(✓)
(X)

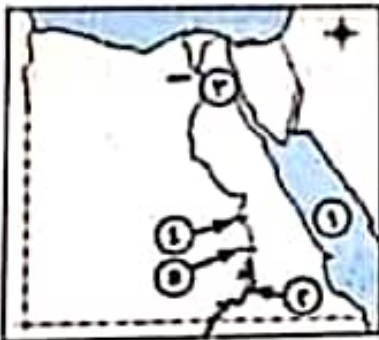
- ١- كان نظام الحكم العثماني لمصر عادلاً. استعداداً
- ٢- أنشأ (محمد علي) قصر الجوهرة بالقلعة.
- ٣- أبحرت الحملة الفرنسية من ميناء مطولون.
- ٤- كان (محمد كريم) هو قائد ثورة القاهرة الثانية. عمر حكيم

٢- محافظة الجيزة - إدارة الجوامعية التعليمية

(أكتب على هذا ٢١٣)

مستتر / أحمد عبد الواحد

ولاً) الجغرافيا:



بالأول، (١) أمام الخريطة صماء لمطر، اكتب مدلول الأرقام التالية،

أ/ أحمد عبد الواحد
معلم أول الدراسات الاجتماعية

- ١- البحيرة: البحيرة
- ٢- بحيرة: ناهير
- ٣- ترعة: الاسماعيلية
- ٤- قناة: اسنا
- ٥- السد: العالى

(ب) اكتب المصطلح الجغرافى الذى تشير إليه العبارات الآتية:

- ١- الأفراد فى سن العمل ولا يعملون. البطالة
- ٢- تحويل المواد الخام إلى سلع ومنتجات لسد احتياجات السكان. الصناعة
- ٣- الإفراط وسوء استخدام الموارد الطبيعية بشكل يؤدى إلى نفاذها. الاستنزاف

بالثالث، (١) اكتب كلمة (صواب) أمام العبارة الصحيحة، وكلمة (خطأ) أمام العبارة غير الصحيحة مما يلي:

- ١- البيئة الزراعية هي البيئة التى تتوافر فيها مقومات الزراعة.

- ٢- يزيد سكان وادي النيل عن الدلتا. **يقل**
 ٣- تعتبر آثار حضارة تل بسطة من أهم المعالم السياحية لمحافظة القاهرة. **الشرقية**
 ٤- صناعة حلج القطن من الصناعات **الهدوية**. **المنسجعة**
 ٥- تهتم الدولة بالتعليم الصناعي لتوفير العمالة المدربة.

(ب) بسم تفسر: ٢ **كثرة الانحياز - الزواج المبكر - تعدد الزوجات**

- ١- ارتفاع معدل الزيادة الطبيعية للسكان في البيئة الزراعية عن المحافظات الحضرية.
 ٢- مراعاة اتجاه الرياح عند إقامة المصانع. **حتى لا يتجه الدخان والملوثات الصناعية نحو المناطق السكنية**

(ثانياً) التاريخ

السؤال الثالث: (١) اختر الإجابة الصحيحة مما بين القوسين:

- ١- اكتشف طريق رأس الرجاء الصالح. (البريطانيون - الفرنسيون - البرتغاليون - العثمانيون)
 ٢- كان نائباً للسلطان في الولاية ومقر حكمه القلعة (الحامية - الوالي - الدهوان - المعاليك)
 ٣- احتل الفرنسيون الإسكندرية في عام ١٧٩٨م بعد مقاومة حاكمها

- ٤- اندلعت ثورة القاهرة الثانية من حي (محمد كريم - الشيخ السادات - عمر مكرم - الشرقاوي)
 ٥- تخلص (محمد علي) من في مذبحه القلعة. (الإسكندرية - بولاق - الأزهر - عابدين)

- (الزعامة الشعبية - الجنود الألبان - الإنجليز - المعاليك)

(ب) لمن تنسب الأعمال التاريخية الآتية: ٢

- ١- قام بالاستيلاء على مدينة القسطنطينية عام ١٤٥٣م. **محمد الثاني**
 ٢- شاب سوري قتل كليبر في يونيو ١٨٠٠م. **سليمان الحلبي**
 ٣- قائد الحملة الإنجليزية على مصر في مارس ١٨٨٢م. **فريزر**

السؤال الرابع: (١) صوب ما تحته خط:

- ١- أصبحت مصر ولاية عثمانية بعد معركة دبو البحرية. **الريانية**
 ٢- تولي المعاليك حكم مصر عقب انهيار الدولة الفاطمية. **اللولبية**
 ٣- عقد القائد كليبر اتفاقية لندن عام ١٨٠٠م بين العثمانيين والفرنسيين. **العرش**
 ٤- تولي خورشيد القيادة العامة لحملة الحجاز ١٨١١م. **هوسون**

- ٥- نجح عباس الأول في إقامة إمبراطورية امتدت إلى مديرة خط الاستواء. **اسما عيل**

(ب) ما النتائج المترتبة على: ٢

- ١- معركة مرج ذابق عام ١٥١٦م.
 ٢- ثورة القاهرة الأولى عام ١٧٩٨م **فرض غرامات مالية على**
أصبحت المساك وللاية عثمانية
انفتح الطريق أمام العثمانيين
لضم مصر
لضم مصر

مسئرة / الكنفيد الواحه



سؤال الأول: (١) أمامك خريطة صماء لمصر، اكتب ما تدل عليه الأرقام:

- ١- البحر المتوسط
- ٢- من مناطق الزراعة المروية الدلتا
- ٣- قناة السويس
- ٤- مركز لصناعة معدن الألومنيوم بحر الجوف

(ب) اكتب سينما واحدا لكل مما يأتي:

٢- نقل العمال والمواد الخام والمشتات باستثمار خفية

١- قيام الدولة بإنشاء وزارة البيئة

٣- تلوث الهواء في البيئة الصناعية

١- تعتمد الزراعة في الواحات على مياه نهر النيل الجوفية

٢- الزواج المبكر من العادات السلبية لسكان البيئة الزراعية

٣- تُعد صناعة الأسعده والأدوية من الصناعات الغذائية الكيمائية

٤- الاستنزاف يعني تقليل الاستهلاك والاستخدام الأمثل للموارد الرئيسية

(ب) اكتب المصطلح الجغرافي الدال على كل عبارة من العبارات التالية:

١- قناة مائية يتم حفرها لتوصيل المياه من نهر النيل لرى الأراضي الزراعية الترعة

٢- انتقال الأفراد من مكان لأخر سواء داخل الدولة أو خارجها لفترات زمنية طويلة الهجرة

٣- تحويل المادة الخام إلى سلع ومنتجات لسد احتياجات السكان الصناعة

ثانيا) التاريخ:

سؤال الثالث: (١) اكتب نتيجة واحدة لكل مما يأتي:

١- اكتشاف طريق رأس الرجاء الصالح وأثره على دولة المماليك مصر

٢- هزيمة القماب العنلوكية عند الريدانية ١٥٢٧م مصر

٣- الحملة الفرنسية على مصر من الناحية العلمية والثقافية مصر

(ب) اكتب اسم الشخصية التاريخية مكان الخط:

١- تم الاستيلاء على مدينة القسطنطينية في عهده عام ١٤٥٣م محمد الثاني

٢- قام بترحيل أمهر الصناعات والحرفيين المصريين إلى الأستانة سليم الأول

٣- قاد الحملة الفرنسية على مصر بعد رحيل نابليون كلبير

٤- الخديو الذي نجح في إقامة إمبراطورية مصرية امتدت إلى مديرية خط الاستواء إسماعيل

معلم أول الدراسات الاجتماعية / أحمد عبد الواحد

السؤال الرابع: (١) اختر للعبارة التالية ما يناسب كلاً منها مما بين القوسين:

- ١- كانت مصر قبل مجيء العثمانيين تحت حكم (المعاليك) - الفرنسيين - الإنجليز - الأيوبيين
- ٢- المذبذبة التي فشل الفرنسيون في فتحها بسبب بسالة أهلها وقوة أسوارها (القاهرة - العريش - عكا - رشيد)
- ٣- أرسلت إنجلترا حملة إلى مصر في مارس ١٨٠٧م بقيادة (فريزر) - نلسون - كليبر - مينو
- ٤- اهتم محمد علي بتنظيم الإدارة فقسم البلاد إلى سبع (مديريات) - مراكز - أقسام - قرى

(ب) اهتم محمد علي بالتعليم اهتماماً متميزاً، فأرسل بعثات إلى الخارج، وعمل على ترجمة الكتب والمؤلفات في مختلف العلوم. من ضوء العبارة السابقة، اجب عن الأسئلة التالية:

- ١- ما أهم الدول التي أرسل محمد علي البعثات إليها؟ فرنسا
- ٢- ما اسم المطبعة التي أنشأها محمد علي؟ المطبعة الأميرية
- ٣- اكتب اسم مدرستين من المدارس التي أنشأها محمد علي. المهندستان - الطب - الزراعة

٤- محافظة القليوبية - إدارة قلوب التعليمية

أ/ أحمد عبد الواحد

معلم أول الدراسات الاجتماعية

(أولاً) الجغرافيا:



السؤال الأول: (١) أمامك خريطة صماء لمصر، اكتب محلول الأرقام المرفقة عليها:

- ١- البحر المتوسط
- ٢- منخفض القسيوم
- ٣- الصحراء الشرقية
- ٤- ترعة بحر يوسف

(ب) اكتب المصطلح الجغرافي الذي تشير إليه العبارات الآتية:

- ١- المكان الذي تعيش فيه ويضم مظاهر طبيعية ومظاهر حضارية. البيئة
- ٢- حاجز مائي بغرض رفع منسوب المياه لتوزيعها في الترع. القناطر
- ٣- تخزين المواد الخام إلى سلع ومنتجات تسد حاجة السكان. الصناعة

السؤال الثاني: (١) اكتب كلمة (صواب) أمام العبارات الصحيحة وكلمة (خطأ) أمام العبارات غير الصحيحة فيما يلي:

- ١- تبدو الدلتا على شكل مثلث مقلوب. (✓)
- ٢- تقل نسبة الأمية في الريف مقارنة بالمدن. (X) **ترفع**
- ٣- تصنف الصناعة حسب تطورها إلى صناعة حرفية وبسيطة وحديثة. (✓)
- ٤- أهم المشكلات التي تواجه الصناعة هي التلوث البيئي. **المحرق بالحرارة** (X)
- ٥- براعي عند إقامة المصانع أن تكون قريبة من المناطق السكنية. **بعيدة** (X)

تنوع الموارد الطبيعية
تنوع مظاهر الطخ
السياحة
تفسير
السياحة
تنوع النباتات المصرية

لجهود السواح وبعين السيليس
٢- محافظة الفيوم منطقة جذب سياحي، وبحيرة فارون
٣- إنشاء المناطق الصناعية في مصر لتطوير الصناعة وزيادة
المصانع والازدهار والظواهر وان وفقر العمل والعمالة الاجنبية

التاريخ

١- الثالث، (١) اختار الإجابة الصحيحة مما بين القوسين فيما يلي:

- ١- الذي قام بالاستيلاء على مدينة فلسطينية
(سليم الأول - محمد الثاني - عثمان بن أرطغرل - محمد علي)
- ٢- أهم الأسباب المعلنة للحملة الفرنسية على مصر
(تأديب العماليك - تهديد مصالح إنجلترا - إقامة مستعمرة فرنسية - تأييد العماليك)
- ٣- القائد الذي قام بمفاوضة العثمانيين في اتفاقية العريش
(نلسون - نابليون - مينو - كليبر)
- ٤- تم إنشاء ترسانة لصناعة السفن في
(القاهرة - دمياط - الإسكندرية - العريش)

(ب) ما النتائج المترتبة على؟

- ١- اكتشاف الزيت في طريق رأس الرجاء الصالح
- ٢- توسعات محمد علي الداخلية والخارجية
- ٣- أصبحت مصر ولاية عثمانية بعد معركة البرية
- ٤- أبحرت الحملة الفرنسية من ميناء طولون إلى مصر
- ٥- قسم محمد علي البلاد إلى ٧ محميات
- ٦- تم عزل الخديوي إسماعيل وتولية ابنه توفيق بدلا منه

(ب) لمن تسبب هذه الأعمال التاريخية؟

- ١- قبض على زعماء الثورة وأعدم ستة منهم باستثناء الشيخ السادات
- ٢- أنشأ المطبعة الأميرية في بولاق
- ٣- أقام أول وأقدم إمبراطورية امتدت لعددية خط الاستواء

٥- محافظة المنوفية - إدارة منوف التعليمية

الجغرافيا

١- أمامك خريطة صماء لمصر، اكتب محلول الأرقام الموقعة عليها:



- ١- قنطرة
- ٢- بحيرة
- ٣- البحر المتوسط
- ٤- منخفض

(ب) يتم تقييم...
لعموم وجود حدودها صلبة بين
١- ندرة النبات الطبيعي في البيئة الزراعية.

لعدم وجود حدودها صلبة بين

٢- تميز البيئات المصرية بالتداخل مع بعضها البعض

لمنع لصغار العمار والأثرية من المداخل
السؤال الثاني (١) اكتب المصطلح الجغرافي الذي تشير إليه العبارات الآتية:

المجالة

- ١- يقصد بها الأفراد الذين في سن العمل ولا يعملون.
- ٢- تحويل المادة الخام إلى سلع ومنتجات لسد احتياجات السكان.
- ٣- الصناعات التي تعتمد على العمل البدوي وتحتاج إلى رأس مال قليل.

(ب) اكتب كلمة (صواب) أمام العبارة الصحيحة وكلمة (خطأ) أمام العبارة غير الصحيحة:

- ١- من خصائص البيئة الزراعية الاقتصادية ارتفاع مستوى دخل الفرد. (X)
- ٢- تعتمد الزراعة في المناطق الفيضية على الأمطار الشتوية. (X)
- ٣- من خصائص سكان البيئة الصناعية ارتفاع نسبة الأمية. (X)
- ٤- الزواج المبكر من العادات السلبية لسكان البيئة الزراعية. (X)

ثانياً التاريخ:

أ/ أحمد عبد الواحد
معلم أول الدراسات الاجتماعية

السؤال الثالث (١) صوب الكلمات التي فوق الخط مما يلي:

- ١- الوالي أو الباشا خونايب السلطان ومقره الإسكندرية.
- ٢- تولي جلوسون باشا القيادة العامة لحملة الشام.
- ٣- تولي العثمانيون حكم مصر عقب انهيار الدولة الفاطمية.
- ٤- اجتمع زعماء الشعب والعلماء في دار المحكمة وقرروا عزل محمد علي.

(ب) رتب الأحداث التاريخية التالية من الأقدم للأحدث:

(٦) فتح قلعة - ثورة القاهرة الأولى - اتفاقية العريش - اكتشاف طريق رأس الرجاء الصالح

السؤال الرابع (١) املأ لتسب الأعمال التاريخية الآتية - ٢

- ١- تزعم ثورة القاهرة الثانية عام ١٨٠٠م في حي بولاق.
- ٢- قام بالاستيلاء على مدينة القسطنطينية عاصمة الدولة البيزنطية عام ١٤٥٣م.
- ٣- قام بترحيل الصناع المهرة إلى الأستانة.
- ٤- قام محمد علي بنفبه إلى دمياط بعد توليه حكم مصر.

(ب) اكتب نتيجة واحدة لكل نقطة مما يأتي:

- ١- هزيمة القوات الإنجليزية في رشيد والحناء.
- ٢- الحملة الفرنسية على مصر من الناحية السياسية.
- ٣- سياسة محمد علي التوسعية.

الصلام مع أطباع العول الاستعمارية

من المنطقة خاصة

سؤال الأول: (١) أمامك خريطة صماء لمصر اكتب مداخل الأرقام التي عليها:

- ١- البحر المتوسط
- ٢- السند العالي
- ٣- شبه الجزيرة سيناء
- ٤- القنطرة الخريرية
- ٥- فرع دمياط

(ب) ما النتائج المترتبة على...؟

١- إلقاء المخلفات الصناعية في المجارى المائية.

٢- تلوث المياه وموت الأسماك.

تنوع الاسماك الاقتصادية

٢- تنوع النباتات المصرية. والروان الطبيعية

سؤال الثالث: (١) اكتب كلمة (صواب) أمام العبارات الصحيحة وكلمة (خطأ) أمام العبارات غير الصحيحة:

- ١- من مشكلات البيئة الصناعية في مصر الاهتمام بالتعليم الفني. الطون المبني (X)
- ٢- من محاصيل الحبوب الغذائية القمح والأرز والذرة. (✓)
- ٣- يراعى عند بناء المصانع أن تكون بعيدة عن المناطق السكنية. (✓)
- ٤- الانفتاح على العالم الخارجى يشجع على الاستثمار في مجال الصناعة. (✓)

(ب) اكتب المقصود العلمى لكل مما يأتى:

١- إزالة الطبقة السطحية من الأرض مما يؤدي إلى تدهور إنتاجها. تجريف التربة

٢- أرض مستوية تتكون من الرواسب الطينية التي ينقلها نهر النيل من منابعه. المسهول الفيضية

٣- تحويل المواد الخام إلى منتجات الصناعة

لخدمة السكان

(ج) ما المقصود بكل من...؟

١- الأمانة عدم حرق القرازة

واللغابة

سؤال الثالث: (١) اكتب كلمة (صواب) أمام العبارات الصحيحة وكلمة (خطأ) أمام العبارات غير الصحيحة:

- ١- فر المعاليك إلى الصعيد بعد هزيمتهم في معركة شبراخيت وإمابة. (✓)
- ٢- طبق محمد على نظام الالتزام في الاقتصاد المصري. الاحتكاك (X)
- ٣- من الوجهة الحربية حققت الحملة الفرنسية أهدافها على مصر. فصلت (X)
- ٤- الوالى كان نائب السلطان ومقره القلعة. (✓)
- ٥- استولت الحملة الفرنسية على جزيرة والطة ثم كريت لتضليل الأسطول الإنجليزي. (✓)

٥- استولت الحملة الفرنسية على جزيرة والطة ثم كريت لتضليل الأسطول الإنجليزي.

(ب) ما النتائج المترتبة على...؟

١- اكتشاف جسر لبند. استولت الحملة الفرنسية على جزيرة والطة ثم كريت لتضليل الأسطول الإنجليزي.

٢- اختار الإجابة الصحيحة مما بين القوسين.

١- غلمان تم جلبهم بواسطة التجارة واشتراهم السلاطين والأمراء.....

(العثمانيون - الإنجليز - المعاليك - الفرنسيون)

- ٢- من النتائج للحملة الفرنسية إبقاء الوعي القومي. (الحربية - العلمية - السياسية - الاجتماعية)
- ٣- أرسل السلطان سليم الأول أمهر الصناع والحرفيين إلى (اليونان - الحجاز - الأسفانة - تونس)
- ٤- وصلت الحملة الفرنسية ميناء في يوليو ١٧٩٨ م. (دمياط - الإسكندرية - رشيد - بورسعيد)
- ٥- أقام محمد علي معملًا للسكر في (الوجه البحري - الوجه القبلي - الوادي الجديد - سيناء)

(ب) ما المقصود بكل من - ٢ ؟

حركة شعبية شاملة تهدف للتغيير المنظم للأوضاع القائمة.

١- حيلة
٢- ثورة
٣- ثورة

٧- محاضرة عن الشيخ الأزهري في التعليم

(محاضرة عن الشيخ الأزهري)

(أولاً) الجغرافيا:

السؤال الأول: (١) أمامك خريطة صماء لمصر، اختب مدلول الأرقام التالية:



- ١- البحر المتوسط
٢- منطقة زراعية
٣- منخفض الفيوم
٤- وادي النيل

مصر
عبد الواحد

(ب) ما المقصود بكل من - ٢ ؟

١- العشوائيات.
٢- الاستنزاف.
٣- انخفاض المستوى الاجتماعي والتعليمي لسكان مصر.
٤- انخفاض

- ١- يعتمد نشاط التعدين في البيئة الزراعية على مصاد نهر النيل والقرع.
٢- تؤدي الصناعة إلى انخفاض المستوى الاجتماعي والتعليمي لسكان مصر.
٣- يزيد عدد السكان في المناطق الممتدة نحو الصحاري.

تطوير الصناعة وزيادة الإنتاج
٢- تطوير الدولة للمناطق الصناعية في مصر
٣- زيادة فرص العمل والاستثمار في مصر

(ب) ما النتائج التي تلت على - ٢ ؟
١- ارتفاع نسبة الهجرة من الريف إلى المدن.

(ثانياً) التاريخ:

السؤال الثالث: (١) أكمل العبارات الآتية بما يلياسبها من كلمات:

- ١- تعلم الأسطول الفرنسي في موقعه إسفين البحري
٢- تولى المعاليك حكم مصر عقب انهيار الدولة العثمانية
٣- أصبحت مصر ولاية عثمانية عام ١٥١٧ م بعد موقعه الكريزي

١- تخلص محمد علي من الزعامة الشعبية بنفي عمر مكرم إلى مدينة دمياط

أحمد عبد الواحد
معلم أول الدراسات الاجتماعية

(ب) بم تفهيم؟
 ١- قيام ثورة القاهرة الثانية
 ٢- تدهور الحياة الفنية في ظل الحكم العثماني
 ٣- تدهور الحياة الفنية في ظل الحكم العثماني
 ٤- تدهور الحياة الفنية في ظل الحكم العثماني

- ١- كان مقر الحكومة المركزية في عهد محمد علي في (الإسكندرية - القاهرة - الغربية - الجيزة)
- ٢- تولي حكم مصر عام ١٨٦٣م (عباس باشا - سعيد باشا - الخديو توفيق - اسماعيل باشا)
- ٣- أرسلت إنجلترا حملة إلى مصر في مارس ١٨٠٧م بقيادة (ملتر - ونجيت - فريز - نلسون)

(ب) وتولى محمد علي حكم مصر عام ١٨٠٥م وأخذ يولي مصر على النسب الأوروبي في ضوء العبارة التالية:
 ١- مناهر اهتمام محمد علي بشئون الري (فسر ذلك).
 ٢- دلت على صحة العبارة التالية: «ارتفعت النهضة الصناعية في عهد محمد علي بالنهوض بالبحر الأحمر»
 ٣- دلت على صحة العبارة التالية: «ارتفعت النهضة الصناعية في عهد محمد علي بالنهوض بالبحر الأحمر»
 ٤- دلت على صحة العبارة التالية: «ارتفعت النهضة الصناعية في عهد محمد علي بالنهوض بالبحر الأحمر»

٨- محافظة البحيرة - إدارة بندر دمنهور التعليمية

أولاً الجغرافيا:

أ/ أحمد عبد الواحد
 معلم أول الدراسات الاجتماعية



- ١- السد العالي
- ٢- البحر المتوسط
- ٣- ترعة بحر يوسف
- ٤- بحيرة ناصر

(ب) بم تفهيم؟
 ١- معدل الزيادة السكانية الطبيعية في الريف أعلى من الحضر.
 ٢- يعمل معظم سكان البيئة الزراعية بالنشاط الزراعي.
 ٣- بناء المصانع بعيداً عن المناطق السكنية لتقليل تلوث المدن.

(ج) ما المقصود بالمصطلح الجغرافي الآتي؟
 ١- الاستنزاف
 ٢- التلوث
 ٣- التلوث
 ٤- التلوث

(ب) بم تفهيم؟
 ١- بيئات مصر متباينة فتعطي كل بيئة أخرى ما تحتاجه.
 ٢- لا توجد الزراعة في الأطراف الجنوبية في البلاد.
 ٣- تعتبر صناعة السجاد اليدوي من الصناعات الحديثة.
 ٤- يقصد بها طلبات الدول الأخرى السوق المحلي.

(ج) ما مقترحاتك لمواجهة مشكلات البيئة الصناعية؟
 ١- مشاكل السكان في البيئة الزراعية.
 ٢- الجهود التي تبذلها الدولة لحلها.
 ٣- الجهود التي تبذلها الدولة لحلها.
 ٤- الجهود التي تبذلها الدولة لحلها.

(ثانياً) التاريخ

السؤال الثالث: (١) لمن تأسس الأعمال التاريخية الآتية: ٢

١- يقوم بإرسال الجزية للسلطان العثماني ومقره القلعة. **الوالي**٢- قائد ثورة القاهرة الثانية. **عمر حاكم**٣- عقد اتفاقية العريش مع العثمانيين. **كبير**٤- تعقب الفارين من مذبحة القلعة. **ابراهيم**

(ب) ما النتائج المترتبة: ٢

- ١- معركة الريانية ١٥١٧م أصبحت **مصر ولاية عثمانية** وأصبحت دولة للمالك **الغادر دولة القاهرة** **تخصص القاهرة** **الصلام مع أطباء الدول المستعمرة**
- ٢- ثورة القاهرة الأولى ١٧٢٨م **فرض عمر حاكم على العلماء والتجار** **سياسة محمد علي الخارجية التوسعية**
- (ج) ما المقصود بالمصطلح التاريخي الآتي: ٢
- ١- **مستعمر**
- ٢- **مستعمر**
- ٣- **مستعمر**
- السؤال الرابع: (١) اكتب كلمة (صواب) أمام العبارة الصحيحة، وكلمة (خطأ) أمام العبارة غير الصحيحة.

١- نشأت الدولة العثمانية أواخر القرن ١٣ الميلادي

٢- أبحرت الحملة الفرنسية من ميناء مرسيليا في فرنسا. **صواب**

٣- اهتم محمد علي اهتماماً مبرزاً بالنهضة العلمية.

٤- رأى المعاليك أنهم أحق بمصر لأنهم تصدوا للعثمانيين. **الفرنسيين**

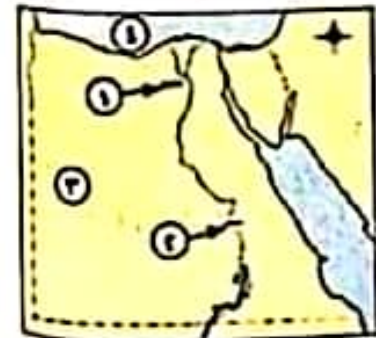
(ب) اكتب على مصر الخير من الغزاة ولكن شعبها دائماً يلتصق. من ضوء العبارة وضع:

١- ما أسباب حملة فرنيز؟ **لإحلال إنجلترا مصر والسيطرة عليها**٢- أسباب اجتماع دار المحكمة ١٣ مايو ١٨٠٥م. (اذكري لغز خورشيد بنات) **وتمسح عمر علي**٣- النتائج المهمة للحملة الفرنسية. (وضح) **النشأ عمر حاكم**٤- ما أثر الجمع العلمي؟ **بالعلماء كتاب وصف مصر**

٩- محافظة دمياط - إدارة فارسكور التعليمية

(أولاً) الجغرافيا:

السؤال الأول: (١) أمامك خريطة صماء لمصر، اكتب مدلول الأرقام الآتية: ١

١- منخفض **المنخفض**٢- قناة **إسنا**٣- الصحراء **الغربية**٤- البحر **المتوسط**

- ١- لا تجود الزراعة في الأقطاف الشمالية للدلتا. ارتفاع ملوحة التربة وكثرة المستنقعات.
- ٢- يجب مراعاة اتجاهات الرياح عند إقامة المصانع في البيئة الصناعية. حتى لا يتجه الهواء الملوث الصناعي نحو المناطق السكنية.
- السؤال الثاني: (١) اكتب ما تشير إليه العبارات الآتية:
- ١- عدم معرفة القراءة والكتابة. **الرعي**

- ٢- إزالة الطبقة السطحية من التربة مما يؤدي إلى تدهور إنتاجها. **تجريف التربة**
- ٣- يقصد به طلب السكان المحليين للمنتجات الصناعية. **السوق المحلي**
- (ب) ما مقترحاتك؟ - لحل مشكلة انتشار الأمراض نتيجة تلوث المياه في البيئة الزراعية. **الرياف بالمياه النقية**
- (ج) ضع دائرة حول الجملة التي لا تلتصق بالمجموعة. مع ذكر السبب.
- ١- التعاون بين العاملين.

- ٢- **التدخين داخل المصانع**
- ٣- احترام مواعيد العمل.
- ٤- الانتظام في العمل.

الأحمد عبد الواحد
عبد الله الدائم

مستر محمد عبد الواحد

(ثانياً) التاريخ:

السؤال الثالث: (١) صوب ما تحته خط:

- ١- اعتمد العثمانيون في حكم الأقاليم على **المصريين**.
- ٢- اندلعت ثورة القاهرة الثانية عام ١٨٠٠ ضد الفرنسيين من حي **الأزهر بولاق**.
- ٣- تخلص محمد علي من السيد عمر مكرم بنفيه إلى الإسكندرية. **دعاه**
- ٤- صدر امتياز حفر قناة السويس في عهد **إسماعيل باشا**.
- (ب) ما النتائج المترتبة على؟ - موقعة الريدانية عام ١٨٥٧ بين المعاليك والعثمانيين.
- (ج) ماذا كان يحدث إذا؟ - نجحت حملة فريزر على مصر عام ١٨٠٧.
- السؤال الرابع: (١) إلى من تنسب الأعمال التاريخية الآتية؟

- ١- قام بترحيل الصناع المهجرة إلى الأستانة عاصمة الدولة العثمانية. **سليم الأول**
- ٢- قائد فرنسي عقد اتفاقية العريش عام ١٨٠٠ مع العثمانيين. **كلير**
- ٣- أنشأ العديد من القصور مثل قصر الجوهرة. **محمد علي**
- (ب) بم تفسر؟ **تفوق إنجلترا البحري** - **نوران المهرس** - **مقاومة المعاليك والقماش**
- ١- لم تتحقق أهداف الحملة الفرنسية على مصر.
- ٢- تطلع المعاليك للانفراد بالسلطة بعد رحيل الحملة الفرنسية من مصر عام ١٨٠١.

لقد تم للفرنسيين من مصر معارك عديدة

أولاً) الاختيار من متعدد

السؤال الأول، (١) أمامك خريطة صماء لمصر، اكتب مدلول الأرقام،

- ١- البحر الأحمر
- ٢- الصحراء الغربية
- ٣- ترعة في شرق الدلتا
- ٤- قناطر



(ب) اكتب المصطلح الجغرافي الذي تشير إليه العبارات الآتية،

- ١- يقصد به الأفراد الذين في سن العمل ولا يعملون. البطالة
- ٢- مناطق تقوم بها الصناعة ويعمل معظم سكانها بالصناعة. البيئة الصناعية
- ٣- مناطق بنيت بدون تخطيط من الدولة وعادة ما تظهر على أطراف المدن. العشوائيات

السؤال الثاني، (١) اختر الإجابة الصحيحة مما بين القوسين،

- ١- تظهر الأراضي الزراعية على شكل مدرجات في (سيناء - الدلتا - الفيوم - وادي النيل)
- ٢- من العادات الإيجابية لسكان البيئة الزراعية (زيادة الإنجاب - التعاون - الزواج المبكر - تفضيل الذكور)
- ٣- تتركز صناعة الألومنيوم في نجع حمادى بمحافظة (القاهرة - قنا - الإسكندرية - الجيزة)
- ٤- صناعة العطور من الصناعات (الهندسية - المعدنية - الكيميائية - الغذائية)

(ب) بم تفسر؟

- ١- لا توجد الزراعة في الأطراف الشمالية للدلتا.
- ٢- يعد منخفض الفيوم بيئة زراعية رغم وقوعه في الصحراء الغربية.

ثانياً) التاريخ

السؤال الثالث، (١) لمن تنسب الأعمال التاريخية الآتية؟

- ١- قام بترحيل أمهر الصناع والحرفيين إلى الأستانة. سليم الأول
- ٢- قام بقتل كليبر في يونيو ١٨٠٠ م. محمد علي
- ٣- نجح في إقامة إمبراطورية امتدت إلى مديرية خط الاستواء. اسماعيل

(ب) اكتب العبارات الآتية بكلمات مناسبة،

- ١- تدهورت الحالة الاقتصادية لمصر بعد اكتشاف طريق رأس الرجاء الصالح.
- ٢- من مهام الوالى إرسال الخراج المفروض على البلاد للسلطان العثماني.
- ٣- فشلت حملة نابليون على الشام لعدم قدرته على فتح عكا.
- ٤- من النتائج العلمية للحملة الفرنسية تأليف كتاب وصف مصر.

سؤال الرابع، (أ) ما النتائج المترتبة على:-

- ١- معركة الريدانية ١٥١٧م أصبحت مصر ولاية عثمانية وانتهت دولة المماليك
- ٢- سياسة محمد على الخارجية التوسعية. الصدام مع اطماع الدول الاستعمارية في المنطقة
- (ب) صوب ما تحته خط في العبارات الآتية، خاصة بالخيار وفرزها
- ١- تحطم الأسطول المصري في معركة أبي قبر البحرية ١٧٩٨م. الأسطول الفرنسي
- ٢- تم نفي الزعيم عمر مكرم إلى مدينة الإسكندرية. وصايط
- ٣- أرسلت فرنسا إلى مصر حملة بقيادة فرينر. انجلترا
- ٤- تخلص محمد علي من العثمانيين في مذبحة القلعة ١٨٨١م. المماليك

١١- محافظة الاسماعيلية - توجيه الدراسات الاجتماعية

اسعد عبد الواحد
معلم اول الدراسات الاجتماعية



مستمر
محمد عبد الواحد

أولاً) الجغرافيا:

سؤال الأول، (أ) أمامك خريطة صماء لمصر اكتب مدخل الإرقام:-

- ١- البحر الأحمر
- ٢- خليج السويس
- ٣- فرع دمياط
- ٤- بحيرة ناصر
- ٥- قناة السويس

(ب) اكتب المصطلح الجغرافي الذي تشير إليه العبارات الآتية:-

- ١- مناطق بنيت بدون تخطيط من الدولة وعادة ما تظهر على أطراف المدن. العشوائيات
- ٢- صناعات يتم فيها تحويل المادة الخام من صورة إلى صورة أخرى. الصناعة البسيطة
- ٣- إزالة الطبقة السطحية من التربة مما يؤدي إلى تدهورها. تجريف التربة

سؤال الثاني، (أ) اكتب كلمة (صواب) أمام العبارات الصحيحة، وكلمة (خطأ) أمام العبارات غير الصحيحة فيما يلي:

- ١- أنشأت الدولة المناطق الصناعية لزيادة الصادرات المصرية. (X)
- ٢- البيئات المصرية (غير) متداخلة لوجود فواصل بينها. (X)
- ٣- يتركز سكان البيئة الزراعية في المحافظات القريبة من نهر النيل. (X)
- ٤- من أهم الحبوب الغذائية في مصر القمح والفلين والأرز. (X)
- ٥- من العوامل الطبيعية للصناعة رأس المال. البشرية

(ب) بم تفسر:-

- ١- اهتمام الدولة بالتعليم الفني. لتخرج عمالة فنية
- ٢- ندرة الحيوانات البرية في مصر. لانها أصبحت للعبي

(ثانياً) التاريخ

السؤال الثالث: (١) اختر الإجابة الصحيحة مما بين القوسين:

١- كان نظام الحكم العثماني في مصر قائماً على النظام (الحزبي - الاستبدادي - الديمقراطي - العنصري)

٢- نجح الفرنسيون في احتلال الإسكندرية بعد مقاومة حاكمها

(محمد كريم - عمر مكرم - الشيخ السادات)

(الإسكندرية - القاهرة - النواحي - الجيزة)

(الحديد - السكر - الملابس - السفن)

(الحرية - السياسية - العلمية - الاجتماعية)

٣- بعد ثورة القاهرة الأولى ألغى نابليون ديوان

٤- أقام محمد علي معامل في الوجه القبلي لإنتاج

٥- اكتشف حجر رشيد من نتائج الحملة الفرنسية

(ب) ما النتائج المترتبة على:

١- تزجيل السلطان سليم الأول أمهر الصنائع والحرفيين إلى الأساندة.

٢- اهتمام محمد علي بالزراعة. لتعظيم الزراعة وأدخالها في حوزة صناعاتها.

السؤال الرابع: (١) لمن تلتصق الأعمال التاريخية الآتية:

١- قام بالاستيلاء على مدينة القسطنطينية عاصمة الدولة البيزنطية. محمد علي

٢- قام بقتل القائد الفرنسي كليبر. سليمان الخليلي

٣- تخلص من المعاليك في مذبحة القلعة. محمد علي

٤- أعطى امتياز حفر قناة السويس للمهندس الفرنسي ديلبس. سعيد

(ب) أكمل العبارات الآتية بكلمات مناسبة:

١- احتلت الحملة الفرنسية وهي في طريقها إلى مصر جزيرة مالطة وكريت.

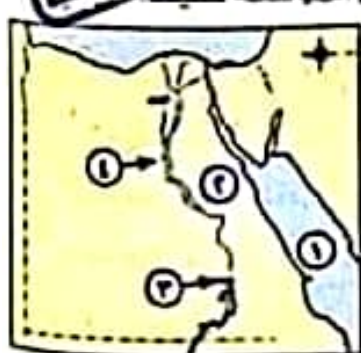
٢- جاء الكفاح والجهاد ضد الحملة الإنجليزية ١٨٠٧م على يد أبناء مدينة رشيد والحماد الكرم.

٣- اقتصر التعليم في مصر أثناء الحكم العثماني على دروس الفقه والتشريع وحفظ القرآن الكريم.

١٢- محافظة السويس - مديرية التربية والتعليم

(أولاً) الجغرافيا:

السؤال الأول: (١) أمامك خريطة صماء لجمهورية مصر العربية. اكتب محلول الأرقام الموقعة عليها:



١- البحر الأحمر

٢- الصحراء الشرقية

٣- السد العالي

٤- وادي النيل

(ب) بـم تفسر: ٢ (اذكر سبباً واحداً)

١- اهتمام الدولة بإنشاء وزارة البيئة.

٢- تناقص مساحة الأراضي الزراعية.

٣- توسع العمران وتجزئة

البيئة من الملوثات

Scanned with CamScanner

تحول المواد الخام الى منتجات

(ج) ما المقصود بكل من ١- الصناعة ٢- الثروة
سؤال الثاني: (١) اكتب كلمة (صواب) امام العبارة الصحيحة، وكلمة (خطأ) امام العبارة غير الصحيحة.

- ١- تتنوع الصناعات بتنوع المواد الخام.
- ٢- توجد حدود فاصلة بين البيئات المصرية. لا توجد
- ٣- الزواج المبكر من العادات الإيجابية لسكان البيئة الزراعية. السلبية
- ٤- من مخاضيل الخيول القمح والأرز والكتان
- ٥- من الصناعات الهندسية صناعة أجهزة السيارات.

(✓)
(X)
(X)
(X)
(✓)

(ب) اكتب المصطلح الجغرافي الذي تشير إليه العبارة:

- ١- أحد منخفضات الصحراء الغربية تجود فيه الزراعة لاتصاله بنهر النيل. منخفض الصميم
- ٢- انتقال الأفراد من مكان لأخر سواء داخل الدولة أو خارجها لفترة زمنية طويلة. الهجرة

(ثانيا) التاريخ:

سؤال الثالث: (١) أدخل العبارات الآتية بكلمات مناسبة.

- ١- من الأسباب المعلنة للحملة الفرنسية على مصر تأديب المحالين
- ٢- ظهرت بسالة أهالي رشيد في رد حملة فرانسوا عام ١٨٠٧ م.
- ٣- اتخذ المصريون الزهر الشريف رمزا للمقاومة أثناء ثورة القاهرة الأولى.
- ٤- كان الوالي يدعو الديوان للانعقاد.
- ٥- اختتم (محمد علي) ببناء مصر الحديثة على النسق الأوربي وخاصة النموذج الفرنسي

الأحمد عبد الواحد
معلم أول الدراسات الاجتماعية

(ب) إلى من تنسب هذه الأعمال التاريخية؟

- ١- تولى قيادة الحملة الفرنسية بعد مقتل كليبر. جيشو
- ٢- استولى على مدينة القسطنطينية عاصمة الدولة البيزنطية عام ١٤٥٣ م. محمد الثاني
- ٣- تولى القيادة العامة لحملة الحجاز. طهوسون

سؤال الرابع: (١) اختر الإجابة الصحيحة مما بين القوسين:

- ١- خربت الجيوش المملوكية في ١٥١٧ م.
- ٢- أنشأ (محمد علي) ترسانة لبناء السفن في
- ٣- اجتمع زعماء الشعب والعلماء في دار المحكمة وقرروا عزل

(محمد علي - خورشيد باشا - إبراهيم باشا - طاهر باشا)

(ديو البحرية - أبي قبرا البحرية - طولون - عكا)

(عباس - سعيد - إسماعيل - توفيق)

١- تحطم الأسطول الفرنسي في موقعة

٥- تولى الخديو حكم مصر عام ١٨٦٣ م.

لصفاة السيطرة الكاملة على البلاد

موسمها الخريفى لمصر

١- ازدهار الدولة المملوكية
٢- اختلب ما تشير اليه الخيارات الاتية

- ١- نائب السلطان ومقره القلعة وكانت مدة حكمه تتراوح بين عام وثلاثة أعوام. ()
- ٢- إقليم يحكمه أجنبي يتوهمه أو يكتفى باستقلاله اقتصاديا أو عسكريا. ()
- ٣- حركة شعبية شاملة تهدف إلى التغيير الجذرى الشامل والمنظم للأوضاع السياسية والاقتصادية والاجتماعية السائدة فى المجتمع. ()

المسألة الثانية: الثورة

(ب) لماحب عما ياتى،

لدى يتولى محمد على حكم مصر

- ١- ماذا كان يحدث إذا...؟ - تخاذلت الزعامة الشعبية عن تأييد (محمد على) لحكم مصر
- ٢- قارن بين ثورة القاهرة الأولى وثورة القاهرة الثانية من حيث النتائج:

وجه المقارنة	ثورة القاهرة الاولى	ثورة القاهرة الثانية
النتائج	الغاء ديوانى القاهرة تحسين القاهرة فرض عقوبات على التجار التجارة انقضاء ديوانى مصر لضم البحر	اشتبك طيبر من فرض الطرقات مصادرة الاموال والممتلكات زاد غضب الشعب على طيبر

١٤- محافظة بنى سويف - إدارة بنى سويف - مديرية بنى سويف

الأ) الجغرافيا:



أحمد عبد الواحد
معلم أول الدراسات الاجتماعية

١- أمامك خريطة صماء لمصر، وضع مدلول الأرقام عليها:

- ١- فرع النيل
- ٢- البحر المتوسط
- ٣- نهر النيل
- ٤- الصحراء الشرقية

(ب) بم تفسر...؟ كثافة النشاط الزراعى

- ١- ندرة النباتات الطبيعية فى البيئة الزراعية.

١- اختب كلمة (صواب) أمام العبارة الصحيحة، وكلمة (خطأ) أمام العبارة غير الصحيحة،

- ١- لجأ كثير من الشباب إلى الهجرة بسبب انتشار البطالة.

- ٢- توجد حدود فاصلة بين البيئات المصرية. لا توجد

(X)
(X)
(X)

السطر الشوية

٢- تم تهجير سكان النوبة بعد بناء السد العالي.

١- تعتمد الزراعة في الساحل الشمالي على مياه نهر النيل.

٥- ترتفع نسبة الأمية بين سكان البيلة الصناعية. الزراعية

(ب) اختب ما تشير إليه العبارتان التاليتان:

١- بناء هندسي يشيد على النهر لتجنب أخطار الفيضان والجفاف. السد

٢- تحويل العادة الخام إلى سلع ومنتجات لسد احتياجات السكان. الصناعة

ثانياً التاريخ:

السؤال الثالث: (١) أختب العبارات الآتية:

١- اكتشف البرفيلون طريق رأس الرجاء الصالح عام ١٤٩٨ م.

٢- أنشأ (محمد علي) العديد من القصور مثل قصر الجوهرة بالقلعة.

٣- أبحرت الحملة الفرنسية إلى مصر ١٧٩٨ م من ميناء طولون.

٤- تم الاستيلاء على مدينة القسطنطينية في عهد السلطان محمد الثاني عام ١٤٥٣ م.

(ب) رتب الأحداث التالية من القديم إلى الحديث:

١٨٠٥ - تولية (محمد علي) حكم مصر
١٨١١ - مذبحة القلعة
١٨٤٠ - معاهدة لندن
١٨٤٠ - اتفاقية العريش
١٨٤٠ - أخيراً إجابة الصحيح مما بين القوسين

السؤال الرابع: (١) أختب إجابة الصحيح مما بين القوسين:

١- أصبحت مصر ولاية عثمانية بعد معركة ١٥١٧ م. (مرج دابق - الريدانية - حطين - عين جالوت)

٢- أرسل (محمد علي) البعثات إلى (إنجلترا - إسبانيا - فرنسا - إيطاليا)

٣- قاد الحملة الفرنسية على مصر عام ١٧٩٨ م. (مينو - نابليون - كليبر - نلسون)

٤- أرسل سليم الأول أمهر الصناع إلى (السودان - الشام - الأستانة - العراق)

٥- قُضيت الحملة الفرنسية على الشام في فتح مدينة (عكا - العريش - حيفا - نابا)

(ب) ما النتائج المترتبة على: - الحملة الفرنسية على مصر من الناحية العلمية والثقافية

١٥- محافظة أسيوط - إدارة منظومة التعليمية

١٥- محافظة أسيوط - إدارة منظومة التعليمية

أولاً الجغرافيا:

السؤال الأول: (١) أمامك خريطة صماء لمصر، اختب مدلول هذه الأرقام:

١- البحر الأحمر

٢- نهر النيل

٣- السد العالي

٤- قنطرة إسنا



(ب) اكتب المصطلح الجغرافي الذي تشير إليه العبارات الآتية:

١- الأفراد الذين في سن العمل ولا يعملون. البطالة

٢- إزالة الطبقة السطحية من التربة مما يؤدي إلى تدهور إنتاجها. تجريف التربة

٣- قناة مائية يتم حفرها لتوصيل مياه نهر النيل إلى الأراضي الزراعية. الريعة

٤- الإفراط وسوء استخدام الموارد الطبيعية بشكل يؤدي إلى نفاذها. الاستنزاف

سؤال الثالث: (أ) اختر الإجابة الصحيحة مما بين القوسين:

١- من المحاصيل المنتجة للسكر.....

٢- من العوامل البشرية لقيام الصناعة.....

٣- من المواد الخام الحيوانية.....

٤- من العادات الإيجابية لسكان البيئة الزراعية.....

(الزواج المبكر - احترام الكبير - كثرة الإنجاب - تفضيل الذكور على الإناث)

٥- صناعة الأسمدة والأدوية من الصناعات..... (الكيميائية - الهندسية - المعدنية - الفناية)

(ب) بَم تفسّر؟ ١- ندرة النباتات الطبيعية في البيئة الزراعية.

٢- إنشاء الدولة وزارة البيئة
لإصدار القوانين التي تحمي
البيئة من التلوث

لنفس كثافة النشاط الزراعي
التي تمارسه الرعسان

سؤال الرابع:

(أ) اختر الإجابة الصحيحة مما بين القوسين:

١- أرسل محمد علي حملة لبلاد الحجاز بقيادة ابنه..... (إبراهيم - مراد بك - فطوسون - عمر مكرم)

٢- اكتشف حجر رشيد من أبرز النتائج..... للحملة الفرنسية (العلمية - السياسية - الحربية - الاجتماعية)

٣- تولى المعاليك حكم البلاد عقب انهيار الدولة..... (الفاطمية - الأموية - الأيوبية - العباسية)

٤- أنشأ محمد علي ترسانة لبناء السفن في..... (بور سعيد - دمياط - السويس - الإسكندرية)

٥- اقتصر التعليم في عهد الحكم العثماني في مصر على..... (المدارس - الأزهر الشريف - الجامعات - المدارس الفنية)

(ب) إلى أين تلسب الأعمال التاريخية الآتية؟

اسماعيل

محمد كرم

١- نجح في إقامة إمبراطورية مصرية امتدت إلى مديرة خط الاستواء.

٢- زعيم ثورة القاهرة الثانية مارس ١٨٠٠م عمر مكرم

٣- تعدى للحملة الفرنسية في مدينة الإسكندرية.

سؤال الرابع: (أ) اكتب كلمة (صواب) أمام العبارة الصحيحة، وكلمة (خطأ) أمام العبارة غير الصحيحة مما يلي:

١- اكتشف البريطانيون طريق رأس الرجاء الصالح. البرتغالون (X)

٢- تولى الجنرال مينو قيادة الحملة الفرنسية بعد مقتل كليبر. (✓)

٣- استولت الحملة الفرنسية على جزيرة كريت ثم مالطة. (X)

٤- كان للزعامة الشعبية والعلماء دور في تولية محمد علي حكم مصر. (✓)

السؤال الرابع: (١) إلى من تنسب الأعمال التاريخية الآتية؟

- ١- قاد الحملة الفرنسية على مصر عام ١٧٩٨ م.
- ٢- دمر الأسطول الفرنسي في أبي قير ١٧٩٨ م.
- ٣- قاد ثورة القاهرة في مارس ١٨١٠ م.

(ب) رتب الأحداث التاريخية الآتية من القديم إلى الحديث:

- ٤- مذبحة القلعة - موقعة مرج دابق - حملة فريزر - الحملة الفرنسية على مصر.
- ١٨١١ ١٨١٦ ١٨٠٧ ١٧٩٨

١٧- محافظة الأقصر - إدارة أرميت التعليمية

(أولاً) الجغرافيا:

السؤال الأول: (١) أمامك خريطة صماء لمصر، اختب مدلول الأرقام التالية:

- ١- البحر المتوسط
- ٢- منخفض الفيوم
- ٣- شبه جزيرة سيناء
- ٤- الصحراء الغربية



١٥- إصدار القوانين التي تمنح العبيد من القلوت

(ب) يوم تفسر:

- ١- تشجيع المزارعين والصيادين على الزراعة.
- ٢- تشجيع الصناعات الحرفية في البيئة الزراعية.

السؤال الثاني: (١) أختل العبارات الآتية بكلمات ملائمة:

- ١- يظهر السطح في منخفض الفيوم على شكل مدرجات واسعة
 - ٢- التعاون بين العاملين في البيئة الصناعية من العادات الاجتماعية
 - ٣- رأس المال من العوامل البشرية لقيام الصناعة
 - ٤- يعد الفخار من الصناعات الحرفية
- (ب) صلف الآتي حسب الجدول: (القمح - قصب السكر - القطن)

محاصيل المنسوجات	المحاصيل المنتجة للسكر	حبوب غذائية
القطن	قصب السكر	القمح

(ثانياً) التاريخ:

السؤال الثالث: (١) اختب كلمة (صواب) أمام العبارات الصحيحة، وكلمة (خطأ) أمام العبارات غير الصحيحة مما يلي:

- ١- فرضت الدولة العثمانية سيطرتها على مصر عام ١٥١٧ م.
- ٢- نشطت التجارة وازدهرت الصناعة أثناء الحكم العثماني لمصر.
- ٣- استولت الحملة الفرنسية على جزيرة مالطة ثم كريت.
- ٤- نجحت الحملة الفرنسية في جعل مصر قاعدة للإمبراطورية الفرنسية في الشرق.

(ب) اكتب المصطلح الجغرافي الذي تشير إليه عبارتان:

- ١- مناطق بنيت دون تخطيط من الدولة وتظهر حول أطراف المدن. **العشوائيات**
- ٢- المناطق التي تقوم فيها الصناعة ويعمل معظم سكانها بالصناعة. **المدينة الصناعية**

ثانياً التاريخ:

السؤال الثالث: (١) اختر الإجابة الصحيحة مما بين القوسين:

- ١- هزمت الجيوش المملوكية في ١٥١٧م عند (مرج دابق - **الريدانية** - جالديران - دهبو البحرية)
- ٢- وصلت الحملة الفرنسية ميناء بولبو ١٧٩٨م (ملولون - دهباط - **الإسكندرية** - بورسعيد)
- ٣- أقام (محمد علي) معامل السكر في (المحلة الكبرى - الوجه البحري - **الوجه القبلي** - الوادي الجديد)
- ٤- اجتمع زعماء الشعب والعلماء في دار المحكمة وقرروا عزل
(إبراهيم - محمد علي - **خورشيد باشا** - طوسون باشا)
- ٥- قام السلطان بترحيل أمهر الصنائع الحرفيين إلى الأستانة.
(طومان باي - محمد علي - **سليم الأول** - محمد الثاني)

(ب) ما النتائج المترتبة على-٢

- ١- اكتشاف طريق رأس الرجاء الصالح ١٨٩٨م **بمسود الأراضي الاقتصادية لدولة الممالك**
 - ٢- سياسة (محمد علي) الخارجية التوسعية **الصدام مع المطامع الدول الاستعمارية في المنطقة**
- خاصة إنجلترا وفرنسا**

السؤال الرابع: (١) من أكون-٢

- ١- أصبحت قائداً للحملة الفرنسية بعد عودة نابليون لفرنسا. **كثير**
- ٢- أقمت إمبراطورية مصرية امتدت إلى مديرية خيلا الاستواء. **أنشأ عميل**

(ب) ماذا كان يحدث إذا-٢

نالت مشاريع الري والزراعة الاهتمام المنشود من حكام الدولة العثمانية في مصر.

ازدهار الزراعة في مصر أثناء الحكم العثماني

حسرت مصر على ما حرمها
لأنهم نسوا من صالح الدعاء

أ/ أحمد عبد الواحد
معلم أول الدراسات الاجتماعية