



إعداد / مصطفى الكيراني

صفحة مذكرات جاهزة للطباعة

النقود

١

صل كل عملة نقدية بقيمتها كما بالمثل

نشاط

١٠٠ جنيه



٢٠ جنيهاً



٥ جنيهات



١ جنيه



٥٠ جنيهاً



















٢٠٠ جنيه



١٠ جنيهات



لو انت مُعلم وحابب تشتري المذكرة باسمك
بدون حقوق او علامات مائية
تواصل معنا على الرقم التالي
٠١٠٩٠٨٦٥١٢٩
او برسالة على صفحة مذكرات جاهزة للطباعة

لو انت مُعلم وحابب تشتري المذكرة باسمك
بدون حقوق او علامات مائية
تواصل معنا على الرقم التالي ٠١٠٩٠٨٦٥١٢٩
او برسالة على صفحة مذكرات جاهزة للطباعة

المزيد من النقود

١

عد ثم اكتب

نشاط



جنيه



جنيه



جنيه



جنيه



جنيه



جنيه

لو انت مُعلم وحاجب تشتري المذكرة باسمك
بدون حقوق او علامات مائية
تواصل معنا على الرقم التالي ٠١٠٩٠٨٦٥١٢٩
او برسالة على صفحة مذكرات جاهزة للطباعة

نشاط

لون كما بالمثال

٢

٢٠	٢٠	١٠	١٠	١٠	٥	١	١	٧٦ جنيهاً
٢٠	٢٠	١٠	١٠	١٠	٥	١	١	٧٠ جنيهاً
٢٠	٢٠	١٠	١٠	١٠	٥	١	١	٦٦ جنيهاً
٢٠	٢٠	١٠	١٠	١٠	٥	١	١	٣٢ جنيهاً
٢٠	٢٠	١٠	١٠	١٠	٥	١	١	٥٥ جنيهاً
٢٠	٢٠	١٠	١٠	١٠	٥	١	١	٢٧ جنيهاً

لو انت مُعلم وحبيب تشتري المذكرة باسمك
بدون حقوق او علامات مائية
تواصل معنا على الرقم التالي ٠١٠٩٠٨٦٥١٢٩
او برسالة على صفحة مذكرات جاهزة للطباعة

٣٠ جنيهاً



..... جنيهاً، ١٠ جنيهاً، جنيهاً

٢٥٠ جنيه



٥ جنيهاً، جنيهاً، جنيه

لو انت مُعلم وحابب تشتري المذكرة باسمك بدون حقوق او علامات مائية
تواصل معنا على الرقم التالي ٠١٠٩٠٨٦٥١٢٩
او برسالة على صفحة مذكرات جاهزة للطباعة

٥١ جنيهاً



٥٠ جنيهاً، جنيهاً، جنيهاً

٤٢ جنيهاً



٢٠ جنيهاً، جنيهاً، جنيه، جنيه

١٥ جنيهاً



٥ جنيهاً، جنيهاً، جنيهاً

١٥ جنيهاً



٣ جنيهاً، جنيه، جنيه

تحليل النقود وجمعها

١

لن نعم إذا استطعت شراء الأشياء ولون لا إذا كنت لا تستطيع شراءها وفقاً للميزانية

نشاط



٥٠ جنيهاً



٣٠ جنيهاً



٢٥ جنيهاً



١٠ جنيهاً



٥ جنيهاً

نعم

لا



..... جنيهاً + جنيهاً = جنيهاً

١٨ جنيهاً

نعم

لا



..... جنيهاً + جنيهاً = جنيهاً

٤٠ جنيهاً

نعم

لا



..... جنيهاً + جنيهاً = جنيهاً

٦٠ جنيهاً



=



ورقة فئة مائتي جنية

=

ورقتان فئة مائة جنية



تُستبدل بـ

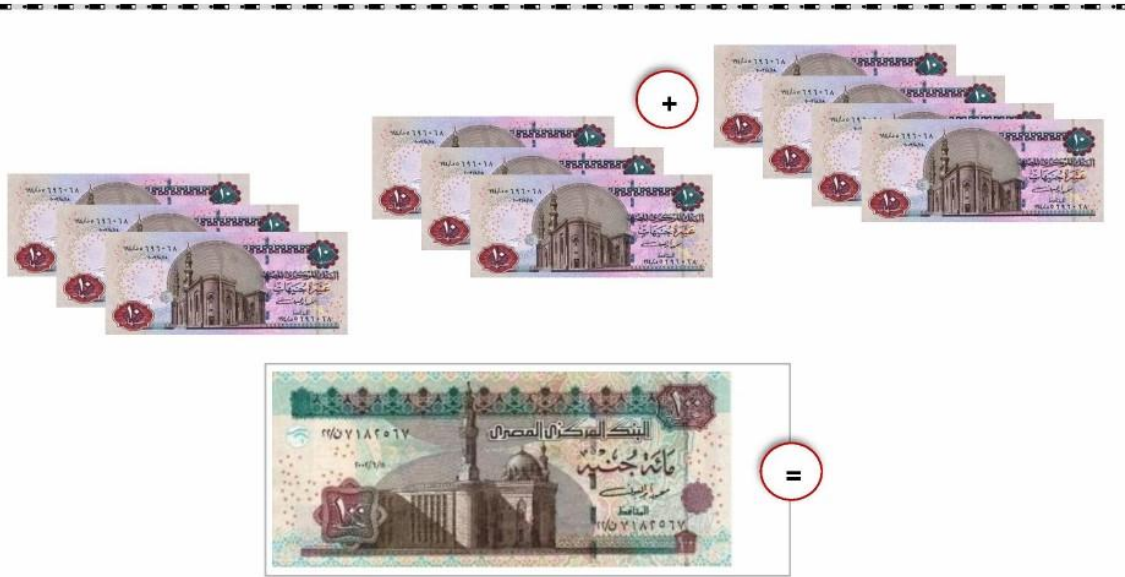


تُستبدل بـ



ملحوظة:

نُلاحظ مما سبق أن مائة جنية يمكن استبدالها بعشر ورقات من فئة (عشرة جنيهاً)، وكذلك من الممكن أن نستبدل عشر ورقات من فئة العشرة جنيهاً بورقة واحدة من فئة (مائة جنية).



٤ عشرات + ٦ عشرات = ١٠ عشرات
٤٠ جنيهًا + ٦٠ جنيهًا = ١٠٠ جنيه

أكمل كما بالمثل:

..... عشرات + عشرات = عشرات
..... جنيهًا + جنيهًا = جنيه

مسائل حياتية على الجمع

١

اقرأ، ثم أجب

نشاط

ياسمين معها ٢٨ جنيهاً، وأخوها خالد معه ٥١ جنيهاً، فكم جنيهاً معهما؟

• ما معهما = جنيهاً + جنيهاً = جنيهاً

اشترت مريم حقيبة بمبلغ ٥٢ جنيهاً، وحذاء بمبلغ ٣٣ جنيهاً،
فما عدد الجنيهاً التي سوف تدفعها؟

• ما تدفعه مريم = جنيهاً + جنيهاً = جنيهاً

اشترى أحمد " جاكيت " بمبلغ ٦٢ جنيهاً، واشترت نجلاء " بلوزة " بمبلغ ٢٧ جنيهاً،
فكم جنيهاً سيدفعانها معاً؟

• ما دفعه أحمد و نجلاء = جنيهاً + جنيهاً = جنيهاً

اشترى مروان كرة بمبلغ ٢٥ جنيهاً، وقفازاً بمبلغ ١٣ جنيهاً،
فما عدد الجنيهاً الذي سوف يدفعها؟

• ما يدفعه مروان = جنيهاً + جنيهاً = جنيهاً

مسائل حياتية على الطرح

١

اقرأ، ثم أجب

نشاط

عائشة معها ٨٩ جنيهاً، وأعطت أخاها ٢٧ جنيهاً، فكم جنيهاً تبقى معها؟

• ما تبقى مع سارة = جنيهاً - جنيهاً = جنيهاً

أخذ مصطفى من أبيه مبلغ ٤٥ جنيهاً لشراء ساندوتش بمبلغ ٢٥ جنيهاً،
فكم جنيهاً تبقى معه؟

• ما تبقى معه = جنيهاً - جنيهاً = جنيهاً

ادخر عُمر مبلغ ١٠٠ جنيه لشراء دراجة، وكانت الدراجة بمبلغ ١٥٠ جنيهاً
كم يحتاج عُمر ليشتري الدراجة؟

• ما يحتاجه عُمر = جنيهاً - جنيهاً = جنيهاً

أدهم معه ٥٨ جنيهاً، اشترى لعبة بمبلغ ٣٢ جنيهاً، فكم جنيهاً تبقى معه؟

• ما تبقى مع أدهم = جنيهاً - جنيهاً = جنيهاً

القيمة المكانية / النقود

١

استعن بجدول القيمة المكانية / النقود في تكوين المبالغ المالية التالية

نشاط

٣١٠ جنيه		
آحاد ١ جنيه	عشرات ١٠ جنيهات	مئات ١٠٠ جنيه

٤٠٢ جنيه		
آحاد ١ جنيه	عشرات ١٠ جنيهات	مئات ١٠٠ جنيه
		١٠٠
١		١٠٠
١		١٠٠
		١٠٠
٢	٠	٤

٢٥٤ جنيه		
آحاد ١ جنيه	عشرات ١٠ جنيهات	مئات ١٠٠ جنيه

١٤٦ جنيه		
آحاد ١ جنيه	عشرات ١٠ جنيهات	مئات ١٠٠ جنيه

لو انت مُعلم وحابب تشتري المذكرة باسمك بدون حقوق او علامات مائية
تواصل معنا على الرقم التالي ٠١٠٩٠٨٦٥١٢٩
او برسالة على صفحة مذكرات جاهزة للطباعة

جمع النقود بدون إعادة التجميع

١

استعن بجدول القيمة المكانية / النقود في تكوين المبالغ المالية التالية

نشاط

مئات	عشرات	آحاد	مئات	عشرات	آحاد	مئات	عشرات	آحاد
١٠٠ جنيه	١٠ جنيهات	١ جنيه	١٠٠ جنيه	١٠ جنيهات	١ جنيه	١٠٠ جنيه	١٠ جنيهات	١ جنيه
١٠٠	١٠	١	١٠٠	١٠	١	١٠٠	١٠	١
١٠٠	١٠	١	١٠٠	١٠	١	١٠٠	١٠	١
١٠٠	١٠	١	١٠٠	١٠	١	١٠٠	١٠	١
٣	٤	٣	٢	١	١	١	٣	٢

مئات	عشرات	آحاد	مئات	عشرات	آحاد	مئات	عشرات	آحاد
١٠٠ جنيه	١٠ جنيهات	١ جنيه	١٠٠ جنيه	١٠ جنيهات	١ جنيه	١٠٠ جنيه	١٠ جنيهات	١ جنيه
			١٠٠	١٠	١	١٠٠	١٠	١
				١٠	١			
				١٠	١			

مئات	عشرات	آحاد	مئات	عشرات	آحاد	مئات	عشرات	آحاد
١٠٠ جنيه	١٠ جنيهات	١ جنيه	١٠٠ جنيه	١٠ جنيهات	١ جنيه	١٠٠ جنيه	١٠ جنيهات	١ جنيه
			١٠٠	١٠	١	١٠٠	١٠	١
			١٠٠			١٠٠	١٠	١
						١٠	١٠	١

جمع النقود بإعادة التجميع

نشاط

1

حل مسائل الجمع التالية بإستخدام جدول القيمة المكانية/ النقود

$$136 \text{ جنیہا} + 210 \text{ جنیہا} = 301 \text{ جنیہا}$$

مئات	عشرات	آحاد		مئات	عشرات	آحاد		مئات	عشرات	آحاد
۱۰۰ جنبه	۱۰ جنبهات	۱ جنبه		۱۰۰ جنبه	۱۰ جنبهات	۱ جنبه		۱۰۰ جنبه	۱۰ جنبهات	۱ جنبه
۱۰۰	۱۰	۱	=	۱۰۰	۱۰	۱	+	۱	۱۰	۱
۱۰۰	۱۰			۱۰۰		۱		۱۰	۱	
۱۰۰	۱۰					۱		۱۰	۱	
	۱۰					۱			۱	
	۱۰					۱			۱	
۳	۰	۱		۲	۱	۰		۱	۳	۶

..... = ٣٨٢ جنيهاً + ١٠٩ جنيهاً

[illegible]

٣٧٥ جنيهاً + ٤٥٠ جنيهاً =

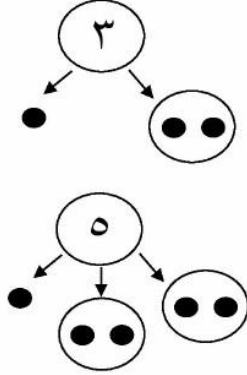
آحاد ١ جنيه	عشرات ١٠ جنيهات	مئات ١٠٠ جنيه		آحاد ١ جنيه	عشرات ١٠ جنيهات	مئات ١٠٠ جنيه		آحاد ١ جنيه	عشرات ١٠ جنيهات	مئات ١٠٠ جنيه
			=				+			

١٢٠ جنيهاً + ٢٩٣ جنيهاً =

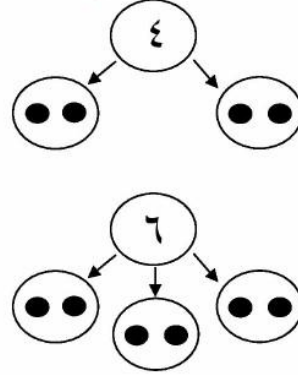
آحاد ١ جنيه	عشرات ١٠ جنيهات	مئات ١٠٠ جنيه		آحاد ١ جنيه	عشرات ١٠ جنيهات	مئات ١٠٠ جنيه		آحاد ١ جنيه	عشرات ١٠ جنيهات	مئات ١٠٠ جنيه
			=				+			

العدد الفردي والعدد الزوجي

العدد الفردي



العدد الزوجي



١

عد ثم اكتب العدد زوجياً أم فردياً، ثم ضع (√) إذا كان الباقي ١ كما بالمثال

نشاط



ما العدد؟

هل هو زوجي أم فردي؟ ()



ما العدد؟ ٧

هل هو زوجي أم فردي؟ فردي (√)



ما العدد؟

هل هو زوجي أم فردي؟ ()



ما العدد؟

هل هو زوجي أم فردي؟ ()

٢

ضع علامة (✓) أمام الإجابة الصحيحة في كل سؤال

نشاط

لو انت مُعلم وحابب تشتري المذكرة باسمك
بدون حقوق او علامات مائية
تواصل معنا على الرقم التالي
٠١٠٩٠٨٦٥١٢٩
او برسالة على صفحة مذكرات جاهزة للطباعة

- أي العددين زوجي؟ ٦ () ، ١ ()
- أي العددين زوجي؟ ٩ () ، ٤ ()
- أي العددين زوجي؟ ٥ () ، ٢ ()
- أي العددين زوجي؟ ١ () ، ٨ ()
- أي العددين زوجي؟ ٣ () ، ٦ ()
- أي العددين زوجي؟ ٤ () ، ٧ ()

٣

عد ثم لون كلمة (فردى) أو (زوجى) على حسب الناتج

نشاط


$$1 + 2$$



فردى

زوجى

$$3 + 3$$



فردى

زوجى

$$2 + 2$$



فردى

زوجى

$$1 + 4$$



فردى

زوجى

جمع عدد زوجي مع عدد فردي

$$11 = 0 + 6$$

$$\text{فردي} = \text{فردي} + \text{زوجي}$$

$$21 = 7 + 14$$

$$\text{فردي} = \text{فردي} + \text{زوجي}$$

١

اجمع وحدد الناتج ما إذا كان فردياً أو زوجياً

نشاط

$$\square = 0 + 13$$

$$\square = \text{فردي} + \text{فردي}$$

$$\square = 8 + 31$$

$$\square = \text{زوجي} + \text{فردي}$$

النمط

١

أكمل أنماط الأشكال الآتية مع كتابة قاعدة النمط

نشاط

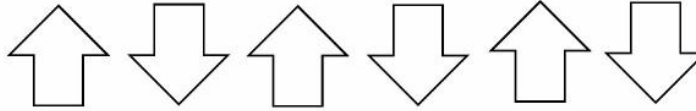


القاعدة هي تكرر

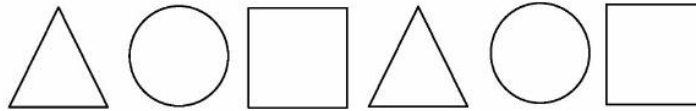


القاعدة هي تكرر

لو انت مُعلم وحاجب تشتري المذكرة باسمك بدون حقوق او علامات مائية
تواصل معنا على الرقم التالي ٠١٠٩٠٨٦٥١٢٩
او برسالة على صفحة مذكرات جاهزة للطباعة



القاعدة هي تكرر



القاعدة هي تكرر

أنماط الأعداد

١

أكمل أنماط الآتية عن طريق التعرف على قاعدة النمط

نشاط

١٢	١٠	٨	٦	٤	٢
----	----	---	---	---	---

القاعدة هي إضافة ٢

			٣٠	٢٠	١٠
--	--	--	----	----	----

القاعدة هي إضافة ٢

			٣٥	٣٠	٢٥
--	--	--	----	----	----

القاعدة هي إضافة

			١٢	٨	٤
--	--	--	----	---	---

القاعدة هي إضافة

			٦	٣	.
--	--	--	---	---	---

القاعدة هي إضافة

			٥	٣	١
--	--	--	---	---	---

القاعدة هي إضافة

لو انت معلم وحابب تشتري المذكرة باسمك
بدون حقوق او علامات مائية
تواصل معنا على الرقم التالي
او برسالة على صفحة **مذكرات جاهزة للطباعة**
٠١٠٩٠٨٦٥١٢٩

٤٠	٥٠	٦٠	٧٠	٨٠	٩٠
----	----	----	----	----	----

القاعدة هي نقص ١٠

			٥٥	٦٠	٦٥
--	--	--	----	----	----

القاعدة هي نقص

			١٨	٢٠	٢٢
--	--	--	----	----	----

القاعدة هي نقص

			١٢	١٥	١٨
--	--	--	----	----	----

القاعدة هي نقص

			٤٢	٤٣	٤٤
--	--	--	----	----	----

القاعدة هي نقص

			٢٤	٢٨	٣٢
--	--	--	----	----	----

القاعدة هي نقص