

# ١ نمو وتركيب السكان في مصر

## أختر الاجابة الصحيحة من بين الخيارات التالية

١ :- الفرق بين الاحصاء الحيوي و التعداد السكاني .....

أ	التعرف على اعداد السكان	ج	التعرف على التركيب النوعي
ب	التعرف على احوال الاجتماعية	د	التعرف على حالات الوفيات

٢ :- توجد علاقة طردية بين .....

أ	الفقر و انخفاض الزيادة الغير طبيعية	ج	الفقر وحل المشكلة السكانية
ب	الفقر وانخفاض معدل المواليد	د	الفقر وارتفاع معدل المواليد

٣ :- افضل تيارات الهجرة الداخلية تهتم الدولة بتشجيعه الهجرة الى .....

أ	الاسكندرية	ج	الجيزة
ب	القاهرة	د	البحر الاحمر

٤ :- اذا كنت طالب في الخدمة الاجتماعية وترغب في التعرف على عمل احصاء عن التفكك الاسرى في المجتمع تلجأ الى

أ	التعداد السكاني	ج	التركيب العمري
ب	الاحصاءات الحيوية	د	التركيب النوعي

٥ :- اذا أردت كباحث في الشأن السكاني لمصر معرفة خصائص السكان الاقتصادية والاجتماعية فاننا نلجأ الى

أ	التعداد السكاني	ج	التركيب العمري
ب	الاحصاءات الحيوية	د	التركيب النوعي

٦ :- أغلبية اسباب ارتفاع معدل المواليد في مصر ترتبط بنواحي .....

أ	دينية	ج	سياسية
ب	اجتماعية	د	صحية

٧ :- تتناسب العلاقة بين عوامل الجذب والطرود تناسباً .....

أ	عكسياً	ج	طردياً
ب	ايجابياً	د	ضعيفاً

٨ :- يفضل سكان غرب الدلتا الإتجاه الى .....

أ	السويس	ج	القاهرة
ب	الاسكندرية	د	الجيزة

٩ :- اذا اردنا ان نحصل على بيانات سكانية دقيقة فاننا نلجأ الى .....

أ	الوحدة الصحية	ج	الوحدات المحلية
ب	الجهاز المركزي للتعبئة والاحصاء	د	الهرم السكاني

١٠ :- العامل المشترك بين الهجرة الداخلية الخارجية .....

١	عدم تقدير الدولة الكفاءات العلمية	ج	صغر مساحة الملكيات الزراعية
ب	انتشار البطالة	د	عدم تركيز الادارة والحكم في القري

١١ :- أهم حدثين حيويين يؤثران في النمو السكاني لمصر هما .....

أ	التركيب النوعى والعمرى	ج	الهجرة الداخلية والخارجية
ب	المواليد والوفيات	د	الاطفال والشباب

١٢ :- العلاقة بين نسبة الوفيات و الزيادة السكانية في تناسب .....

أ	طرديا	ج	عكسياً
ب	ايجابياً	د	متساويا

١٣ :- من اهم المحافظات التى ترتفع بها نسبة الذكور في مصر .....

أ	قنا	ج	سوهاج
ب	الاسماعيلية	د	كفر الشيخ

١٤ :- من اهم المحافظات التى ترتفع بها نسبة الاناث في مصر .....

أ	اسوان	ج	الجيزة
ب	السويس	د	الاسكندرية

١٥ :- معظم تيارات الهجرة الداخلية في مصر تخرج من المناطق ذات .....

أ	النشاط الصناعى	ج	النشاط التجارى
ب	النشاط الزراعى	د	النشاط التعدينى

١٦ :- معظم تيارات الهجرة الداخلية في مصر تتجه الى .....

أ	العاصمة	ج	المناطق الصحراوية
ب	المناطق الزراعية	د	مناطق الوجهة القبلى

١٧ :- افضل تيار هجرة الداخلية تشجعة الدولة في الوقت الحالى .....

أ	تيار المتجهة الى الاسكندرية	ج	تيار المتجهة الى الساحل الشمالى
ب	تيار المتجهة الى القاهرة	د	تيارالمتجهة الى شمال الدلتا

١٨ :- افضل تيارات الهجرة التي تخرج من محافظة قنا .....

١	تيار المتجهة الى الاسكندرية	ح	التيار المتجهة الى ساحل البحر الاحمر
ب	تيار المتجهة الى القاهرة	د	تيار المتجهة الى مدن القناة

١٩ :- العامل الاكثر تأثيرا في اتجاه تيار الهجرة من محافظة البحيرة الى الاسكندرية هو .....

١	العامل المناخي	ح	الظروف الاجتماعية
ب	عامل المسافة	د	موقعها على ساحل البحر المتوسط

٢٠ :- توجد علاقة طردية بين .....

١	الهجرة الداخلية و نسبة الذكور في المحافظات الطادرة للسكان
ب	الهجرة الداخلية و نسبة الاثاث في المحافظات الطادرة للسكان
ح	الهجرة الداخلية و الازحام السكاني في المدن
د	الهجرة الداخلية و الانتاج الزراعي

٢١ :- توجد علاقة واضحة بين انخفاض مستوى المعيشة ( الفقر ) و .....

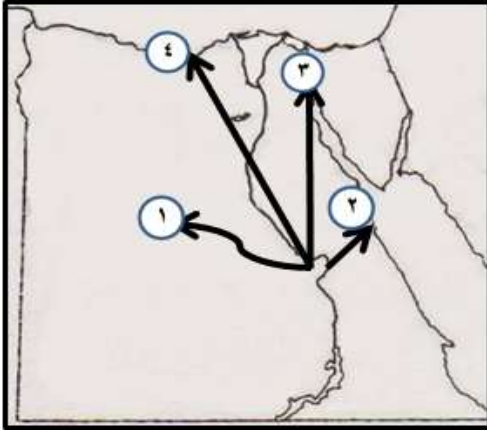
١	زيادة معدل المواليد	ح	زيادة معدل الزيادة الغير طبيعية
ب	التركيب النوعي	د	التركيب العمري

٢٢ :- ترتبط الهجرة الداخلية من الريف الى المدن .....

١	زيادة معدل الزيادة الطبيعية	ح	زيادة معدل الوفيات
ب	التركيب النوعي	د	التركيب العمري

٢٣ :- من خلال الخريطة التي امامك اهم تيارات الهجرة التي تتماشى مع مواجهة الدولة لانكماش الرقعة الزراعية في مصر

١	التيار رقم (١)	ح	التيار رقم (٢)
ب	التيار رقم (٢)	د	التيار رقم (٢)



٢٤ :- من خلال تحليل الجدول الذي امامك من المتوقع ان تكون المحافظة رقم ( س ) هي

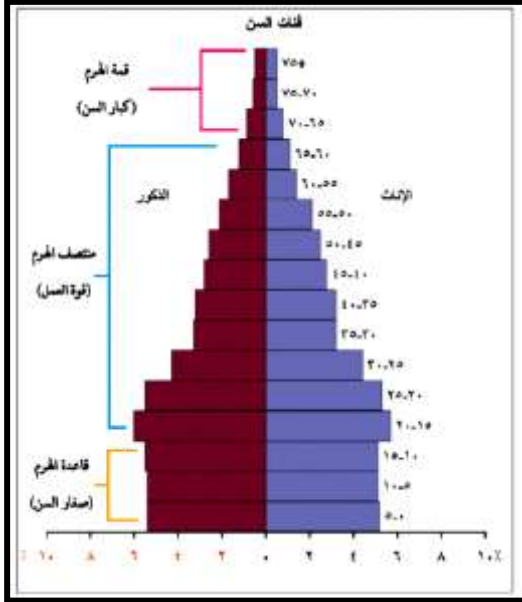
١	القاهرة
ب	الجيزة
ح	الغردقة
د	سوهاج

ص	س	
٢,٢٥٥,٠٥٨	١,٢٤٦,٢٥٨	نسبة الذكور
١,٥٦٢,٥٥١	٣,٢٥٨,٥٩٨	نسبة الاثاث

٢٥ :- من خلال تحليل الجدول الذي امامك من المتوقع ان تكون المحافظة رقم ( ص ) هي

ص	س	
٢,٢٥٥,٠٥٨	١,٢٤٦,٢٥٨	نسبة الذكور
١,٥٦٢,٥٥١	٣,٢٥٨,٥٩٨	نسبة الاثاث

١	الاسكندرية
ب	الاقصر
ج	الواحات
د	اسيوط


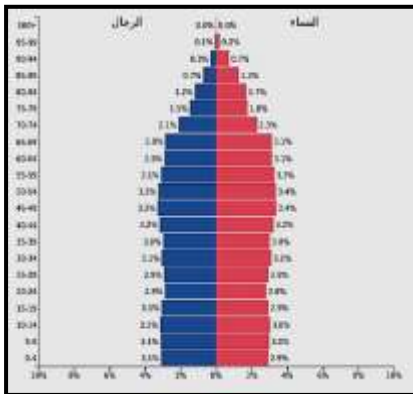


٢٦ :- اهم ما يميز الهرم السكاني الذي امامك هو .....

١	ارتفاع نسبة القاعدة
ب	ارتفاع نسبة منتصف الهرم
ج	ارتفاع كبار السن
د	التوازن بين القاعدة والوسط

٢٧ :- تواجه الدولة العديد من التحديات في تنفيذ المنظومة الحديثة في التعليم بسبب

١	ارتفاع نسبة القاعدة
ب	ارتفاع نسبة منتصف الهرم
ج	ارتفاع كبار السن
د	التوازن بين القاعدة والوسط

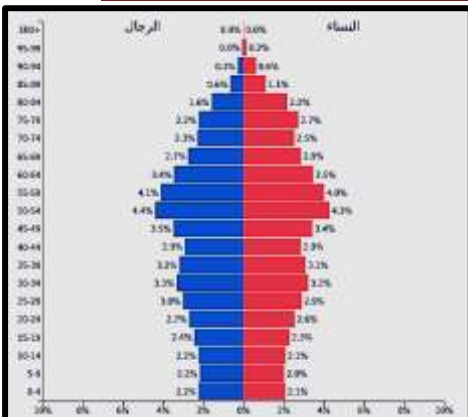


٢٨ :- الشكل الذي امامك الهرم السكاني لمصر والهرم السكاني لدولة فرنسا اوجه الشبة بين الهرمين .....

١	ارتفاع نسبة القاعدة
ب	انخفاض نسبة منتصف الهرم
ج	انخفاض نسبة كبار السن
د	كلاهما يوضح التركيب النوعي والعمرى

٢٩ :- من خلال الشكل المقابل استنتج اسباب ارتفاع نسبة الوفيات في فرنسا .....

١	عدم وجود رعاية صحية
ب	ارتفاع نسبة كبار السن
ج	انخفاض مستوى الاقتصادية
د	ارتفاع نسبة صغار السن



٣٠ :- اهم ما يميز الهرم السكاني الذي امامك .....

١	ارتفاع نسبة الذكور
ب	ارتفاع نسبة كبار السن
ج	ارتفاع نسبة الاثاث
د	انخفاض نسبة القاعدة

٣١: إذا كان تعداد سكان مصر عام ٢٠١٠ حوالى ١٠٠ مليون نسمة بينما كان تعدادهم عام ٢٠٠٠ حوالى ٩٠ مليون نسمة فإن

معدل النمو السكاني السنوى = .....

١	١ %	٣ %	٢
ب	٢ %	٤ %	د

٣٢: من خلال رؤيتك للسكان فى مصر امكانية انخفاض معدلات الزيادة الطبيعية فى مصر عند .....

١	زيادة المواليد وانخفاض الوفيات	٣	ارتفاع نسبة الفقر والبطالة
ب	انخفاض المواليد وانخفاض نسبي الوفيات	د	الاهتمام بالرعاية الصحية

٣٣: من خلال رؤيتك للسكان فى مصر يحتاج الوصول الى مرحلة الاستقرار السكاني فى مصر الى .....

١	زيادة المواليد وانخفاض الوفيات	٣	ارتفاع نسبة الفقر والبطالة
ب	ثبات عدد المواليد وعدد الوفيات	د	الاهتمام بالرعاية الصحية

٣٤: العامل المشترك بين الدولة رقم (١) والدولة رقم (٢)



١	ارتفاع الاجور
ب	قلة الايدي العاملة الزراعية
٣	ارتفاع نسبة الذكور
د	قلة نسبة الاثاث

٣٥: تتسم المحافظة المظللة على الخريطة التى امامك بـ .....



١	قلة الوحدات السكنية
ب	انخفاض الاجور
٣	ارتفاع نسبة الذكور
د	انخفاض نسبة الاثاث

٣٦: تتسم المحافظة المظللة على الخريطة التى امامك بـ .....



١	ارتفاع الاجور
ب	ارتفاع مستوى المعيشة
ج	قلة البطالة
د	قلة الايدي العاملة الزراعية

٣٧: للتعرف على خصائص السكان الاقتصادية والاجتماعية فاننا نلجأ الى .....

١	التعداد السكاني
ب	الاحصاءات الحيوية
٣	الهرم السكاني
د	معدلات النمو السكاني



٣٨ :- العامل المشترك بين التعداد السكاني والاحصاء الحيوي هو .....

أ	التعرف على الحالة الاقتصادية	→	التعرف على حالات المواليد و الوفيات
ب	التعرف على حالات الوفيات	→	التعرف على حالة الاجتماعية

٣٩ :- معظم المهاجرين من مصر الى الخارج يقعون ضمن الفئات العمرية التي تقع في .....

أ	قاعدة الهرم السكاني	→	قمة الهرم السكاني
ب	منتصف الهرم السكاني	→	منتصف الهرم وقاعد الهرم

٤٠ :- من المتوقع أن يكون صافي الهجرة في غير صالح الدولة اذا كان عدد .....

أ	الوافدون اكثر من النازحين	→	النازحون اقل من الوافدين
ب	الوافدون اقل من النازحين	→	النازحون يساوي الوافدين

٤١ :- للوصول بمصر الى مصاف الدول المستقره سكانيا يجب ان يكون الهرم السكان لمصر كالتالي .....

أ	اتساع القاع وقلت فئات منتصف الهرم السكاني	→	قلت فئة قاع الهرم واتساع فئات منتصف الهرم
ب	قلت فئة قاعدة الهرم وقلت فئات منتصف الهرم	→	وجود علاقة طردية بين الثلاثة فئات

٤٢ :- اذا أردت كمسؤول معرفة قوة العمل في مصر نلجأ الى .....

أ	التعداد السكاني	→	التعداد السكاني والاحصاءات الحيوية
ب	الاحصاءات الحيوية	→	معدلات النمو السكاني

٤٣ :- امامك شكل بياني لهرم السكاني لمصر من خلال تحليلك للهرم السكاني

يمكن استنتاج سبب اتساع قاعدة الهرم السكاني لمصر هو

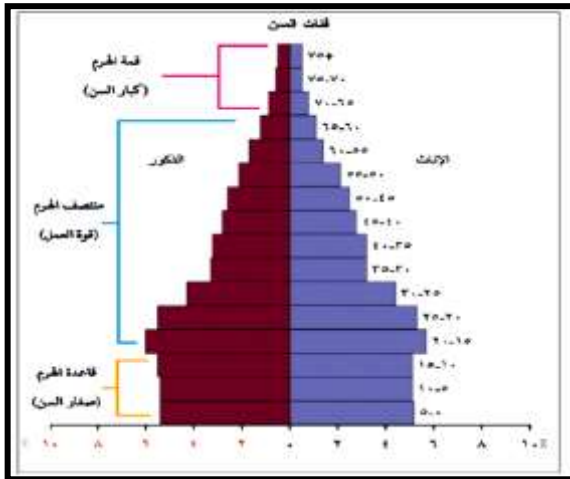
أ	زواج الاطفال دون سن ١٨
ب	قدرة مصر على تحقيق برامج التنمية
ج	مرور مصر بمرحلة الاستقرار السكاني
د	انخفاض نسبي للمواليد

٤٤ :- تتناقص الايدي العاملة الزراعية في محافظة .....

أ	الجيزة
ب	اسيوط
ج	الاسماعيلية
د	السويس

٤٥ :- من المعوقات التي تؤثر في احدث نهضة تعليمية متكاملة في مصر .....

أ	التركيب النوعي
ب	التركيب العمري
ج	معدلات المواليد
د	الهجرة الداخلية



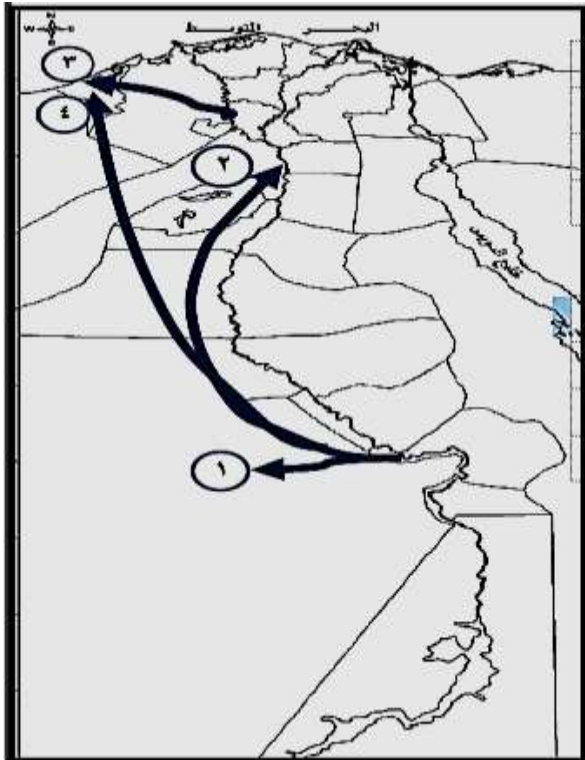
٤٦ :- تعمل الهجرة الداخلية على .....

ارتفاع نسبة الاعالة	أ
ارتفاع معدل النمو السكاني	ب
تغيير التركيب النوعي	ج
هجرة العقول المفكرة	د

٤٧ :- العامل المشترك بين محافظتي قنا والشرقية في نقص العمالة.....

الخدمية	أ
التعدينية	ب
الصناعية	ج
الزراعية	د

٤٨ :- يجب وقف تيار الهجرة رقم .....



١	أ
٢	ب
٣	ج
٤	د

٤٩ :- يجب تشجيع تيار الهجرة رقم .....

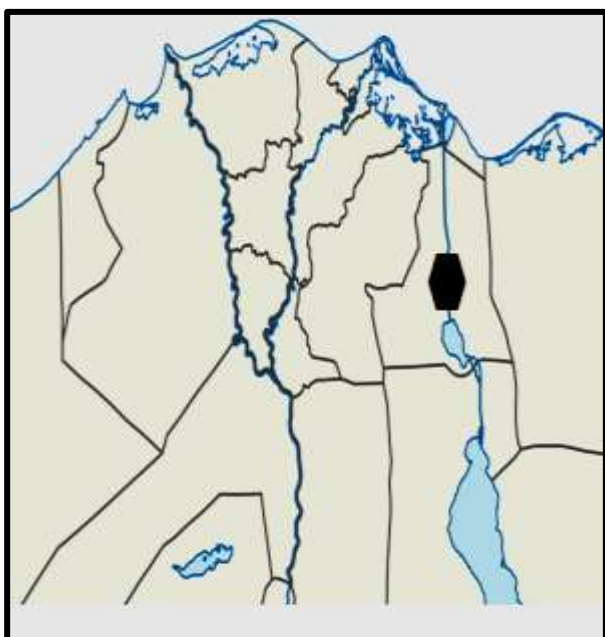
١	أ
٢	ب
٣	ج
٤	د

٥٠ :- العامل الأكثر تأثير على النمو السكاني في مصر .....

الزيادة الطبيعية	أ
الزيادة الغير طبيعية	ب
التركيب العمري	ج
التركيب النوعي	د

٥١ :- العامل الأكثر تأثير في زيادة اعداد سكان المحافظة المظلمة .....

الزيادة الطبيعية	أ
الزيادة الغير طبيعية	ب
اتساع قاعدة الهرم السكاني	ج
قلت نسبة الوفيات	د



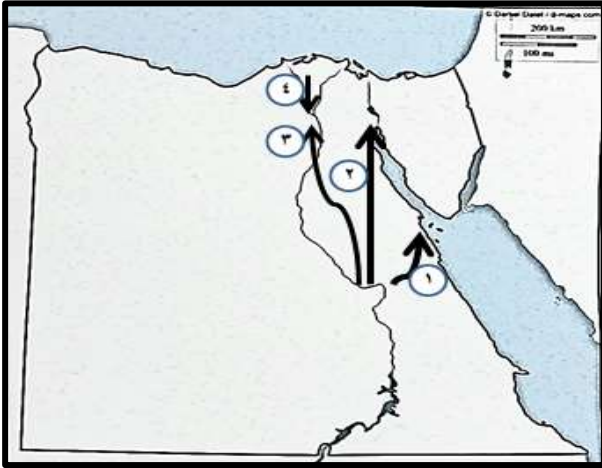
٥٢ :- العامل المشترك بين الزيادة الطبيعية والغير طبيعية هو.....

زيادة اعداد السكان	Ⓐ
ارتفاع معدل الموليد وانخفاض المواليد	Ⓑ
زيادة نسبة الذكور	Ⓒ
قلت نسبة الاثاث	Ⓓ

٥٣ :- يتجة معظم المهاجرين من شرق الدلتا الى ..... (دور مايو ٢٠١٩)

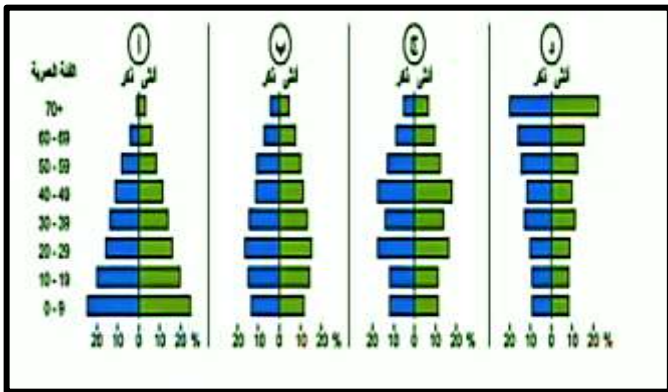
القاهرة الكبرى	Ⓐ
الوجه القبلى	Ⓑ
الساحل الشمالى	Ⓒ
مدن القناة	Ⓓ

٥٤ :- امامك خريطة لبعض تيارات الهجرة داخل مصر ادرس الشكل ثم اختر تيار الهجرة المتجه الى مناطق التعدين والسياحة معا هو التيار رقم..... (دور مايو ٢٠١٩)



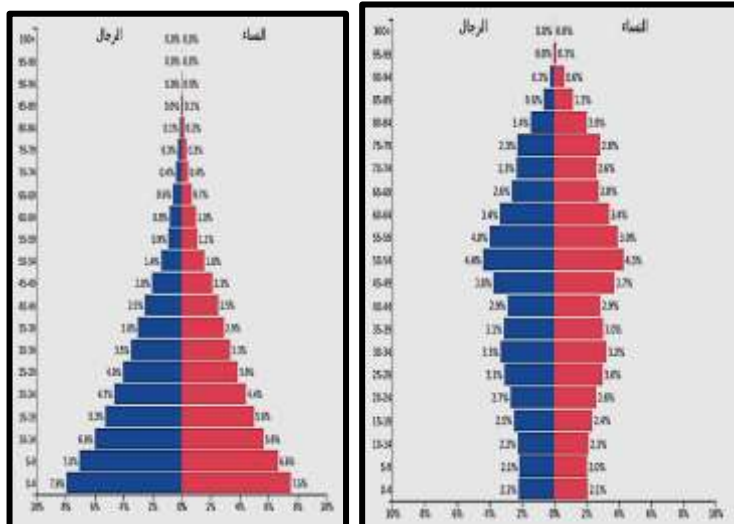
١	Ⓐ
٢	Ⓑ
٣	Ⓒ
٤	Ⓓ

٥٥ :- امامك اربعة اشكال لاهرامات سكانية لدول مختلفة ادرسها جيداً للاجابة عن السؤال التالي ترداد نسبة الاعالة فى الشكلين ..... (دور مايو ٢٠١٩)



Ⓐ	أ- ب
Ⓑ	ج- د
Ⓒ	أ- د
Ⓓ	د- ب

٥٦ :- امامك شكلين من الاهرام السكانية لدولتين من دول العالم ادرسها جيداً للاجابة اهم ما يميز الهرم رقم (١) عن الهرم (٢)



Ⓐ	قلت فئة قاعدة الهرم وزيادة فئة منتصف الهرم
Ⓑ	قلت فئة قاعدة الهرم قلت فئة منتصف الهرم
Ⓒ	زيادة نسبة كبار السن زيادة فئة منتصف الهرم
Ⓓ	زيادة فئة قاعدة الهرم زيادة فئة منتصف الهرم



٥٧ :- تعمل الهجرة الداخلية في الدولة على ..... (دور مايو ٢٠١٩)

أ	تناقص معدل النمو السكاني	ج	زيادة إعداد السكان
ب	زيادة معدل المواليد	د	إعادة توزيع السكان

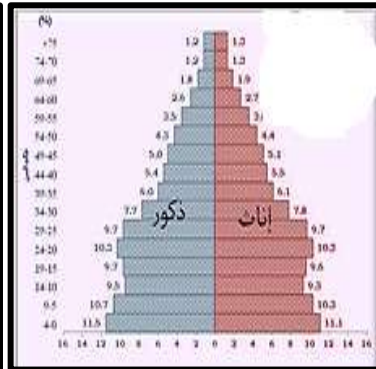

٥٨ :- تسعى مصر الوصول لمرحلة الاستقرار السكاني في الوقت الحالي في ضوء العبارة اختر  
تتميز مرحلة الاستقرار السكاني بـ .....

أ	انخفاض معدل المواليد وانخفاض معدل الوفيات
ب	انخفاض معدل المواليد وارتفاع معدل الوفيات
ج	ارتفاع معدل المواليد وارتفاع معدل الوفيات
د	ارتفاع معدل المواليد وانخفاض معدل الوفيات

٥٩ :- أكثر جهات الدلتا طرداً للسكان هي جهات ..... (دور مايو ٢٠١٩)

أ	الشرقية	ج	الشمالية
ب	الجنوبية	د	الغربية

٦٠ :- امامك شكلين من اشكال اهرامات السكانية .....



أ	تساوى نسبة الذكور
ب	وجود نسبة كبير من قوة العمل
ج	اتساع قاعد الهرم في كل منها
د	انخفاض قاعدة الهرم

## ٢ توزيع السكان والكثافة السكانية في مصر

أختر الاجابة الصحيحة من بين الخيارات التالية

١ :- العامل الاساسي في قلة الكثافة السكانية في محافظة كفر الشيخ .....

الموقع	أ	التربة	ج
المناخ	ب	التضاريس	د

٢ :- تقل الكثافة السكانية في محافظة الشرقية بسبب .....

الموقع	أ	التربة	ج
المناخ	ب	التضاريس	د

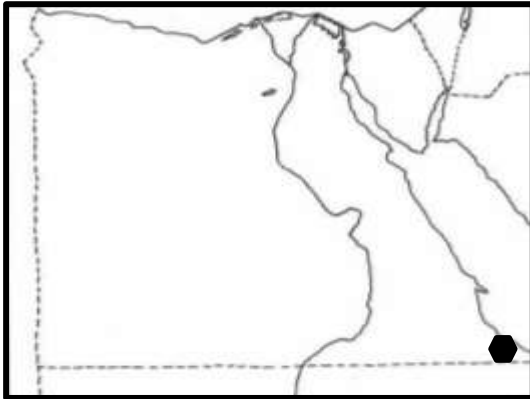
٣ :- تقل الكثافة السكانية في محافظة البحيرة بسبب .....

الموقع	أ	التربة	ج
المناخ	ب	التضاريس	د

٤ :- من العوامل الرئيسية لتركز السكان في محافظة في اسيوط .....

الموقع	أ	التربة	ج
المناخ	ب	التضاريس	د

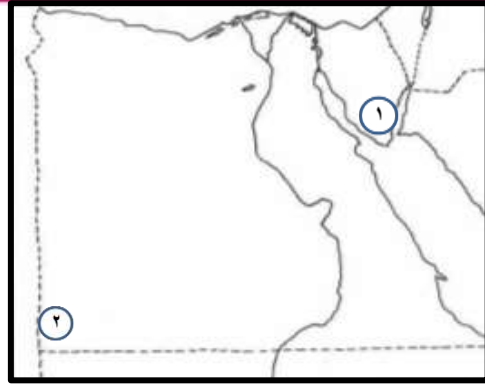
٥ :- العامل الرئيسي في عدم تركيز السكان في المنطقة المظللة في الخريطة .....



الموقع	أ
المناخ	ب
التربة	ج
التضاريس	د

٦ :- توجد علاقة طردية بين .....

أ	قلة الرواسب الفيضية في غرب الدلتا وزيادة اعداد السكان
ب	انتشار المستنقعات في شمال وزيادة اعداد السكان
ج	اعتدال درجات الحرارة وزيادة اعداد السكان
د	وجود المناطق الجبلية الوعرة وزيادة اعداد السكان



٧ :- العامل المشترك أكثر تأثيراً في عدم تركيز السكان بين المنطقة (رقم ١) ورقم (٢)

المياه	ج	التربة
المناخ	د	التضاريس

٨ :- العامل الأكثر تأثيراً في وجود مراكز عمرانية في منطقة ميناء بورسعيد .....

الأنشطة الاقتصادية	ج	التربة
السمات المناخية	د	التضاريس

٩ :- توجد علاقة عكسية بين .....

زيادة نسبة الرسوب الفيضية ومناطق تركيز السكان	أ
وعروة السطح و مناطق تركيز السكان	ب
قلت المياه و مناطق تركيز السكان	ج
المناطق السهلية و مناطق تركيز السكان	د

١٠ :- يرتبط مراكز العمران في محافظة الوادي الجديد .....

المياه الجارية	ج	المظهر التضاريسي
المناخ السائد	د	التكوينات الجيولوجية

١١ :- يرتبط مراكز العمران في على جانبي خليج السويس .....

السياحة	ج	الأوضاع السياسية
التعدين	د	بالمناخ

١٢ :- يرتبط مراكز العمران في طور سيناء .....

السياحة	ج	الأوضاع السياسية
التعدين	د	بالمناخ

١٣ :- يرتبط مراكز العمران في مرسى علم .....

السياحة	ج	طرق النقل والمواصلات
مظهر التضاريس	د	التربة الخصبة

١٤ :- يرتبط مراكز العمران في مدينة الالمونيوم بنجع حمادى ب .....

١	السياحة	ج	التعدين
ب	الصناعة	د	الزراعة

١٥ :- يرتبط مراكز العمران في واحة الفرافرة .....

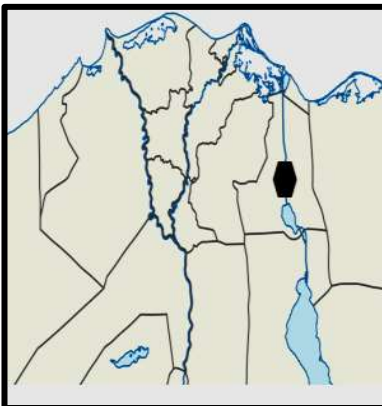
١	السياحة	ج	المناخ
ب	طرق النقل والمواصلات	د	التركيب الجيولوجى

١٦ :- الهجرة القسرية هي انتقال الفرد من مكان لآخر دون إرادته داخل الدولة أو خارجها ) فى ضوء العبارة اختر  
ظهر تيار الهجرة القسرية فى النصف القرن العشرين فى محافظتى ..... ( دور مايو ٢٠١٩ )

١	السويس واسوان	ج	الجيزة والسويس
ب	اسوان والجيزة	د	الاسكندرية ومطروح

١٧ :- من اهم المدن التى شهدت ظهور تيار الهجرة القسرية فى النصف القرن العشرين فى محافظتى .....

١	السويس والجيزة	ج	الاسماعيلية وبورسعيد
ب	اسوان وقنا	د	السويس والغربية



١٨ :- الخريطة التى امامك جزء من خريطة مصر الجزء المظلل ارتبط ظهوره بـ .....

١	النشاط التعدينى	ج	الظروف السياسية والعسكرية
ب	الملاحة الدولية	د	المظهر التضاريسى

١٩ :- اكثر المناطق تأثرت بالاوضاع السياسية والعسكرية فى عملية توزيع السكان .....

١	الغربية	ج	الجنوبية
ب	الشمالية الشرقية	د	الشمالية

٢٠ :- معظم مناطق تركيز السكان فى مصر موجودة فى .....

١	مصر العليا	ج	مصر السفلى
ب	المناطق الشرقية	د	المناطق الهامشية

٢١ :- اقل مناطق تركيز السكان فى مصر موجودة فى .....

١	مصر العليا	ج	مصر السفلى
ب	المناطق الشرقية	د	المناطق الهامشية



٢٢ :- العامل المشترك في وجود مراكز عمرانية عديدة في محافظتي القاهرة و الجيزة .....

أ	السياحة	→	التعدين
ب	وقوعها في طرق المواصلات العالمية	د	المظهر التضاريسي

٢٣ :- العامل المختلف الاكثر تأثيراً في وجود مراكز عمرانية في محافظتي القاهرة والاسكندرية .....

أ	توفر المياه	→	انشطة اقتصادية
ب	المظهر التضاريسي	د	السمات المناخية والجغرافية

٢٤ :- العامل الاكثر تأثيراً في تركيز السكان في بعض مناطق الصحراء الغربية .....

أ	توفر المياه	→	التكوينات الجيولوجي
ب	المظهر التضاريسي	د	السمات المناخية الجغرافية

٢٥ :- العامل الاكثر تأثيراً في ندرة السكان في المناطق الصحراوية .....

أ	الانشطة الاقتصادية	→	التكوينات الجيولوجي
ب	الظروف السياسية	د	السمات المناخية والجغرافية

٢٦ :- العامل الاكثر تأثيراً وجود مراكز عمرانية في شمال سيناء .....

أ	الكثبان الرملية والادوية	→	النشاط الصناعي
ب	المظهر الجبلي	د	طرق النقل والمواصلات العالمية

٢٧ :- يرتبط وجود مراكز عمرانية في الصحراء الغربية بتكوينات الزمن .....

أ	الزمن الاركي	→	الزمن الثاني
ب	الزمن الاول	د	الزمن الرابع

٢٨ :- تآثر وجود المراكز العمرانية والتنمية داخل شبة جزيرة سيناء في الاوانة الاخيرة .....

أ	ندرة المياه	→	انشطة اقتصادية
ب	الظروف السياسية والعسكرية	د	وقوعهما في طرق المواصلات العالمية

٢٩ :- العامل المشترك في اسباب وجود مراكز عمرانية في راس غارب والواحات البحرية .....

أ	ندرة المياه	→	النشاط الاقتصادي
ب	السمات المناخية	د	الموقع

٣٠:- العامل المشترك الأكثر تأثيراً في أسباب وجود مراكز عمرانية في مدينى المحلة الكبرى ومدينة دمياط الجديدة .....

أ	وجود المياه	→	الأنشطة الاقتصادية
ب	المظهر التضاريسي	د	وقوعهما في طرق المواصلات العالمية

٣١:- ادرس الجدول الاحصائى الذى امامك وطبق مفهوم الكثافة السكانية اكثر محافظات ارتفاعاً فى الكثافة السكانية ..... ( دور مايو ٢٠١٩ )

المحافظة	عدد السكان	المساحة كم ٢
المنيا	٥٣٦٤٧٧٦	٣٢,٢٧٩
الشرقية	٦٦٩٨١٦٠	٤,١٨٠
الغربية	٤٨٩٠٦٦٤	١,٩٤٢
الدقهلية	٦١٣٣٣٤٣	٣,٤٧١

أ	المنيا	ج	الغربية
ب	الشرقية	د	الدقهلية

٣٢:- ادرس الجدول الاحصائى الذى امامك وطبق مفهوم الكثافة السكانية اكثر محافظات انخفاضاً فى الكثافة السكانية .....

المحافظة	عدد السكان	المساحة كم ٢
بورسعيد	٦٥٣,٧٧٠	٧٢
الجيزة	٧,٣٩٧,٥٧٧	٨٥,١٥٣
شمال سيناء	٤٢١,٩٨٤	٢٧,٥٧٤
قنا	٢,٩٥٩,١٧٥	١,٨٥١

أ	بورسعيد	ج	الجيزة
ب	شمال سيناء	د	قنا

٣٣:- العامل المسئول عن مستوى الكثافة السكانية فى الوادى الجديد .....

أ	المساحة	ج	الموارد المائية
ب	المناخ	د	التضاريس

٣٤:- العامل المسئول عن تحديد مستوى الكثافة السكانية فى مرسى مطروح ..... ( دور مايو ٢٠١٩ )

أ	المساحة	ج	الموارد المائية
ب	المناخ	د	التضاريس

٣٥:- العامل الاساسي لحساب الكثافة السكانية لمنطقة ما هو معرفة .....

أ	الموارد والتضاريس	ج	الموارد والمساحة
ب	المناخ والموارد	د	المساحة والسكان

٣٦:- العامل المشترك المتحكم فى تحديد مستوى الكثافة السكانية فى محافظاتى كفر الشيخ و البحيرة .....

أ	التربة	ج	الموارد
ب	المناخ	د	التضاريس

٣٧:- توجد علاقة عكسية بين .....

وجود الموارد الطبيعية وارتفاع الكثافة السكانية	أ
المناطق الجبلية وارتفاع الكثافة السكانية	ب
اتساع المساحة وانخفاض الكثافة السكانية	ج
اعتدال درجات الحرارة وانخفاض الكثافة السكانية	د

٣٨:- توجد علاقة طردية بين .....

المناطق السهلية الفيضية وارتفاع الكثافة السكانية	أ
اعتدال المناخ وانخفاض الكثافة السكانية	ب
اتساع المساحة وارتفاع الكثافة السكانية	ج
المناطق الجبلية وارتفاع الكثافة السكانية	د

٣٩:- العلاقة بين خصوبة التربة و الكثافة السكانية هي علاقة.....

عكسية	أ
طردية	ب
سلبية	ج
ضعيفة	د

٤٠:- العلاقة بين الكثافة العامة في مصر والمساحة في مصر علاقة .....

عكسية	أ
طردية	ب
ايجابية	ج
ضعيفة	د

٤١:- من اهم المحافظات التالية يتركز بها السكان بسبب عامل التربة .....

البحيرة	أ	الغربية	ج
الشرقية	ب	كفر الشيخ	د

٤٢:- من اهم المحافظات التالية يقل بها السكان بسبب عامل التربة .....

المنوفية	أ	الغربية	ج
البحيرة	ب	القليوبية	د

٤٣ :- من اهم المحافظات التالية يقل بها السكان بسبب ان انتشار المستنقعات .....

أ	المنوفية	ج	الغربية
ب	كفر الشيخ	د	القليوبية

٤٤ :- من اهم المدن التى تقل بها السكان بسبب عامل التضاريس .....

أ	العريش	ج	الطور
ب	نجع حمادى	د	طنطا

٤٥ :- العوامل اكثر تأثيراً على تركيز السكان فى وادى النيل والدلتا هو.....

أ	الظروف السياسية والعسكرية	ج	التضاريس
ب	النقل والمواصلات	د	التربة

٤٦ :- من اهم العوامل اكثر تأثير فى تركيز السكان فى المناطق المطلة على ساحل البحر المتوسط .....

أ	الظروف السياسية والعسكرية	ج	السمات المناخية
ب	النقل والمواصلات	د	التربة

٤٧ :- السبب الاساسي فى تركيز السكان فى منخفض الفيوم رغم وقوعه الصحراء الغربية .....

أ	الظروف السياسية والعسكرية	ج	السمات المناخية
ب	النقل والمواصلات	د	التربة

٤٨ :- العامل الاكثر تأثير فى تركيز السكان فى راس غارب هو .....

أ	السياحة	ج	الظروف السياسية والعسكرية
ب	النقل والمواصلات	د	التربة

٤٩ :- يتركز السكان فى المناطق المتباعد عن السواحل واهمها .....

أ	الوادى الجديد	ج	الواحة البحرية
ب	مرسي مطروح	د	بورسعيد

٥٠ :- العامل المشترك بين الكثافة العامة والكثافة الحقيقية .....

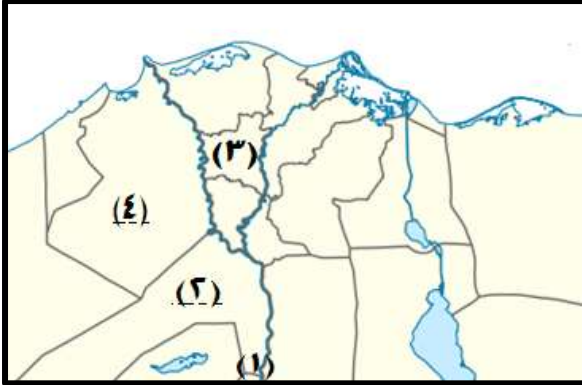
أ	كل منهما لا يعكس التوزيع الحقيقى للسكان
ب	كل منهما يعكس التوزيع الحقيقى للسكان
ج	كل منهما يعبر عن مؤشر حقيقى للكثافة السكانية
د	كل منهما يوضح العلاقة بين عدد سكان الدولة ومساحتها



٥١ :- تكاد تتقارب الكثافة السكانية العامة والكثافة الصافية في محافظة ..... ث ع ٢٠١٩

الاقصر	ج	الغربية	أ
بنى سويف	د	الاسكندرية	ب

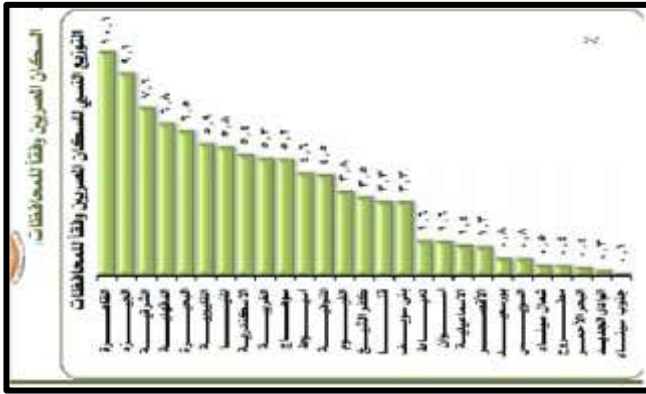
٥٢ :- تكاد تتقارب الكثافة السكانية العامة والكثافة الصافية في محافظة .....



١	أ
٢	ب
٣	ج
٤	د

٥٣ :- الصورة المقابلة توضح اعداد السكان في محافظات مصر عام ٢٠١٧ يتضح من خلال الرسم البياني ان توزيع سكان مصر يتميز بـ

التوزان	أ
الانتشار	ب
التمركز الشديد	ج
الندرة	د



٥٤ :- العامل المشترك المؤثر في الكثافة السكانية في محافظتى الغربية والبحيرة هو .....

التضاريس	ج	المناخ	أ
النقل والمواصلات	د	التربة	ب

٥٥ :- السبب الرئيسي في تركز السكان في محافظة القاهرة هو ....

المناخ المعتدل	ج	التربة الخصبة	أ
السمات المناخية	د	الانشطة الاقتصادية	ب

٥٦ :- العامل الاساسي المتحكم في وجود مراكز عمرانية في الصحراء الشرقية .....

المناخ المعتدل	ج	التربة الخصبة	أ
السمات المناخية	د	الانشطة الاقتصادية	ب

## ٣ المشكلات السكانية والاجتماعية وسيناريوهات المستقبل

### أختر الاجابة الصحيحة من بين الخيارات التالية

١ :- تبلغ نسبة الامية فى الفئات الاكثر من ١٠ سنوات نحو ٣٠,١ ٪ فان من المتوقع ان يكون النشاط اكثر ارتباط بالامية هو

الخدمات والتجارة	⤵	الصناعة
التشيد والبناء	⤵	الزراعة

٢ :- توجد علاقة طردية بين .....

الزراعة و الامية	⤵	التشيد والبناء و الامية
الصناعة والامية	⤵	الصناعة والامية

٣ :- العلاقة بين اعداد السكانية والتنمية الاقتصادية فى مصر علاقة .....

طرديا	⤵	ضعيفة
عكسية	⤵	ايجابية

٤ :- توجد علاقة ايجابية بين .....

العشوائيات و المشكلة السكانية	⤵
عدم توفر الموارد الاقتصادية و المشكلة السكانية	⤵
قلة الخدمات والمشكلة السكانية	⤵
انخفاض الامية و المشكلة السكانية	⤵

٥ :- من خلال الشكل المقابل اهم المشكلات الاجتماعية التى توجد بينهم علاقة ارتباط واضحة .....



٣ و ٤	⤵
١ و ٥	⤵
٥ و ٤	⤵
٦ و ٣	⤵

٦ ، توجد علاقة عكسية بين الهجرة الخارجية و.....

نقص نصيب الفرد من المياه	⤵	تدهور الخدمات
نقص الغذاء	⤵	انخفاض نسبة الاعالة



٧ :- يرتبط الشكل المقابل باحد ابعاد المشكلة السكانية وهى .....

أ	عدم التوازن بين الموارد الاقتصادية واعداد السكان
ب	سوء توزيع السكان
ج	ارتفاع نسبة صغار السن
د	ارتفاع معدلات الامية والادمان

٨ :- توجد علاقة عكسية بين .....

أ	تطوير التعليم الفنى والمشكلة السكانية
ب	العشوائيات والمشكلة السكانية
ج	البحث عن مصادر جديدة للمياه والمشكلة السكانية
د	برنامج التنمية البشرية والمشكلة السكانية

٩ - يمكن ايجاد حلول لمشكلة السكانية من خلال تحقيق تنمية اقليمية فى منطقة .....

أ	وسط الدلتا	ج	شمال الدلتا
ب	جنوب الوادى	د	منخفضات الصحراء الغربية

١٠ :- التوسع فى استصلاح الاراضى الصحراوية يمكن من خلال ذلك حل مشكلة .....

أ	حل مشكلة العشوائيات	ج	نقص نصيب الفرد من المياه
ب	مشكلة نقص الغذاء	د	حل مشكلة الامية

١١ تشديد الرقابة على الموانى والمطارات أحد ايجاد حلول لحل مشكلة .....

أ	البطالة	ج	الفقر
ب	الادمان	د	الامية

١٢ :- العلاقة بين الزيادة السكانية واستيراد السلع الاستهلاكية

أ	طردية	ج	ايجابية
ب	عكسية	د	ضعيفة

١٣ :- العلاقة بين سيادة حرفة الزراعة وانتشار الامية .....

أ	طردية	ج	ايجابية
ب	عكسية	د	ضعيفة

١٤ :- من الففائف الفف فرففب على الففرة من الرفف الى المفن .....

أ	افففر الففماف	ج	فقف الففء
ب	فقف المفا	د	افففاف مسفوى المعفشة

١٥ :- الاففماف بالففلفم الفف ففاسف على مشكلة .....

أ	الففء على الافمفة	ج	الففء على البفالة
ب	الففء على الافمان	د	الففء على العشوففاف

١٦ :- السبب الرففسف المفسبب فف ففوف المشكلة السكاففة فف مصر فف .....

أ	ففاة معدل الموالفف و الففاف	ج	ففنى مسفوى الففمفة بالففسفة للففافة السكاففة
ب	ارفاف فسبة صفار السن	د	سوء فوففم السكان

١٧ :- اففسبب المفافف الفف ففب اف فففة ففارف الففرة الفافلفة فف مصر لفل المشكلة السكاففة

أ	السافل الشمالف	ج	الاسكفرففة
ب	بورسعفف	د	الاسماعفلفة

١٨ :- الفمف الففوفى الفف ففمف ففوم به بعض فرفف الفامعاف ففمف اف ففل مشكلة .....

أ	الففر	ج	الافمان
ب	البفالة	د	الافمفة

١٩ :- افصار الفولة فف الافافة الاففر مضموفة من الففشرفعاف المرفبفة بالفسففماراف ففمف من فلالة فل مشكلة .....

أ	الففر	ج	الافمان
ب	البفالة	د	الافمفة

٢٠ :- افصار قانون الففل ففاسف على موافهة مشكلة .....

أ	الففر	ج	الافمان
ب	البفالة	د	الافمفة

٢١ :- ارفاف الففل القومف لمصر فف السناف الاففر ففاسف على فل مشكلة .....

أ	الففر	ج	الافمان
ب	فقف نصفب الفرف من المفا	د	الافمفة



٢٢ :- عدم اقبال المستثمرين المحليين فى عدم استثمار اموالهم فى مصر يؤدي الى عدم قدرة الدولة فى حل مشكلة .....

الفقر	ج	العشوائيات
البطالة	د	الامية

٢٣ :- افضل المناطق التى يمكن الاتجاه اليها لحل مشكلة السكانية .....

المدن الجديدة	ج	جنوب الصعيد
وسط الدلتا	د	مصر الوسطى

٢٤ :- انشاء الدولة مدينة السمرات الجديدة الهدف منها حل مشكلة .....

ازدحام وضخمة المدن	ج	تلوث الهواء
العشوائيات	د	تدهور المرافق

٢٥ :- اتجاة الدولة لانشاء العاصمة الادارية الجديدة الهدف الاساسي منه هو حل مشكلة .....

ازدحام وضخمة المدن	ج	تلوث الهواء
العشوائيات	د	تدهور المرافق

٢٦ :- يمكن حل مشكلة الفجوة الغذائية من خلال .....

تطوير التعليم الفنى	ج	اقامة برنامج تنمية اقليمية فى بعض المحافظات
تحسين العلاقة مع الدول العربية	د	البحث عن المياه الجوفية فى الصحراء الغربية

٢٧ :- من اهم المحافظات التى يمكن من خلالها التوسع فى تحقيق التنمية الاقليمية فى مصر لحل مشكلة السكانية

اسيوط	ج	الوداي الجديد
قنا	د	الاسكندرية



٢٨ :- الصورة المقابلة ترتبط بـ

الهجرة الخارجية	أ
زيادة نسبة صفار السن	ب
زيادة نسبة البطالة	ج
الهجرة الداخلية	د

٢٩ :- تتلخص المشكلة السكانية فى .....

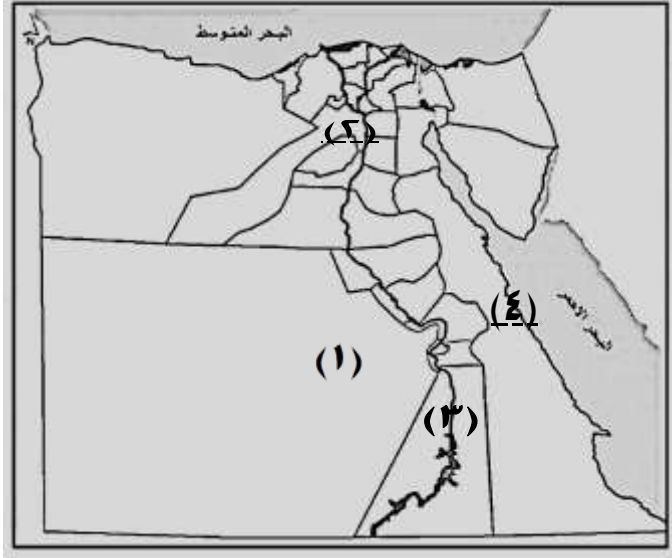
زيادة نسبة العشوائيات	ج	قلة نصيب الفرد من المياه
قلة الموارد المتاحة	د	زيادة نسبة كبار السن

٣٠: زيادة نسبة الاعالة فى مصر بسبب .....

زيادة نسبة الفئة الغير منتجة	⤵	زيادة نسبة الفقر	أ
انتشار العشوائيات	د	سوء توزيع السكان	ب

٣١: من اهم المناطق التى تهتم بها الدولة للتنفيذ مشروعات التنمية الاقليمية لحل مشكلة السكانية فى مصر

٢٠١	أ
١٩٤	ب
٢٠٣	⤵
٣٠١	د



٣٢: انسب الحلول لحل مشكلة التكدس السكانى فى القاهرة .....

وضع قيود على الهجرة اليها	أ
انشاء المزيد من الوحدات السكانية	ب
اقامة المزيد من مشروعات التنمية فى المحافظات	⤵
القضاء على العشوائيات بها	د

٣٣: اكثر محافظات مصر ينشر بها معدل الجريمة فى مصر .....

سوهاج	أ
الاسكندرية	⤵
الغربية	ب
القاهرة	د

٣٤: افضل الحلول لحل مشكلة البطالة فى مصر بـ .....

ربط التعليم بسوق العمل	أ
منع الهجرة الداخلية	⤵
المعاش المبكر	ب
منع البناء على الاراضى الزراعية	د

٣٥: افضل الحلول لحل المشكلة السكانية فى مصر .....

التحكم فى النسل	أ
القضاء على العشوائيات	⤵
وقف الهجرة من الريف الى المدن	ب
تشجيع الهجرة الى الخارج	د

٣٦: من اهم المشكلات التى تواجه المدن الكبرى هو .....

نقص العاملة	أ
قلة امتلاك الوحدات السكانية	⤵
انتشار نسبة الامية	ب
وجود مناطق تفتقر الى الخدمات الاساسية	د

# النشاط الزراعى في مصر

## أختر الاجابة الصحيحة من بين الخيارات التالية

١ :- عامل المشترك بين زراعة في محافظة قنا والواحات الخارجة في .....

مصدر المياه	أ	تأثير الحرارة	ج
فقر التربة	ب	تجانس التربة	د

٢ :- الاعتماد الرئيسي في الزراعة في مناطق الواحات عن مصدر المياه وهو .....

الامطار	أ	المياه الجوفية المتجددة	ج
المياه الجوفية المتجددة	ب	مياه نهر النيل	د

٣ :- الاعتماد الرئيسي في الزراعة في منخفض الفيوم عن مصدر المياه وهو .....

الامطار	أ	تحلية مياه البحر	ج
المياه الجوفية المتجددة	ب	مياه نهر النيل	د

٤ :- أكثر المحافظات استفادة من قناطر إدفينا .....

كفر الشيخ	أ	الغربية	ج
الاسماعيلية	ب	دمياط	د

٥ :- من اهم المشروعات التى حجزت مياه فرع رشيد عن البحر المتوسط .....

ترعة النوبارية	أ	قناطر زفتى	ج
قناطر إدفينا	ب	ترعة الاسماعيلية	د

٦ :- من المناطق الاساسية التى تعتمد على رى اراضها اعتماداً رئيسي الامطار الشتوية .....

دمياط	أ	رشيد	ج
العريش	ب	واحة البحرية	د

٧ :- من اهم المحافظات استفادة من ترعة الاسماعيلية .....

دمياط	أ	الغربية	ج
محافظة الشرقية	ب	البحيرة	د

٨ :- تروى الاراضى الزراعية فى القليوبية عن طريق ترعة .....

ترعة النوباريه	ج	ترعة الابراهيمية	أ
ترعة السوهاجية	د	ترعة الاسماعيليه	ب

٩ :- تروى الاراضى الزراعية فى البحيرة عن طريق ترعة .....

ترعة النوباريه	ج	ترعة الابراهيمية	أ
ترعة السوهاجية	د	ترعة الاسماعيليه	ب

١٠ :- تستمد الاراضى الزراعية مياهها فى بنى سويف من ترعة .....

ترعة النوباريه	ج	ترعة الابراهيمية	أ
ترعة السوهاجية	د	ترعة اصفون	ب

١١ :- تستمد الاراضى الزراعية مياهها فى اسيوط والمنيا من ترعة .....

ترعة النوباريه	ج	ترعة الابراهيمية	أ
ترعة السوهاجية	د	ترعة اصفون	ب

١٢ :- تروى الاراضى الزراعية فى اسنا من ترعة .....

قناطر اسيوط	ج	قناطر نجع حمادى	أ
ترعة السوهاجية	د	ترعة اصفون	ب

١٣ :- تصرف المياه الزائدة عن حاجة الارض الزراعية فى محافظتى القليوبية والشرقية .....

ايتاى البارود	ج	بحر البقر	أ
المحيط	د	زفتى	ب

١٤ :- تصرف المياه الزائدة عن حاجة الارض الزراعية فى محافظة الغربية من مصرف .....

ايتاى البارود	ج	بحر البقر	أ
المحيط	د	زفتى	ب

١٥ :- تصرف المياه الزائدة عن حاجة الارض الزراعية فى محافظة البحيرة من مصرف .....

ايتاى البارود	ج	بحر البقر	أ
المحيط	د	زفتى	ب



١٦ :- العامل المشترك بين محصول القمح والقطن فى .....

أ	موسم الزراعة	ج	الاهمية الاقتصادية
ب	الارتباط بالامن الغذائى	د	اماكن زراعته

١٧ :- اكثر المحاصيل الغذائية تآثر انتاجها بالزيادة الطبيعية .....

أ	القمح	ج	قصب السكر
ب	القطن	د	الارز

١٨ :- من اكثر الانشطة الاقتصادية تأثرت بالهجرة الداخلية .....

أ	النشاط الزراعى	ج	النشاط الصناعى
ب	النشاط التعدينى	د	النشاط السياحى

١٩ :- العامل المشترك بين محصول الارز والقطن .....

أ	موسم الزراعة	ج	الاهمية بالاقتصادىة
ب	الارتباط بالامن الغذائى	د	اماكن زراعته

٢٠ :- العامل المشترك بين محصول قصب السكر والبنجر فى .....

أ	موسم الزراعة	ج	السمات المناخية
ب	الاهمية الغذائية	د	تتركز زراعته

٢١ :- اكثر مناطق تعرض للتصحر فى مصر .....

أ	وسط الدلتا	ج	جنوب الوادى
ب	جنوب الدلتا	د	الواحات البحرية

٢٢ :- من اهم المشكلات التى تواجه الزراعة ارتباطا بالنواحى البشرية .....

أ	التصحر	ج	قلة المياه
ب	انتشار الافات	د	تفتت الملكية الزراعية

٢٣ :- معظم انتاج الاسماك فى مصر يتم استخراجها من مصايد .....

أ	بحيرات الدلتا	ج	الترع
ب	نهر النيل	د	المزارع السمكية

٢٤:، أكثر فصول السنة لها تأثيراً سلبى على الزراعة فى مصر .....

الربيع	أ	الخريف	ج
الشتاء	ب	الصيف	د

٢٥:، أكثر فترات السنة لها تأثيراً سلبى على الزراعة فى مصر .....

ديسمبر ، فبراير	أ	مارس - مايو	ج
يونية - أكتوبر	ب	أكتوبر ، نوفمبر	د

٢٦: الصورة التى امامك هى صورة القناطر الخيرية لها تأثير على رفع منسوب المياه فى ترعة .....



النوبارية	أ	الابراهيمية	ج
اصفون	ب	اسيوط	د

٢٧: امامك صورة من قناطر نجع حمادى أكثر محافظات مصر استفادة منها هى .....

سوهاج وقنا	أ	قنا والاقصر	ج
اسيوط وسوهاج	ب	سوهاج والاقصر	د



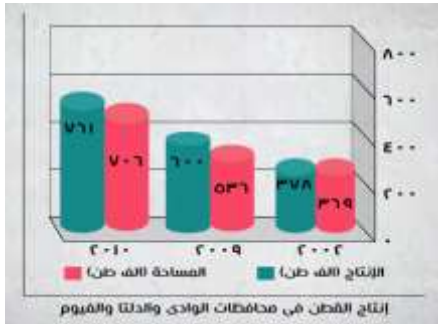
٢٨: أكثر المحاصيل الزراعية ارتباطاً بالاقتصاد المصري .....

القمح	أ	قصب السكر	ج
القطن	ب	بنجر السكر	د

٢٩: يعبر الشكل المقابل عن معدل انتاج القطن من ٢٠٠٢ حتى ٢٠١٠ ادرس الشكل جيداً

ثم اجب السبب الرئيسى فى تناقص اعداد انتاج القطن فى مصر هو .....

تناقص المياه	أ	التغيرات المناخية	ج
قلة خصوبة التربة	ب	الزيادة الطبيعية	د



٣٠: تستمد ترعة اصفون مياهها من .....

قناطر نجع حمادى	أ	قناطر اسيوط	ج
قناطر اسنا	ب	القناطر الخيرية	د

٣١: تستمد الجرجاوية مياهها من .....

قناطر نجع حمادى	أ	قناطر اسيوط	ج
قناطر اسنا	ب	القناطر الخيرية	د

٣٢: هناك علاقة الزيادة السكانية و انتاج القطن في السنوات الاخير في مصر .....

طردية	⊖	ضعيفة
عكسية	⊕	ايجابية

٣٣: توجد علاقة طردية بين .....

الزيادة السكانية في مصر و انتاج القطن	⊖
الزيادة السكانية في مصر و الاكتفاء الذاتي من الغذاء	⊕
الزيادة السكانية في مصر و الميزان التجارى	
الزيادة السكانية في مصر و الزحف العمرانى على الاراضى الزراعية	

٣٤: تؤثر الزيادة الغير طبيعية سلباً على .....

الصناعة	⊖	السياحة
التجارة	⊕	الانتاج الزراعى

٣٥: افضل الوسائل لسد الفجوة الغذائية فى ظل ما تعاني مصر من نقص نصيب الفرد من المياه العذبة هو

استصلاح المناطق الصحراوية	⊖	منع هجرة الفلاحين الى المدن
الاستعانة بالاساليب العلمية	⊕	الاستيراد من الخارج

٣٦: تناقص مساحة القطن فى مصر بسبب ..... ٢٠١٩

العشوائيات	⊖	قلة الايدى العاملة
الزيادة طبيعية	⊕	الهجرة

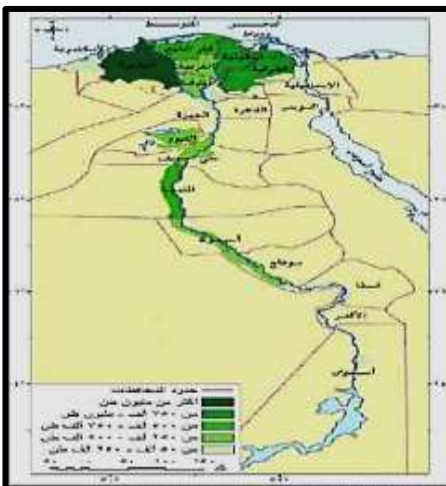
٣٧: تخرج ترع الاسماعيلية من .....

فرع دمياط	⊖	سد فارسكور
فرع رشيد	⊕	قناطر إدفينا

٣٨: امامك خريطة انتاج القمح فى محافظات مصر ادرسها جيداً ثم اجب .....

اكبر محافظات مصر فى انتاج القمح تقع فى .....

شرق الدلتا	⊖	وسط الدلتا
غرب الدلتا	⊕	وسط الوادى



٣٩ :- معظم انتاج مصر من القمح ياتي من .....

أ	مصر العليا	ج	الواحات
ب	مصر السفلى	د	شمال سيناء

٤٠ :- امامك خريطة انتاج القطن في محافظات مصر ادرسها جيدا ثم اجب .....

أ	شرق الدلتا	ج	وسط الدلتا
ب	غرب الدلتا	د	وسط الوادي

٤١ :- معظم انتاج مصر من القطن ياتي من .....

أ	مصر العليا	ج	الواحات
ب	مصر السفلى	د	شمال سيناء

٤٢ :- تركز مصانع السكر بقرب المزارع قصب السكر .....

أ	مصر العليا	ج	الواحات
ب	مصر السفلى	د	شمال سيناء

٤٣ :- من اهم المحافظات التي تواجه مشكلة صغير مساحة الملكيات الزراعية هي .....

أ	شمال سيناء	ج	مطروح
ب	الوادي الجديد	د	الغربية

٤٤ :- العامل الرئيسي في تركز زراعة قصب السكر في جنوب الصعيد .....

أ	الحرارة المرتفعة	ج	العاملة الزراعية
ب	توفر المياه	د	التربة الخصبة

٤٥ :- العامل الرئيسي في تركز زراعة بنجر السكر في شمال مصر .....

أ	الحرارة المعتدلة	ج	العاملة الزراعية
ب	الحرارة المرتفعة	د	التربة الخصبة

٤٦ :- افضل الانشطة الاقتصادية التي تفضل ممارستها في شمال الدلتا .....

أ	نشاط سمكي	ج	نشاط صناعي
ب	نشاط زراعي	د	نشاط سياحي



٤٧ :- من اهم ايجابيات بناء السد العالى .....

زيادة مساحة الارز	⤵	زيادة مساحة زراعة القمح	أ
زيادة اعداد المصارف	د	زيادة خصوبة التربة	ب

٤٨ :- السبب الرئيسى فى عدم كفاية انتاج السمكى فى مصر .....

تعايرج الساحل	⤵	الزيادة الطبيعية	أ
عدم وجود تيارات بحرية	د	صغر طول السواحل فى مصر	ب

٤٩ :- اكثر الحيوانات انتشاراً فى الوادى .....

الابل	⤵	الجاموس	أ
الماعز	د	الاعنام	ب

٥٠ :- اكثر الحيوانات انتشاراً فى مصر .....

الابل	⤵	الجاموس	أ
الماعز	د	الاعنام	ب

٥١ :- اقل انواع الحيوانات انتشاراً فى مصر .....

الابل	⤵	الجاموس	أ
الماعز	د	الاعنام	ب

٥٢ :- اكثر الحيوانات فى شبة جزيرة سيناء فى مصر .....

الابل	⤵	الجاموس	أ
الماعز	د	الاعنام	ب

٥٣ :- توجد علاقة طردية بين زيادة الانتاج بالثروة الحيوانية و.....

ارتفاع اسعار العلف	⤵	زيادة مساحة انتاج القمح	أ
التقدم الطبى	د	الاعتماد على الحيوانات فى اعمال الحقل	ب

٥٤ :- العامل المشترك فى مناطق زراعة القمح والقطن وبنجر السكر فى.....

شرق الدلتا	⤵	جنوب الدلتا	أ
غرب الدلتا	د	الوادى	ب

٥٥ :- توجد علاقة بين صناعة الطوب الاحمر و.....

انتشار العشوائيات	⤵	تدهور الخدمات	أ
نقص الغذاء	د	نقص نصيب الفرد من المياه	ب



٥٦ :- تمتد ترعة الابراهيمية من محافظة اسيوط جنوبا الى محافظة .....

أ	المنيا	ج	بنى سويف
ب	القاهرة	د	سوهاج

٥٧ :- تمتد ترعة الابراهيمية فى عدد من المحافظات تبلغ .....

أ	محافظتان	ج	٣ محافظات
ب	٤ محافظات	د	محافظة واحدة

٥٨ :- تخرج ترعة السوهاجية من محافظة .....

أ	اسيوط	ج	قنا
ب	سوهاج	د	بنى سويف

٥٩ :- تمتد ترعة السوهاجية فى عدد من المحافظات تبلغ .....

أ	محافظتان	ج	٣ محافظات
ب	٤ محافظات	د	محافظة واحدة

٦٠ :- من اكثر المحاصيل الغذائية ارتباطاً بفائض النقدى من العملات الاجنبية

أ	القمح	ج	الارز
ب	القطن	د	بنجر السكر

٦١ :- السهم المشار الية فى الخريطة يعتمد الزراعه فيها على .....



أ	الامطار الشتوية
ب	الابار والعيون
ج	بحيرة ناصر
د	قناطر نجع حمادى

٦٣ :- ارتباط النشاط الزراعى فى الجزء المشار الية بـ

أ	المياه السطحية	ج	المناخ
ب	التركيب الجيولوجى	د	التدخلات البركانية

٦٤ :- ارتباط النشاط الزراعى فى الجزء المشار الية بـ



أ	الامطار الشتوية
ب	الابار والعيون
ج	مياه النيل
د	بالترع

## ٢ النشاط التعدينى والصناعى فى مصر

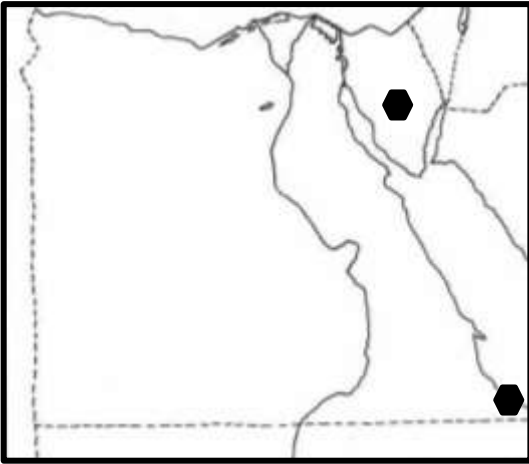
أختر الاجابة الصحيحة من بين الخيارات التالية

١ :- من اهم خطوط نقل البترول فى مصر تخرج من .....

شمال خليج السويس	Ⓐ	شرق خليج السويس	Ⓐ
جنوب خليج السويس	Ⓑ	غرب خليج السويس	Ⓑ

٢ :- توجد خام الحديد التى لا يمكن الاستفادة منها اقتصادياً .....

المناطق الشرقية	Ⓐ	المناطق الجنوبية فى الوادي	Ⓐ
المناطق الغربية	Ⓑ	منطقة شمال سيناء	Ⓑ



٣ :- امامك خريطة لمصر تشير الاجزاء المظللة الى مناطق انتاج معدن

الحديد	Ⓐ	الفوسفات	Ⓐ
المنجنيز	Ⓑ	الذهب	Ⓑ

٤ :- يوجد اقدم مناجم انتاج الموارد الطبيعية التى تدخل فى انتاج الاسمدة الكيماوية

شمال سيناء	Ⓐ	الواحات البحرية	Ⓐ
على ساحل البحر الاحمر	Ⓑ	جنوب الصحر الغربية	Ⓑ

٥ :- من اهم المعادن التى تنتشر فى جنوب ثنية قنا .....

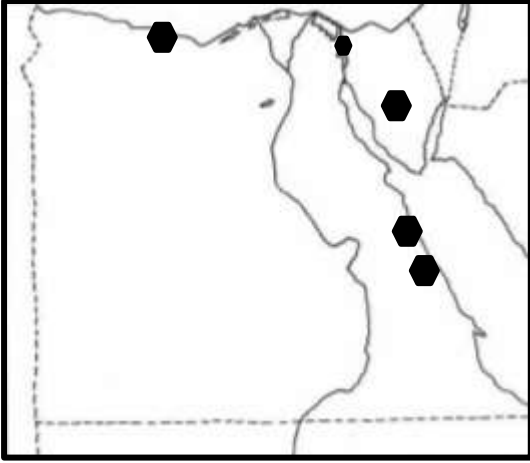
الحديد	Ⓐ	الفوسفات	Ⓐ
المنجنيز	Ⓑ	الذهب	Ⓑ

٦ :- من اهم المعادن التى تنتشر بين منخفض الخارجة من الفرافرة .....

الحديد	Ⓐ	الفوسفات	Ⓐ
المنجنيز	Ⓑ	الذهب	Ⓑ

٧ :- توجد اكبر حقول فوسفات فى مصر .....

شمال منخفض الداخلة	Ⓐ	شمال شرق منخفض الداخلة	Ⓐ
شمال غرب منخفض الداخلة	Ⓑ	شرق منخفض الخارجة	Ⓑ



٨: امامك خريطة لمصر تشير الاجزاء المظلل الى مناطق انتاج معدن

الكروم	ج	الحديد
المنجنيز	د	الجبس

٩: تبدو اهمية السواحل المصرية فى استخراج .....

الجبس	ج	رمال الزجاج
ملح الطعام	د	الفوسفات

١٠: من اكثر المعادن ارتباطا بمعدن الحديد .....

الكروم	ج	الفوسفات
المنجنيز	د	الجبس

١١: من اكثر المعادن ارتباطا بالنشاط الزراعى فى مصر .....

الكروم	ج	الفوسفات
المنجنيز	د	الجبس

١٢: توقف انتاج الفحم فى شبة جزيرة سيناء فى بعض الفترات الزمنية بسبب اسباب

اقتصادية	ج	اجتماعية
سياسية	د	جغرافية

١٣: من اهم حقول البترول التى تقع فى الصحراء الشرقية .....

سدر	ج	كريم
عسل	د	ابورديس

١٤: من اهم حقول البترول التى تاثر انتاجها بالاضاع السياسية فى مصر .....

راس غارب	ج	كريم
شقيير	د	ابورديس

١٥: اكثر مناطق اهمية فى انتاج مصادر الطاقة فى مصر .....

الصحراء لشرقية	ج	الصحراء الغربية
حول خليج السويس	د	شمال الدلتا

١٦ :- من اهم المعادن التى يمكن من خلالها سد العجز فى ميزان المدفوعات فى مصر .....

أ	الحديد	ج	الفوسفات
ب	المنجنيز	د	الجبس

١٧ :- ارتباط اهمية منطقة خليج السويس بانتاج .....

أ	البترول	ج	الفحم
ب	الغاز الطبيعى	د	الفوسفات

١٨ :- من الحقول البحرية فى انتاج الغاز الطبيعى .....

أ	ابوماضى	ج	ابوقير
ب	الوسطانى	د	بدر الدين

١٩ :- ارتباط اهمية منطقة دلتا مصر بانتاج .....

أ	البترول	ج	الفحم
ب	الغاز الطبيعى	د	الفوسفات

٢٠ :- ارتباط اهمية منطقة وادى النيل فى مصر بانتاج .....

أ	البترول	ج	الفحم
ب	الغاز الطبيعى	د	الفوسفات

٢١ :- امامك خريطة لمصر تشير الاجزاء المظلل الى مناطق استخراج .....

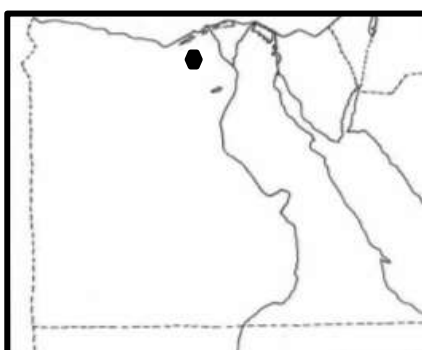
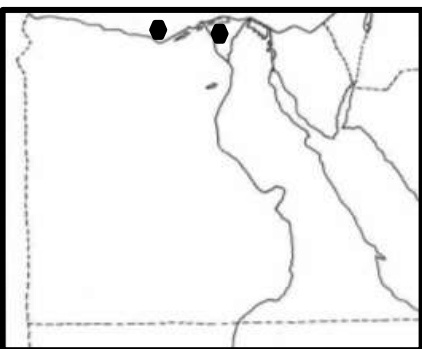
أ	البترول	ج	الفحم
ب	الغاز الطبيعى	د	الفوسفات

٢٢ :- امامك خريطة لمصر تشير الاجزاء المظلل الى مناطق استخراج .....

أ	رمال الزجاج	ج	الجبس
ب	الحديد	د	الفوسفات

٢٣ :- من اهم المناجم التى تتطلب تدخل الدولة لاستفادة منه

أ	مناجم الفوسفات ابوطرطور	ج	مناجم الحديد جبال البحر الاحمر
ب	مناجم المنجنيز ام بجمة	د	مناجم الجبس فى راس معلب



٢٤ :- اهم المعادن الفلزية التى توجد داخل شرق خليج السويس

الحديد	أ	الفوسفات	ج
المنجنيز	ب	الحبس	د

٢٥ :- من اهم المعادن التى تقع على الحدود الجنوبية فى مصر .....

الحديد و المنجنيز	أ	الفوسفات والحديد	ج
المنجنيز والكروم	ب	الحبس والكروم	د

٢٦ :- تظهر اهمية منخفض الفيوم فى تركيز انتاج .....

المنجنيز	أ	رمال الزجاج	ج
الكروم	ب	ملح الطعام	د

٢٧ :- تتركز المواد الخام التى دخل فى صناعة الزجاج فى .....

شرق الدلتا	أ	وسط الدلتا	ج
غرب الدلتا	ب	شمال الدلتا	د

٢٨ :- تتجلى اهمية الساحل الغربى من خليج السويس اقتصادياً فى .....

وجود المعادن	أ	المدن الصناعية	ج
حقول البترول	ب	حقول الغاز الطبيعى	د

٢٩ :- من اهم الانشطة الاقتصادية الحيوية فى الاقتصاد المصرى التى تمارس فى الواحات البحرية .....

التعدين	أ	الصناعة	ج
السياحة	ب	الزراعى	د

٣٠ :- من اهم الانشطة الاقتصادية الحيوية فى الاقتصاد المصرى التى تمارس فى شمال غرب منخفض الخارجة .....

التعدين	أ	الصناعة	ج
السياحة	ب	الزراعى	د

٣١ :- من اهم الانشطة الاقتصادية الحيوية فى الاقتصاد المصرى التى تمارس فى المنطقة من سفاجا الى القصير .....

التعدين	أ	التجارة	ج
السياحة	ب	الزراعى	د



٣٢: من اهم محافظات مصر ارتباطا بانتاج المواد الخام التى تدخل فى تصنيع الكبارى فى محافظة .....

الجيزة	Ⓐ	الاسكندرية	Ⓙ
الخارجة	Ⓑ	شمال سيناء	Ⓚ

٣٣: اهم الموانى لنقل الفوسفات الى الخارج ميناء .....

السويس	Ⓐ	الاسكندرية	Ⓙ
سفاجا	Ⓑ	مرسى علم	Ⓚ

٣٤: توجد الحقول المشتركة فى البترول والغاز الطبيعى فى .....

غرب خليج السويس	Ⓐ	ساحل البحر الاحمر	Ⓙ
شمال الدلتا	Ⓑ	في الصحراء الغربية	Ⓚ

٣٥: يرجع سبب توجد الفوسفات اكبر مناجم الفوسفات فى مصر الى .....

التعرية	Ⓐ	الالتواءات	Ⓙ
التدخلات البركانية	Ⓑ	التركيب الجيولوجى	Ⓚ

٣٦: اكبر مناجم الفوسفات فى مصر ترتبط بتكوينات .....

الزمن الاركى	Ⓐ	الزمن الثالث	Ⓙ
الزمن الثانى	Ⓑ	الزمن الرابع	Ⓚ

٣٧: اكبر مناجم الفحم فى مصر ترتبط بتكوينات .....

الزمن الاركى	Ⓐ	الزمن الثالث	Ⓙ
الزمن الثانى	Ⓑ	الزمن الرابع	Ⓚ

٣٨: يرجع سبب تركز الفحم فى شبة جزيرة سيناء الى .....

عوامل التصدع	Ⓐ	انتشار الكثبان الرملية	Ⓙ
وجود السبخات	Ⓑ	التركيب الجيولوجى	Ⓚ

٣٩: من اهم الهضاب التى توجد بها تركز الغاز الطبيعى والبترول .....

الهضبة الوسطى	Ⓐ	الهضبة الجنوبية	Ⓙ
هضبة مارمريكا	Ⓑ	العبادة	Ⓚ

٤٠ :- ارتبط وجود البترول والغاز الطبيعي فى شبة جزيرة سيناء والخليج السويسى .....

انتشار الكثبان الرملية	⤵	انحدار سهل القاع	Ⓐ
بالتركيب الجيولوجى	Ⓓ	وجود السبخات	Ⓑ

٤١ :- الساحل الغربى من شبة جزيرة سيناء غنى بـ .....

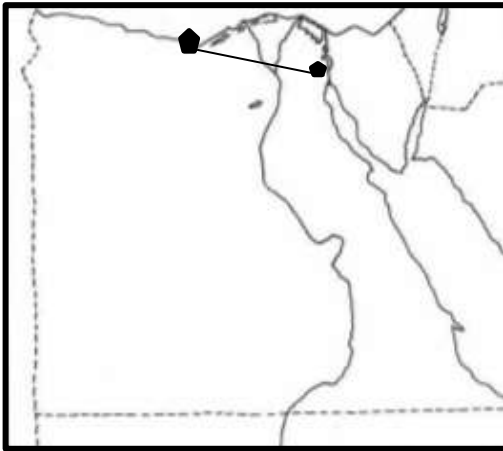
الاراضى الزراعى	⤵	التعدين	Ⓐ
مصادر الطاقة	Ⓓ	الصناعة	Ⓑ

٤٢ :- الساحل الشرقى فى شبة جزيرة سيناء غنى بـ .....

الاراضى الزراعى	⤵	التعدين	Ⓐ
مصادر الطاقة	Ⓓ	الصناعة	Ⓑ

٤٣ :- تآثرت الصناعة فى مصر فى النصف الثانى من القرن ٢٠ بـ

الزيادة الغير طبيعية	⤵	نقص المادة الخام	Ⓐ
عدم الاستقرار	Ⓓ	العمالة الصناعية	Ⓑ



٤٤ :- امامك خريطة مصر المسار المحدد بخط مستقيم فى المنطقين يقوم بها صناعات

غذائية	⤵	كيمياوية وبترولية	Ⓐ
هندسية	Ⓓ	معدنية	Ⓑ

٤٥ :- اهم الصناعات التى تركز فى المنطقة المشار اليها فى رقم (١) .....

صناعة الاخشاب	⤵	صناعة كيمياوية وبترولية	Ⓐ
صناعات الجلود	Ⓓ	صناعات معدنية	Ⓑ

٤٦ :- اهم الصناعات التى تركز فى المنطقة المشار اليها فى رقم (٢) .....

صناعة الاخشاب	⤵	صناعة كيمياوية وبترولية	Ⓐ
صناعات الجلود	Ⓓ	صناعات معدنية	Ⓑ

٤٧ :- شعار صنع فى مصر شعار اطلق لمواجهة .....

الاعتماد على الالات قديمة	⤵	ضعف الاسواق	Ⓐ
عزوف المستثمرين	Ⓓ	سياسات الاغراق	Ⓑ

٤٨ :- يوجد ارتباط بين ضعف الاسواق المحلية في مصر و.....

دخول القومى	ج	نقص العمالة
عزوف المستثمرين	د	سياسات بعض الدول

٤٩ :- من اهم انواع التعليم ارتباطاً بالتقدم الصناعى فى مصر .....

التعليم الاساسي	ج	التعليم الفنى
التعليم الجامعى	د	التعليم الثانوى العام

٥٠ :- اكثر الصناعات انتشاراً على منطقة الوادى فى مصر .....

الكيمياوية والبتروولية	ج	الخشبية
الغذائية	د	الغزل والنسيج

٥١ :- اكثر الصناعات انتشاراً فى الدلتا .....

الكيمياوية والبتروولية	ج	الخشبية
الهندسية	د	الغزل والنسيج

٥٢ :- اكثر الصناعات انتشاراً فى حلوان .....

الكيمياوية والبتروولية	ج	الغذائية
المعدنية	د	الغزل والنسيج

٥٣ :- السبب الرئيسى ركود حركة البيع والشراء فى الاسواق المصرية سببها.....

انخفاض الاجور والتضخم	ج	سياسة الاغراق
زيادة معدلات الاستهلاك	د	قلة المادة الخام

## ٣ النقل والتجارة في مصر

أختر الاجابة الصحيحة من بين الخيارات التالية

١ :- اقرب الموانى الى الوادى .....

مرسي علم	Ⓐ	سفاجا	Ⓐ
القصور	Ⓑ	الزعفران	Ⓑ

٢ :- اقرب الموانى من القاهرة من الجانب الشرقي .....

السويس	Ⓐ	العين السخنة	Ⓐ
الغردقة	Ⓑ	الزفرانة	Ⓑ

٣ :- اقرب الموانى من محافظة قنا .....

مرسي علم	Ⓐ	سفاجا	Ⓐ
القصور	Ⓑ	الزعفران	Ⓑ

٤ :- يتم نقل الفوسفات كمادة خام من السباعية والمحاميد عن طريق ميناء

اسنا مرسى علم	Ⓐ	اسنا سفاجا	Ⓐ
اسنا القصور	Ⓑ	اسنا الزعفران	Ⓑ

٥ :- السهم المشار اليه في الخريطة يشير إلى خطوط سكك حديدية

التي يخدم حركة .....

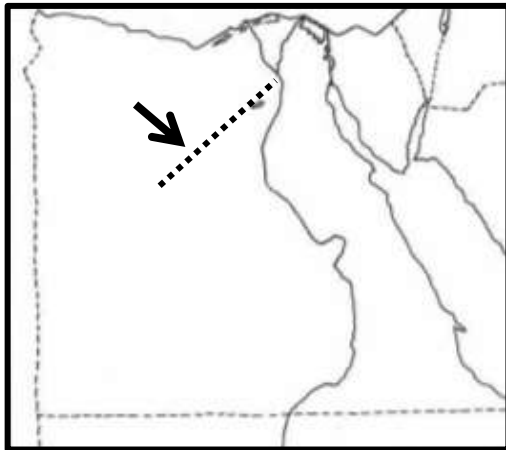
الركاب	Ⓐ	التجارة	Ⓐ
التعدين	Ⓑ	السياحة	Ⓑ

٦ :- يتم نقل الفوسفات فى الصحراء الغربية عن طريق السكك الحديدية بين

اسوان ابوطوطور	Ⓐ	سوهاج ابوطوطور	Ⓐ
قنا ابوطوطور	Ⓑ	قنا سفاجا	Ⓑ

٧ :- الخط الحديدي بين القاهرة السويس يخدم .....

الركاب	Ⓐ	التجارة	Ⓐ
التعدين	Ⓑ	السياحة	Ⓑ



٨ :- من اهم وسائل النقل والمواصلات المتاحة لسكان الفيوم .....

النقل النهري	⤵	النقل الجوي
النقل بالسكك الحديدية	⤵	النقل البحري

٩ :- اقرب الموانئ الرئيسية القريب من اوربا لاسبقال البضائع الاوربية .....

ميناء الاسكندرية	⤵	ميناء دمياط
ميناء السويس	⤵	ميناء بورسعيد

١٠ :- اول الموانئ المصرية التى يمر بها ناقلات البترول القادمة من جنوب شرق اسيا ومتجهة الى اوربا .....

ميناء القصير	⤵	ميناء مرسي علم
ميناء السويس	⤵	ميناء الفردقة

١١ :- من اهم وسائل النقل الداخلى التى يجب التى تقوم الدولة بالعناية بها .....

النقل النهري	⤵	النقل الجوي
النقل بالسكك الحديدية	⤵	النقل البحري

١٢ :- من اهم وسائل النقل الخارجى يجب التى تقوم الدولة بالعناية بها لارتباطها بالاقتصاد المصري .....

النقل النهري	⤵	النقل الجوي
النقل بالسكك الحديدية	⤵	النقل البحري

١٣ :- الراغبين فى السفر عن طريق النقل المائى من اسىوط الى الفيوم يتم ذلك عن طريق .....

ترعة الابراهيمية	⤵	ترعة السوهاجية
بحر يوسف	⤵	ترعة الاسماعيلية

١٤ :- تم انشاء اول خط سكك حديدى فى .....

الوادى	⤵	شرق الدلتا
غرب الدلتا	⤵	مدن القناة

١٥ :- البضائع القادمة عن طريق البحر الاحمر وقبل دخولها الى قناة السويس تمر بميناء .....

السويس	⤵	الزاعفرانة
بورسعيد	⤵	العين السخنة



١٦ :- اول الموانى التى تستقبل البضائع القادمة عن طريق شرق البحر المتوسط ومتجهة الى جنوب شرق اسيا

السويس	⤵	الاسكندرية
بورسعيد	⤵	دمياط

١٧ :- اقرب الموانى من منطقة غرب الدلتا ميناء .....

السويس	⤵	الاسكندرية
بورسعيد	⤵	دمياط

١٨ :- من اهم الترع التى يمكن استخدامها فى عملية النقل المائى لخدمة سكان الوادى .....

ترعة الابراهيمية	⤵	ترعة السوهاجية
بحر يوسف	⤵	ترعة الاسماعيليه

١٩ :- يخدمه النقل المائى عن طريق ترعة الابراهيمية .....

محافظتان	⤵	٣ محافظات
٤ محافظات	⤵	محافظه واحده

٢٠ :- يخدمه ميناء نويخ الواقع على خليج العقبة .....

دولة واحدة	⤵	٣ دول
دولتان	⤵	اربع دول

٢١ :- يرجع عدم الاهتمام بالتوسع فى استخدام سكك الحديدية فى الصحراء الغربية بسبب .....

استخدام الحيوانات فى النقل	⤵	التوسع فى النقل النهري
استخدام النقل الجوى	⤵	قلة الاهمية اقتصادية

٢٢ :- من اكبر الدول المصدرة لمصر .....

فرنسا	⤵	السعودية
جنوب افريقيا	⤵	الهند

٢٣ :- اهم المناطق التى تتعامل معها مصر فى التجارة الدولية تقع .....

غرب اوربا	⤵	شمال افريقيا
جنوب شرق اسيا	⤵	وسط افريقيا

٢٤ :- تعتمد التجارة الخارجية لمصر اعتماد كبير على النقل .....

النقل المائي	⤵	النقل الجوي
النقل بالسكك الحديدية	⤵	النقل البري

٢٥ :- يرتبط عجز الميزان التجاري في مصر ارتباطاً عكسية مع .....

الزيادة الطبيعية	⤵	انتشار العشوائيات
الزيادة الغير طبيعية	⤵	انتشار الامية

٢٦ :- يتم نقل الحديد من الواحات البحرية الى مناطق تصنيعة عن طريق عن طريق السكك الحديدية بين .....

الواحات البحرية الجيزة	⤵	الواحات البحرية الاسكندرية
الواحات البحرية حلوان	⤵	الواحات البحرية القاهرة

٢٧ :- من اهم الموانئ التي تقع غرب ميناء الاسكندرية .....

السلوم	⤵	مرسي مطروح
بورسعيد	⤵	دمياط

٢٨ :- من اهم الموانئ التي تقع في شرق ميناء دمياط .....

رشيد	⤵	السويس
بورسعيد	⤵	الاسكندرية

٢٩ :- يتم تصدير الاثاث المنزلى عبر ميناء .....

رشيد	⤵	دمياط
بورسعيد	⤵	الاسكندرية

٣٠ :- يتم نقل اوراق امتحانات الثانوية العامة الى محافظة الوادي الجديد عن طريق .....

النقل المائي	⤵	النقل الجوي
النقل بالسكك الحديدية	⤵	النقل البري

٣١ :- من اهم الموانئ التي تقع في شرق مصر .....

بورسعيد	⤵	دمياط
الاسكندرية	⤵	الزعفرانه

٣٢ :- اقرب الموانئ من محافظة اسوان .....

سفاحا	⤵	مرسي علم
القصور	⤵	الزعفرانه

٣٣:- اهم المناطق التي ارتبطت بالصادرات الخارجية لمصر الى دول العالم .....

المنطقة الواقعة بين الداخلة والخارجة	ج	منطقة جبل علبة
منطقة الخليج السويس	د	منطقة الواحات البحرية

٣٤:- صعوبة تقيين الشراكة المصرية العربية يرتبط بجوانب .....

سياسة اجتماعية	ج	اقتصادية اجتماعية
سياسية اقتصادية	د	اقتصادية ثقافية

٣٥:- يرتبط معظم الوردات المصرية من الخارج بسبب

الزيادة الطبيعية	ج	نقص العمالة
نقص المادة الخام	د	نقص راس المال

٣٦:- المتحكم الرئيسي في التعاملات التجارية بين مصر و الاتحاد الاوربي هو.....

اتفاقيات الشراكة	ج	سهولة المواصلات
عامل الجودة	د	قلة التكلفة

٣٧:- زيادة الميزان التجارى في يتماشي طرديا مع .....

زيادة الطبيعية	ج	زيادة الوردات
زيادة الصادرات	د	زيادة الغير طبيعية

٣٨:- عجز الميزان التجارى في مصر يتماشي عكسيا مع .....

زيادة الطبيعية	ج	زيادة الوردات
زيادة الصادرات	د	زيادة عدد الهجرة الغير طبيعية

٣٩:- يخدم الجسر بحرى بين مصر والسعودية اذا ما انشاءه .....

دولة واحدة	ج	٣ دول
دولتان	د	اربع دول

٤٠:- يرجع صعوبة التوسع انشاء سكك الحديدية على امتداد شبة جزيرة سيناء بسبب .....

عامل التضاريس	ج	التوسع في النقل الجوى
الايوضاع السياسية	د	قلة الاهمية الاقتصادية

٤١ :- أكثر المناطق استفادة من انشاء قناة السويس الجديدة .....

الخليج العربي وجنوب شرق اسيا	Ⓐ	شمال الوطن العربي	Ⓐ
وسط اسيا	Ⓑ	وسط افريقيا	Ⓑ

٤٢ :- السبب الرئيسي فى انخفاض الدخل القومى فى مصر .....

زيادة الطبيعية	Ⓐ	نقص الموارد الاقتصادية	Ⓐ
زيادة الصادرات	Ⓑ	زيادة الغير طبيعية	Ⓑ

٤٣ :- يمكن زيادة حجم التجارة الخارجية فى مصر عن طريق .....

توفير المواد الخام فى مجال الصناعة	Ⓐ	الاهتمام بالبيئة التحتية	Ⓐ
اهتمام بالانتاج الزراعى	Ⓑ	الاهتمام بالنشاط السياحة	Ⓑ

٤٤ :- العلاقات التجارية التى يجب ان تهتم مصر بتنميتها مع .....

الاتحاد الاوربي	Ⓐ	الولايات المتحدة الامريكية	Ⓐ
الدول العربية	Ⓑ	الدول الاسيوية والافريقية	Ⓑ

٤٥ :- وسائل النقل المواصلات الاكثر ارتباطا بانتعاش الحياة الاقتصادية فى مصر .....

النقل المائي	Ⓐ	النقل الجوي	Ⓐ
النقل بالسكك الحديدية	Ⓑ	النقل البري	Ⓑ

٤٦ :- المؤشر الحقيقى لقياس والتعرف على قوة اقتصاد اى دول يعتمد على .....

حجم التعاملات التجارية	Ⓐ	الموارد الطبيعية	Ⓐ
زيادة اعداد السكان	Ⓑ	هجرة السكان الى الخارج	Ⓑ

## ٣ السياحة ومصر وتحديات الاقتصاد المصري

اختر الاجابة الصحيحة من بين الخيارات التالية

١ :- يفضل السائحون القادمين من الدول العربية الى مصر التوجه الى زيارة .....

الازهر الشريف	Ⓐ	الاهرامات	Ⓐ
عين السيلين	Ⓑ	سيدى عبدالرحمن	Ⓑ

٢ :- تصنف زيارة مناطق الواحات الخارجة والبحرية فى مصر بـ

السياحة العلاجية	Ⓐ	سياحة مؤتمرات	Ⓐ
السياحة الدينية	Ⓑ	سياحة ترفيهية	Ⓑ

٣ :- تصنف زيارة الازهر الشريف والكنيسة المعلقة من ضمن .....

السياحة العلاجية	Ⓐ	سياحة مؤتمرات	Ⓐ
السياحة الدينية	Ⓑ	سياحة ترفيهية	Ⓑ

٤ :- من اهم المعالم السياحية السهم المشار الى .....

عين السيلين	Ⓐ	سيدى عبدالرحمن	Ⓐ
تونا الجبل	Ⓑ	العلمين	Ⓑ

٥ :- اقرب المعالم السياحية القريبة من ثنية قنا .....

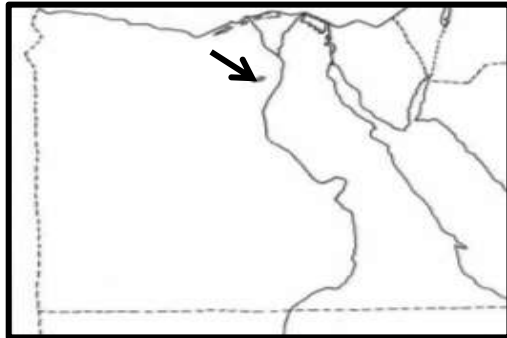
عين السيلين	Ⓐ	معبد هيبس	Ⓐ
تونا الجبل	Ⓑ	مقبرة شندى	Ⓑ

٦ :- من اهم المعالم السياحية تقع بالقرب من هضبة مارمريكا .....

عين السيلين	Ⓐ	العلمين	Ⓐ
آثار ميدوم	Ⓑ	قلعة صلاح الدين	Ⓑ

٧ :- التعاون مع دول حوض النيل يمكن من خلالها احد مشكلات الناتجة عن الزيادة السكانية وهى .....

نقص نصيب الفرد من المياه	Ⓐ	هجرة العقول	Ⓐ
نقص الغذاء	Ⓑ	العشوائيات	Ⓑ





٨ :- عامل الاختلاف بين السياحة فى الواحات الصحراء الغربية وشبة جزيرة سيناء فى .....

وجود معالم أثرية	ج	ممارسة سياحة السفارى
انتشار السياحة العلاجية	د	امتداد الشعاب المرجانية

٩ :- اقرب المناطق التى يمكن ان نطلق عليها مصر الصغرى فى مجال السياحة .....

ساحل مصر الشمالى	ج	صعيد مصر
شبة جزيرة سيناء	د	الواحات البحرية

١٠ :- توجد علاقة طردية بين تحسن الاقتصاد المصرية و.....

زيادة اعداد السكان	ج	زيادة جودة الانتاج
وزيادة الديون الخارجى	د	زيادة الاضطراب الداخلية

١١ :- يتاثر الاقتصاد المصرى سلبيا ب.....

زيادة الصادرات	ج	بالهجرة الوافدة
تقليل نسبة الاستهلاك	د	جودة الانتاج

١٢ :- تصنف زيارة ساحل البحر الاحمر ضمن .....

السياحة العلاجية	ج	سياحة مؤتمرات
السياحة الشاطئية	د	السياحة الدينية

١٣ :- اهم انواع السياحة انتشاراً فى الصحارى المصرية سياحة .....

السياحة العلاجية	ج	سياحة السفارى
السياحة الشاطئية	د	سياحة ترفيهية

١٤ :- تتشابه زيارة السائحين اهرامات الجيزة وزيارة معبد ابى سمبل فى وجود مقومات الجذب السياحى .....

التنوع الاجتماعى	ج	المناخ
نهر النيل	د	الموقع الجغرافى

١٥ :- العامل المشترك فى مقومات الجذب السياحى لزيارة السائحين العرب ساحل البحر الاحمر والساحل مصر الشمالى .....

التنوع الاجتماعى	ج	المناخ
نهر النيل	د	التراث الحضارى

١٦ :- العامل المشترك في مقومات الجذب السياحي لزيارة السائحين شبة جزيرة سيناء والبحر الاحمر .....

١	التنوع الاجتماعي	ج	البيئة الطبيعية
ب	التسهيلات السياحية	د	المناخ

١٧ :- الصورة المقابلة احدهما صورة مقابرالمزوقة والاخرى لجزيرة فرعون احد المعالم السياحية على خليج العقبة .....  
يمثلان احد المقومات السياحية هو .....



١	التنوع الاجتماعي	ج	التسهيلات السياحية
ب	البيئة الطبيعية	د	التراث الحضاري

١٨ :- زيارة السائحين المناطق الساحلية والصحراوي يمثلان احد المقومات السياحية هو .....

١	التنوع الاجتماعي	ج	التسهيلات السياحية
ب	البيئة الطبيعية	د	التراث الحضاري

١٩ :- تنشر سياحة السفاري في مصر متأثرة بمقومات الجذب السياحي وهو .....

١	التنوع الاجتماعي	ج	التسهيلات السياحية
ب	البيئة الطبيعية	د	التراث الحضاري

٢٠ :- زيارة المناطق السياحية في الاقصر واسوان يمثلان احد مقومات السياحة وهو .....

١	التنوع الاجتماعي	ج	التسهيلات السياحية
ب	البيئة الطبيعية	د	التراث الحضاري

٢١ :- كشف محمد فاروق، رئيس لجنة السياحة الإلكترونية بغرفة شركات السياحة عن زيادة كبيرة في الحركة السياحية الوافدة الى مصر خاصا السعوديون الى مدينة دهب على الخليج العقبة ( في ضوء العبارة السابقة المقوم الرئيسي الاكثر تأثيراً في زيادة كبيرة في أعداد السياح العرب في السنوات الاخير خاصا السعوديون هو .....

١	المناخ	ج	التسهيلات السياحية
ب	الموقع الجغرافي	د	التراث الحضاري

٢٢ :- اقرب المناطق السياحية في مصر القريبة من الاردن .....

١	دير سانت كاترين	ج	سيدى عبدالرحمن
ب	قلعة صلاح الدين	د	آثار ميدوم

٢٤ :- السبب الرئيسي زيادة معدلات الاستهلاك المصريين من السلع والمنتجات .....

١	زيادة الديون	ج	عدم الاستقرار
ب	عدم جوده المنتجات	د	عودة العاملين



٢٥ :- امامك صورة من ساحل القصير على البحر الاحمر

العامل الاكثر تأثيراً في الجذب السياحي في الصورة المقابلة .....

أ	التراث الحضاري	ج	البيئة الطبيعية
ب	الموقع الجغرافي	د	التنوع الاجتماعي

٢٦ :- للتعرف عن امكانية انشاء العديد من مشروعات المترتبط بالفزل والنسيج فاننا

يمكن الاستعانة باحد التقنيات الحديثة وهو .....

أ	المرييات الفضائية	ج	نظم المعلومات الجغرافية
ب	التصوير الجوي	د	الاستشعار عن بعد

٢٧ :- توجد علاقة طردية بين زيادة استهلاك من السلع والمنتجات و.....

أ	زيادة الديون الخارجية	ج	زيادة الاضطراب الداخلية
ب	زيادة معدلات المواليد	د	زيادة الغير طبيعية

٢٨ :- الشعار المقابل احد الوسائل الاعلامية التي تلجا اليها الدولة لمواجهة تحديات الاقتصاد المصري .....



أ	انخفاض مستوى التقنيات	ج	زيادة استهلاك من السلع والمنتجات
ب	زيادة الديون الخارجية	د	عدم الاستقرار السياسي

٢٩ :- من اشهر العيون المائية في القاهرة .....

أ	عين السليبين	ج	عين حلوان
ب	عيون موسى	د	كيفارة

٣٠ :- يتشابة زيارة السياحيين لشرم الشيخ ومحمية الصحراء البيضاء يمثلان احد المقومات السياحية هو .....

أ	التراث الحضاري	ج	البيئة الطبيعية
ب	الموقع الجغرافي	د	التنوع الاجتماعي

٣١ :- زيارة معبد ابوسمبل و اهرامات الجيزة يمثلان احد المقومات السياحية هو .....

أ	التراث الحضاري	ج	البيئة الطبيعية
ب	الموقع الجغرافي	د	التنوع الاجتماعي

٣٢ :- يعد انشاء العديد من الكليات و معاهد السياحة يمثلان احد المقومات السياحية وهو .....

أ	التراث الحضاري	ج	البيئة الطبيعية
ب	التسهيلات السياحية	د	التنوع الاجتماعي

٣٣:- القسم الوحيد في مصر الذي يخلو من ممارسة سياحة السفارى هو .....

أ	الصحراء الغربية	ج	شبة جزيرة سيناء
ب	الصحراء الشرقية	د	وادي النيل والدلتا

٣٤:- التحدى الاكبر الذى يعوق احداث نهضة اقتصاديه فى اى دولة هو .....

أ	دعم السياحة وتشجيعها	ج	التوسع في استخدام نظم المعلومات
ب	الاهتمام بالعمالة المصرية	د	العمل على استقرار الاوضاع السياسية

٣٥:- مقومات الجذب السياحى فى شبة جزيرة سيناء تتشابه مع مقومات الجذب السياحى فى .....

أ	صعيد مصر	ج	البحر الاحمر
ب	الوادي والدلتا	د	الساحل الشمالى

٣٦:- الاكثر تاثير فى الجذب السياحى لمنطقة شبة جزيرة سيناء .....

أ	التراث الحضارى	ج	البيئة الطبيعية
ب	الموقع الجغرافى	د	التنوع الاجتماعى

٣٧:- العامل الاكثر تاثير فى الجذب السياحى لمنطقة صعيد مصر .....

أ	التراث الحضارى	ج	البيئة الطبيعية
ب	الموقع الجغرافى	د	التنوع الاجتماعى

٣٨:- العامل الاكثر تاثير فى الجذب السياحى لمنطقة الساحل الشمالى .....

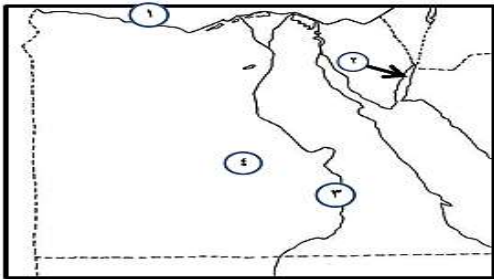

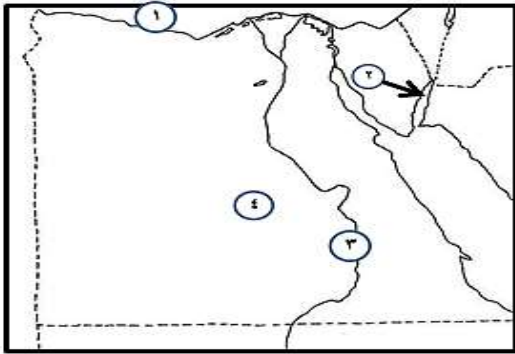
أ	النقل	ج	المناخ
ب	الموقع الجغرافى	د	التنوع الاجتماعى

٣٩:- العامل الاكثر تاثير فى الجذب السياحى لمنطقة الواحات فى الصحراء الغربية .....

أ	النقل	ج	المناخ
ب	الموقع الجغرافى	د	البيئة الطبيعية

٤٠:- اى المناطق التالية يفضلها السائحون العرب .....

أ	اقليم مريوط	ج	ساحل البحر الاحمر
ب	صعيد مصر	د	اقليم مريوط



(ب)



(أ)

٤ ١ :- الصورة المقابلة تعبر عن احد مقومات الجذب السياحي هو .....

١	التراث الحضاري	ج	البيئة الطبيعية
ب	الموقع الجغرافي	د	التنوع الاجتماعي

٤ ٢ :- الصورة المقابلة تعبر عن احد مقومات الجذب السياحي هو .....

١	التراث الحضاري	ج	البيئة الطبيعية
ب	الموقع الجغرافي	د	التنوع الاجتماعي

٤ ٣ :- افضل المناطق التي يفضلها الاوربيين زيارتها بهدف العلاج .....

١	١	ج	٣
ب	٢	د	٤

٤ ٤ :- الصورة المقابلة تعبر عن احد مقومات الجذب السياحي هو .....

١	التراث الحضاري	ج	البيئة الطبيعية
ب	الموقع الجغرافي	د	التنوع الاجتماعي

٤ ٥ :- اي من الارقام المشار اليها في الخريطة رقم (ب) ترتبط بالصورة رقم (أ)

١	أ
٢	ب
٣	ج
٤	د

٤ ٦ :- تشتهر منطقة اقليم مريوط بانتشار .....

أ	العيون المائية	ج	المنتجعات السياحية
ب	الشعاب المرجانية	د	الادوية الجافة





٤٧ :- الشكل المقابل يرتبط بالسياحة .....

الشاطئية	أ
العلاجية	ب
السفاري	ج
الثقافية	د



٤٨ :- الصورة المقابلة من كاتدرائية بالعاصمة الإدارية الجديدة  
مسجد الفتاح العليم ترتبط تلك الصورة بالسياحة

الشاطئية	أ
الدينية	ب
المؤتمرات	ج
الثقافية	د



٤٩ :- الصورة المقابلة تعبر عن احد مقومات الجذب السياحي هو .....

البيئة الطبيعية	ج	التراث الحضاري	أ
التنوع الاجتماعي	د	الموقع الجغرافي	ب

٥٠ :- السياحين المصابين والأمراض الروماتيزمية والجلدية يمكن الاستفادة بالعلاج من خلال زيارتهم منطقة .....

الاقصر	ج	الاسكندرية	أ
المنيا	د	الوادي الجديد،	ب