

رسالة مراجعة عامة

في الدراسات الاجتماعية للصف الثامن

مدرسة ذكور ملكة البحرين الإعدادية للأجانب

إعداد

المعلم / فؤاد محمود سلمان

متابعة

مدير المدرسة / أ. نايض الحطاب

المدير المساعد / أ. أحمد الخصري

الفصل الأول

٢٠١٩ - ٢٠٢٠

أسئلة على الوحدة الأولى رحلة في الوطن العربي من صفحة (٢) إلى صفحة (٥٥)

الدرس الأول :- موقع الوطن العربي من صفحة (٤) إلى صفحة (١١)

- السؤال الأول : ضع علامة (صح) أمام العبارة الصحيحة وعلامة (خطأ) أمام العبارة الخاطئة :-
- ١- () يمتد الوطن العربي من المحيط الأطلسي غرباً حتى الخليج العربي وبحر العرب شرقاً .
 - ٢- () يمر خط الاستواء في دولة تونس .
 - ٣- () يقع الوطن العربي بين خطي طول ١٧ غرب خط جرينتش إلى ٦٠ شرق خط جرينتش .
 - ٤- () الحدود بين الدول العربية حدود سياسية اصطناعية .
 - ٥- () يقع في الجناح الآسيوي ٧٧ % من مساحة الوطن العربي .
 - ٦- () تعرض الوطن العربي في العصور القديمة للاحتلال الأوروبي .

السؤال الثاني : اختر الإجابة الصحيحة مما بين القوسين :-

- ١- يقع الوطن العربي في قارتي (آسيا وأفريقيا - آسيا وأوروبا - أفريقيا وأوروبا)
- ٢- يفصل بين قارتي آسيا وأفريقيا البحر (المتوسط - الأحمر - الأسود)
- ٣- يمتد الوطن العربي بين دائرتي عرض (٢ جنوباً إلى ٣٧.٥ شمالاً - ١٧ جنوباً إلى ٦٠ شمالاً - ٣٧.٥ جنوباً إلى ٢ شمالاً)
- ٤- تقع بين مدغشقر وساحل تنزانيا (الصومال - جيبوتي - جزر القمر)
- ٥- كل ما يلي يحد الوطن العربي من الجنوب ما عدا (المحيط الهندي - المحيط الأطلسي - الصحراء الكبرى)
- ٦- واحد من المسطحات المائية التالية يحد الوطن العربي من الغرب (المحيط الهندي - الخليج العربي - المحيط الأطلسي)
- ٧- جبال زاغروس والخليج العربي وخليج عمان يحدان الوطن العربي من جهة (الشرق - الغرب - الشمال)
- ٨- كل ما يلي دول عربية في قارة آسيا ما عدا (السعودية والعراق - ليبيا والمغرب - فلسطين وسوريا)
- ٩- تبلغ مساحة الوطن العربي حوالي (١١٤ مليون كم^٢ - ١٠ مليون كم^٢ - ١٤ مليون كم^٢)
- ١٠- أصغر الدول العربية مساحة دولة (البحرين - السودان - فلسطين)
- ١١- تشكل جبال طوروس حدود طبيعية بين الوطن العربي ودولة (تركيا - إيران - تشاد)
- ١٢- يصل بين الخليج العربي وخليج عمان مضيق (هرمز - باب المندب - جبل طارق)

السؤال الثالث : صحح ما تحته خط :-

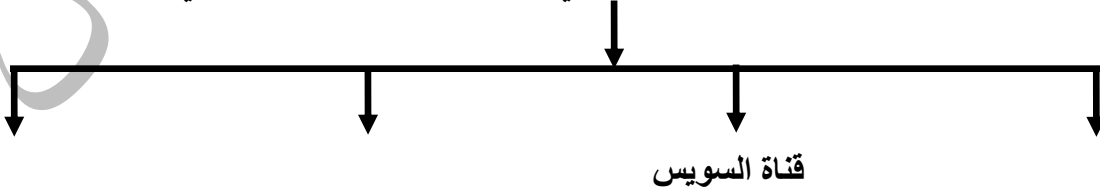
- ١- يمر خط جرينتش في دولة مصر
- ٢- يحد الوطن العربي من الشمال البحر المتوسط وجبال زاغروس
- ٣- تعد دولة الجزائر أكبر الدول العربية مساحة

السؤال الرابع : أكتب المصطلح العلمي :-

- ١- () منطقة جغرافية تمثل موطن الأمة العربية وتشمل جميع الدول الأعضاء في الجامعة العربية .
- ٢- () دائرة العرض الرئيسية ودرجتها صفر .
- ٣- () خط الطول الرئيسي ودرجته صفر .
- ٤- () الحدود التي تفصل بين الوطن العربي والدول المجاورة وتتمثل بالمظاهر الطبيعية مثل الجبال .
- ٥- () حدود تفصل بين دول الوطن العربي وتكون عبارة عن أسلاك شائكة أو أعمدة إسمنتية .

السؤال الخامس : أكمل الخريطة المفاهيمية التالية :-

الممرات المائية والمضائق التي يشرف عليها الوطن العربي



السؤال السادس : برهن على أن :-

١. الوطن العربي كان مطمعاً للاستعمار منذ القدم .

الإجابة :

السؤال السابع : بم تفسر :-

١ - أهمية خطوط الطول ودوائر العرض .

السبب /

٢ - أهمية الموقع الجغرافي للوطن العربي .

السبب /

٣ - تعد السودان من الدول العربية الفقيرة على الرغم من اتساع مساحتها وغناها بالموارد الطبيعية .

السبب /

٤ - أهمية الوطن العربي التاريخية والحضارية .

السبب /

٥ - محاولة الدول الاستعمارية السيطرة على الوطن العربي . عبر العصور .

السبب /

السؤال الثامن : ما النتيجة المترتبة على :-

١ - الحدود الطبيعية التي تفصل الوطن العربي عما يجاوره .

النتيجة /


٢ - اتساع مساحة الوطن العربي .

النتيجة /

٣ - موقع الوطن العربي .

النتيجة /

السؤال التاسع : وصل الموقع الأثري بالدولة التي يوجد بها :-



الكعبة المشرفة

١. فلسطين

()



كنيسة المهد

٢. مصر

()



مدينة البتراء

٣. السعودية

()

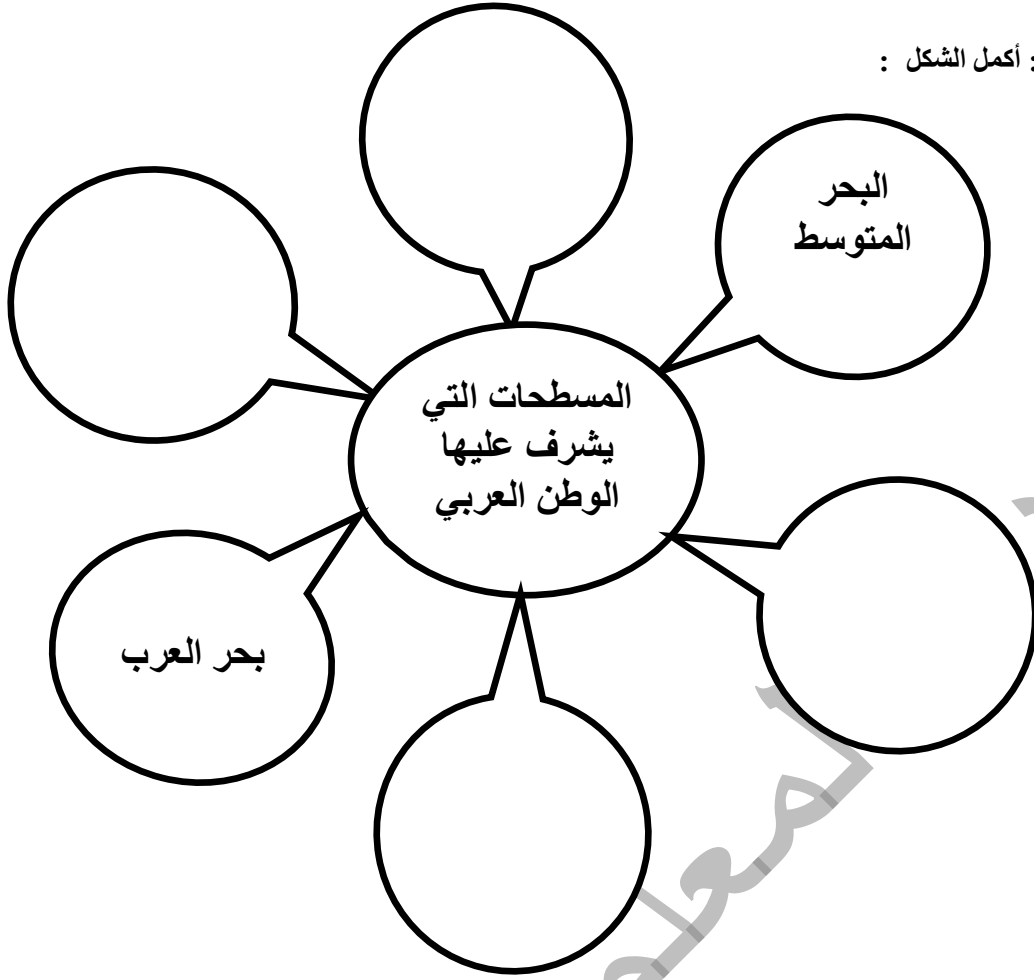


الأهرامات

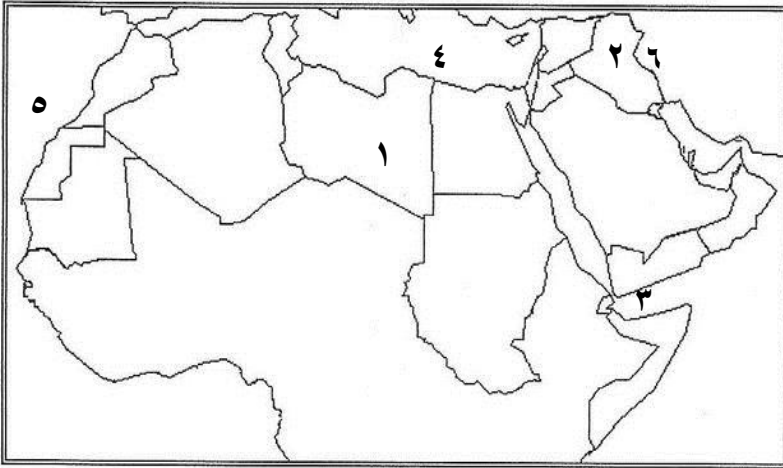
٤. الأردن

()

السؤال العاشر : أكمل الشكل :



السؤال الحادي عشر : أمامك خريطة الوطن العربي أكتب ما تشير إليه الأرقام :-



١. دولة : _____
٢. دولة : _____
٣. مضيق : _____
٤. البحر : _____
٥. المحيط : _____
٦. جبال : _____

أسئلة على الوحدة الأولى رحلة في الوطن العربي من صفحة (٢) إلى صفحة (٥٥)

الدرس الثاني :- تضاريس الوطن العربي من صفحة (١٢) إلى صفحة (٢٠)

السؤال الأول : ضع علامة (صح) أمام العبارة الصحيحة وعلامة (خطأ) أمام العبارة الخاطئة :-

- ١- () شكلت تضاريس الوطن العربي عائناً أمام وحدته .
- ٢- () تنتشر الجبال في مناطق متفرقة من الوطن العربي .
- ٣- () كانت أرض الوطن العربي عبارة عن هضبة واحدة سابقاً .
- ٤- () تمتد هضبة الصحراء الكبرى من المحيط الأطلسي غرباً إلى جبال البحر الأحمر شرقاً .
- ٥- () تعد هضبة شبه الجزيرة العربية أوسع صحاري العالم .
- ٦- () يوجد بحر الرمال العظيم بين مصر وليبيا .
- ٧- () يوجد جبل العوينات على الحدود المصرية السودانية الليبية .

السؤال الثاني : اختر الإجابة الصحيحة مما بين القوسين :-

- ١- المظهر الرئيسي الذي يغلب على الوطن العربي (الجبال - الهضاب - السهول)
- ٢- كل ما يلي جبال التوائية في الوطن العربي ما عدا (جبال البحر الأحمر - جبال أطلس - جبال زاغروس)
- ٣- من الجبال الانكسارية في الوطن العربي (جبال أطلس - جبال عُمان - جبال بلاد الشام)
- ٤- أعلى قمة جبلية في الوطن العربي (جبل طوبقال - جبل الجرمق - جبل الشايب)
- ٥- يمتد أخدود البحر الأحمر في (غور الأردن - سوريا ولبنان - جميع ما ذكر)
- ٦- كل ما يلي من هضاب هضبة شبه الجزيرة العربية ما عدا (هضبة حضرموت - هضبة الشطوط - هضبة نجد)
- ٧- تعد جزء من هضبة الصحراء الأفريقية هضبة (الشطوط - بادية الشام - نجد)
- ٨- من التكوينات الرملية في الوطن العربي (صحراء النفوذ - صحراء الربع الخالي - الاثنان معاً)
- ٩- يوجد الجبال الأخضر في (مصر - ليبيا - المغرب)
- ١٠- توجد في ليبيا واحة (الكفرة - عين صالح - سيوة)
- ١١- كل ما يلي من أودية فلسطين ما عدا (وادي الخليل - وادي غزة - وادي العلاقي)
- ١٢- كل ما يلي من مميزات السهول الفيضية ما عدا (تربة خصبة - ارتفاع الكثافة السكانية - قلة المياه)
- ١٣- من السهول الداخلية سهل (مرج بن عامر - قباطية - الاثنان معاً)

السؤال الثالث : صحح ما تحته خط :-

- ١- يوجد وادي العلاقي في تونس
- ٢- نتج بحر الرمال العظيم نتيجة للتعرية المائية
- ٣- تكون أخدود البحر الأحمر نتيجة لحركات التوائية
- ٤- توجد هضبة الصحراء الكبرى في الجناح الآسيوي
- ٥- يوجد في دولة السعودية وادي الخليل
- ٦- توجد في الجزائر واحة الكفرة

السؤال الرابع : اختر من المجموعة (أ) ما يناسبها من المجموعة (ب) :-

- | (أ) | (ب) |
|--------------------------------|-------------------|
| الظاهرة | الدولة |
| ١. سهول نهر النيل في | () المغرب |
| ٢. سهول نهري دجلة والفرات في | () فلسطين |
| ٣. سهول نهري المقطع والعوجا في | () مصر |
| ٤. سهول نهر الملوية في | () الصومال |
| ٥. سهول نهري جوبا وشبيلي في | () سوريا والعراق |

السؤال الخامس : ما النتيجة المترتبة على :-

- ١- حدوث الانكسارات والالتواءات .

النتيجة /

- ٢- تكون أخدود البحر الأحمر .

النتيجة /

السؤال السادس : أكتب المصطلح العلمي :-

- ١- () هي حركات باطنية كبرى أدت إلى تكوين سلاسل جبلية مرتفعة .
- ٢- () هي حركات باطنية تعرضت لها الصخور الصلبة فأدت إلى ارتفاع بعضها وانخفاض بعضها .
- ٣- () حمم تخرج من باطن الأرض أدت إلى تكون جبال وهضاب .
- ٤- () تتمثل في نحت المياه للصخور وإرسابها وينتج عنها الأودية الجافة .
- ٥- () تتمثل في نحت الرياح للصخور وإرسابها وينتج عنها أشكال متعددة كالكثبان الرملية .
- ٦- () تجمعات رملية صحراوية مختلفة الأشكال والأحجام كالكثبان الرملية .
- ٧- () منخفضات خضراء وسط الصحراء .
- ٨- () أودية تجري فيها المياه في موسم الأمطار فقط .
- ٩- () سهول تمتد على طول سواحل المسطحات المائية .
- ١٠- () سهول كونتها الأنهار عن طريق ترسيب المواد العالقة بمياهها وتمتد على ضفاف الأنهار .
- ١١- () سهول تنحصر بين الجبال .

السؤال السابع : بم تفسر :-

١- أهمية جبال الوطن العربي .

السبب /

٢- وجود جبل في كل من سلطنة عُمان وليبيا يسمى بالجبل الأخضر .

السبب /

٣- أهمية السهول الساحلية في الوطن العربي .

السبب /

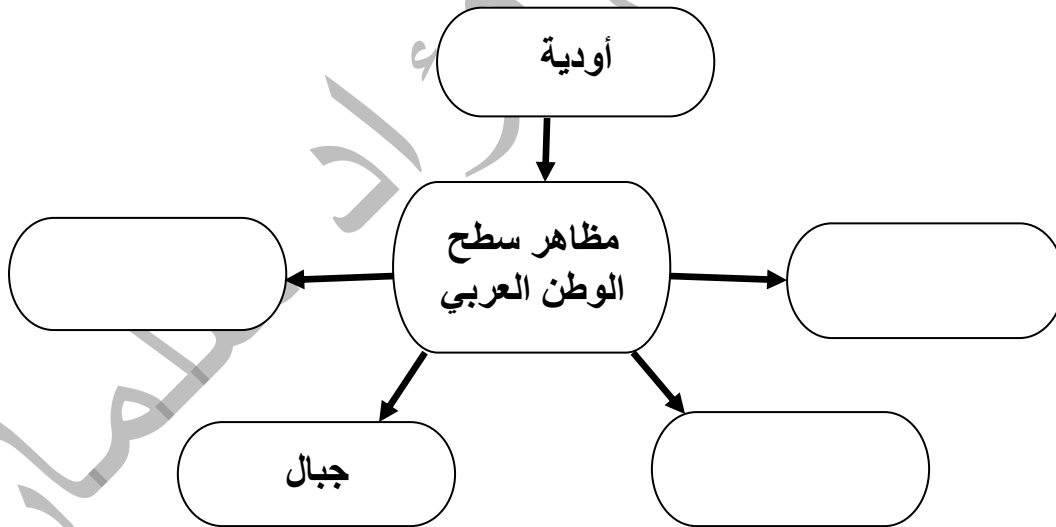
٤- تسمية صحراء الربع الخالي بهذا الاسم .

السبب /

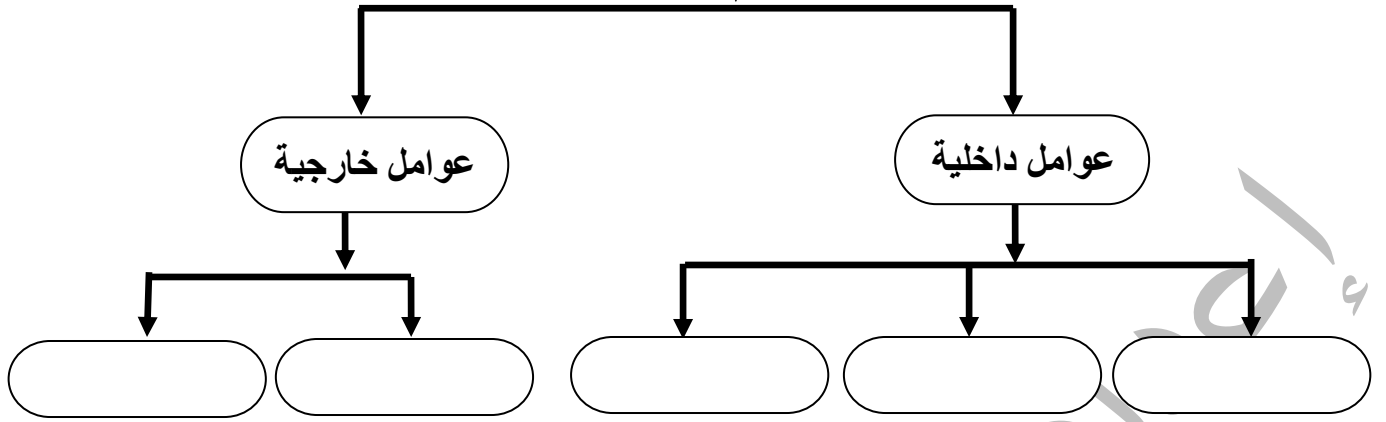
٥- خصوبة تربة السهول الفيضية .

السبب /

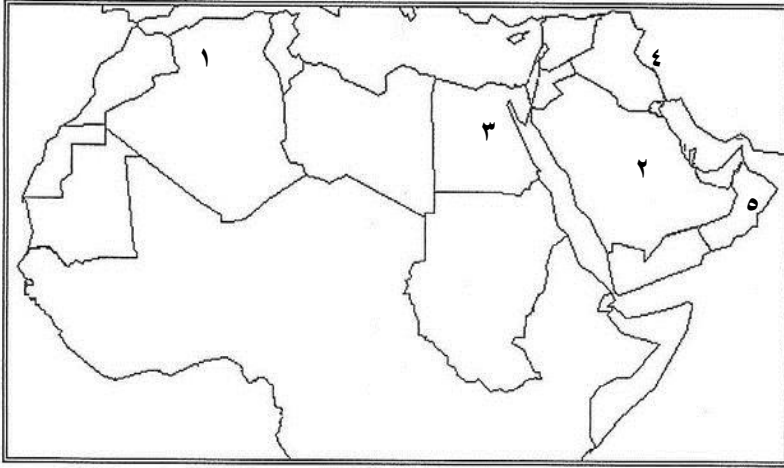
السؤال الثامن : (أ) أكمل الشكل :



السؤال التاسع : أكمل الخارطة المفاهيم التالية :-
عوامل تشكيل تضاريس سطح الأرض



السؤال العاشر : (أ) أمامك خريطة الوطن العربي أكتب ما تشير إليه الأرقام :-



- ١ - جبال -----
- ٢ - هضبة -----
- ٣ - سهول نهر -----
- ٤ - جبال -----
- ٥ - جبال -----

أسئلة على الوحدة الأولى رحلة في الوطن العربي من صفحة (٢) إلى صفحة (٥٥)

الدرس الثالث :- المناخ في الوطن العربي من صفحة (٢١) إلى صفحة (٢٨)

السؤال الأول : ضع علامة (صح) أمام العبارة الصحيحة وعلامة (خطأ) أمام العبارة الخاطئة :-

- ١- () يؤدي انخفاض درجات الحرارة شتاءً إلى سرعة نمو الحاصلات الزراعية .
- ٢- () تنخفض درجات الحرارة في معظم أنحاء الوطن العربي صيفاً .
- ٣- () يختلف المناخ من منطقة إلى أخرى في الوطن العربي .
- ٤- () ترتفع درجة الحرارة كلما ابتعدنا عن خط الاستواء شمالاً في الوطن العربي .
- ٥- () معظم أراضي الوطن العربي تقع ضمن المنطقة المدارية الحارة .
- ٦- () ترتفع درجات الحرارة كلما ابتعدنا عن المسطحات المائية .
- ٧- () ترتفع درجة الحرارة كلما ارتفعنا إلى أعلى .
- ٨- () تمتاز جبال أطلس وبلاد الشام بانخفاض حرارتها ووفرة أمطارها وتلوجها شتاءً واعتدال حرارتها صيفاً .
- ٩- () الجبال المواجهة لهبوب الرياح أكثر مطراً من الواقعة في ظل المطر .
- ١٠- () مناخ البحر المتوسط يمتاز بأنه حار جاف شتاءً ومعتدل ممطر صيفاً .
- ١١- () يمتد الإقليم الصحراوي وشبه الصحراوي شمال إقليم البحر المتوسط .
- ١٢- () يمتاز المناخ الصحراوي وشبه الصحراوي بأنه حار صيفاً بارد ممطر شتاءً .
- ١٣- () المناخ الاستوائي شديد الحرارة ممطر طول العام .

السؤال الثاني : اختر الإجابة الصحيحة مما بين القوسين :-

- ١- تتساقط الأمطار الموسمية على المناطق التالية ما عدا (السودان – فلسطين – اليمن)
- ٢- تسقط الأمطار على جبال أطلس ومرتفعات بلاد الشام في فصل (الشتاء – الصيف – الربيع)
- ٣- كل من المسطحات التالية يتوغل كثيراً في يابس الوطن العربي ما عدا (البحر الأحمر – الخليج العربي – البحر المتوسط)
- ٤- أكثر الأقاليم المناخية امتداداً في الوطن العربي الإقليم (الصحراوي – الاستوائي – المداري)
- ٥- الدولة العربية التي لا يوجد فيها صحاري هي دولة (فلسطين – لبنان – عُمان)
- ٦- إقليم أمطاره في فصل الشتاء وتكون قليلة وغير منتظمة ونادرة إقليم (البحر المتوسط – الاستوائي – الصحراوي وشبه الصحراوي)
- ٧- جميع الدول التالية مناخ مداري موسمي ما عدا (اليمن وعمان – جنوب السودان – ليبيا)
- ٨- يمتاز المناخ ----- بأنه حار معظم أيام السنة وأمطاره صيفية إقليم (البحر المتوسط – المداري الموسمي – الاستوائي)

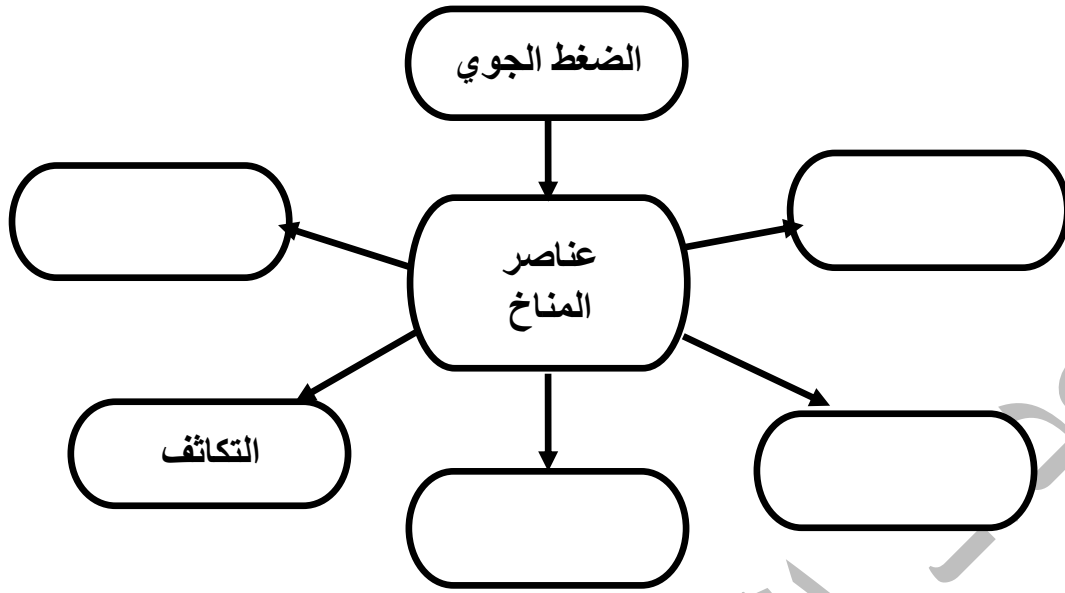
السؤال الثالث : صحح ما تحته خط :-

- ١- الجبال والأطراف الشمالية في الوطن العربي تقع ضمن المنطقة المدارية الحارة
- ٢- تتصف المناطق الساحلية بارتفاع درجة الحرارة في الصيف وانخفاضها في الشتاء
- ٣- جبال أطلس في بلاد المغرب والسفوح الغربية لبلاد الشام مناخ مداري موسمي
- ٤- تسقط الأمطار في الإقليم الاستوائي في فصل الشتاء

السؤال الرابع : أكتب المصطلح العلمي :-

- ١- (-----) حالة الجو خلال فترة زمنية قصيرة في منطقة محددة .
- ٢- (-----) حالة الجو خلال فترة زمنية طويلة لمنطقة واسعة .
- ٣- (-----) كمية بخار الماء التي يحملها الهواء .
- ٤- (-----) وزن عمود الهواء الواقع على وحدة المساحة .
- ٥- (-----) تحول بخار الماء في الجو من الحالة الغازية إلى الحالة الصلبة حيث يتساقط على شكل زغب من الريش.
- ٦- (-----) درجة سخونة جسم أو سطح ماء ويعبر عنها بالمقياس المنوي أو الفهرنهايتي .
- ٧- (-----) إقليم يتمثل في المناطق الشمالية من الوطن العربي .
- ٨- (-----) إقليم يسود في معظم أراضي الوطن العربي حتى أنه لا يخلو بلد عربي منه سوى لبنان .
- ٩- (-----) إقليم يشمل المناطق الواقعة جنوب الإقليم الصحراوي وشبه الصحراوي .
- ١٠- (-----) إقليم يمتد في أقصى جنوب السودان والصومال .

السؤال الخامس : أكمل الشكل :



السؤال السادس : بم تفسر :-

١ - يهتم الإنسان بمعرفة حالة الجو اليومية .

السبب /

٢ - تعد الأمطار المصدر الرئيسي للمياه على سطح الأرض .

السبب /

٣ - ترتفع درجة الحرارة في معظم أجزاء الوطن العربي في فصل الصيف .

السبب /

٤ - تنخفض درجات الحرارة شتاءً في معظم أجزاء الوطن العربي .

السبب /

٥ - اختلاف المناخ من منطقة إلى أخرى في الوطن العربي .

السبب /

٦ - سقوط الأمطار على مرتفعات فلسطين الغربية بكميات أكبر من الشرقية .

السبب /

٧ - لا يسود المناخ الصحراوي في دولة لبنان .

السبب /

٨ - اختفاء العديد من الحيوانات البرية في فلسطين .

السبب /

٩ - يقال أن الغابات رئة العالم .

السبب /

١٠ - ترتفع درجة الحرارة في المناطق الداخلية من الوطن العربي .

السبب /

السؤال السابع : ما النتيجة المترتبة على :-

١ - تشكل الصحاري في الأجزاء الداخلية من الوطن العربي .

النتيجة /

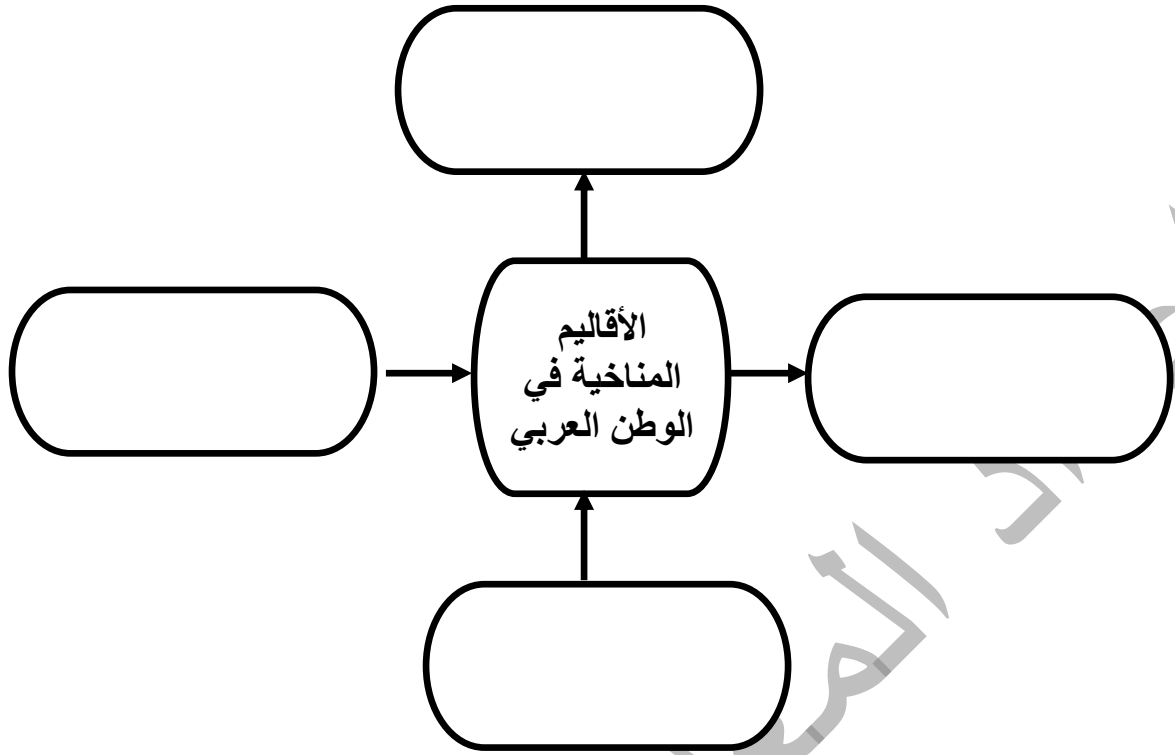
٢ - عدم توغل المسطحات المائية في يابس الوطن العربي .

النتيجة /

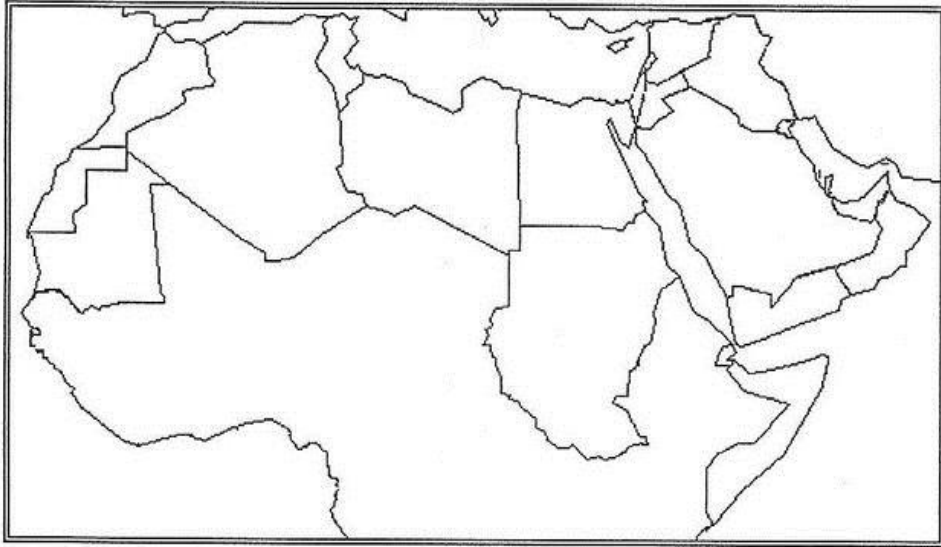
٣ - الصيد الجائر وقطع الأشجار .

النتيجة /

السؤال الثامن : أكمل الشكل :-



السؤال التاسع : أمامك خريطة الوطن العربي حدد عليها الأقاليم المناخية :-



أسئلة على الوحدة الأولى رحلة في الوطن العربي من صفحة (٢) إلى صفحة (٥٥)

الدرس الرابع :- السكان في الوطن العربي من صفحة (٢٩) إلى صفحة (٣٧)

السؤال الأول : ضع علامة (صح) أمام العبارة الصحيحة وعلامة (خطأ) أمام العبارة الخاطئة :-

- ١- () يشكل سكان الوطن العربي ما نسبته ٤.٥ % من سكان العالم .
- ٢- () تعاني دول الوطن العربي من نمو سكاني مع نمو اقتصادي بالدرجة نفسها .
- ٣- () أصبح التحدي العددي بين اليهود والفلسطينيين في فلسطين الخطر الذي يهدد وجود أغلبية يهودية في فلسطين .
- ٤- () قام الاحتلال الصهيوني بمذبحة في قرية لوبيا قضاء طبريا .
- ٥- () حق العودة للفلسطينيين لمدهم وقراهم من الثوابت الفلسطينية .
- ٦- () تعرف المجتمعات العربية بالمجتمعات الفتية أو الشابة .
- ٧- () ارتفاع نسبة صغار السن في الوطن العربي يؤدي إلى تنمية الموارد .
- ٨- () تتصف دول الوطن العربي بوجود عدد كبير من الاحتياطي في الأيدي العاملة في مجالات الانتاج الاقتصادي والخدمة العسكرية .
- ٩- () تشارك المرأة الفلسطينية مشاركة فاعلة في الثورة .
- ١٠- () يعيش المسيحيون جنباً إلى جنب مع المسلمين في فلسطين .
- ١١- () تعد العهدة العمرية نموذجاً للتمييز بين المسلمين والمسيحيين في فلسطين .
- ١٢- () تعد فلسطين مثلاً واقعياً للتعايش الاسلامي المسيحي .

السؤال الثاني : اختر الإجابة الصحيحة مما بين القوسين :-

- ١- بلغ عدد سكان الوطن العربي عام ٢٠١٥ حوالي (٣٧٤.٢ مليار نسمة - ٣٧٤.٢ مليون نسمة - ٣٧٤.٢ ألف نسمة)
- ٢- أقل دول الوطن العربي سكاناً دولة (جيبوتي - جزر القمر - الاثنين معاً)
- ٣- بلغ عدد الفلسطينيين في الداخل حوالي (٧.٤ مليون نسمة - ٤.٧ مليون نسمة - ٥.٧ مليون نسمة)
- ٤- يبلغ معدل النمو السكاني في الوطن العربي حوالي (٣ % - ٤ % - ٥ %)
- ٥- يبلغ معدل النمو السكاني في العالم حوالي (٨.١١ % - ١.١٨ % - ٢.١٨ %)
- ٦- قام الاحتلال الصهيوني بمذبحة قرية قضاء حيفا (دير ياسين - لوبيا - الطنطورة)
- ٧- كتب العهدة العمرية للمسيحيين في فلسطين الخليفة (عمر بن الخطاب - أبو بكر الصديق - علي بن أبي طالب)
- ٨- لجأ المقاومون عند اجتياح بيت لحم عام ٢٠٠٢ م إلى كنيسة (القيامة - المهدي - البشارة)

السؤال الثالث : صحح ما تحته خط :-

- ١- تعتبر السودان أعلى دول الوطن العربي سكاناً
- ٢- قام الصهاينة بمذبحة قرية الطنطورة في القدس
- ٣- ترتفع نسبة الذكور بسبب الهجرة الوافدة في دولة المغرب
- ٤- نسبة فئة الشباب في الوطن العربي تساوي ٣٦ %

السؤال الرابع : برهن على :-

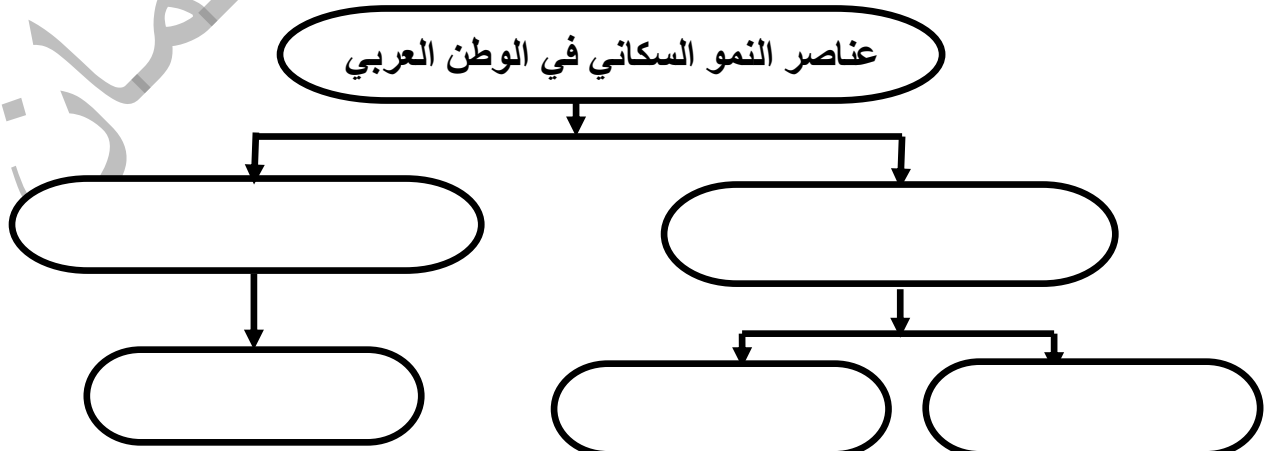
- ١- العوامل السياسية تلعب دوراً في النمو السكاني .

الإجابة /

- ٢- ارتفاع نسبة صغار السن في الوطن العربي تمثل عبأً على الدولة .

الإجابة /

السؤال الخامس : أكمل الخارطة المفاهيمية :-



السؤال السادس : أكتب المصطلح العلمي :-

- ١- (-----) تصنيف السكان حسب العمر .
- ٢- (-----) تصنيف السكان حسب الجنس .
- ٣- (-----) الفئة العمرية من سن ١٤ سنة فأقل وتمثل ٣٦ % من سكان الوطن العربي .
- ٤- (-----) الفئة العمرية من سن ١٥ حتى ٦٤ سنة وتمثل ٦٠ % من سكان الوطن العربي .
- ٥- (-----) الفئة العمرية من سن ٦٥ سنة فأكثر وتمثل ٤ % من سكان الوطن العربي .

السؤال السابع : بم تفسر :-

- ١- يعد قطاع غزة من أعلى مناطق العالم كثافة سكانية .

السبب /

- ## ٢ - ارتفاع معدل النمو السكاني في الوطن العربي .

السبب /

- ### ٣- قيام الاحتلال الصهيوني بالعديد من المجازر بحق القرى العربية .

السبب /

- ٤- ارتفاع نسبة الذكور في دول الخليج العربي .

السبب /

- ٥- وجود المخيمات الفلسطينية في غزة والضفة والدول العربية المجاورة .

السبب /

- ٦- لا يساهم جميع سكان الوطن العربي في النشاط الاقتصادي .

السبب /

- ٧- يقل الفرق في النسبة بين عدد الذكور وعدد الاناث كلما تقدم العمر .

السبب /

- ٨- ارتفاع نسبة الوفيات عند الذكور عنها بين الاناث .

السبب /

السؤال الثامن : أكتب مدلول العبارات الآتية في المربعات :-

- ١- التغير في عدد السكان خلال فترة زمنية محددة .

[illegible]

- ٢- الانتقال من مكان لآخر بهدف السكن والاقامة .

--	--	--	--	--	--

- ٣- عدد السكان مقسوماً على المساحة .

[illegible]

السؤال التاسع : ما النتيجة المترتبة على :-


- ١- الزيادة السنوية الكبيرة للسكان في الوطن العربي مع عدم نمو اقتصادي بالدرجة نفسها.

النتيجة /

- ٢- هجرة الذكور من الريف إلى المدينة بحثاً عن فرص عمل.

النتيجة /

السؤال العاشر : اكتب الفئات العمرية حسب النسب الموجودة على الشكل :-



أسئلة على الوحدة الأولى رحلة في الوطن العربي من صفحة (٢) إلى صفحة (٥٥)

الدرس الخامس :- الأنشطة الاقتصادية في الوطن العربي من صفحة (٣٨) إلى صفحة (٤٨)

السؤال الأول : ضع علامة (صح) أمام العبارة الصحيحة وعلامة (خطأ) أمام العبارة الخاطئة :-

- ١- () حرفة الرعي لا تكفي حاجة سكان الوطن العربي من الحيوانات .
- ٢- () على الرغم من تنوع الأنشطة الاقتصادية إلا أنها تتفاوت في حجمها من دولة إلى أخرى .
- ٣- () يسهم النشاط الزراعي بنسبة كبيرة في الدخل القومي وتشغيل الأيدي العاملة .
- ٤- () أدى اتساع المساحة الرعوية إلى قلة تربية الحيوانات .
- ٥- () عمل الاحتلال على إغراق الأسواق الفلسطينية بالمنتجات الوطنية .
- ٦- () حرم الاحتلال الصهيوني المنتجات الفلسطينية من المنافسة في الأسواق المحلية .
- ٧- () تعد فلسطين من الدول العربية المصدرة لحجارة البناء .
- ٨- () موقع الوطن العربي نقطة لقاء لطرق المواصلات العالمية برية وبحرية وجوية .
- ٩- () أهتمت الدول العربية حديثاً بإنشاء الطرق فيها .

السؤال الثاني : اختر الإجابة الصحيحة مما بين القوسين :-

- ١- يعمل معظم سكان السواحل في الوطن العربي بحرفة (الصيد - الصناعة - الزراعة)
- ٢- يمكن إبراز الوطن العربي كقوة اقتصادية مهمة في العالم من خلال تحقيق (الوحدة الوطنية - التكامل الاقتصادي - مصالح الدول العربية)
- ٣- كل ما يلي من مقومات الزراعة في الوطن العربي ما عدا (التربة الخصبة - قلة المياه - المناخ الملائم)
- ٤- تزرع في دول البحر المتوسط (الحبوب - الحمضيات - جميع ما ذكر)
- ٥- كل من الدول التالية يمارس حرفة صيد السمك بكثرة ما عدا (السودان - المغرب - موريتانيا)
- ٦- يمتلك الوطن العربي ما يقارب ----- من احتياطي النفط (٣٠ % - ٦٠ % - ٥٠ %)
- ٧- كل ما يلي من موانئ فلسطين ما عدا (حيفا - يافا - طنجة)
- ٨- يوجد مطار الملكة علياء في دولة (الأردن - الإمارات - سوريا)
- ٩- من أهم التحديات التي تواجه الزراعة في الوطن العربي (الهجرة من المدينة إلى الريف - تذبذب كميات الأمطار - ارتفاع إنتاجية الأرض)
- ١٠- من مناطق السياحة الدينية في فلسطين (قصر هشام - البحر الميت - قبة الصخرة)
- ١١- كل ما يلي من إجراءات الاحتلال الصهيوني ضد الفلسطينيين ما عدا (إغلاق الطرق - السيطرة على المعابر - تسهيل حركة التجارة)

السؤال الثالث : صحح ما تحته خط :-

- ١- تعد الصناعة من أقدم الأنشطة الاقتصادية في الوطن العربي
- ٢- تحتل الصناعة المرتبة الأولى في الوطن العربي من حيث المساهمة في تشغيل الأيدي العاملة
- ٣- تعد القطارات من أهم وسائل النقل في الوطن العربي
- ٤- أدى إشراف الوطن العربي على جهات بحرية طويلة إلى إنشاء المطارات
- ٥- من مطارات دولة الإمارات العربية مطار المملكة علياء

السؤال الرابع : صنف الصناعات التالية إلى تقليدية أو حديثة :-

(السجاد - بتروكيماويات - استخراجية - الزجاج - الورق - الفخار)

صناعات حديثة	صناعات تقليدية

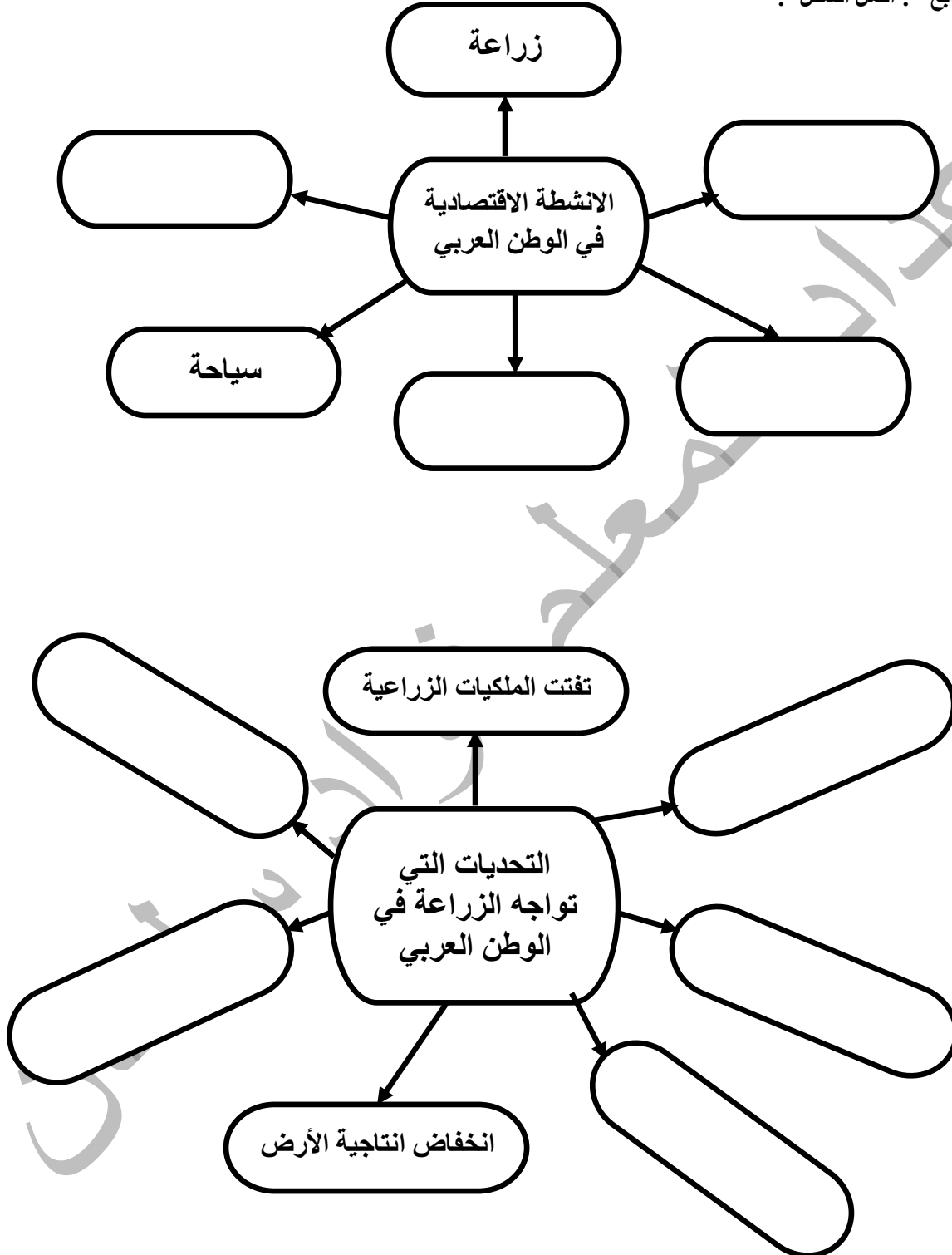
السؤال الخامس : أختَر من المجموعة (أ) ما يناسبها من المجموعة (ب) :-

- | | |
|------------|-----------------|
| (أ) | (ب) |
| الدولة | المعلم السياحي |
| ١- المغرب | () صرح الشهيد |
| ٢- الجزائر | () البحر الميت |
| ٣- العراق | () مدينة فاس |
| ٤- فلسطين | () الأهرامات |
| ٥- مصر | () حدائق بابل |

السؤال السادس : أكتب المصطلح العلمي :-

- ١- (.....) تحويل المواد الخام المستخرجة إلى سلع مصنعة .
- ٢- (.....) زيارة الأماكن المقدسة .
- ٣- (.....) انتقال الأفراد والبضائع من مكان لآخر بواسطة وسائل برية وبحرية وجوية .
- ٤- (.....) استخراج المعادن من الأرض .

السؤال السابع : أكمل الشكل :



السؤال الثامن : بم تفسر :-

١- تنوع النشاط الاقتصادي في الوطن العربي .

السبب /

٢- قلة الثروة الحيوانية في الوطن العربي .

السبب /

٣- معظم الحاصلات الزراعية تزرع في دول البحر المتوسط في الوطن العربي .

السبب /

٤- تناقص مساحات الأرض الزراعية في فلسطين .

السبب /

٥- تواجه الصناعة في الوطن العربي عدد من المعوقات .

السبب /

٦- اهتمام الدول العربية بإنشاء طرق المواصلات .

السبب /

٧- الطرق البرية أكثر انتشاراً من غيرها في الوطن العربي .

السبب /

٨- قلة السكك الحديدية في الوطن العربي .

السبب /

٩- زيارة الأشخاص حمامات ماعين والبحر الميت .

السبب /

١٠- أهمية النقل الجوي للوطن العربي .

السبب /

١١- تدني نسبة السياحة العربية إلى فلسطين

السبب /

السؤال التاسع : ما النتيجة المترتبة على :-

١- تعدد الموارد المعدنية في الوطن العربي .

النتيجة /

٢- توافر مقومات السياحة في الوطن العربي .

النتيجة /

٣- الهجرة من الريف إلى المدينة على الزراعة .

النتيجة /

٤- الآثار السلبية للصناعة على البيئة .

النتيجة /

٥- موقع الوطن العربي في قلب قارات العالم وصفاء سمائه .

النتيجة /

٦- تنوع وسائل النقل والمواصلات في الوطن العربي

النتيجة /

٧- إجراءات الاحتلال الصهيوني المستمرة ضد الفلسطينيين .

النتيجة /

السؤال العاشر : اقترح حلاً للمشكلات التالية :-

١- انخفاض إنتاجية الأرض .

الحل /

٢- تذبذب كميات الأمطار .

الحل /

٣- تملح التربة .

الحل /

٤- تناقص مساحة الأرض الزراعية في فلسطين .

الحل /

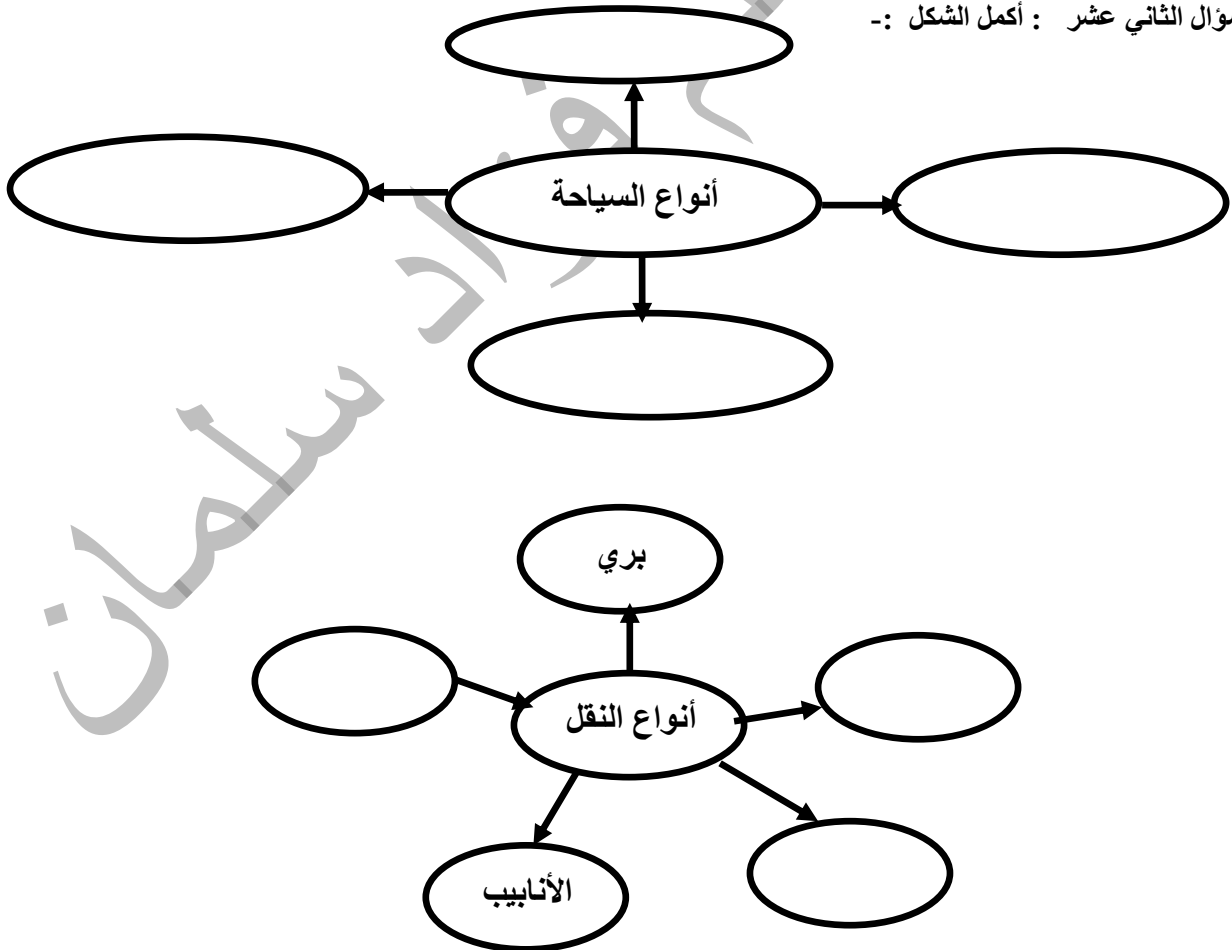
٥- ضعف الصناعة العربية .

الحل /

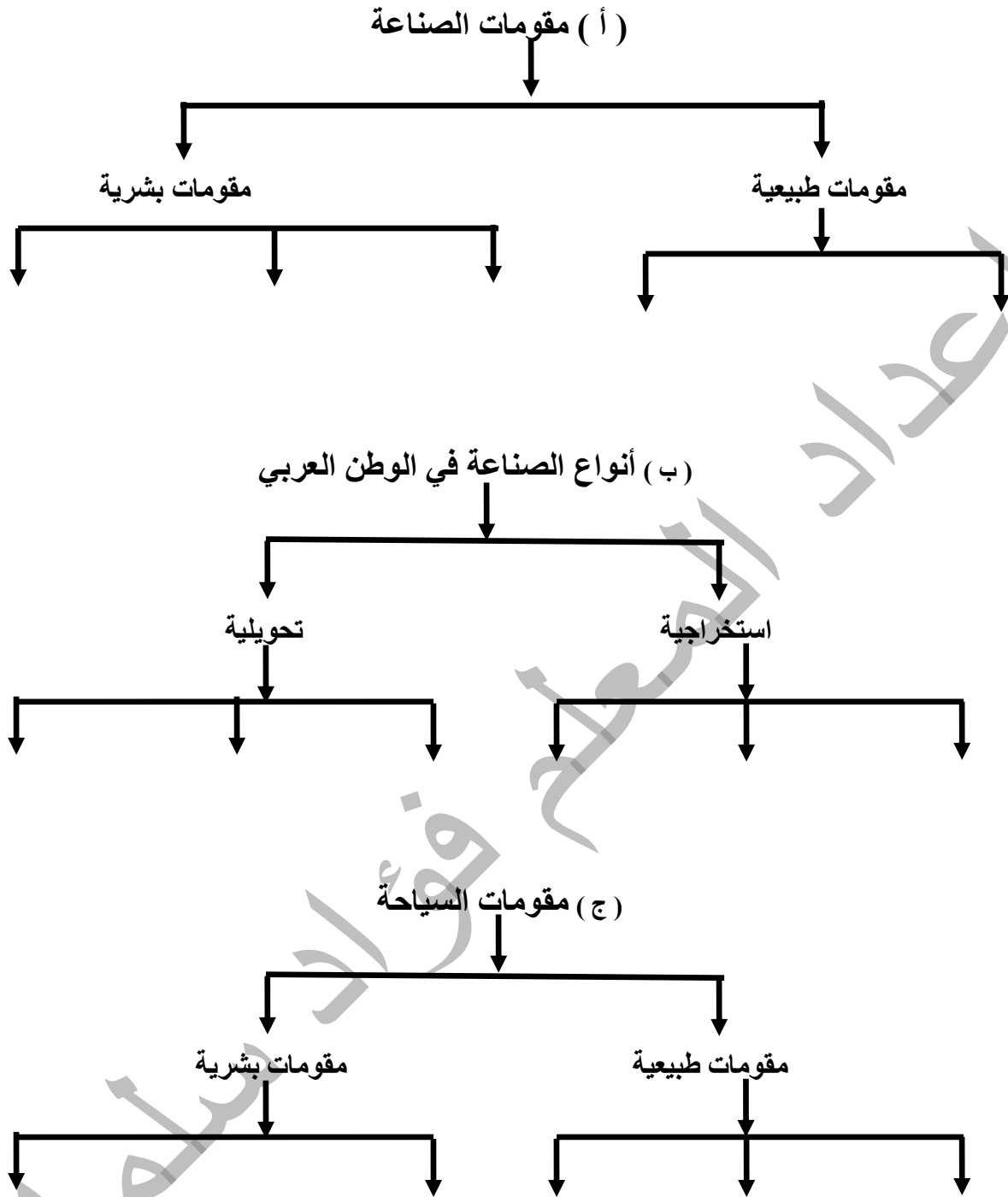
السؤال الحادي عشر : أكتب تحت السورة النشاط الاقتصادي الدالة عليه :-



السؤال الثاني عشر : أكمل الشكل :-



السؤال الثالث عشر : أكمل الخارطة المفاهيمية :-



أسئلة على الوحدة الأولى رحلة في الوطن العربي من صفحة (٢) إلى صفحة (٥٥)

الدرس السادس :- الأمن المائي في الوطن العربي من صفحة (٤٩) إلى صفحة (٥٥)

السؤال الأول : ضع علامة (صح) أمام العبارة الصحيحة وعلامة (خطأ) أمام العبارة الخاطئة :-

- ١- () تحظى مسألة المياه بأهمية كبيرة إقليمياً وعالمياً .
- ٢- () عمل الاستعمار الصهيوني على استغلال مياه نهر الأردن وتحويلها لصالح الضفة الغربية .
- ٣- () قام الاستعمار الصهيوني بالسيطرة على مصادر المياه وتدمير مضخات المياه على نهر الأردن .
- ٤- () بعد الاحتلال الصهيوني للبنان قام بالسيطرة على مصادر المياه في لبنان والمصادر المغذية لحوض نهر الأردن .
- ٥- () وفق القانون الدولي يحق للصهاينة الاستيلاء على مصادر المياه الفلسطينية .
- ٦- () يتحكم الاحتلال الصهيوني بالمياه الجوفية والسطحية في فلسطين .
- ٧- () تتعرض مصادر المياه العذبة في الوطن العربي للنضوب بشكل مستمر .
- ٨- () تعد منابع الأنهار العربية منابع داخلية .
- ٩- () بناء الآبار في المنازل لتجميع مياه الأمطار يسهم في حل الأزمة المائية .
- ١٠- () لا يجوز لأي دولة مشاطنة القيام بإنشاءات على المجرى المائي أو فروعه إلا بعد إخطار الدول المشاطنة معها .

السؤال الثاني : اختر الإجابة الصحيحة مما بين القوسين :-

- ١- يحتفل العالم بيوم المياه العالمي في (٢٢ آذار - ٢٢ كانون أول - ٢٢ شباط)
- ٢- نسبة المياه المالحة على سطح الأرض (١٠ % - ٣٠ % - ٩٧ %)
- ٣- كل ما يلي من أنهار الوطن العربي ما عدا (نهري دجلة والفرات - نهر الأمازون - نهر النيل)
- ٤- الأنهار التالية من الأنهار التي سيطر على مياهها الاستعمار الصهيوني في لبنان ما عدا (النيل - الليطاني - الحاصباني)
- ٥- انضمت فلسطين لاتفاقية الأمم المتحدة المتعلقة بقانون استخدام المجاري المائية عام (١٩٤٥م - ٢٠١٥م - ١٩٨٩م)

السؤال الثالث : صحح ما تحته خط :-

- ١- عمل الاحتلال الصهيوني على تجفيف بحيرة طبريا
- ٢- يعد الاستيلاء على مصادر المياه الفلسطينية انتهاكاً للحق الصهيوني وفق القانون الدولي
- ٣- معظم مياه سطح الأرض مياه عذبة

السؤال الرابع : برهن على أن :-

- ١- الاستعمار الصهيوني يسعى للسيطرة على مياه نهري النيل والفرات .
- الإجابة /
- ٢- على أن الدين الإسلامي حث على أهمية المياه وعدم الإسراف في استخدامها .
- الإجابة /

السؤال الخامس : أكتب المصطلح العلمي :-

- ١- () ضمان توفر المياه بالكمية والنوعية المناسبين لتلبية احتياجات سكان الوطن العربي .

السؤال السادس : اكتب المشكلة التي تدل عليها الصورة :



السؤال السابع : اقرأ النص التالي ثم أجب عن الأسئلة التي تليه :
" سعى الاحتلال الصهيوني للسيطرة على مياه نهر الأردن وتحويلها إلى صحراء النقب كما عمل على تجفيف بحيرة الحولة عام ١٩٥١ م وتطورت المأساة بعد سنة ١٩٦٧ م واحتلال الجولان والضفة الغربية وقطاع غزة . "

- ١- إلى أين حول الاحتلال الصهيوني مياه نهر الأردن ؟
الإجابة /
- ٢- متى جفف الاحتلال بحيرة الحولة ؟
الإجابة /
- ٣- متى تطورت مأساة المياه في فلسطين ؟
الإجابة /

السؤال الثامن : بم تفسر :-

- ١- يعاني الوطن العربي من أزمة مائية رغم توفرها بغزارة على سطح الأرض .
السبب /
- ٢- لجوء فلسطين للانضمام لاتفاقية الأمم المتحدة المتعلقة بقانون استخدام المجاري المائية الدولية في الأغراض غير الملاحية .
السبب /
- ٣- أهمية المياه في حياة الانسان .
السبب /
- ٤- يجب العمل على ترشيد استهلاك المياه .
السبب /
- ٥- ضرورة اتفاق الدول المشاطنة الدول المشتركة بالشاطئ نفسة على أي أجراء تقوم بها على المجاري المائية .
السبب /
- ٦- منع الاحتلال الصهيوني حفر الآبار الارتوازية في الضفة وغزة .
السبب /

السؤال التاسع : ما النتيجة المترتبة على :-

- ١- قلة المياه في الوطن العربي .
النتيجة /
- ٢- وقوع الحوضين الجوفيين الغربي والشمالي خلف جدار الضم العنصري .
النتيجة /

السؤال عاشر : اقترح حلاً للمشكلات التالية :-

- ٦- نقص المياه العذبة في الوطن العربي .
الحل /
- ٧- تلوث المياه السطحية في الوطن العربي .
الحل /

أسئلة على الوحدة الثانية التطورات السياسية في الوطن العربي من صفحة (٥٦) إلى صفحة (٨٠)

الدرس الأول :- القوى السياسية المسيطرة على الوطن العربي قبل الحكم العثماني من صفحة (٥٨) إلى صفحة (٦٣)

السؤال الأول : ضع علامة (صح) أمام العبارة الصحيحة وعلامة (خطأ) أمام العبارة الخاطئة :-

- ١- () خضع شمال أفريقيا لحكم أسر محلية .
- ٢- () كان نظام الحكم الصفوي نظام جمهوري .
- ٣- () كان الملك الصفوي فوق القانون وعلى الشعب أن يطيعه في كل شيء .
- ٤- () اعتمد الملك نجم الدين أيوب على المماليك في تثبيت دولته ومحاربة أعدائه .
- ٥- () كانت مدينة دمشق آخر معاقل الصليبيين .
- ٦- () قام المماليك ببناء العديد من المدارس والمستشفيات .

السؤال الثاني : اختر الإجابة الصحيحة مما بين القوسين :-

- ١- كل ما يلي من القوى السياسية التي سيطرت على الوطن العربي قبل الحكم العثماني ما عدا (المماليك - البرتغاليين - البريطانيون)
- ٢- خضعت بلاد الشام ومصر قبل الحكم العثماني لحكم
- ٣- سيطر الصفويين في الوطن العربي على
- ٤- انتهت الدولة الصفوية عام
- ٥- كل ما يلي من سلاطين المماليك ما عدا
- ٦- انتصر المماليك في معركة عين جالوت على
- ٧- وقعت معركة عين جالوت في
- ٨- كلمة مملوك تعني
- ٩- يحتاج الحفاظ على قوة الدولة وتماسكها إلى
- ١٠- تقع دولة البرتغال في قارة

السؤال الثالث : صحح ما تحته خط :-

- ١- خضعت مسقط والبحرين لسيطرة الصفويين .
- ٢- كان الملك الصفوي يلقب بالسلطان .
- ٣- انتصر المماليك على المغول في معركة حطين .
- ٤- نجم الدين أيوب ملك صفوي .
- ٥- نشأت الدولة المملوكية في بلاد الشام .

السؤال الرابع : برهن على أن :-

- ١- المماليك كانوا يتمتعون بقوة عسكرية .
- الإجابة /
- ٢- في الاتحاد قوة وفي التفرق ضعف .
- الإجابة /

السؤال الخامس : أكتب المصطلح العلمي :-

- ١- () نشأت في إيران عام ١٥٠١ م وتوسعت في الشرق والغرب .
- ٢- () أشتراهم الملك نجم الدين أيوب ودربهم تدريباً عسكرياً ليعتمد عليهم في تثبيت دولته وبعد ذلك سيطروا على مقاليد الحكم والسلطة .
- ٣- () قوة استعمارية احتلت مسقط والبحرين ومضيق هرمز .

السؤال السادس : بم تفسر :-

- ١- تسمية الدولة الصفوية بهذا الاسم .
- السبب /
- ٢- تسمية المماليك بهذا الاسم .
- السبب /

السؤال السابع : ما النتيجة المترتبة على :-

١ - قوة دولة المماليك .

النتيجة /

٢ - الانقسام بين المسلمين .

النتيجة /

السؤال الثامن : أقرأ النص التالي ثم أجب عن الأسئلة التي تليه :-

" نشأت الدولة الصفوية في إيران عام ١٥٠١ م وتنسب إلى مؤسسها إسماعيل الصفوي وقد توسعت في الشرق والغرب باتجاه خراسان وأفغانستان وأذربيجان والعراق وديار بكر "


١ - أين نشأت الدولة الصفوية ؟ ومتى ؟

الإجابة :

٢ - ما هي المناطق التي توسعت فيها الدولة الصفوية ؟

الإجابة :

السؤال التاسع : ارسم خريطة موقع معركة عين جالوت وخط سير جيش المماليك وجيش المغول إلى المعركة :-



أسئلة على الوحدة الثانية التطورات السياسية في الوطن العربي من صفحة (٦٥) إلى صفحة (٨٠)

الدرس الثاني :- الحكم العثماني للوطن العربي من صفحة (٦٤) إلى صفحة (٦٨)

السؤال الأول : ضع علامة (صح) أمام العبارة الصحيحة وعلامة (خطأ) أمام العبارة الخاطئة :-

- ١- () هاجر سليمان جد عثمان من كردستان إلى الأناضول .
- ٢- () أسس العثمانيون دولة فتية أخذت بالاتساع تدريجياً .
- ٣- () كانت الدولة العثمانية دولة قوية ومستقرة وتمتلك أكبر المصادر الاقتصادية .
- ٤- () خضعت مراکش (المغرب) للحكم العثماني .
- ٥- () بعد ارسال شريف مكة مفاتيح الكعبة للسلطان العثماني امتلك العثمانيون الشرعية الدينية .
- ٦- () تسلم العثمانيون مفاتيح الكعبة من العباسيين بعد سيطرتهم على الوطن العربي .
- ٧- () بعد وفاة عثمان خلفه ابنه أرطغرل والذي يعتبر مؤسس الدولة العثمانية .
- ٨- () ما زالت مدينتا سبته ومليلة تخضعان للاحتلال الأسباني .

السؤال الثاني : اختر الإجابة الصحيحة مما بين القوسين :-

- ١- مؤسس الدولة العثمانية هو (أرطغرل - عثمان - سليمان)
- ٢- السلطان العثماني الذي فتح الوطن العربي (سليم الأول - عبد الحميد الثاني - سليمان القانوني)
- ٣- هاجم الأسبان المغرب العربي واحتلوا جزيرة (سبته - مليلة - جميع ما ذكر)
- ٤- وقعت معركة جالديران عام (١٥١٥ م - ١٥١٦ م - ١٥١٤ م)
- ٥- ضم العثمانيون بلاد الشام بعد انتصارهم على المماليك في معركة (مرج دابق - جالديران - الريدانية)
- ٦- وقعت معركة مرج دابق عام (١٥٢٠ م - ١٥١٦ م - ١٥١٧ م)
- ٧- وقعت معركة الريدانية عام (١٥١٦ م - ١٥١٨ م - ١٥١٧ م)
- ٨- أرسل شريف مكة مفاتيح الكعبة للسلطان العثماني عام (١٥١٧ م - ١٥٢٠ م - ١٥١٥ م)

السؤال الثالث : صحح ما تحته خط :-

- ١- ساعد عثمان السلاجقة في قتالهم مع الروم
- ٢- أصبحت أنقرة تبهر أنظار الأوروبيين كأبرز مراكز الحضارة في العالم
- ٣- فتح العثمانيون مصر بعد معركة مرج دابق مع المماليك
- ٤- أرسل شريف مكة مفاتيح الكعبة للسلطان عبد الحميد الأول

السؤال الرابع : برهن على أن :-

- ١- الدولة العثمانية حافظت على وحدة الوطن العربي .

الإجابة /

السؤال الخامس : أكتب المصطلح العلمي :-

- ١- (عاصمة الدولة العثمانية)
- ٢- (معركة حاسمة انتصر فيها العثمانيون على الصفويين)
- ٣- (معركة انتصر فيها العثمانيون على المماليك وفتحوا بلاد الشام)
- ٤- (معركة انتصر فيها العثمانيون على المماليك وفتحوا مصر)

السؤال السادس : أكمل الفراغ بالكلمة المناسبة :-

- ١- عندما توفي أرطغرل خلفه ابنه
- ٢- من المناطق التي سيطر عليها العثمانيون في المرحلة الأولى من توسعهم
- ٣- انتقلت عاصمة العثمانيون من مدينة بورصة إلى
- ٤- لم تخضع مراکش للحكم العثماني وبقيت تحت حكم

السؤال السابع : بم تفسر :-

١- تغير عاصمة الدولة العثمانية أكثر من مرة .

السبب /

٢- عانت الدولة العثمانية في أواخر عهدها من الضعف والتفكك .

السبب /

٣- توجه العثمانيون في فتوحاتهم نحو الوطن العربي .

السبب /

٤- الصراع بين الصفويين والعثمانيين .

السبب /

٥- محاربة العثمانيون للمماليك في مصر .

السبب /

السؤال الثامن : ما النتيجة المترتبة على :-

١- مساعدة العثمانيون للسلاجقة ضد الروم .

النتيجة /

٢- الثورات الداخلية والحركات الانفصالية ضد الدولة العثمانية .

النتيجة /

٣- معركة جالديران .

النتيجة /

٤- معركة الريدانية .

النتيجة /

٥- معركة مرج دابق .

النتيجة /

٦- ضم العثمانيون المغرب العربي لحكمهم .

النتيجة / -

أسئلة على الوحدة الثانية التطورات السياسية في الوطن العربي من صفحة (٦٥) إلى صفحة (٨٠)

الدرس الثالث :- أحوال الوطن العربي تحت الحكم العثماني من صفحة (٦٩) إلى صفحة (٧٥)

السؤال الأول : ضع علامة (صح) أمام العبارة الصحيحة وعلامة (خطأ) أمام العبارة الخاطئة :-

- ١- () كانت الانكشارية العمود الفقري للجيش العثماني .
- ٢- () كانت الدولة العثمانية تحكم وفق الشريعة الإسلامية .
- ٣- () بدأت محاولات إصلاح الجيش ونظام الإدارة في القرن السابع عشر .
- ٤- () خفف نظام الالتزام في جباية الضرائب على كاهل الفلاحين .
- ٥- () أوجد نظام الالتزام طبقة إقطاعية غنية وطبقة فلاحين معدومة .
- ٦- () النظام الاقتصادي الذي أتبعه العثمانيون في الوطن العربي هو النظام الاشتراكي .
- ٧- () يعتبر الجيش أساس الدولة العثمانية وكان قائماً على الجند السباهية .
- ٨- () قسم العثمانيون الولايات إلى سناجق وألوية .
- ٩- () يحكم السنجق أو اللواء قائد الجيش .
- ١٠- () عانت طبقة الرعية من الظلم والضرائب التي فرضها عليها الملتزمون .
- ١١- () اقتصر التعليم في الكتاتيب على تعلم القرآن والحساب .
- ١٢- () اهتم العثمانيون بالتعليم في الوطن العربي في أواخر عهدهم .

السؤال الثاني : اختر الإجابة الصحيحة مما بين القوسين :-

- ١- رأس النظام السياسي في الدولة العثمانية هو (السلطان - الصدر الأعظم - الجيش)
- ٢- كان بمثابة مجلس وزراء موسع (الهيئة الإسلامية - الانكشارية - الديوان)
- ٣- نظام لجباية الضرائب قائم على أساس المزايدة (نظام الاقطاع - نظام الالتزام - الدفتردارية)
- ٤- يعد ----- من أهم فئات الديوان (أهل العلم - الجند - الكتاب)
- ٥- بلغ عدد الولايات العثمانية (٢٣ ولاية - ٣٢ ولاية - ٢٥ ولاية)
- ٦- اقتصر التعليم في القرى زمن العثمانيون على (الكتاتيب - المعاهد - المدارس)
- ٧- المنطقة العربية التي لم تخضع للحكم العثماني هي (الجزائر - اليمن - مراكش)
- ٨- بلغ عدد متصرفيات الدولة العثمانية في الوطن العربي أواخر القرن السابع عشر (متصرفيتين - ٣ متصرفيات - ٥ متصرفيات)
- ٩- مهمته التشاور مع الوالي في شؤون الولاية (الحامية العثمانية - الديوان - الصدر الأعظم)

السؤال الثالث : صحح ما تحته خط :-

- ١- كان شيخ الإسلام بمثابة رئيس الوزراء العثماني
- ٢- بلغ مجموع ولايات الدولة العثمانية في الوطن العربي خمسة عشر ولاية
- ٣- الوالي من مهامه الاشراف على السكرتارية الخاصة بالصدر الأعظم وكبار الكتاب
- ٤- الجند الانكشارية هم أقدم أنواع الجند في الدولة العثمانية

السؤال الرابع : برهن على أن :-

- ١- غير المسلمين في الدولة العثمانية كانوا يتمتعون بحقوقهم الشرعية .

الإجابة /

- ٢- التعليم من الحقوق الأساسية التي يتمتع بها الإنسان .

الإجابة /

السؤال الخامس : أكمل الفراغ بالكلمة المناسبة :-

- ١- من أهم الولايات العثمانية في الوطن العربي ----- و ----- و -----
- ٢- من أهم المتصرفيات العثمانية في الوطن العربي ----- و -----
- ٣- رئيس الدفتردارية يسمى -----
- ٤- انقسم المجتمع في الدولة العثمانية إلى طبقتين هما طبقة ----- وطبقة -----
- ٥- كان التعليم زمن العثمانيين في الوطن العربي في المدن في ----- و -----

السؤال السادس : أكتب المصطلح العلمي :-

- ١- () فرقة من المشاة المحترفين وتعتبر العمود الفقري للجيش العثماني .
- ٢- () حاكم عثماني وهو نائب السلطان في حكم الولاية .
- ٣- () مجموعة من الجند تكلف بمهمة حماية المراكز الحدودية والمواقع الاستراتيجية وقوافل الحج .
- ٤- () هي الأسر التي لها نفوذ في حكم الولاية .
- ٥- () نظام اقتصادي اجتماعي عسكري قائم على حيازة الأرض
- ٦- () بمثابة مجلس الوزراء ويرأس اجتماعاته السلطان .
- ٧- () المؤسسات المالية التي كان لها دور مهم في حساب الواردات والمصروفات .
- ٨- () طبقة تشمل الإداريين والقوات المسلحة ورجال الدين .
- ٩- () طبقة من عامة الناس والفلاحين وكانت تعاني من الظلم .

السؤال السابع : بم تفسر :-

- ١- قيام الدولة العثمانية بمحاولات لإصلاح الجيش ونظام الإدارة .

- السبب /
- ٢- اهتمام العثمانيون بالقدس ومنحها وضعاً خاصاً .
- السبب /
- ٣- تقسيم الدولة العثمانية إدارياً وعسكرياً إلى ولايات أو باشويات .
- السبب /
- ٤- انتشار الأمية والجهل في الوطن العربي في أواخر حكم الدولة العثمانية .
- السبب /

السؤال الثامن : ما النتيجة المترتبة على :-

- ١- تطبيق العثمانيين نظام الاقطاع في الوطن العربي .

- النتيجة /
- ٢- اتباع العثمانيين نظام الالتزام في جباية الضرائب .
- النتيجة /

السؤال التاسع : أقرأ النص التالي ثم أجب عن الأسئلة التي تليه :-

" الحق في التعليم من الحقوق الأساسية التي يتمتع بها الإنسان وكفلتها المواثيق الدولية وتضمنتها الدساتير الوطنية ويُفرض على الجهات المكلفة بالعمل على تنفيذ تلك الاتفاقيات والمواثيق الدولية "

- ١- ما هو الحق الذي ذكر في النص ؟

الاجابة : _____

- ٢- من هي الجهات المكلفة بالعمل على تنفيذ الاتفاقيات والمواثيق ؟

الاجابة : _____

أسئلة على الوحدة الثانية التطورات السياسية في الوطن العربي من صفحة (٦٥) إلى صفحة (٨٠)

الدرس الرابع :- فلسطين في العهد العثماني من صفحة (٧٦) إلى صفحة (٨٠)

السؤال الأول : ضع علامة (صح) أمام العبارة الصحيحة وعلامة (خطأ) أمام العبارة الخاطئة :-

- ١- () قسم العثمانيون فلسطين إلى سبعة سناجق .
- ٢- () حكم فخر الدين المعني لبنان وشمال فلسطين .
- ٣- () سيطر إبراهيم باشا على بلاد الشام وفلسطين حتى عام ١٨٤٠ م .
- ٤- () ساعدت الدول الأوروبية الدولة العثمانية في طرد إبراهيم باشا من بلاد الشام وفلسطين .
- ٥- () تمرد كثير من الأمراء والشيوخ المحليين في بدايات الحكم العثماني .
- ٦- () كانت الصناعات في العهد العثماني صناعات متطورة .
- ٧- () كانت التجارة في العهد العثماني رهينة الوضع السياسي والأمني .
- ٨- () لم تتأثر الأوضاع الاجتماعية في فلسطين بالصراعات التي كانت تقوم بين الزعامات المحلية .
- ٩- () شهدت فلسطين في العهد العثماني نهضة عمرانية كبيرة .
- ١٠- () لازالت الساعات الدقاقة التي بناها العثمانيون ماثلة في المدن الفلسطينية حتى الآن .

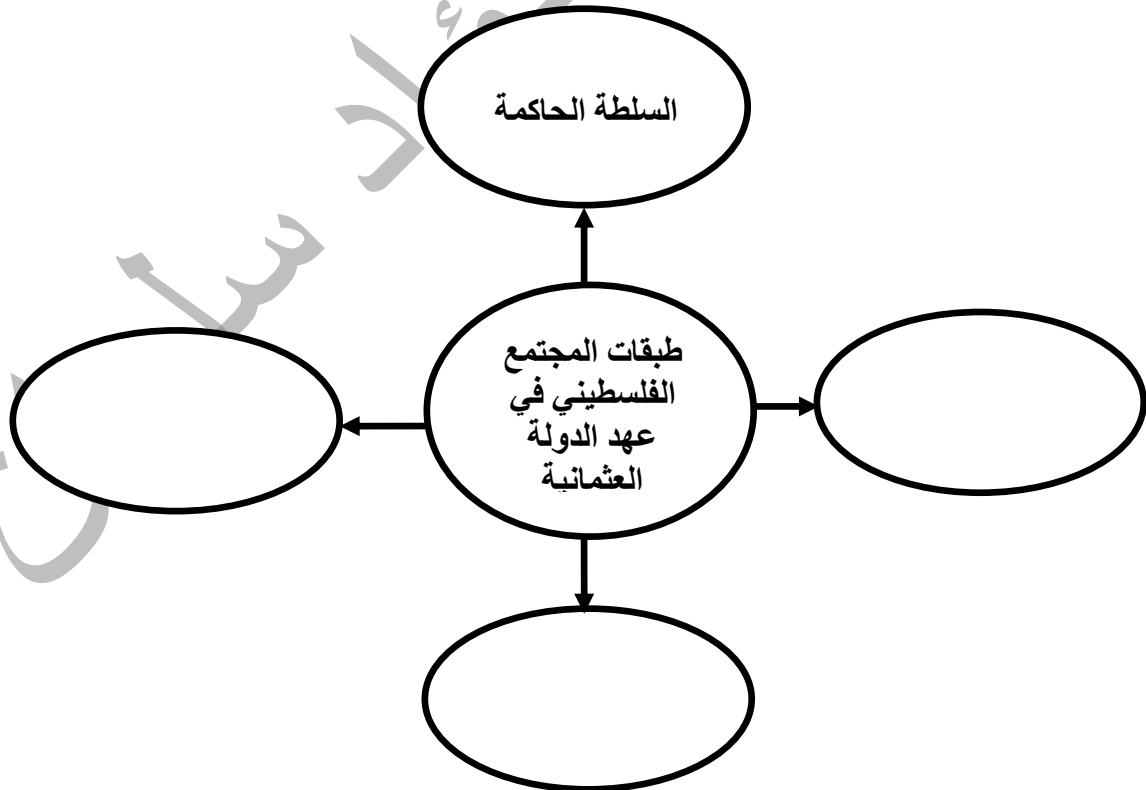
السؤال الثاني : اختر الإجابة الصحيحة مما بين القوسين :-

- ١- من أهم سناجق فلسطين سنجق (غزة - نابلس - القدس)
- ٢- قسمت بقية بلاد الشام إلى (٤ سناجق - ٦ سناجق - ٨ سناجق)
- ٣- حاكم عكا الذي تصدى لحصار نابليون لعكا هو (محمد علي - إبراهيم باشا - أحمد باشا الجزار)
- ٤- كل ما يلي من الصناعات اليدوية الفلسطينية في العهد العثماني ما عدا (الزجاج - المواد الغذائية - النحاس)
- ٥- قام بترميم كنيسة القيامة والأديرة السلطان (سليمان القانوني - سليم الأول - عبد الحميد الثاني)

السؤال الثالث : صحح ما تحته خط :-

- ١- تحول مسمى سنجق القدس إلى ولاية
- ٢- قضى أحمد باشا الجزار على ثورة فخر الدين المعني
- ٣- طبقة رجال الدين تشكل الغالبية العظمى من السكان زمن العثمانيين

السؤال الرابع : أكمل الشكل :-



السؤال الخامس : برهن على أن :-

١ - العثمانيون أهتموا بالكنائس والأديرة .

الإجابة /

٢ - أولى العثمانيون المقدسات الإسلامية في فلسطين اهتمام خاص .

الإجابة /

السؤال السادس : من أكون :-

١ - () حكمت لبنان وشمال فلسطين وقمت بحركة انفصالية عن الدولة العثمانية عام ١٦٠٣ م .

٢ - () قمت بحركة انفصالية عن الدولة العثمانية عام ١٦٨٩ م - ١٧٧٥ م .

٣ - () توليت حكم عكا بعد القضاء على ثورة ظاهر العمر .

٤ - () سيطرت على بلاد الشام وفلسطين عام ١٨٣١ م .

٥ - () حاكم مصر وأرسلت ابني للسيطرة على بلاد الشام وفلسطين .

السؤال السابع : بم تفسر :-

١ - تقسيم العثمانيون فلسطين إلى خمسة سناجق رغم صغر مساحتها .

السبب /

٢ - ربط متصرفية القدس بالأستانة مباشرة .

السبب /

٣ - لجوء الدولة العثمانية إلى التقسيمات الإدارية .

السبب /

٤ - اهتمام القوى السياسية المجاورة لفلسطين بالسيطرة عليها .

السبب /

٥ - نشاط حركة التجارة في بداية الحكم العثماني .

السبب /

٦ - تراجع الوضع الاقتصادي في الوطن العربي أواخر الحكم العثماني .

السبب /

٧ - إبقاء العثمانيون على الزعامات المحلية في الحكم عند سيطرتهم على فلسطين .

السبب /

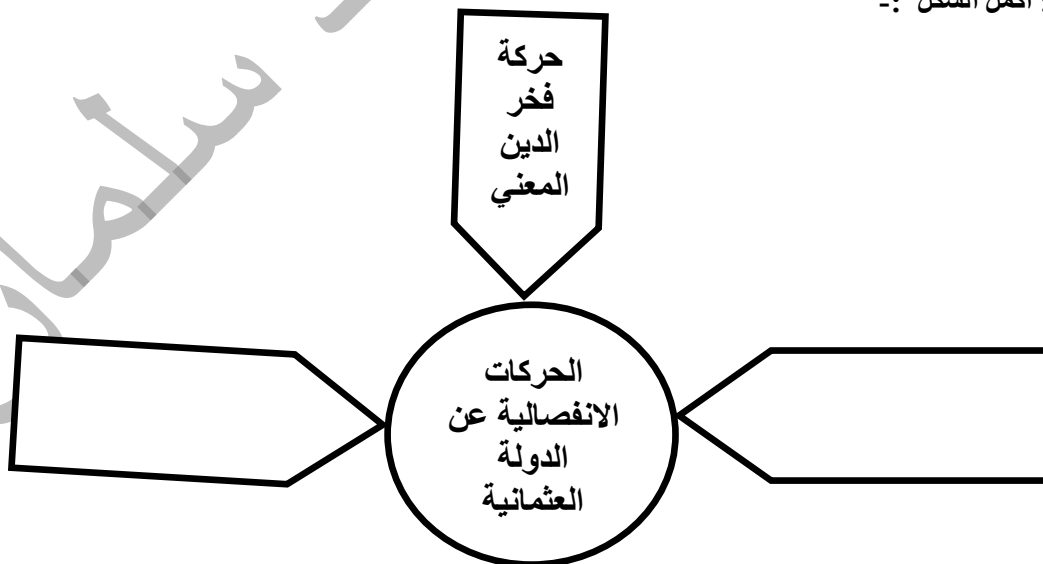
٨ - بناء العثمانيون للساعات الدقاقة في المدن الفلسطينية .

السبب /

٩ - وجود كثير من القلاع والحصون في فلسطين .

السبب /

السؤال الثامن : أكمل الشكل :-



السؤال التاسع : ما النتيجة المترتبة على :-
١- تصدى أحمد باشا الجزائر وأهالي فلسطين للغزو الفرنسي .

النتيجة /

٢- ضعف الدولة العثمانية في أواخر عهدها .

النتيجة /

٣- كثرة الضرائب على الفلاحين في العهد العثماني .

النتيجة /

السؤال العاشر : اختر من المجموعة (أ) ما يناسبها من المجموعة (ب) :-
المجموعة (أ) المجموعة (ب)

١- حركة فخر الدين المعني عام () ١٧٩٩ م

٢- تعيين أحمد باشا الجزائر والي على عكا عام () ١٦٠٣ م

٣- حصار نابليون لعكا عام () ١٨٣١ م

٤- سيطرة إبراهيم باشا على الشام عام () ١٨٤٠ م

٥- طرد إبراهيم باشا من الشام عام () ١٧٧٥ م

أسئلة على الوحدة الثالثة المواطنة حقوق وواجبات من صفحة (٨١) إلى صفحة (١٠١)

الدرس الأول :- المواطنة حقوق وواجبات من صفحة (٨٣) إلى صفحة (٩٠)

السؤال الأول : أكتب المصطلح العلمي :-

- ١- (علاقة تعاقدية بين الفرد والدولة وفق الأنظمة والقوانين المعمول بها .
- ٢- (المواطنة التي تهدف إلى تعزيز الحقوق المدنية للمواطنين وتكريس مبدأ سيادة القانون .
- ٣- (حق المواطن في المشاركة في إدارة الشأن العام والمشاركة السياسية .
- ٤- (مشاركة المواطنين الايجابية في تنمية مجتمعهم .
- ٥- (الشعور بالانتماء للمجتمع والذي يتخطى الحدود الجغرافية لشمّل جميع البشر في العالم .
- ٦- (مجموعة القواعد والمعايير والأعراف والأفكار والمبادئ المتبعة في الاستخدام الأمثل للتكنولوجيا .
- ٧- (الالتزامات التي يؤديها المواطن تجاه وطنه ومجتمعه .
- ٨- (أن يكون المواطن مشاركاً إيجابياً تجاه قضايا مجتمعه المختلفة .
- ٩- (التزامات وواجبات الدولة التي يجب توفيرها للمواطنين .
- ١٠- (القيم التي يكتسبها المواطن وتنعكس بشكل إيجابي في سلوكه تجاه المجتمع .
- ١١- (شعور داخلي وجداني يجعل المواطن يحب وطنه ويعمل على تقدمه والدفاع عنه .
- ١٢- (مسؤوليات ضرورية ويجب عدم الإخلال بها ويحاسب عليها القانون .
- ١٣- (مسؤوليات عل يحاسب عليها في حالة عدم القيام بها .

السؤال الثاني : ضع علامة (صح) أمام العبارة الصحيحة وعلامة (خطأ) أمام العبارة الخاطئة :-

- ١- (المواطنة تكفل التمييز بسبب العرق أو الجنس أو اللون .
- ٢- (يتم اختيار ممثلي الشعب عن طريق الاقتراع العام .
- ٣- (يسمح بعقد الاجتماعات العامة في حدود القانون .
- ٤- (المواطنة المسؤولة تعزز مفهوم المسؤولية المجتمعية .
- ٥- (التعايش السلمي والانتماء والمسؤولية تجاه الأرض والاهتمام بقضايا البيئة مواطنة رقمية .
- ٦- (يساهم الاستخدام الأمثل للتكنولوجيا في رقي المجتمع .
- ٧- (المواطن الرقمي هو المواطن الذي يستخدم الانترنت بشكل منظم وفعال وآمن .
- ٨- (يمكن تحقيق المواطنة الكاملة في المجتمع دون الالتزام بالواجبات .
- ٩- (يحاسب القانون على عدم القيام بالمسؤوليات الطوعية .
- ١٠- (تدعيم المواطنة يؤدي إلى دعم السلم الأهلي والاستقرار السياسي .
- ١١- (تدعيم المواطنة بضمن الشراكة الحقيقية في تنمية المجتمع .
- ١٢- (يمكن للإنسان أن يعيش دون الحصول على حقوقه .
- ١٣- (الحقوق تكفل لنا حياة فيها الاحترام وحماية الكرامة الانسانية .
- ١٤- (تمتاز الحقوق بأنها طبيعية وعالمية لكل البشر .

السؤال الثالث : اختر الإجابة الصحيحة مما بين القوسين :-

- ١- كل ما يلي من الحقوق التي كفلتها المواطنة السياسية ما عدا (تشكيل الأحزاب - تشكيل النقابات - حرية العبادة)
- ٢- التصويت والترشح في الانتخابات حقوق كفلتها المواطنة (السياسية - الكونية - الرقمية)
- ٣- المشاركة الفاعلة في صنع القرارات والتأثير فيها مواطنة (سياسية - مسؤولة - كونية)
- ٤- كل ما يلي تقوم عليه المواطنة الكونية ما عدا (السلام والتسامح - احترام الثقافات - التمييز بين البشر)
- ٥- يولد جميع الناس أحرار متساوين في الكرامة والحقوق المادة رقم ---- من الاعلان العالمي لحقوق الإنسان (١ - ٥ - ٨)
- ٦- توجه الأفراد نحو منافع التكنولوجيا الحديثة وتحميه من أخطارها المواطنة (المسؤولية - الرقمية - الكونية)
- ٧- كل ما يلي من مكونات المواطنة ما عدا (الحقوق - المشاركة المجتمعية - عدم الانتماء)
- ٨- وردت الحقوق في (الاعلان العالمي لحقوق الإنسان - المواثيق الدولية - الاثنان معاً)

السؤال الرابع : صحح ما تحته خط :-

- ١- أكدت المادة ٣٦ من القانون الأساسي على حق الفلسطينيين في المشاركة السياسية .
- ٢- يتم تقليد المناصب والوظائف العامة على قاعدة الواسطة .
- ٣- يسمح بعقد الاجتماعات الخاصة بحضور الشرطة .
- ٤- الاهتمام بالقضايا البينية وجعلها أكثر استدامة مواطنة سياسية .
- ٥- المسؤوليات الملزمة تعد من صفات المواطن الايجابي الفاعل في المجتمع .
- ٦- تمتاز المسؤوليات بأنها طبيعية وعالمية وشاملة .

السؤال الخامس : بم تفسر :-

- ١- تعطي المواطنة المسؤولية المواطنين حق مساءلة من يشغلون الوظائف العامة .
- السبب /
- ٢- لا يمكن أن نعيش دون الحصول على حقوقنا .
- السبب /
- ٣- يسمح القانون الأساسي الفلسطيني بحق المواطنين بالترشح في الانتخابات .
- السبب /
- ٤- تعتبر المواطنة الرقمية توجيه وحماية .
- السبب /
- ٥- تتصف الحقوق بأنها شاملة .
- السبب /
- ٦- تتصف الحقوق بأنها عالمية .
- السبب /

السؤال السادس : ما النتيجة المترتبة على :-

- ١- استخدام التكنولوجيا الحديثة .
- النتيجة /
- ٢- تدعيم المواطنة في الدولة .
- النتيجة /
- ٣- تنظيم العلاقة بين المواطنين والدولة على أساس الثقة المتبادلة .
- النتيجة /
- ٤- الحد من الصراعات الداخلية الطائفية والحزبية داخل الدولة .
- النتيجة /

أسئلة على الوحدة الثالثة المواطنة حقوق وواجبات من صفحة (٨١) إلى صفحة (١٠١)

الدرس الأول :- المواطنة تعزز مكافحة الفساد من صفحة (٩١) إلى صفحة (١٠١)

السؤال الأول : اختر الإجابة الصحيحة مما بين القوسين :-

- ١- كل ما يلي من أسباب انتشار الفساد ما عدا . (سيادة القانون – انتشار الفقر والجهل – ضعف الجهاز القضائي)
- ٢- من جرائم الفساد المنتشرة في المجتمع . (غسل الأموال – إساءة استعمال السلطة – الاتئان معاً)
- ٣- كل ما يلي من جرائم الفساد ما عدا . (الوساطة والمحسوبية – استعمال السلطة حسب القانون – الكسب الغير مشروع)
- ٤- اعفاء الشركات أو المواطنين من الضرائب أو الجمارك المستحقة عليهم .
- ٥- تمويل مسؤول للحملة الانتخابية من أموال الدولة يعتبر . (مساس بالمال العام – استغلال للمنصب – استغلال وظيفي)
- ٦- قيام الشخص المسؤول بتشكيل مؤسسات وهمية للحصول على الأموال . (اختلاس أموال – هدر للمال العام – استغلال للمنصب)
- ٧- كل ما يلي من مؤسسات مكافحة الفساد الدولية ما عدا . (اتفاقية الأمم المتحدة لمكافحة الفساد – قانون مكافحة الفساد الفلسطيني – منظمة الشفافية الدولية)
- ٨- من القوانين الوطنية لمكافحة الفساد . (المجلس التشريعي – ديوان الرقابة المالية والإدارية – الاتئان معاً)

السؤال الثاني : أكتب المصطلح العلمي :-

- ١- (خروج عن القانون والنظام أو استغلال غيابهما من أجل تحقيق مكاسب فردية أو جماعية .)
- ٢- (طلب أموال أو عرضها أو قبولها من أجل تنفيذ عمل مخالف لأصول المهنة .)
- ٣- (تنفيذ أعمال لصالح فرد أو جهة ينتمي لها الشخص دون أن يكونوا مستحق لها .)
- ٤- (التدخل لصالح فرد ما أو جماعة دون التزام بأصول العمل والكفاءة اللازمة لقاء منفعة .)
- ٥- (الحصول على أموال الدولة والتصرف فيها من غير وجه حق بشكل سري .)
- ٦- (الحصول على عمولات مالية من أشخاص لهم مصالح معينة مقابل تسهيل حصولهم على امتيازات خاصة .)
- ٧- (الاستفادة من السلطة للحصول على منفعة خاصة من خلال استثمار المعلومات السرية .)
- ٨- (استغلال مقدرات المؤسسة المالية لغير هدف المؤسسة .)
- ٩- (توزيع الأموال على خدمات ومؤسسات وهمية .)
- ١٠- (العملية التي تتم بموجبها إعادة تدوير الأرباح المتولدة من الأنشطة الغير مشروعة .)
- ١١- (قيام الموظف العمومي باختلاس ممتلكات وأموال وأوراق مالية عمومية عمداً لصالحه .)
- ١٢- (عدم توافر فرص تشغيل محلية وخارجية .)

السؤال الثالث : ضع علامة (صح) أمام العبارة الصحيحة وعلامة (خطأ) أمام العبارة الخاطئة :-

- ١- (الفساد سلوك يخالف الواجبات الرسمية للمنصب العام .)
- ٢- (الفساد يعمل على تحقيق مكاسب للصالح العام .)
- ٣- (الوساطة تحقق حقاً وتلغي باطلاً .)
- ٤- (الجرائم المخلة بواجبات الوظيفة العامة تعتبر فساد .)
- ٥- (كل فعل يؤدي إلى المساس بالأموال العامة يعتبر فساد .)
- ٦- (تسهيل حصول مشاريع الخدمات العامة مقابل عمولات مالية يعتبر استغلال وظيفي .)
- ٧- (استغلال المنصب العام في تزوير الانتخابات أو شراء أصوات الناخبين يعتبر استغلال للمنصب .)
- ٨- (غسل الأموال يمكن الأموال الغير مشروعة من الدخول بشكل مشروع داخل النظام المالي .)
- ٩- (تمتد آثار الفساد لتشمل مختلف الجوانب السياسية والاقتصادية والاجتماعية .)
- ١٠- (كلما زاد الفساد زاد النمو السكاني .)
- ١١- (عمل الاحتلال الصهيوني على تطوير الاقتصاد الفلسطيني .)
- ١٢- (عدم توفير فرص عمل وتشغيل محلية وخارجية يؤدي إلى انتشار البطالة .)
- ١٣- (الفساد يؤثر تأثير ايجابي على كمية الخدمات الصحية .)
- ١٤- (تتعرض النساء للابتزاز من أصحاب العمل والمسؤولين .)
- ١٥- (عندما ينتشر الفساد تذهب التسهيلات لصغار المنتجين .)
- ١٦- (بناء ثقافة النزاهة المتمثلة بنشر القيم من وسائل مكافحة الفساد .)

السؤال الرابع : صحح ما تحته خط :-

- ١- استغلال المنصب لتحقيق مكاسب مادية أو معنوية خاصة يعتبر رشوة .
- ٢- تعيين شخص في منصب معين لأسباب تتعلق بالقرابة تعتبر محسوبية .
- ٣- قيام مسؤول بدفع رشوة للقاضي الفاسد يعتبر استغلال وظيفي .
- ٤- كلما زاد الفساد زاد دخل الفرد .
- ٥- تستثمر أموال الفساد في الريف .
- ٦- العبء الأكبر من خفض ميزانيات الصحة والتعليم يقع على عاتق الرجال .

السؤال الخامس : بم تفسر :-
١ - انتشار ظاهرة الفساد في المجتمع .

السبب :

٢ - قيام بعض الأشخاص بالمساس بالمال العام .

السبب :

٣ - انتشار البطالة والفقر في الدول التي ينتشر فيها الفساد .

السبب :

٤ - ارتفاع نسبة البطالة في المجتمع الفلسطيني .

السبب :

٥ - يؤثر الفساد سلباً على كمية الخدمات الصحية .

السبب :

٦ - النساء أكثر شرايح المجتمع تأثراً بالفساد .

السبب :

السؤال السادس : ما النتيجة المترتبة على :-
١ - غياب سيادة القانون وضعف الجهاز القضائي .

النتيجة :

٢ - المساس بالمال العام .

النتيجة :

٣ - غسل الأموال .

النتيجة :

٤ - انتشار الفساد في المجتمع .

النتيجة :

استثمار أموال الفساد في المدن على حساب التنمية الريفية .

النتيجة :

٥ - هجرة سكان الريف إلى المدن .

النتيجة :

٦ - انتشار الفساد على المرأة .

النتيجة :

٧ - محاربة الفساد في المجتمع .

النتيجة :

اعداد المعلم فؤاد سلطان