



الجزء الأول

بِسْمِ اللَّهِ الرَّحْمَنِ الرَّحِيمِ

﴿ وَقُلِ اعْمَلُوا فَسَيَرَى اللَّهُ عَمَلَكُمْ وَرَسُولُهُ وَالْمُؤْمِنُونَ ﴾

صدق الله العظيم



# أطلس الطالب

المصنف الأساسي الأول

إعداد: أ. أحمد محمود الصالحات

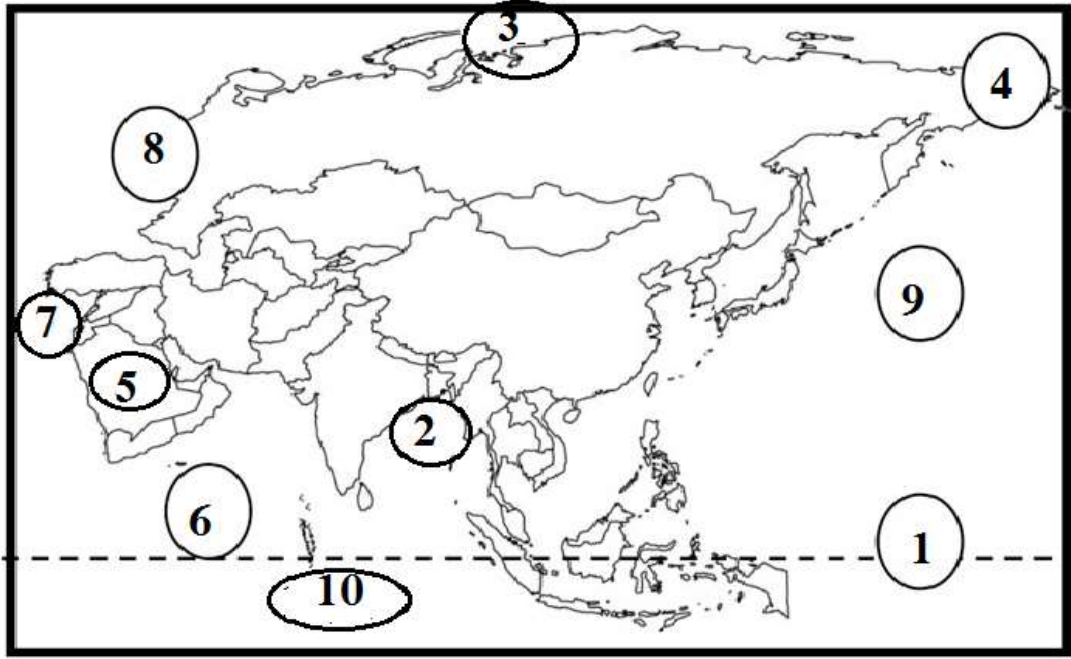
مدير المدرسة

تحت إشراف

أ. جهاد سلمان السكيني

أ. محمد سمير المصالح

الطالب:	
المادة: الدراسات الاجتماعية	
الصف: السابع الأساسي { }	
المدرسة: (أ) للبنين	
العام الدراسي ٢٠١٨-٢٠١٩ م	



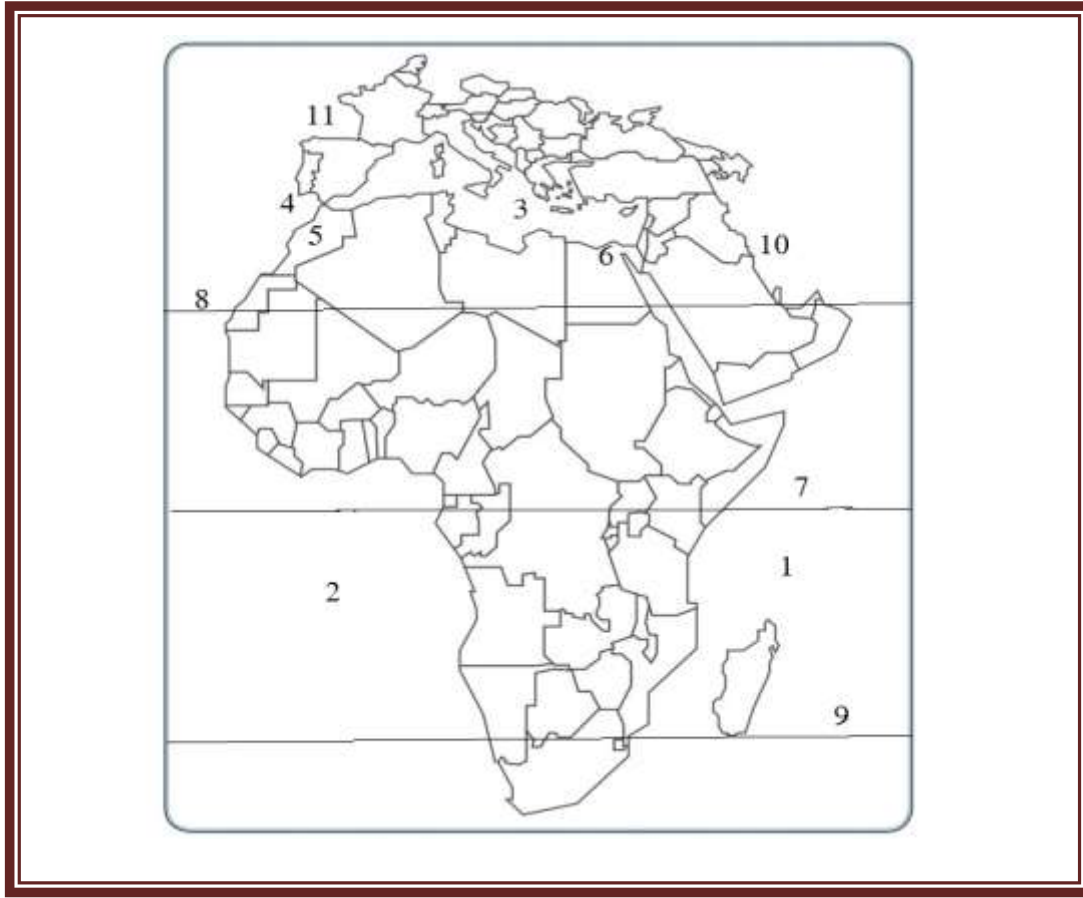
١. دائرة عرض ..... ٢. خليج .....

٣. المحيط ..... ٤. مضيق .....

٥. هضبة ..... ٦. المحيط .....

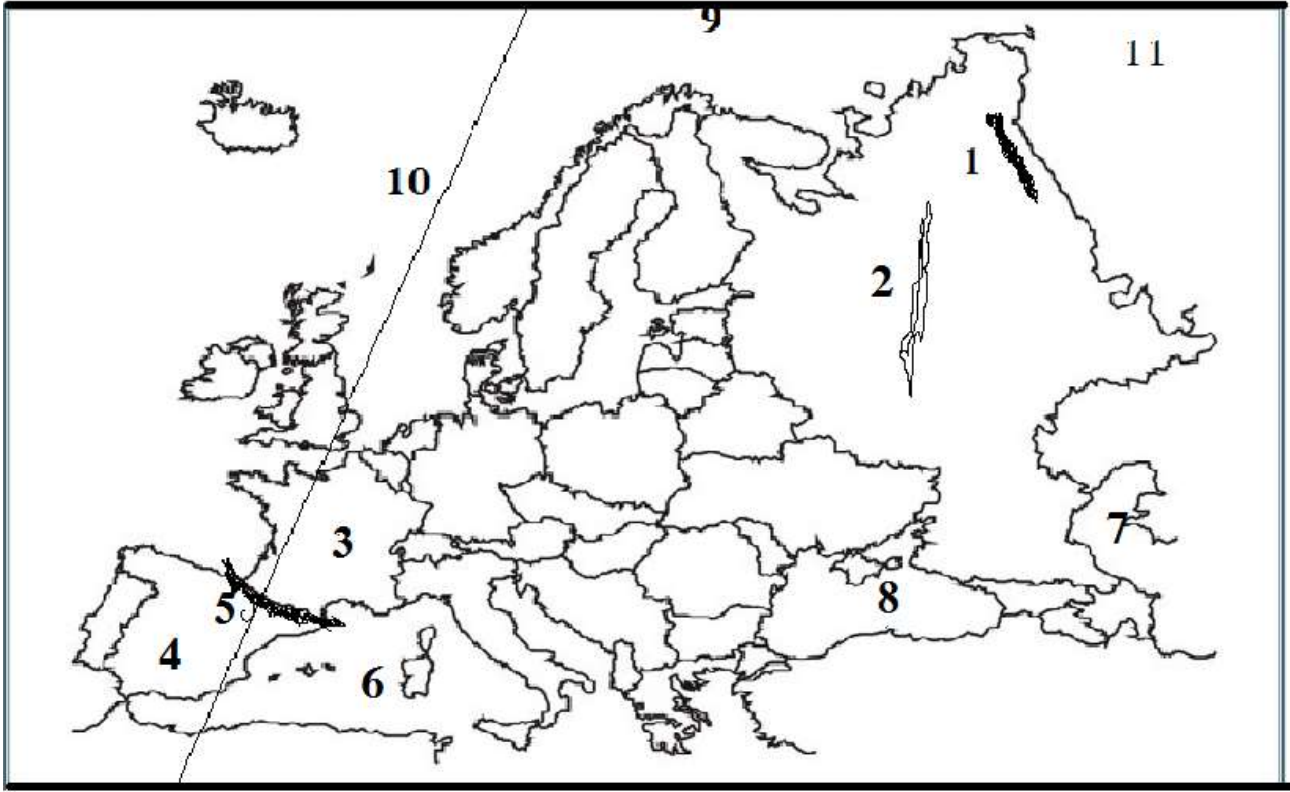
٧. قناة ..... ٨. سلسلة جبال .....

٩. المحيط ..... ١٠. خريطة قارة .....



أكتب ما تشير اليه الارقام على الخريطة التالية التي أمامك ( قارة افريقيا )

١. المحيط ..... ٢. المحيط .....
٢. البحر ..... ٤. مضيق .....
٥. سلسلة جبال ..... ٦. قناة .....
٧. دائرة عرض ..... ٨. مدار .....
٩. مدار ..... ١٠. قارة .....



أكتب ما تشير اليه الأرقام على الخريطة التالية التي أمامك : ( قارة أوروبا )

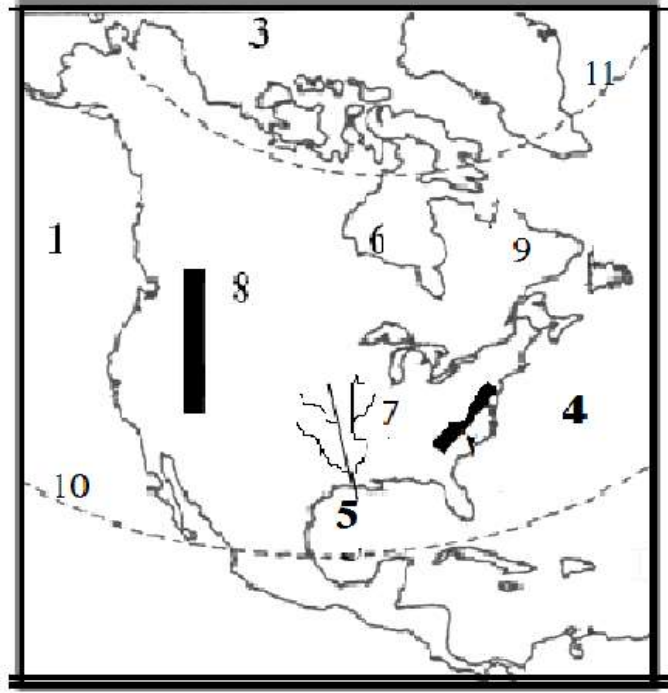
١. سلسلة جبال ..... ٢. سهل .....

٣. دولة ..... ٤. دولة .....

٥. سلسلة جبال ..... ٦. بحر .....

٧. بحر ..... ٨. بحر ..

٩. المحيط ..... ١٠. خط طول .....



أكتب ما تشير اليه الأرقام على الخريطة التالية التي أمامك : ( قارة أمريكا الشمالية )

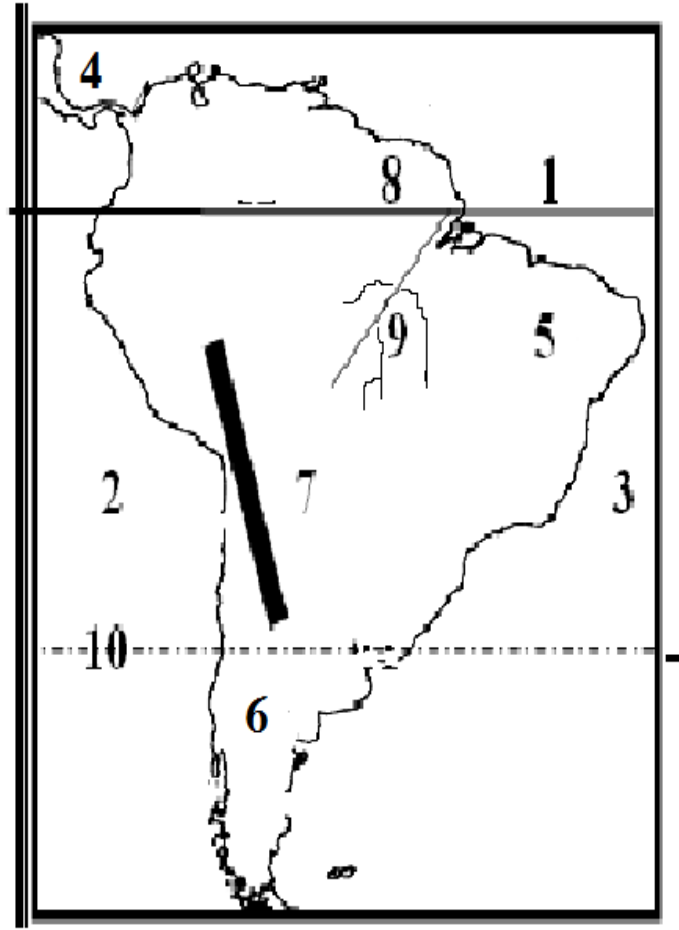
١. المحيط ..... ٢. جبال .....

٣ . المحيط ..... ٤. المحيط .....

٥. خليج ..... ٦. خليج .....

٧. نهر ..... ٨. جبال .....

٩. هضبة ..... ١٠. مدار ..... ١١. دائرة عرض .....



أكتب ما تشير اليه الأرقام على الخريطة التالية التي أمامك ( قارة أمريكا الجنوبية )

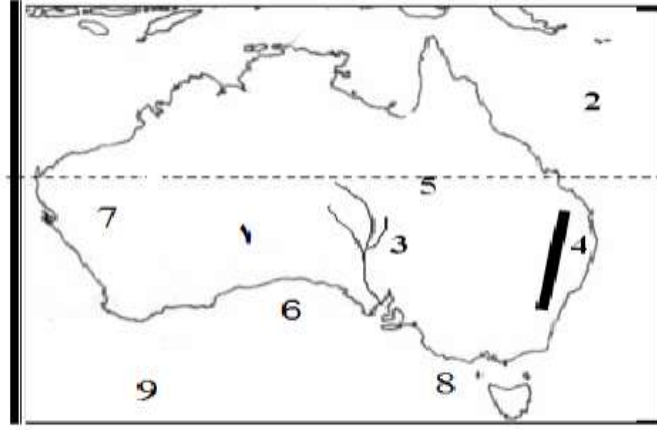
١. خط ..... ٢. المحيط .....

٣. المحيط ..... ٤. قناة .....

٥. هضبة ..... ٦. هضبة .....

٧. جبال ..... ٨. هضبة .....

٩. نهر ..... ١٠. مدار .....



أكتب ما تشير اليه الارقام على الخريطة التالية التي أمامك ( قارة أوقيانوسيا )

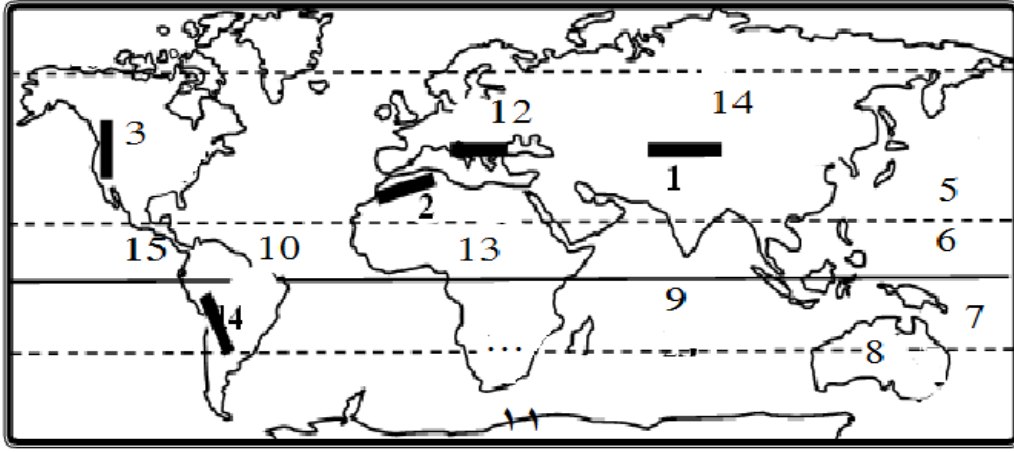
١. دولة ..... ٢. محيط .....

٣. نهر ..... ٤. جبال .....

٥. مدار ..... ٦. خليج .....

٧. الهضبة ..... ٨. جزيرة .....

٩. خريطة قارة ..... ١٠. ظل بقلمك الرصاص موقع المحيط الهندي



أكتب ما تشير اليه الأرقام على الخريطة التالية التي أمامك ( العالم )

١. جبال ..... ٢. جبال .....

٣. جبال ..... ٤. ....

٥. مدار ..... ٥. المحيط .....

٧. قارة ..... ٨. دولة .....

٩. المحيط ..... ١٠. المحيط .....

١١. قارة ..... ١٢. ....

١٣. قارة ..... ١٤. قارة ..... ١٥. قناة .....



أكتب ما تشير اليه الأرقام على الخريطة التي أمامك ( قارة إفريقيا )



١. قارة .....

٢. محيط .....

٣. مضيق .....

٤. البحر .....

٥. دائرة عرض .....

٦. المحيط .....

٧. أرسم على الخريطة نهر النيل

تمت بحمد الله