



الجزء الأول

بِسْمِ اللَّهِ الرَّحْمَنِ الرَّحِيمِ

﴿ وَقُلِ اعْمَلُوا فَسَيَرَى اللَّهُ عَمَلَكُمْ وَرَسُولُهُ وَالْمُؤْمِنُونَ ﴾

صدق الله العظيم



أطلس الطالب

المصدر الدراسي الأول

مدير المدرسة

أ. جهاد سلمان السعني

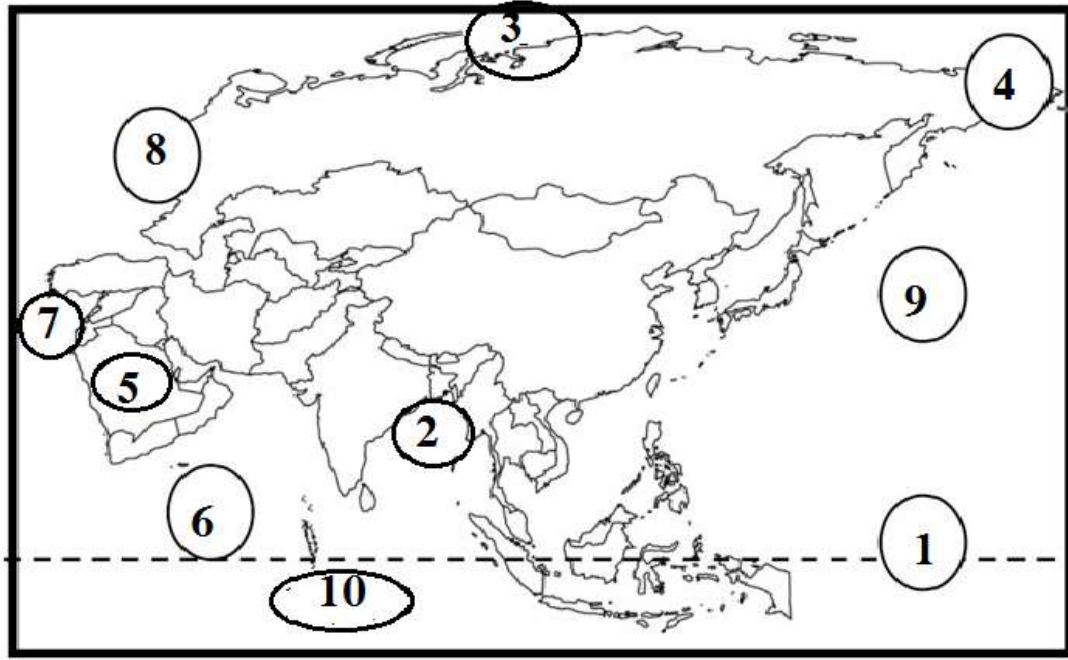
إعداد وطباعة

أ. أدهم الصالحات

تحت إشراف

أ. محمد المصطفى

الطالب:	_____
المادة: الدراسات الاجتماعية	_____
الصف: السابع الأساسي { }	_____
المدرسة: (أ) للبنين	_____
العام الدراسي ٢٠١٨-٢٠١٩ م	



أكتب ما تشير اليه الارقام على الخريطة التالية التي أمامك

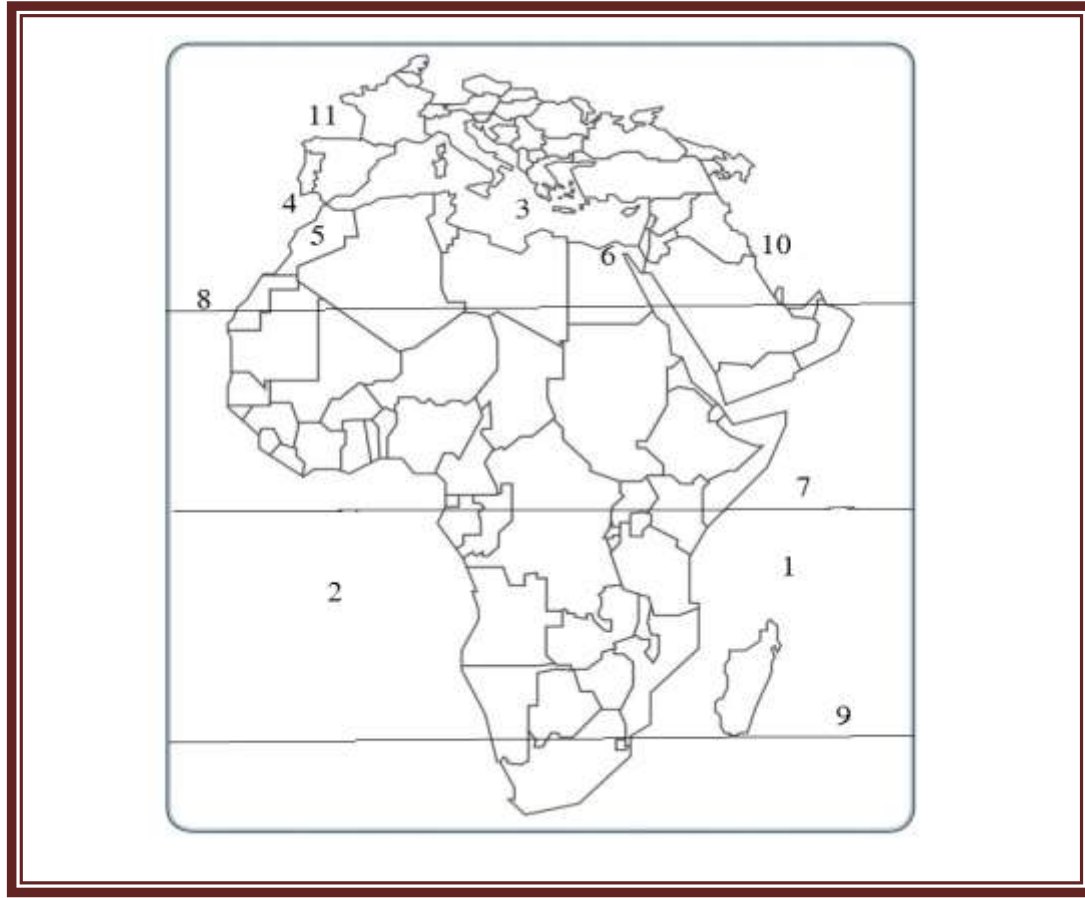
١. دائرة عرض الاستواء..... ٢. خليج البنغال.....

٣. المحيط المحيط المتجمد الشمالي ٤ مضيق بيرنج.....

٥. هضبة نجد..... ٦. المحيط الهندي.....

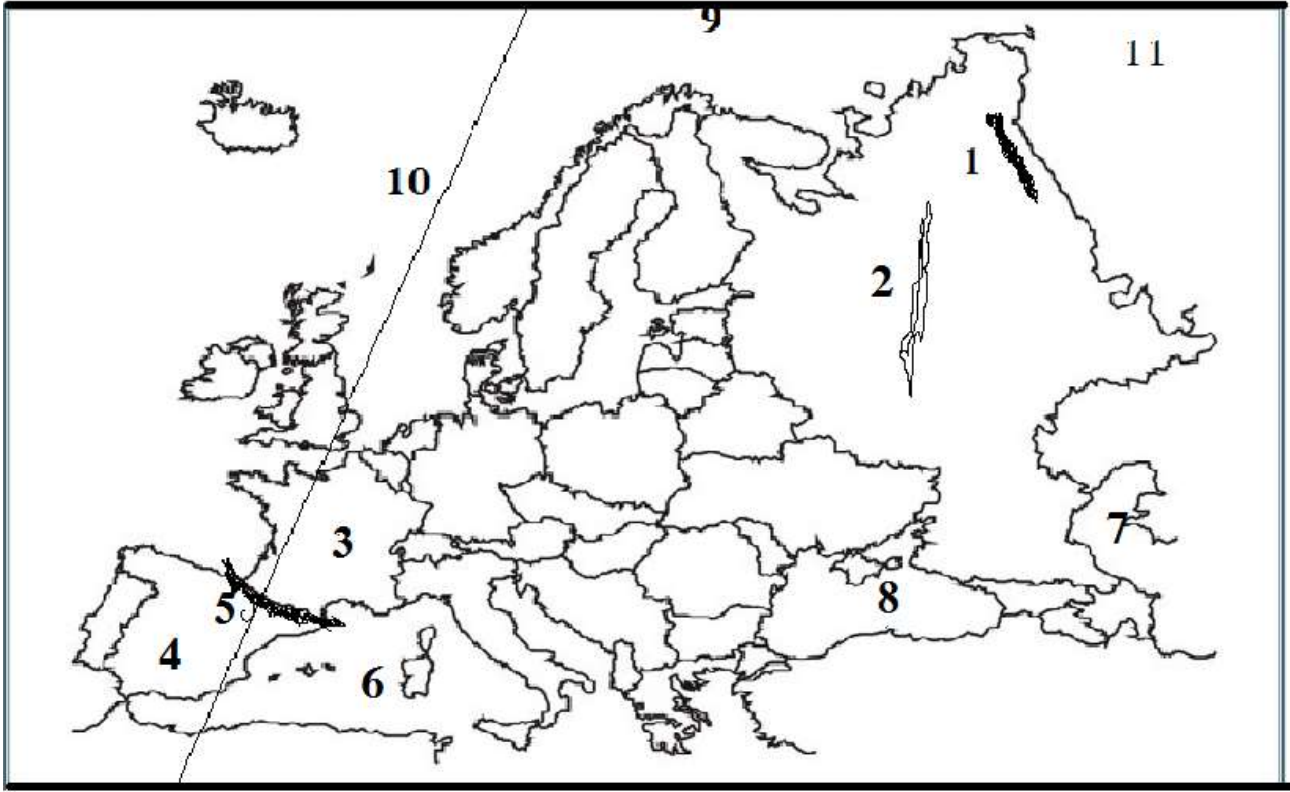
٧. قناة السويس..... ٨. سلسلة جبال أورال.....

٩. المحيط الهادي..... ١٠ خريطة قارة آسيا.....



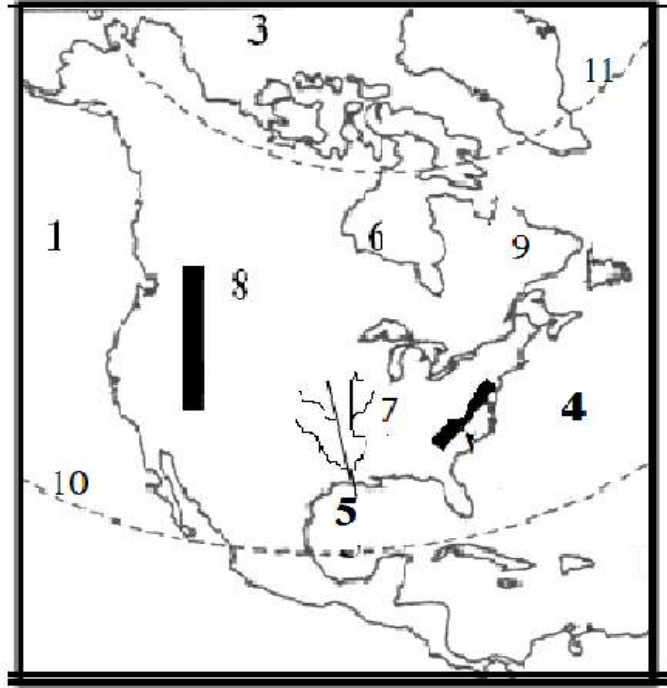
أكتب ما تشير اليه الارقام على الخريطة التالية التي أمامك (قارة افريقيا)

١. المحيط الهندي..... ٢. المحيط الأطلسي.....
٢. البحر الأبيض المتوسط..... ٤. مضيق جبل طارق.....
٥. سلسلة جبال..... ٦. قناة السويس.....
٧. دائرة عرض الاستواء..... ٨. مدار السرطان.....
٩. مدار الجدى..... ١٠. قارة افريقيا.....



أكتب ما تشير اليه الأرقام على الخريطة التالية التي أمامك : (قارة أوروبا)

١. سلسلة جبالأورال..... ٢. سهلالأوروبي العظيم.....
٣. دولةفرنسا..... ٤. دولةاسبانيا.....
٥. سلسلة جبالالبرانس..... ٦. بحرالمتوسط.....
٧. بحرقزوين..... ٨. بحرالأسود.....
٩. المحيطالمتجمد الشمالي ١٠. خط طولغرينتش.....



أكتب ما تشير اليه الأرقام على الخريطة التالية التي أمامك : (قارة أمريكا الشمالية)

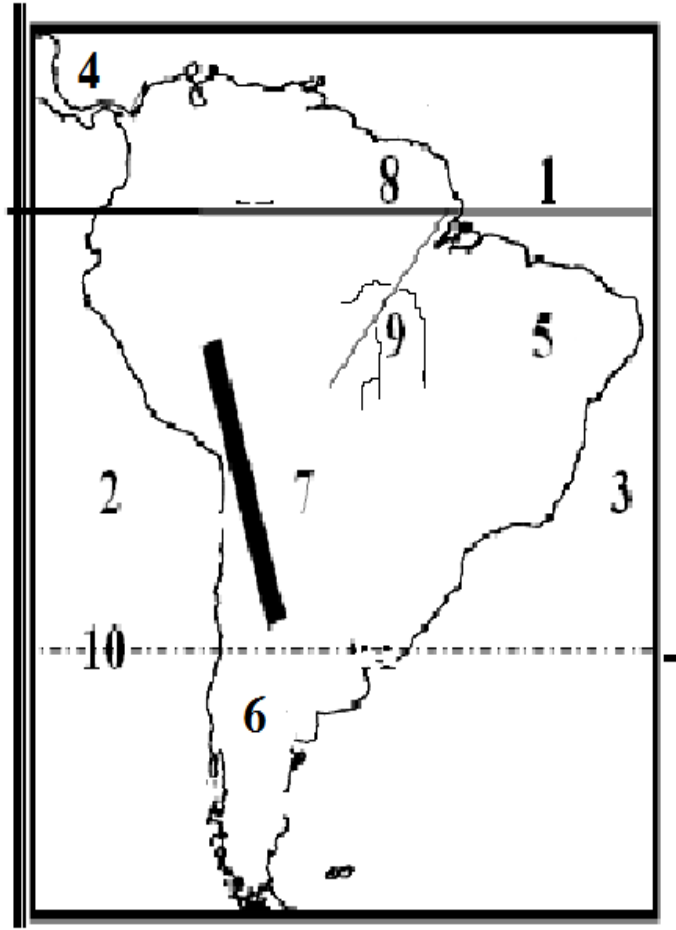
١. المحيط الهادي..... ٢. جبال الألباش.....

٣. المحيط المتجمد الشمالي..... ٤. المحيط الأطلسي.....

٥. خليج المكسيك..... ٦. خليج هديسن.....

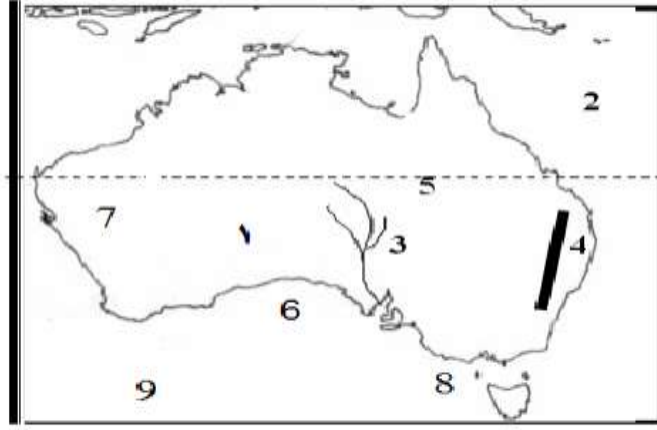
٧- نهر المسيسيبي..... ٨. جبال روكي.....

٩. هضبة البرادور..... ١٠. مدار السرطان..... ١١. دائرة عرض القطبية الشمالية..



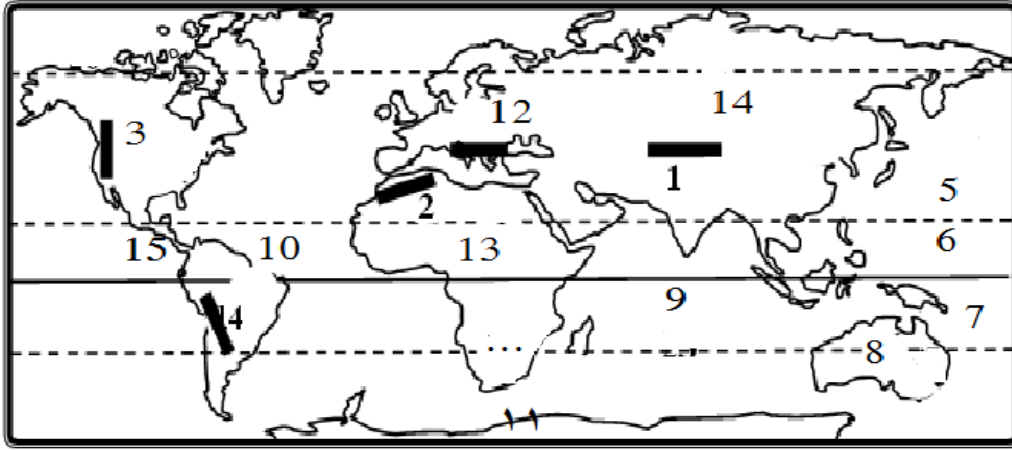
أكتب ما تشير اليه الأرقام على الخريطة التالية التي أمامك (قارة أمريكا الجنوبية)

١. خط الاستواء..... ٢. المحيط الهادي.....
٣. المحيط الأطلسي..... ٤. قناة بنما.....
٥. هضبة البرازيل..... ٦. هضبة بتجونيا.....
٧. جبال الأنديز..... ٨. هضبة غيانا.....
٩. نهر الأمازون..... ١٠. مدار الجدى.....



أكتب ما تشير اليه الارقام على الخريطة التالية التي أمامك (قارة أوقيانوسيا)

١. دولة استراليا ٢. محيط الهادي
٣. نهر موري ، .. دارلنغ ٤. جبال الألب الاسترالية
٥. مدار الجدي ٦. خليج الأسترالي الكبير
٧. الهضبة الغربية ٨. جزيرة تسمانيا
٩. خريطة قارة أوقيانوسيا ١٠. ظلل بقلمك الرصاص موقع المحيط الهندي



أكتب ما تشير اليه الأرقام على الخريطة التالية التي أمامك (العالم)

١. جبال .. الهمالايا..... ٢. جبالأطلس.....

٣. جبال روكي..... ٤. جبالالانديز.....

٥. مدار السرطان..... ٦. المحيط الهادي.....

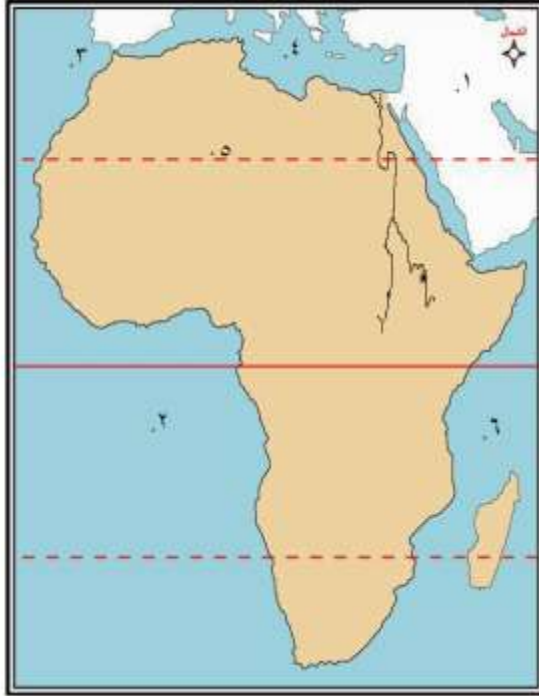
٧. قارة أوقيانوسيا..... ٨. دولة استراليا.....

٩. المحيط الهندي..... ١٠. المحيط الأطلسي.....

١١. قارة أنتاركتيكا..... ١٢. قارة اوروبا.....

١٣. قارة افريقيا..... ١٤. قارة آسيا..... ١٥. قناة بنما.....

أكتب ما تشير اليه الارقام على الخريطة التالية التي أمامك



١. قارة : أسيا

٢. محيط : الأطلسي

٣. مضيق : جبل طارق

٤. بحر : الابيض المتوسط

٥. دائرة عرض : السرطان

٦. محيط : الهندي

٧. حدد على الخريطة بالرسم نهر النيل

تمت بحمد الله