

### الأهداف

١. يصف مظهر السطح الغالب على قارة إفريقيا.
٢. يعين على خريطة إفريقيا الصماء أهم تضاريس القارة (الهضاب، الجبال، السهول).
٣. يميز بين السهول الساحلية والنهرية لقارة إفريقيا.
٤. يعدد أهم أنهار قارة إفريقيا.
٥. يبين أثر الموقع الفلكي في مناخ قارة إفريقيا.
٦. يصف مناخ قارة إفريقيا من حيث الحرارة والأمطار صيفاً وشتاءً.

### السؤال الأول: تأمل خريطة قارة إفريقيا الطبيعية التالية، ثم أجب:

نشاط ١



- ضع خطأً تحت الإجابة الصحيحة مما بين القوسين فيما يلي:  
١. يغلب على مظهر قارة إفريقيا الطابع

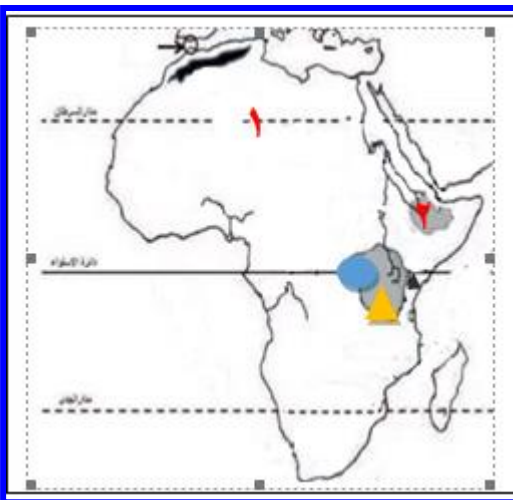
( الجبلي - الهضبي - السهلي )

٢. دائرة العرض الرئيسية التي تمر من وسط قارة إفريقيا

( مدار الجدي - خط الاستواء - مدار السرطان )

نشاط ٢

عزيزي الطالب: تأمل خريطة قارة إفريقيا الطبيعية السابقة، ثم حدد على الخارطة الصماء ما يلي:



١. هضبة الصحراء الإفريقية الكبرى
٢. هضبة أثيوبيا
٣. جبال أطلس
٤. جبل كلمنجارو
٥. بحيرة فكتوريا

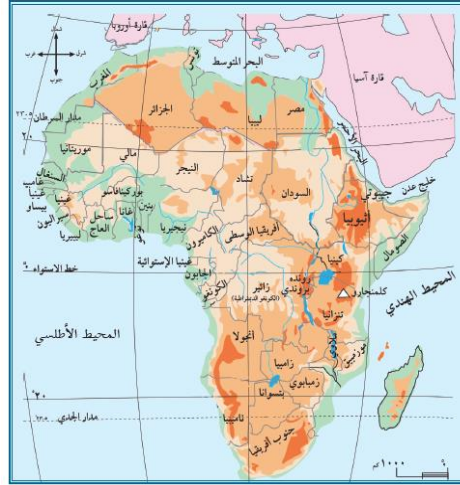
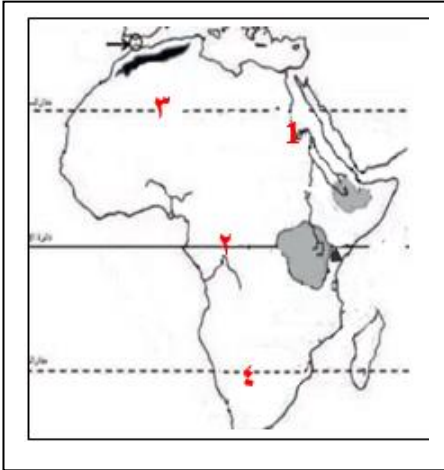
- السؤال الأول: // ضع خطأ تحت الإجابة الصحيحة مما بين القوسين فيما يلي: -**
١. سهول تمتد على ضفاف الأنهار ( الساحلية - الداخلية - الفيضية )
  ٢. السهول الساحلية هي التي تمتد على سواحل ( البحار - المحيطات - جميع ما سبق )



- السؤال الثاني: // ظلل على خريطة قارة أفريقيا بقلمك: -**
- أ. السهول الساحلية (بقلم الرصاص)
  - ب. السهول الداخلية (بقلم الجاف)

**السؤال الأول: استعن بخريطة قارة إفريقيا الطبيعية، ثم حدد على خريطة قارة إفريقيا الصماء ما يأتي:**

نشاط ٤



خريطة قارة إفريقيا

١. نهر النيل
٢. خط الاستواء
٣. مدار السرطان
٤. مدار الجدي

**السؤال الثاني: // اختر من المجموعة [ أ ] ما يناسبها من المجموعة [ ب ] فيما يأتي: -**

- |  |                          |
|--|--------------------------|
| [ أ ]  | [ ب ]                    |
| ١. أعلى جبل في قارة إفريقيا يبلغ ارتفاعه (٥٨٩٥م) ويقع في دولة تنزانيا  | ( ٢ ) الصحراء الإفريقية. |
| ٢. أكبر هضاب العالم مساحة هي هضبة                                      | ( ٣ ) النيل.             |
| ٣. أطول نهر في قارة إفريقيا ويبلغ طوله ٦٨٥٣ كم                         | ( ٤ ) الموسمية.          |
| ٤. الرياح التي تتسبب بسقوط الأمطار صيفاً على السواحل الشرقية لأفريقيا. | ( ١ ) كلمنجارو.          |

2 بطاقات التعلم الذاتي في الدراسات الاجتماعية للصف السابع الأساسي الفصل أول ٢٠٢٠/٢٠٢١ م - غزة



أدى امتداد خط الاستواء، ومداري السرطان والجدي من قارة إفريقيا إلي تعاكس الفصول الأربعة فيها.

. ما النتائج المترتبة على: -

- امتداد خط الاستواء ومداري السرطان والجدي من قارة إفريقيا؟  
النتيجة / ..... تعاكس الفصول الأربعة بين الشمال والجنوب في القارة .....

مناخ القارة: ففي القسم الشمالي، ترتفع الحرارة صيفاً، وتعتدل قرب السواحل، وتسقط الأمطار الموسمية الصيفية على جنوب السودان، ووسطه، وعلى هضبة الحبشة، أما شتاءً فتتخفض درجات الحرارة في الأجزاء الشمالية، وتسقط الأمطار الشتوية على سواحل البحر المتوسط. أما في الأقسام الجنوبية صيفاً، فترتفع الحرارة؛ بسبب تعامد الشمس على مدار الجدي، وتسقط الأمطار الموسمية الصيفية على السواحل الشرقية والجنوبية للقارة، وتنخفض الحرارة شتاءً بشكل عام.

السؤال الأول: // **قارن بين مناخ قارة آسيا في فصل الشتاء وفصل الصيف بحسب الجدول فيما يلي: -:**

م	وجه المقارنة	صيفاً	شتاءً
١	القسم الشمالي	ترتفع الحرارة وتعتدل عند السواحل وتسقط الأمطار على جنوب السودان ووسطه وهضبة الحبشة	تنخفض درجات الحرارة وتسقط الأمطار على الأجزاء الشمالية منها المطلة على البحر المتوسط .
٢	القسم الجنوبي	ترتفع الحرارة بسبب تعامد الشمس على مدار الجدي	تنخفض الحرارة بشكل عام وتسقط الأمطار على السواحل الشرقية والجنوبية للقارة

السؤال الثاني: // **بم تفسر: -**

- ارتفاع درجة الحرارة صيفاً على الأقسام الجنوبية في قارة إفريقيا؟  
السبب / ..... تعامد أشعة الشمس على مدار الجدي .....