



## الوحدة الأولى / الدرس الثالث / قارة أوروبا وامتداد الدولة الإسلامية فيها مظاهر السطح في قارة أوروبا

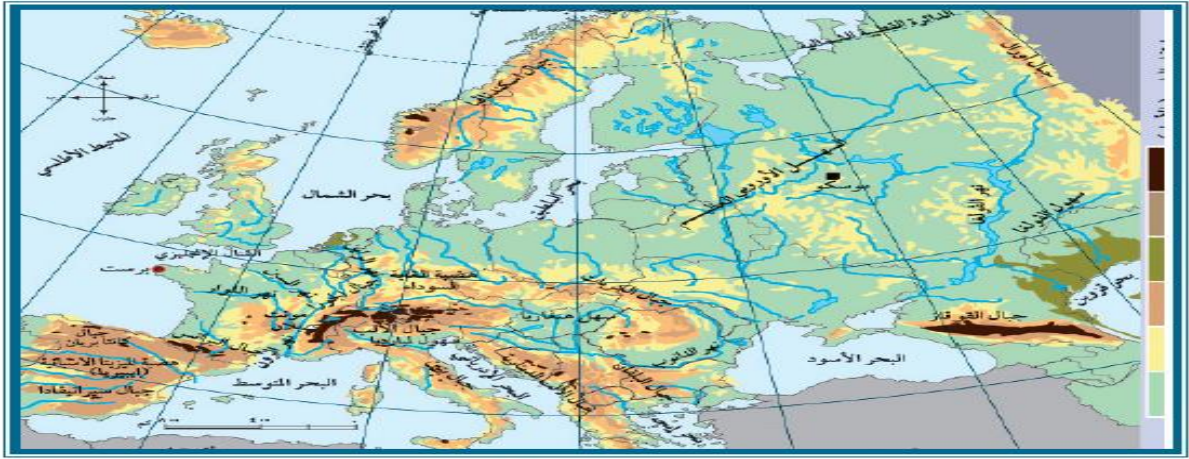
بطاقة ( ١١ )



### الأهداف

١. يتعرف على مظاهر السطح في قارة أوروبا.
٢. يتبين مميزات السهل الأوروبي العظيم في قارة أوروبا.
٣. يحدد جبال قارة أوروبا على الخريطة.
٤. يسمي أهم هضاب قارة أوروبا.
٥. يوازن بين درجات الحرارة في قارة أوروبا صيفاً وشتاءً.

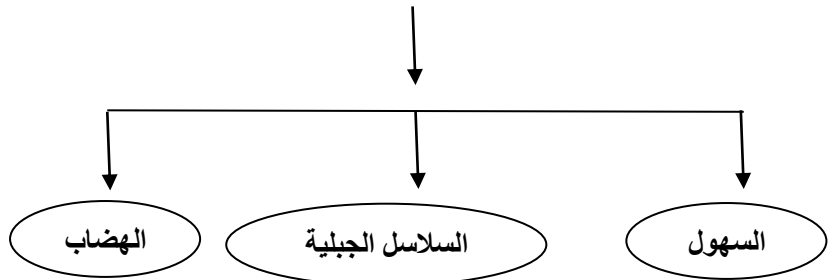
### نشاط ١ عزيزي الطالب: تأمل خريطة قارة أوروبا الطبيعية، ثم أجب:



خريطة قارة أوروبا الطبيعية

### - أكمل مظاهر السطح السائدة في قارة أوروبا:

مظاهر السطح في قارة أوروبا



### عزيزي الطالب استعن بالخريطة السابقة لتجيب عن الأسئلة التالية:

نشاط

### السؤال الأول: // اكتب ما تدل عليه العبارة الآتية: -

- (السهل الأوروبي العظيم . ) يمتد من السواحل الغربية للقارة حتى سلسلة جبال الأورال شرقاً، ويتخلله بعض الأنهار.

**السؤال الثاني: //** ضع خطأ تحت الإجابة الصحيحة فيما بين القوسين مما يلي: -

١. المظهر التضاريسي السائد في قارة أوروبا ( السهول - الجبال - الهضاب - الصحاري )
٢. من أنهار قارة أوروبا ويبلغ طوله ٢٨٥٠ كم ( المسيسيبي - النيل - الدانوب - الأمازون )

**نشاط ٣ عزيزي الطالب: تأمل خريطة قارة أوروبا الطبيعية، ثم حدد على الخريطة الصماء ما يلي:**

نشاط ٣



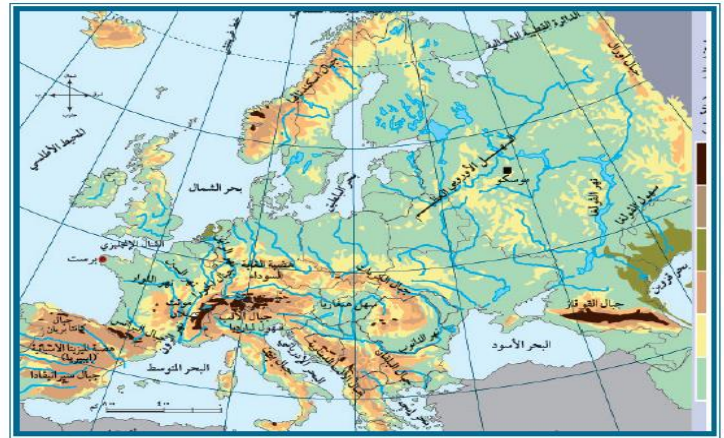
١. سلسلة جبال..أورال..
٢. جبال.....الألب.....
٣. جبل...مونت بلان ..... في فرنسا
٤. جبال..البرانس ... بين فرنسا وإسبانيا
٥. نهر...الدانوب .....

**عزيزي الطالب طابق بين الخريطة الطبيعية لقارة أوروبا و الخريطة السياسية لتتوصل لإجابة السؤال التالي:**

نشاط ٤



خريطة قارة أوروبا السياسية



خريطة قارة أوروبا الطبيعية

ضع رقم مظهر السطح من العمود [ أ ] أمام الدولة التي يوجد فيها من العمود [ ب ] فيما يأتي: -

- [ ب ]
- ( ٣ ) ألمانيا.
  - ( ١ ) فرنسا.
  - ( ٢ ) إسبانيا.

- [ أ ]
١. يوجد جبل مونت بلان (القمة البيضاء)
  ٢. هضبة المزيثا
  ٣. هضبة الغابة السوداء

مناخ القارة، ترتفع درجات الحرارة صيفاً، كلما اتجهنا من الشمال إلى الجنوب، ومن الغرب إلى الشرق، وتسقط الأمطار على معظم أجزاء القارة، باستثناء المناطق الجنوبية المطلة على البحر المتوسط التي تتميز بجفافها في هذا الفصل، وتنخفض درجات الحرارة شتاءً، كلما اتجهنا من الجنوب إلى الشمال، ومن الغرب إلى الشرق، وتسقط الأمطار والثلوج على جميع أجزاء القارة، وتزداد كميتها كلما اتجهنا إلى الغرب.

**السؤال الأول: //** قارن بين مناخ قارة أوروبا في فصل الشتاء وفصل الصيف بحسب الجدول فيما يلي:-

م	وجه المقارنة	صيفاً	شتاءً
١	درجة الحرارة	ترتفع كلما اتجهنا إلى الجنوب إلى الشمال ، ومن الغرب إلى الشرق	تنخفض كلما اتجهنا إلى الجنوب إلى الشمال ، ومن الغرب إلى الشرق
٢	الأمطار	تسقط على معظم أجزاء القارة ما عدا الأجزاء الجنوبية.	تسقط الأمطار والثلوج على كل أجزاء القارة وتزداد كلما اتجهنا إلى الغرب .

**السؤال الثاني: //** ضع علامة ( √ ) أمام العبارة الصحيحة و إشارة ( × ) أمام العبارة غير الصحيحة :-

١. ( √ ) تنخفض درجات الحرارة كلما اتجهنا من الجنوب إلى الشمال، ومن الغرب إلى الشرق في قارة أوروبا شتاءً.
٢. ( × ) تكون الحرارة في شمال قارة أوروبا أعلى من جنوبها في فصل الصيف.
٣. ( √ ) تسقط الثلوج على قارة أوروبا شتاءً وتزداد كميتها كلما اتجهنا إلى الغرب.