

الوحدة الأولى / الدرس الأول قارة آسيا وامتداد الدولة الإسلامية فيها
مظاهر السطح وتأثيرها في مناخ القارة

بطاقة (٣)

الأهداف

١. يفسر تنوع مظاهر السطح في قارة آسيا.
٢. يتعرف على مظاهر السطح في قارة آسيا.
٣. يعين على خريطة قارة آسيا أهم التضاريس.
٤. يذكر أقسام السهول في قارة آسيا.
٥. يستنتج العوامل المؤثرة في مناخ قارة آسيا.
٦. يصف مناخ فلسطين.

عزيري الطالب اقرأ النص التالي، ثم أجب:

نشاط ١

" أدى تنوع التضاريس في قارة آسيا وامتدادها إلى تنوع مظاهر السطح والمناخ فيها ، فهي تشمل الجبال والهضاب والسهول. .. "

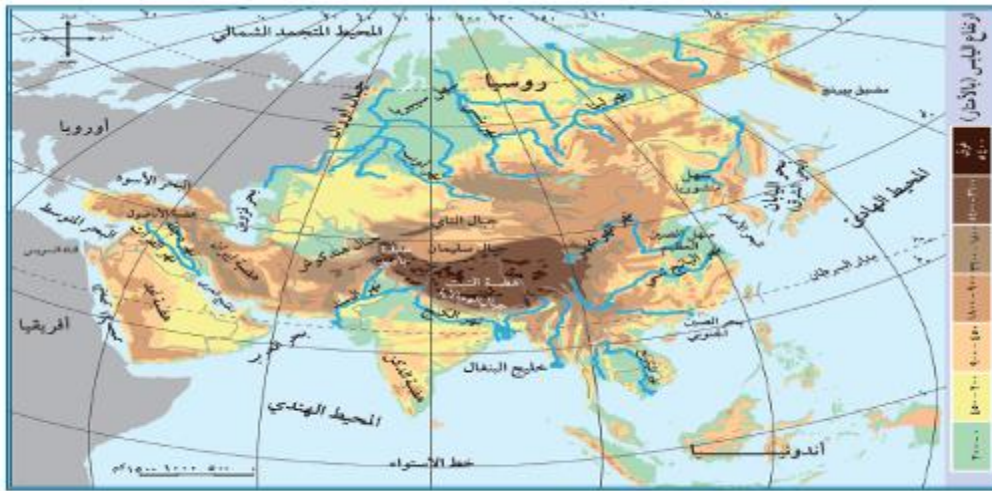
ما النتائج المترتبة على:

- اتساع قارة آسيا وامتدادها من الشمال والجنوب والشرق والغرب؟

النتيجة /..... تنوع مظاهر السطح والمناخ فيها.....

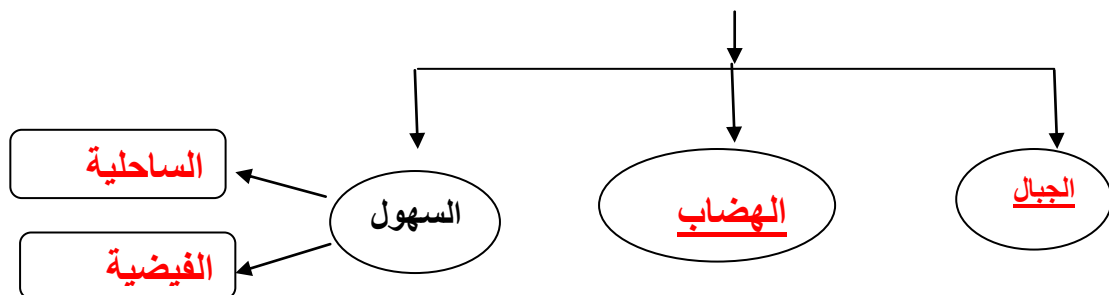
السؤال الأول: تأمل خريطة قارة آسيا الطبيعية، ثم أكمل بحسب المخطط:

نشاط ٢



خريطة قارة آسيا الطبيعية

مظاهر السطح في قارة آسيا

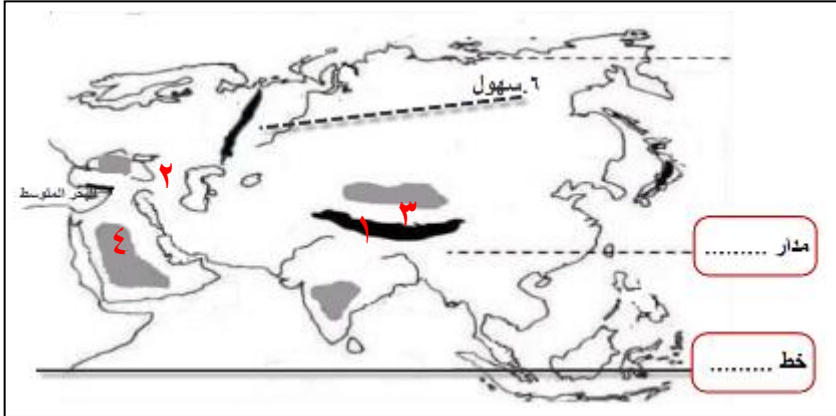


السؤال الثاني: اختر من المجموعة [أ] ما يناسبها من المجموعة [ب] فيما يأتي:

- [أ]
١. أعلى قمة جبلية في العالم وتوجد في دولة نيبال
 ٢. أعلى هضاب العالم وتوجد في دولة الصين
 ٣. توجد هضبة..... في تركيا
 ٤. توجد هضبة..... في المملكة العربية السعودية
 ٥. أعلى قمم جبال فلسطين جبل
- [ب]
- (٢) التبت.
 - (١) إفريست.
 - (٤) نجد.
 - (٣) الأناضول.
 - (٥) الجرمق

عزيزي الطالب: استعن بخريطة قارة آسيا الطبيعية السابقة، لتحدد على الخريطة الصماء:

نشاط ٣



١. جبال الهملايا
٢. هضبة الأناضول
٣. هضبة التبت
٤. هضبة نجد
٥. مدار... السرطان.....
٦. سهول... سيبيريا.....
٧. خط... الاستواء....

عزيزي الطالب اقرأ النص التالي، ثم أجب:

نشاط ٤

" تقسم السهول إلى سهول ساحلية تشرف على المسطحات المائية مثل السهل الساحلي الفلسطيني، والسهول الفيضية على ضفاف الأنهار التي تشكل مناطق زراعية خصبة، نشأت على ضفافها الحضارات القديمة".

اكتب ما تدل عليه العبارات التالية :

١. (.. السهول الساحلية ..) السهول المشرفة على المسطحات المائية، مثل السهل الساحلي الفلسطيني.
٢. (.. السهول الفيضية ..) السهول التي تمتد على ضفاف الأنهار، وتشكل مناطق زراعية خصبة.

عزيزي الطالب تأمل النص التالي وثم أجب:

نشاط ٥

مناخ القارة: يتنوع مناخ قارة آسيا بصورة عامة، فترتفع درجات الحرارة صيفاً في المناطق الجنوبية، وتنخفض في أجزائها الشمالية القريبة من القطب الشمالي، وتسقط الأمطار الصيفية في شرق القارة، ووسطها، وجنوبها، وتعرض القارة لرياح نشطة تكون مصحوبة بأمطار غزيرة تُسمى الأعاصير المدارية. وشتاءً تنخفض الحرارة في جميع أجزاء القارة، لكن تبقى الأجزاء الشمالية الأكثر برودة، وتسقط الأمطار على القارة مركزة على السواحل الغربية.

اختر الإجابة الصحيحة مما بين القوسين فيما يأتي: -

١. ترتفع درجات الحرارة صيفاً في قارة آسيا في المناطق
 ٢. أكثر الجهات برودة في قارة آسيا هي الأجزاء
 ٣. تسقط الأمطار الصيفية على قارة آسيا في
- (الشمالية - الشرقية - الجنوبية - الغربية)
- (الجنوبية - الغربية - الشرقية - الشمالية)
- (شرقها - وسطها - جنوبها - جميع ما سبق)

السؤال الثاني: // اكتب ما تدل عليه العبارة التالية : -
- (..الأعاصير ..) رياح سريعة تتراوح سرعتها ما بين ١٠٠ - ٣٥٠ كم / في الساعة مصحوبة بأمطار غزيرة.

السؤال الثالث: // بم تفسر: -
المناطق الشمالية في آسيا باردة صيفاً وشتاءً؟
السبب / بسبب بعدها عن خط الاستواء وقربها من المنطقة القطبية.....

عزيزي الطالب: تأمل النص، ثم أجب عما يلي:

نشاط ٦

يمتاز مناخ فلسطين في قارة آسيا بالاعتدال بشكل عام، حيث تسقط أمطارها شتاءً بسبب المنخفضات الجوية أما صيفاً فمناخها حار جاف.

السؤال الأول: قارن بين مناخ قارة آسيا في فصل الشتاء وفصل الصيف بحسب الجدول فيما يلي:

م	وجه المقارنة	صيفاً	شتاءً
١	درجة الحرارة	مرتفعة وبالذات في الجنوب وتقل كلما اتجهنا شمالاً	تنخفض في جميع أجزاء القارة وتقل كلما اتجهنا شمالاً
٢	الأمطار	تسقط على وسط وشرق وجنوب القارة	تسقط على القارة مركزة على السواحل الغربية

بم تفسر:
سقوط الأمطار على فلسطين في فصل الشتاء؟

السبب / بسبب المنخفضات الجوية.....