



الوحدة الأولى/ الدرس الأول / قارة آسيا وامتداد الدولة الإسلامية فيها خطوط الطول ودوائر العرض

بطاقة (١)

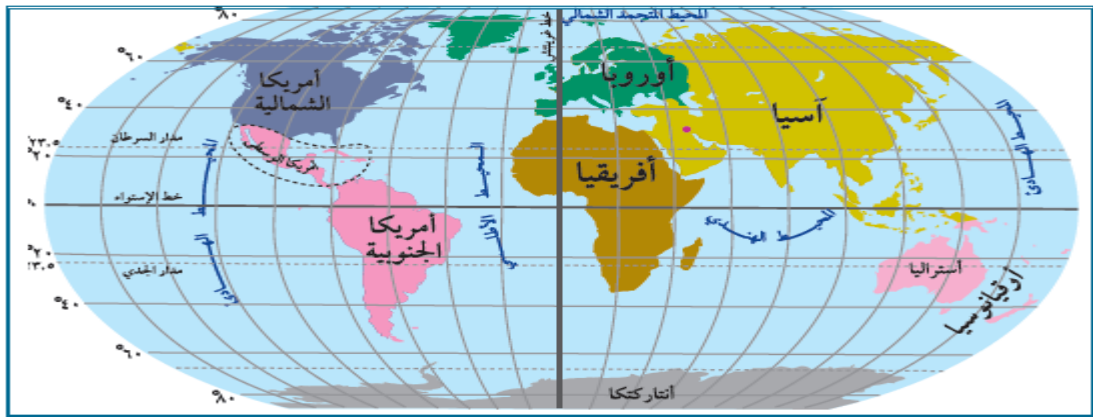


الأهداف

- ١- يسمي قارات العالم.
- ٢- يوقع قارات العالم على خريطة العالم الصماء.
- ٣- يميز بين خطوط الطول ودوائر العرض.
- ٤- يستنتج أهمية خطوط الطول ودوائر العرض.

عزيمي الطالب: تأمل خريطة قارات العالم، وسمي القارات التي تراها:

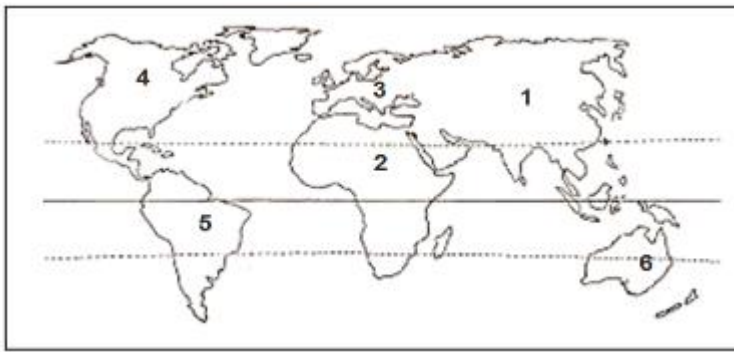
نشاط ١



خريطة قارات العالم

عزيمي الطالب: تأمل خريطة قارات العالم السابقة، ثم اكتب ما تشير إليه الأرقام فيما يأتي:

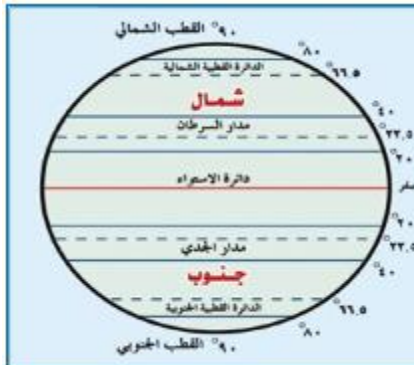
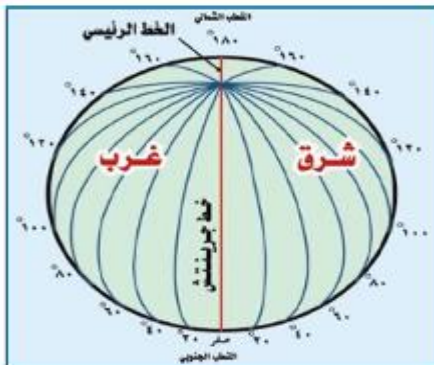
نشاط ٢



١. قارة آسيا
٢. قارة أفريقيا
٣. قارة أوروبا
٤. قارة أمريكا الشمالية
٥. قارة أمريكا الجنوبية
٦. قارة أوقيانوسيا

عزيمي الطالب: تأمل رسم خطوط الطول ودوائر العرض، ثم أجب حسب المطلوب:

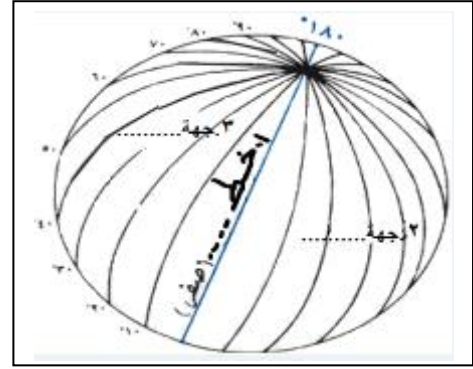
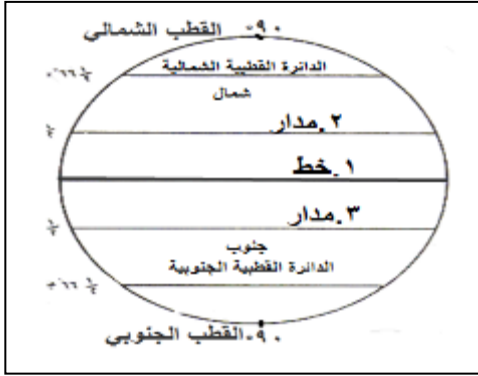
نشاط ٣



أ) أجب عن الأسئلة التالية:

- كم عدد كل خطوط الطول؟
..... ٣٦٠
- كم عدد كل دوائر العرض؟
..... ١٨٠

ب) اكتب ما تشير إليه الأرقام فيما يأتي:



- دوائر العرض.....
 ١. خط الاستواء.....
 ٢. مدار السرطان.....
 ٣. مدار الجدي.....

- خطوط الطول
 ١. خط جرينتش.....
 ٢. جهة الشرق.....
 ٣. جهة الغرب.....

ج) اقرأ الفقرة التالية، ثم أجب:

" خطوط الطول ودوائر العرض هي خطوط وهمية رسمها العلماء على الخرائط والمجسمات بهدف تحديد الموقع الفلكي، والوقت حيث يستفاد من خطوط الطول في معرفة الوقت، ومن دوائر العرض في دراسة المناخ "

١. اكتب ما تدل عليه العبارة التالية :

(خطوط الطول ودوائر العرض) خطوط وهمية رسمها العلماء على الخرائط والمجسمات بهدف تحديد الموقع الفلكي والوقت

٢. اختر الإجابة الصحيحة مما بين القوسين :

(الوقت - المناخ - الحدود)
 تكمن أهمية دراسة دوائر العرض في تحديد

٣. بم تفسر:

• أهمية خطوط الطول.

.....تحديد الوقت (الزمن) والمساعدة في تحديد الموقع

د) قارن بين خطوط الطول ودوائر العرض بحسب الجدول الموضح فيما يأتي:

م	وجه المقارنة	خطوط الطول	دوائر العرض
١	تعريفها	خطوط وهمية رسمها العلماء على المجسمات والخرائط	دوائر وهمية رسمها العلماء على المجسمات والخرائط
٢	عددتها	٣٦٠	١٨٠
٣	أهمها	جرينتش	الاستواء - السرطان - الجدي
٤	أهميتها	تحديد الوقت	دراسة المناخ