

بطاقة رقم (2)

الدرس الثاني: سطح الأرض

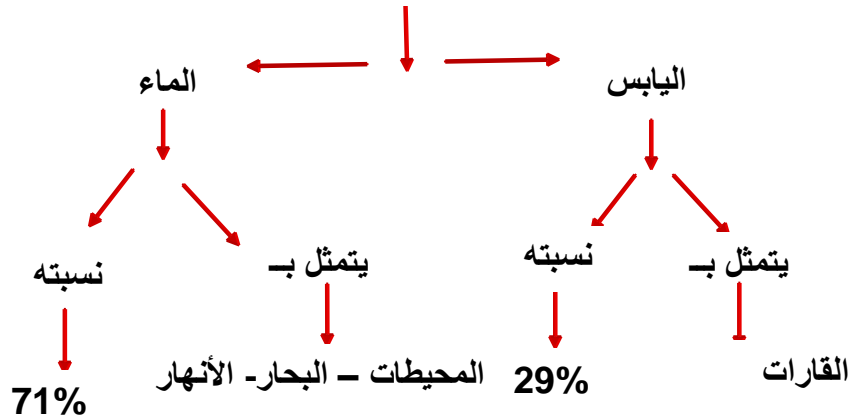
الوحدة: الأولى

1. تذكر أقسام سطح الأرض.
2. تعرف أهم المفاهيم الواردة في الدرس (القارة والجبال والهضاب و...).
3. توقع على خريطة صماء للعالم أهم أشكال السطح الواردة في الدرس.
4. توقع على خريطة صماء لفلسطين أهم أشكال السطح الواردة في الدرس.

أقسام سطح الأرض

❖ **نشاط (1) ملخص تعليمي:** عزيزي الطالب هيا نقرأ الخارطة المفاهيمية التالية:

مكونات سطح الأرض



❖ **القارة:** كتلة كبيرة من اليابسة تحتوي على تضاريس متنوعة مثل الجبال والهضاب والسهول، ويتكون سطح الكرة الأرضية من سبع قارات، ترتب القارات من الأكبر مساحة فالأصغر (آسيا، أفريقيا، أمريكا الشمالية، أمريكا الجنوبية، أوروبا، أوقيانوسيا)

أجب على الأسئلة التالية: -

السؤال الأول: أكمل الفراغ بكلمات مناسبة:

1. يتكون سطح الأرض من **اليابسة و الماء**

3. تبلغ نسبة الماء **71 %** بينما نسبة اليابس **29 %**.

السؤال الثاني: بم تفسر: تركز معظم قارات العالم في نصف الكرة الشمالي.

السبب: **بسبب زيادة تركيز المياه في نصف الكرة الجنوبي.**

السؤال الثالث: رتب قارات العالم من الأكبر إلى الأصغر من حيث المساحة.

- | | | | |
|------------|----------------|---------------------|---------------------|
| 1 - آسيا | 2 - أفريقيا | 3 - أمريكا الشمالية | 4 - أمريكا الجنوبية |
| 5 - أوروبا | 6 - أوقيانوسيا | 7 - أنتاركتيكا | |

أشكال اليابسة على سطح الأرض

❖ نشاط (2-أ) ملخص تعليمي: عزيزي الطالب هيا نقرأ الفقرة التالية:

- يتشكل سطح الكرة الأرضية اليابس (القارات) من عدة مظاهر طبيعية، وهي: -
- الجبل: مناطق مرتفعة لها قمم بارزة وجوانب منحدرية تشبه الهرم، مثل جبال روكي في أمريكا الشمالية وجبال الهملايا في آسيا وجبال الأنديز في أمريكا الجنوبية.
- الهضبة: أراضي مرتفعة عما حولها سطحها واسع ومنبسط، مثل هضبة الأناضول وهضبة الجولان، وهضبة التبت، وجميعها في قارة آسيا.
- السهول: أراضي واسعة منبسطة، مثل السهل الأوروبي العظيم في قارة أوروبا.
- الوادي: مناطق منخفضة وضيقة محصورة بين جبلين تجري فيها المياه وقت سقوط المطر، مثل وادي غزة، وادي الباذان في فلسطين.

أجب على الأسئلة التالية: -

السؤال الرابع: أكتب ما تشير اليه العبارات التالية:

1. (القارة) كتلة كبيرة من اليابسة، تحتوي على تضاريس متنوعة، وتحيط بها المياه كلياً أو جزئياً.
2. (الجبال) مناطق مرتفعة لها قمم بارزة، وجوانب منحدرية تشبه الهرم.
3. (الهضاب) أراضي مرتفعة عما حولها، سطحها واسع ومنبسط.
4. (السهول) أراضي واسعة منبسطة.
5. (الوادي) أراضي منخفضة، وضيقة، ومحصورة بين جبلين تجري فيها المياه وقت هطول المطر.

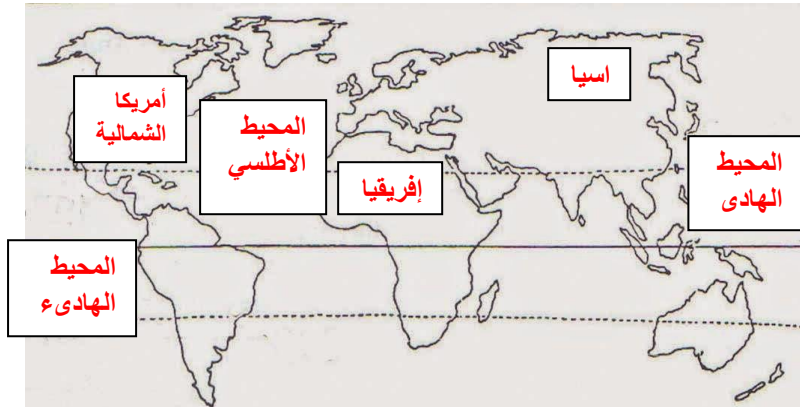
أشكال المسطحات المائية على سطح الأرض: -

❖ نشاط (2-ب) ملخص تعليمي: عزيزي الطالب هيا نقرأ الفقرة التالية:

❖ تتنوع المسطحات المائية في العالم بعدة أشكال، منها: -

- المحيط: مسطحات مائية واسعة تحيط بالكرة الأرضية وتفصل بينها القارات، وهي من حيث المساحة (الهادئ، الأطلسي، الهندي، المتجمد الشمالي).
- البحار: مسطحات مائية أصغر مساحة من المحيطات، مثل البحر المتوسط والبحر الأحمر.
- البحيرات: مسطحات مائية أصغر من البحر ويحيط بها اليابس من جميع الجهات، مثل بحيرة طبريا في فلسطين.
- الأنهار: مجاري مائية عذبة تنحدر من المناطق المرتفعة لتصب في محيط أو بحر، مثل نهر النيل أطول نهر في العالم، ونهر الأمازون في البرازيل.
- الخليج: جزء من مياه البحر أو المحيط تمتد داخل اليابسة، مثل خليج العقبة وخليج السويس والخليج العربي.

السؤال الخامس: حدد على الخريطة حسب ما هو مطلوب:



1. قارة آسيا
2. قارة أفريقيا
3. قارة أمريكا الشمالية
4. المحيط الهادي
5. المحيط الأطلسي

السؤال السادس: ضع إشارة (✓) أمام العبارة الصحيحة وإشارة (x) أمام العبارة غير الصحيحة

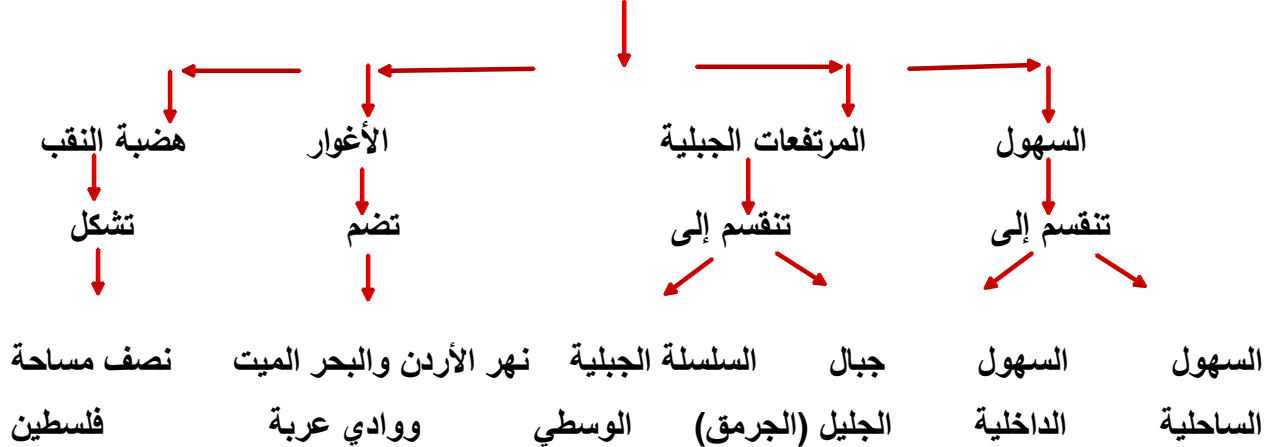
- 1- (x) نهر النيل أطول أنهار العالم، ويقع في قارة أمريكا الجنوبية.
- 2- (✓) الخليج هو جزء من مياه البحر أو المحيط تمتد داخل اليابسة.

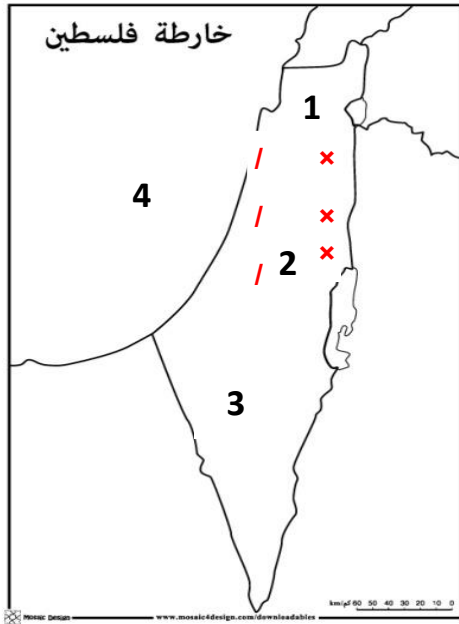
أشكال سطح أرض فلسطين

❖ **نشاط (3) ملخص تعليمي:** عزيزي الطالب هيا نقرأ الخارطة المفاهيمية التالية:

❖ تقع فلسطين في النصف الشمالي من الكرة الأرضية، في الجزء الجنوبي الغربي من قارة آسيا، وهي إحدى دول بلاد الشام، يحدها من الشمال لبنان وسوريا، ومن الشرق الأردن، ومن الغرب البحر المتوسط، ومن الجنوب الخليج العربي، ومن الجنوب الغربي مصر.

تتقسم مظاهر السطح في فلسطين إلى





السؤال السابع: أجب بحسب المطلوب:

(أ) اكتب ما تشير إليه الأرقام على الخريطة:

1. جبال **الجليل**
2. السلسلة الجبلية **الوسطى**
3. هضبة **النقب**
4. البحر **المتوسط**.

(ب) ظلل حسب ما هو مطلوب:

1. منطقة الأغوار **XXXXXX**
2. السهول الساحلية **////////**

السؤال الثامن: ضع إشارة (✓) أمام العبارة الصحيحة وإشارة (x) أمام العبارة غير الصحيحة

- 1- (x) تقع فلسطين في النصف الجنوبي من الكرة الأرضية.
- 2- (x) يحد فلسطين من الغرب البحر الأحمر.

السؤال التاسع: أكمل الفراغ بكلمات مناسبة:

1- دول بلاد الشام هي: **سوريا، لبنان، فلسطين، الأردن.**

2- 2- يحد فلسطين من الشمال: **سوريا ولبنان**