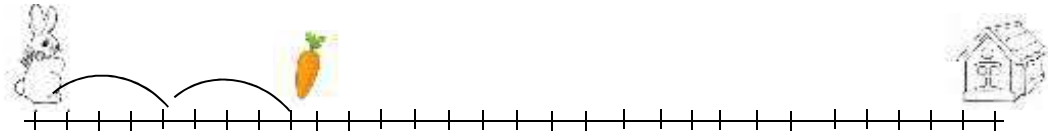
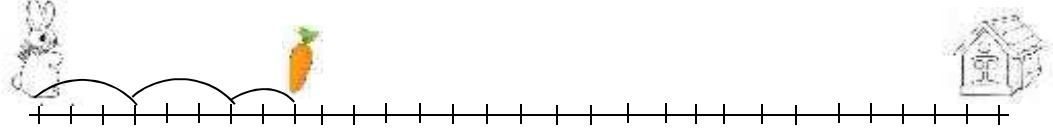


( القفزي )

/ أجب عن الأسئلة التالية :

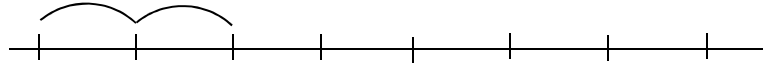
( يتسابق أرنبان على خط الأعداد من أجل الحصول على الجزر ثم الوصول إلى البيت كما في الشكل :



أي الأرنبين يصل إلى الجزر أولاً؟ -----

أي الأرنبين يصل إلى البيت أولاً؟ -----

( ضفدع يقف عند النقطة صفر ويقفز إلى الأمام ( أربع خطوات في كل مرة )



هيا نعد قفزات الضفدع أربعاً : -----

/ :

( -----

( -----

( -----

( -----