

بطاقات التعلم الذاتي – الفصل الدراسي الثاني

بطاقة رقم: ١٧	المادة: الرياضيات	الوحدة: التاسعة	الدرس: الأول
الصف: الأول	الموضوع: الطرح ضمن ١٠ رقم (٢)		

أعزائي الطلبة ، يتوقع منكم في نهاية البطاقة أن تكونوا قادرين على:




١. طرح عددين ضمن العدد ١٠ من خلال المحسوس وشبه المحسوس والمجرد .
٢. إيجاد ناتج طرح عددين ضمن العدد ١٠ من خلال خط الأعداد .
٣. توظيف ما تعلمتم في حل مسائل لفظية على الطرح ضمن العدد ١٠ .

❖ أعزائي الطلبة / هيا نحاول قراءة جمل الطرح من خلال لعبة والإجابة عليها :



<https://www.freepik.com>

$$= 10 - 10$$



$$= 10 - 8$$



$$= 1 - 9$$

نشاط :جد ناتج الطرح /



$$= 10 - 5$$



$$= 10 - 6$$



$$= 10 - 1$$

أعزائي الطلبة / هيا بنا نفكر ؟؟؟

❖ أنا عدد إذا طرحت مني ٥ كان الناتج ٤ ؟

❖ أنا عدد إذا طرحته من ١٠ كان الناتج ٣ فمن أكون ؟

عزيزي ولي الأمر / استخدم (عيدان - شفاطات - وعناصر - وحزم)

مثال / عزيزي الطالب كَوّن من عناصرك ١٠ عناصر ثم قم بإخفاء ٧ عناصر ؟ كم عدد العناصر التي كانت

بحوزتك ؟ كم عنصراً أخفيت ؟ كم تبقى معك ؟ كَوّن جملة الطرح ؟



<https://www.freepik.com>

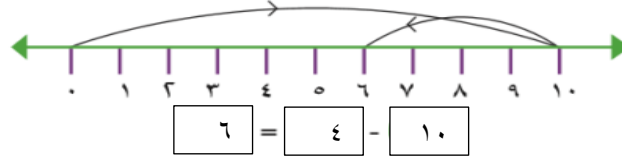
عزيزي ولي الأمر / ساعد ابنك في مزيد من الأمثلة الحسية .

عزيزي ولي الأمر ، ساعد ابنك في رسم خط الأعداد على الأرض وضع عليه الأرقام

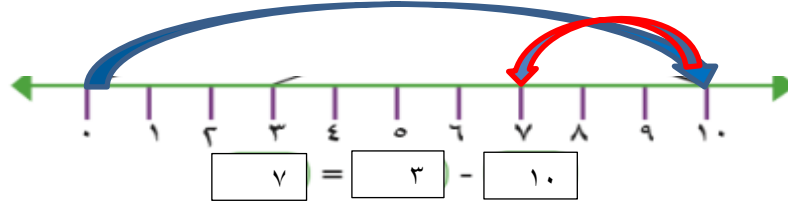
تأمل عزيزي الطالب الخط المرسوم أمامك وتذكر أن اسمه خط الأعداد ثم قم بمساعدة والديك بالسير على خط

الأعداد ١٠ خطوات ثم ارجع للخلف ٤ خطوات .

اكتب جملة الطرح التي تمثل حركتك على خط الأعداد ؟.



- مثال / سار أحمد ١٠ خطوات للأمام ثم عاد للخلف ٣ خطوات . اكتب جملة الطرح التي تمثل حركة أحمد .



<https://www.freepik.com>

نشاط مرحلي

أعزائي الطلبة ، أجيئوا نشاط رقم ٧ صفحة ٥٠ من الكتاب المدرسي .

عزيزي ولي الأمر ساعد ابنك في شرح مفهوم المربع الناقص في عملية الطرح من خلال :

مثال / إذا البيت الأول فارغ والإشارة ناقص نجمع العددين

$$\boxed{6} = \boxed{4} - \boxed{10}$$

مثال / إذا البيت الثاني فارغ والإشارة ناقص نطرح العددين

$$\boxed{6} = \boxed{4} - \boxed{10}$$

نشاط مرحلي

أعزائي الطلبة ، أجيئوا نشاط رقم ٨ صفحة ٥٠ من الكتاب المدرسي .

عزيزي ولي الأمر / ساعد ابنك في قراءة وحل المسألة اللفظية من خلال اللعب .

مثال / زرع فلاح ١٠ أشجار منها ٧ أشجار زيتون ، والباقي تين ، كم عدد أشجار التين ؟

الحل / ١٠ - ٧ = ٣ أشجار .

نشاط ختامي

أعزائي الطلبة ، أجيئوا نشاط رقم (٩ ، ١٠) صفحة ٥١ من الكتاب المدرسي .