

بطاقة رقم: ٣	المادة: الرياضيات	الوحدة: السابعة	الدرس: الثالث
الصف: الأول	الموضوع: المقارنة بين عددين		



<https://www.freepik.com>

أعزائي الطلبة ، يتَوَقَّعُ مِنْكُمْ فِي نِهَآيَةِ الْبَطَاقَةِ أَنْ تَكُونُوا قَادِرِينَ عَلَى:

١. المقارنة بين عددين بصورة صحيحة.

ما أروع تميزك

نشاط قبلي

هيا نقرأ الأعداد بمساعدة أحد أفراد الأسرة من خلال لعبة الفراشات:-



عزيزي ولي الأمر قم بمساعدة ابنك/ بنتك في حل التدريب التالي :



تأمل الأعداد التالية ثم أجب:

{ ٤ - ثمانية - ١٠ - ٦ }

العدد الأكبر هو .....

العدد الأصغر هو .....

أعزائي الطلبة / أجيئوا نشاط رقم ١ صفحة ١٠ من الكتاب المدرسي .

عزيزي ولي الأمر/

المثال الأول : ساعد ابنك في تكوين مجموعة من الأعداد من خلال المحسوسات والأعواد، أطلب منه تكوين

العددين (١٢، ١٦) من المحسوسات ارفعها عالياً، ما هو العدد الأصغر؟ العدد الأكبر إذن العدد ١٢ أصغر من ١٦،

تكوين مجموعة أخرى (١٠، ١٩) ومناقشة ذلك مع طفلك، إذن العدد ١٩ أكبر من ١٠ ، ثم تكوين مجموعة أخرى

(١٣، ١٣)، إذن العدد ١٣ مساوٍ للعدد ١٣.



**المثال الثاني :** اعرض على ابنك مجموعة من الرسومات للعددين وهما (١٩، ١٥) ، ما هو العدد الأصغر؟ العدد الأكبر إذن العدد ١٥ أصغر من ١٩ ، اعرض رسومات لمجموعة أخرى (١٢، ١٨) ومناقشتها مع طفلك، إذن العدد ١٨ أكبر من ١٢ ، اعرض رسومات لمجموعة أخرى (١٦، ١٦)، إذن العدد ١٦ مساوٍ للعدد ١٦.

### نشاط مرحلي

أحسن يا بطل

أعزائي الطلبة ، أجيئوا نشاط رقم (٢) ( أ ) صفحة ١٠ الكتاب المدرسي

### مثال (١)

أكمل بالرسم لتصبح المقارنة صحيحة:

الحل

١٢ > ٧

الحل

١٠ = ١٠

الحل

٥ < ٦

### نشاط مرحلي



<https://www.freepik.com>

أعزائي الطلبة، قم بإكمال الرسم لتصبح المقارنة صحيحة:

٩ > □

□ = ٥

□ < ٨

أعزائي الطلبة / عند المقارنة بين الأعداد ننظر أولاً إلى خانة العشرات و نقارنها إذا تساوت ننظر إلى خانة الآحاد و نحدد من العدد الأصغر و العدد الأكبر.

أعزائي الطلبة : أجيئوا نشاط رقم ٢ / ب صفحة ١١ من الكتاب المدرسي .



## مثال (٢)


ضع إشارة < ، > ، = في : 



<https://WWW.freepik.com>





١٠	<	١٢
٤	=	٤
أربعة		٢+٢
١١	>	٩

## نشاط ختامي

والآن أعزائي الطلبة، هيا نقارن بين الأعداد بوضع إشارة < ، > ، = في : 



<https://WWW.freepik.com>

٢+٤		٧+٣
٩		٢-٨
ستة عشر		١٦
٨		١٣

أعزائي الطلبة /

أجيبوا نشاط رقم ٢/ ج و نشاط (٣ ، ٤) صفحة ١١ من الكتاب المدرسي .

## نشاط تفوق

أعزائي الطلبة، بمساعدة الأهل هيا نكتب العدد المناسب لتصبح المقارنة صحيحة:

	>	١٢
١٣	<	
	=	عشرة

أجيبوا نشاط رقم (٥ ، ٦) صفحة ١٢ من الكتاب المدرسي

أعزائي الطلبة، بمساعدة الأهل هيا نفكر ونكتب العدد المناسب في نشاط رقم ٧

من صفحة ١٢ من الكتاب المدرسي .



<https://WWW.freepik.com>

