

مادة إثرائية في الدراسات الاجتماعية

للفصل السابع

إعداد

المعلم / أمين حسين فرج الله

إشراف المختص التربوي
أ. فريد إسماعيل أحمد

الفصل الثاني

2022/ 2021 م

الوحدة الرابعة

الدرس الأول : العوامل الداخلية لضعف الدولة الإسلامية في الفترة العباسية

السؤال الأول: // ضع دائرة حول رمز الإجابة الصحيحة فيما يلي :-

1. استمر العصر العباسي الأول من عام (750 م - 847 م) يعني : (79 عام - 97 عام - 1597 عام - 411 عام)
2. استمر العصر العباسي الثاني من عام (847 م - 1258 م) يعني : (411 عام - 2105 عام - 97 عام - 114 عام)
3. ظلت الدولة العباسية رغم الضعف والتراجع مزدهرة من الناحية (الاقتصادية - السياسية - العلمية - العسكرية)
4. توجد سلطة العاصمة العباسية في مدينة (دمشق - القاهرة - بغداد - القدس)
5. أول المناطق التي انفصلت عن سلطة الخلافة العباسية (المغرب العربي - الأندلس - مصر - بلاد الشام)
6. امتدت الدولة العباسية في جميع القارات التالية ما عدا (آسيا - أوروبا - أفريقيا - أوقيانوسيا)
7. من البحار التي تحد الدولة الإسلامية شمالاً ما يلي عدا (المتوسط - الأسود - الأحمر - قزوين)
8. وصل امتداد الدولة الإسلامية شرقاً إلى (الهند والصين - فرنسا - البحر المتوسط وبحر قزوين - المحيط الهندي)
9. كل الدويلات التالية ظهرت في المغرب عدا دولة (الإخشيدون - الموحدون - الأدارسة - المرابطون)
10. من الدويلات الإسلامية التي قامت في مصر (الطولونيون - الإخشيدون - الفاطميون - جميع ما سبق)
11. القوى الخارجية التي تعرضت لها الدولة الإسلامية (الفاطميين - السلاجقة - الفرنجة والمغول - الحمدانيون)
12. مدت الدولة الفاطمية نفوذها في المناطق التالية عدا (شمال أفريقيا - مصر - بلاد الشام - الأندلس)
13. دخل الفاطميين في صراع مع الدولة (الأخشيديّة - العبيدية - السلجوقية - المرابطون)

السؤال الثاني: // ضع إشارة (√) أمام العبارة الصحيحة وإشارة (x) أمام العبارة الخطأ فيما يأتي :-

1. () مرت الدولة الإسلامية منذ نشأتها بمرحلة طويلة من القوة والازدهار والتوسع .
2. () أخذ الضعف ينتشر في الدولة الإسلامية بدءاً من العصر العباسي الأول .
3. () رغم الضعف والتراجع في العصر العباسي الثاني، غير أنها ظلت مزدهرة من الناحية العلمية .
4. () انفصال كثير من الولايات عن سلطة الخلافة العباسية زاد من قوتها .
5. () ظهور العديد من الأسر القوية في الدولة الإسلامية ساهم في قوتها .
6. () الامتداد الواسع للدولة الإسلامية ساهم في ضبط زمام الأمور فيها .
7. () ظهور عدد كبير من الأسر القوية في مناطق مختلفة من الدولة العباسية ساهم في قوتها .
8. () أول المناطق التي انفصلت عن الدولة العباسية هي بلاد الأندلس .
9. () تغلبت الدولة الإسلامية على الصعوبات التي واجهتها في مرحلة القوة .
10. () فقد الخلفاء العباسيين زمام الأمور التي آلت إلى قادة الجيش في العصر العباسي الأول .
11. () أدى ضعف الدولة العباسية إلى ظهور مجموعة من الدول داخلها .
12. () الاستعانة بالقوى الخارجية يترتب عليه ازدياد قوة الدولة .

السؤال الثالث: اكتب ما تدل عليه العبارات الآتية :-

1. (.....) الناحية التي ظلت الدولة العباسية مزدهرة رغم الضعف والتراجع فيها
2. (.....) المدينة التي توجد فيها سلطة العاصمة العباسية .
3. (.....) أول المناطق التي انفصلت عن سلطة الخلافة العباسية .
4. (.....) حركة إسلامية معارضة للحكم العباسي ، وطالبت بأحقية علي بن أبي طالب ونسله بالخلافة
5. (.....) الجماعات غير الإسلامية التي ظهرت في الشرق، وتمردت على الدولة الإسلامية .
6. (.....) العصر الذي فقد فيه الخلفاء العباسيين زمام الأمور التي آلت إلى قادة الجيش .
7. (.....) دولة ظهرت في شمال أفريقيا، ومدت نفوذها إلى مصر وبلاد الشام.

السؤال الرابع: // صحح ما تحته خط في العبارات التالية :-

1. (.....) دخلت مرحلة الضعف والتفكك في الدولة الإسلامية بدءاً من العصر العباسي الأول .
2. (.....) توجد سلطة العاصمة العباسية في مدينة دمشق .
3. (.....) ظلت الدولة العباسية رغم الضعف والتراجع مزدهرة من الناحية العسكرية .
4. (.....) امتدت الدولة الإسلامية من أطراف الهند والصين شرقاً وحتى المحيط الهندي غرباً .
5. (.....) أول المناطق التي انفصلت عن الدولة العباسية هي المغرب .
6. (.....) استطاعت الدولة العباسية التغلب على الثورات الداخلية في مرحلة الضعف .
7. (.....) كانت ثورة عبد الله بن علي بن العباس ضد الخليفة هارون الرشيد .
8. (.....) دخلت الدولة الفاطمية في صراع مع الدولة الطولونية .
9. (.....) ظهرت الدولة الحمدانية في شمال أفريقية ، ومدت نفوذها إلى مصر وبلاد الشام .

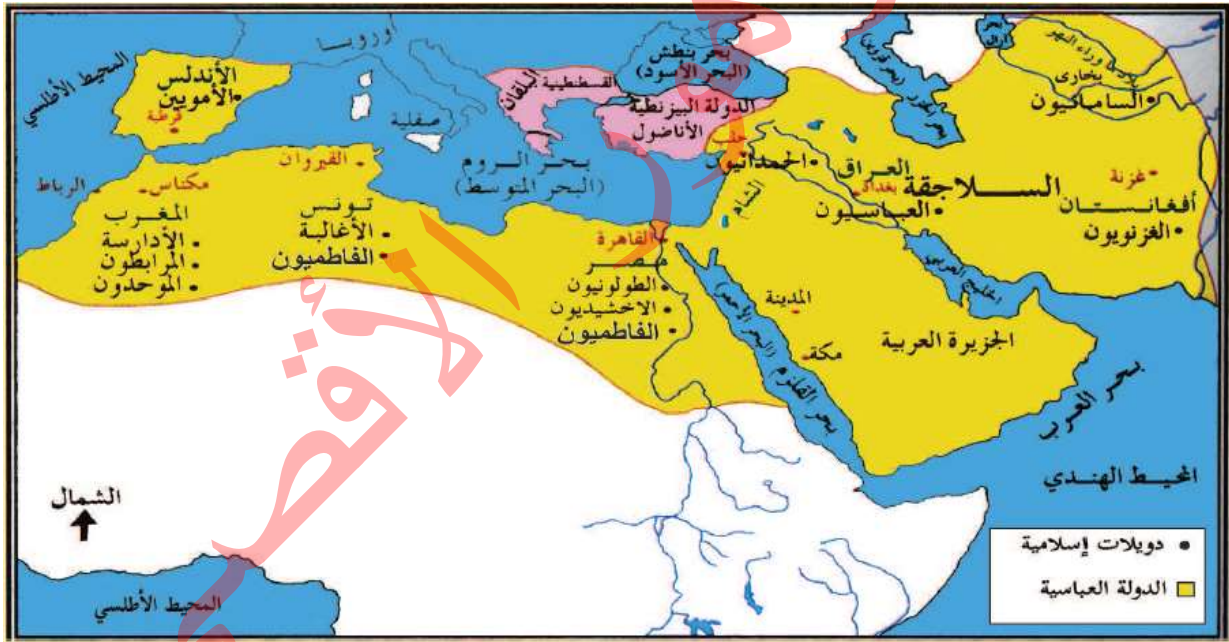
السؤال الخامس: // اذكر السبب :-

1. الضعف السياسي والعسكري في الدولة العباسية في العصر العباسي الثاني .
السبب / ص5
2. عدم قدرة الدولة العباسية على ضبط زمام الأمور فيها .
السبب / ص6
3. معارضة الشيعة لنظام الحكم العباسي .
السبب / ص7
4. عدم تمكن الدولة العباسية من التغلب على الصعوبات التي واجهتها بدءاً من العصر العباسي الثاني .
السبب / ص7
5. آلت زمام الأمور إلى قادة الجيش في العصر العباسي الثاني.
السبب / ص7

السؤال السادس: // ما النتيجة المترتبة على :-

1. ضعف الدولة العباسية .
النتيجة / ص5
2. الامتداد الواسع للدولة العباسية .
النتيجة / ص6
3. دخول الدولة الفاطمية في صراع مع الدولة السلجوقية .
النتيجة / ص7
4. استعانة حكام الدويلات الإسلامية بقوى خارجية كالفرنجة في الصراعات الداخلية .
النتيجة / ص7

السؤال السابع: // تأمل خريطة الدولة العباسية، ثم أجب الأسئلة التي تليها:-



. صنف الدويلات المستقلة عن الدولة العباسية بحسب الجدول :-

دولة	لفاعمية	كان وجودها	لعاظمة
	لفاعمية	كان وجودها	لعاظمة
	لفاعمية	كان وجودها	لعاظمة
	لفاعمية	كان وجودها	لعاظمة

الدرس الثاني : العوامل الخارجية لضعف الدولة الإسلامية في الفترة العباسية

السؤال الأول: // ضع دائرة حول رمز الإجابة الصحيحة فيما يلي :-

1. ظهرت الحركة الفرنجية في الغرب الأوروبي خلال العصور الوسطى نتيجة الأوضاع (الاجتماعية - الاقتصادية - الدينية - جميع ما سبق) ص 9
2. سادت الحركة الفرنجية في أوروبا في القرن الميلادي (السابع - التاسع - الحادي عشر - الخامس عشر) ص 9
3. الفرنجة اسم أطلق على الأوروبيين القادمين من أوروبا وبالأخص من (فرنسا - بلجيكا - سويسرا - اليونان) ص 10
4. كان الصراع الطبقي القائم في الغرب الأوروبي بين الأمراء الإقطاعيين و (الفلاحين - رجال الدين - التجار - الملوك) ص 10
5. بلغ عدد الحملات الفرنجة على العالم الإسلامي (خمسة - ستة - سبعة - ثمانية) ص 11
6. المناطق التي قدمت منها الحملات الفرنجية (فرنسا - ألمانيا - بريطانيا - جميع ما سبق) ص 11
7. جميع الدول الأوروبية التالية شاركت في إرسال الحملات الفرنجية ما عدا (فرنسا - ألمانيا - اليونان - بريطانيا) ص 11
8. احتلال القدس وإقامة مملكة بيت المقدس من نتائج الحملة الفرنجية (الأولى - الثانية - الثالثة - الرابعة) ص 11
9. الحملة الفرنجية التي جاءت إلى فلسطين بعد معركة حطين (الأولى - الثانية - الثالثة - السادسة) ص 11
10. الحملة الفرنجية التي جاءت إلى بلاد الشام إثر استعادة إمارة الرها (الأولى - الثانية - الثالثة - السادسة) ص 11
11. نشأت قبائل المغول في هضبة منغوليا، الممتدة في أواسط قارة (آسيا - أفريقيا - أوروبا - أوقيانوسيا) ص 12
12. "التتار" كلمة جاءت من اللغة الصينية ومعناها (البرابرة - المتوحشين - الهمجيين - جميع ما سبق) ص 13
13. قامت سياسة المغول ومنذ البداية على (القتل - التدمير - التخريب - جميع ما سبق) ص 13
14. سحق المسلمون المغول عام 658هـ / 1260م (اليرموك - حطين - القادسية - عين جالوت) ص 13
15. أول سلاطين المماليك في مصر هو (قطز - أيلك - بيبرس - أقطاي) ص 15
16. الخطر الذي أحرق بالعالم الإسلامي عند تولي المماليك السلطة هو (المغول - الفرنجة - أوب - البيزنطيين) ص 15
17. الدولة التي جاءت على أنقاض الدولة الأيوبية هي (العثمانية - المملوكية - الأموية - الفاطمية) ص 15
18. الدولة التي قامت بإحياء الخلافة العباسية في مصر (الأموية - الأيوبية - المملوكية - العثمانية) ص 16
19. آخر معاقل الفرنجة الصليبيين في بلادنا فلسطين مدينة (القدس - عكا - غزة - عسقلان) ص 6

السؤال الثاني: // ضع إشارة (√) أمام العبارة الصحيحة وإشارة (x) أمام العبارة الخطأ فيما يأتي :-

1. () أدى الوضع الاقتصادي السيء في أوروبا إلى قيام أوروبا بإرسال الحملات العسكرية باتجاه المشرق الإسلامي .
2. () نجحت الحملات الفرنجية في احتلال بعض المناطق في بلاد الشام .
3. () انتهت الفرنجة سياسة التسامح تجاه سكان البلاد الأصليين عند احتلال القدس .
4. () ارتكبت الفرنجة المذابح بحق سكان مدينة القدس عند احتلالها .
5. () كان الهجوم المغولي على الدولة الإسلامية، من أجل التوسع والسيطرة ونهب خيرات البلاد .
6. () أول هجوم للمغول على بغداد كان عام (656 هـ / 1258م) .
7. () اجتاحت المغول الصين بعد العالم الإسلامي .
8. () هجوم المغول على العالم الإسلامي رافقه هجوم آخر باتجاه أوروبا .
9. () هجوم المغول تجاه أوروبا بثبت الرغبة التوسعية لديهم .
10. () قامت سياسة المغول على القتل والتدمير ونشر الذعر والرعب في نفوس سكان البلاد التي احتلوها .
11. () بدأ المغول بالاستعداد لاحتلال بلاد الشام وبقية المشرق الإسلامي بعد سيطرتهم على بغداد .
12. () هدف المغول من تدمير الآثار الإسلامية بعد احتلالهم لبغداد، إلى طمس الثقافة والتراث الإسلامي .
13. () اهتم المغول بالحركة العلمية حيث حافظوا على المكتبات المدارس والمعاهد .
14. () أول من اعتنق الإسلام من المغول كانت القبيلة الذهبية .
15. () لعب المغول دوراً مهماً في الدفاع عن العالم الإسلامي .
16. () قبض المماليك على زمام الأمور في مصر بعد وفاة الصالح نجم الدين أيوب .
17. () لعبت دولة المماليك دوراً مهماً في الدفاع عن الدولة الإسلامية .
18. () انتصار المماليك في عين جالوت أوقف المشرق الإسلامي تحت خطر المغول وسيطرتهم عليه .
19. () قام المماليك بإحياء الخلافة العباسية في مصر بعد أن سقطت في بغداد .
20. () يعود الفضل للمماليك في تخليص بلاد الشام ، وفلسطين بشكل خاص من الاحتلال الفرنجي .

السؤال الثالث: // اكتب ما تدل عليه العبارات الآتية :- :-

1. (.....) اسم أطلق على الأوروبيين القادمين من أوروبا وبالأخص من فرنسا . ص10
2. (.....) اسم أطلق على الحملات التي شنتها أوروبا على المشرق الإسلامي في العصور الوسطى . ص10
3. (.....) الحملة الفرنجية التي نجحت في احتلال القدس، وإقامة مملكة بيت المقدس . ص11
4. (.....) المعركة التي انتصر فيها صلاح الدين الأيوبي على الفرنجة وحرر مدينة القدس . ص11
5. (.....) مجموعة من القبائل الرحل كانت تسكن في هضبة منغوليا الواقعة بين روسيا والصين . ص12
6. (.....) كلمة جاءت من اللغة الصينية ومعناها البرابرة المتوحشين الهمجيين . ص13
7. (.....) معركة هزم فيها المغول عام 658 هـ / 1260م وأنقذ المشرق الإسلامي من خطرهم . ص13
8. (.....) أول من اعتنق الإسلام من القبائل المغولية . ص14
9. (.....) هم فئة من الرقيق الأبيض، يتم الحصول عليهم عن طريق شرائهم من تجار الرقيق والأسر في الحروب . ص15
10. (.....) الدولة التي لعبت دوراً مهماً في الدفاع عن الدولة الإسلامية، وأنقذت المشرق الإسلامي من خطر المغول . ص15

~~~~~

### السؤال الرابع: // صحح ما تحته خط في العبارات التالية :-

1. (.....) سادت الحركة الفرنجية في أوروبا في القرن التاسع الميلادي . ص9
2. (.....) كانت رغبة التجار من مشاركتهم في الحروب الفرنجية، تأسيس ممالك وإمارات لهم في الشرق . ص10
3. (.....) بلغ عدد الحملات الفرنجية على العالم الإسلامي أربعة حملات . ص11
4. (.....) تمكنت الحملة الفرنجية الثانية من احتلال القدس . ص11
5. (.....) جاءت الحملة الفرنجية الثالثة بعد استرداد عماد الدين زنكي لمدينة القدس . ص11
6. (.....) انتهت الحملة الفرنجية سياسة التسامح تجاه سكان البلاد الأصليين عندما دخلوا مدينة القدس . ص11
7. (.....) نشأت قبائل المغول في هضبة منغوليا، الممتدة في أواسط قارة أوروبا . ص12
8. (.....) مما يثبت الرغبة التوسعية للمغول هجومهم على الدولة الإسلامية رافقه هجوم آخر على قارة أوقيانوسيا . ص13
9. (.....) من المعالم الإسلامية الحضارية للمغول في الصين تاج محل . ص14
10. (.....) قامت دولة المماليك في بلاد الشام على إثر وفاة الصالح نجم الدين أيوب . ص15
11. (.....) وقعت معركة عين جالوت على أرض مصر عام 1260م . ص15
12. (.....) قام المماليك بإحياء الخلافة العباسية في دمشق بعد أن سقطت في بغداد . ص16
13. (.....) تعتبر مدينة القدس آخر معاقل الفرنجة في بلادنا فلسطين . ص16
14. (.....) استمر الاحتلال الفرنجي لبلاد الشام وفلسطين لمدة قرن من الزمان تقريباً . ص16

~~~~~

السؤال الخامس: // مَنْ أَكُون :-

1. (.....) البطل المسلم الذي استعاد إمارة الرها من الفرنج . ص11
2. (.....) البطل المسلم الذي انتصر على الفرنج في معركة حطين، وحرر مدينة القدس . ص11
3. (.....) معركة وقعت على أرض فلسطين عام 583هـ / 1187م، وانتصر فيها المسلمون على الفرنجة . ص11
4. (.....) قائد المغول الذي استطاع توحيد القبائل المغولية تحت قيادته، لينبئ إمبراطورية كبيرة لهم . ص12
5. (.....) الخليفة العباسي الذي قام المغول بقتله في عاصمة الخلافة بغداد . ص13
6. (.....) أول حاكم مغولي اعتنق الديانة الإسلامية، حاول التعاون مع الظاهر بيبرس ضد مغول فارس . ص14
7. (.....) حكم مناطق واسعة من روسيا، وعمل على بناء المساجد والمنشآت المعمارية، واجتهد في جهاد أعداء الإسلام . ص14
8. (.....) المرأة التي تولت إدارة أمور مصر في وقت أهدقت فيها مخاطر المغول القادمين من الشرق . ص15
9. (.....) أول سلطان للمماليك في مصر، وبتوليته السلطة كان ذلك إيذاناً بنهاية الدولة الأيوبية وقيام الدولة المملوكية . ص15
10. (.....) قائد المغول الذي أرسل إلى سلطان مصر المملوكي يطالبه بالخضوع والاستسلام له . ص15
11. (.....) السلطان المملوكي الذي سحق المغول في معركة عين جالوت وأنقذ المشرق الإسلامي من خطرهم . ص15
12. (.....) السلطان المملوكي الذي طهر بلادنا نهائياً من الفرنجة . ص16

~~~~~

### السؤال السادس: // قابل المجموعة ( أ ) بما يناسبها من المجموعة ( ب ) :

- |                                                                       |             |
|-----------------------------------------------------------------------|-------------|
| ( أ )                                                                 | ( ب )       |
| 1. الحملة الفرنجية التي نجحت في السيطرة على القدس .                   | ( ) الثانية |
| 2. الحملة الفرنجية التي جاءت بعد استرداد صلاح الدين لمدينة القدس .    | ( ) الأولى  |
| 3. الحملة الفرنجية التي جاءت إلى بلاد الشام إثر استعادة إمارة الرها . | ( ) الثالثة |

### السؤال السابع: // بم تفسر :-

1. قيام أوروبا بإرسال الحملات الفرنجية على المشرق الإسلامي .  
السبب / .....  
ص10
2. المشاركة في الحروب الفرنجية لكل من :-  
أ. الأمراء الإقطاعيين : .....  
ب. رجال الدين : .....  
ص10
3. قدوم الحملة الفرنجية الثانية .  
السبب / .....  
ص11
4. قدوم الحملة الفرنجية الثالثة .  
السبب / .....  
ص11
5. الغزو المغولي للعالم الإسلامي .  
السبب / .....  
ص13
6. قامت سياسة المغول على القتل والتدمير والخراب ونشر الذعر والرعب في نفوس سكان البلاد التي احتلوها .  
السبب / .....  
ص13
7. تدمير المغول للآثار الإسلامية عند احتلالهم بغداد .  
السبب / .....  
ص13
8. قام المماليك بإحياء الخلافة العباسية بعد أن سقطت في بغداد .  
السبب / .....  
ص14

### السؤال الثامن: // ما النتيجة المترتبة على:-

1. الحملة الفرنجية الأولى .  
النتيجة / .....  
ص11
2. تحرير عماد الدين زنكي إمارة الرها .  
النتيجة / .....  
ص11
- انتصار المسلمين في معركة حطين، وتحرير صلاح الدين الأيوبي لمدينة القدس.  
النتيجة / .....  
ص11
3. هزيمة المغول في معركة عين جالوت .  
النتيجة / .....  
ص13



## الدرس الثالث : معارك فاصلة على أرض فلسطين

### السؤال الأول: // ضع دائرة حول رمز الإجابة الصحيحة فيما يلي :-

1. مؤسس الدولة الأيوبية هو ( العادل - صلاح الدين - شيركوه - نجم الدين أيوب ) ص18
2. تأسست الدولة الأيوبية في ( بلاد الشام - العراق - مصر - الحجاز ) ص18
3. قامت دولة المماليك في مصر على أثر وفاة ( صلاح الدين الأيوبي - الصالح نجم الدين أيوب - توران شاه ) ص18
4. عند تولي صلاح الدين الوزارة في مصر كانت تتبع مصر لحكم ( الفاطميين - العباسيين - الأمويين - العثمانيين ) ص18
5. أصبح صلاح الدين حاكماً على مصر ، بعد وفاة ( عماد الدين زنكي - نور الدين زنكي - الصالح إسماعيل - شيركوه ) ص18
6. عمل صلاح الدين الأيوبي بعد توليه السلطة على تحقيق الوحدة بين مصر و ( الشام - اليمن - المغرب - الحجاز ) ص19
7. من استعدادات صلاح الدين لمواجهة الفرنجة ( بث روح الجهاد - تطوير صناعة السفن - بنى الثغور والقلاع - جميع ما سبق ) ص19
8. انطلق صلاح الدين لحرب الفرنج في حطين من ( دمشق - حلب - القاهرة - القدس ) ص20
9. قلعة فرنجية محصنة، تقع حالياً في الأردن، أغار عليها صلاح الدين ( الشوبك - الكرك - عجلون - البتراء ) ص20
10. تقع قلعة الكرك حالياً في ( مصر - الأردن - فلسطين - سوريا ) ص20
11. قاد القوات باتجاه شمال فلسطين، واستطلع أخبار الفرنجة ( شيركوه - الكامل - الأفضل ) ص20
12. النهر الذي عبره صلاح الدين لملاقاة الفرنج في حطين نهر ( النيل - الأردن - دجلة - الفرات ) ص20
13. عسكر صلاح الدين بقواته تمهيداً للمعركة الفاصلة مع الفرنجة بالقرب من ( بحيرة طبرية - نهر الأردن - البحر الميت ) ص20
14. تقع صفورية إلى الشمال الغربي من مدينة ( صفد - طبريا - الناصرة - القدس ) ص21
15. من خصائص الموقع الجغرافي المهم لصفورية ما عدا ( توافر المياه والمراعي - قربية من البحر - أرضها جبلية ) ص21
16. اجتمع على الفرنجة في حطين ( حر النار - حر الصيف - العطش - جميع ما سبق ) ص21
17. تعرض الفرنج أثناء سيرهم إلى حطين إلى ( وعورة الطريق - حرارة الصيف ، كائن المسلمين - جميع ما سبق ) ص21
18. حدثت معركة حطين عام ( 1185م - 1186م - 1187م - 1188م ) ص21
19. اجتمع على الفرنجة في حطين ( حر الصيف - حر النار - العطش - جميع ما سبق ) ص21
20. استقر رأي صلاح الدين في هجومه على أسوار القدس لتحريرها من الفرنجة جهة ( الشمال - الجنوب - الشرق - الغرب ) ص21
21. الفدية التي يدفعها الرجل من الفرنجة مقابل مغادرة المدينة ( دينارين - خمسة دنانير - عشرة دنانير - عشرين دينار ) ص21
22. حرر صلاح الدين الأيوبي بيت المقدس عام ( 1096م - 1187م - 1258م - 1291م ) ص21
23. صادف تحرير صلاح الدين لبيت المقدس مناسبة ( الهجرة النبوية - الإسراء والمعراج - المولد النبوي - عيد الأضحى المبارك ) ص21
24. أحضر المسلمون منبر نور الدين زنكي لتنصيبه في المسجد الأقصى من مدينة ( دمشق - حلب - بغداد - القاهرة ) ص21
25. يقع الحرم الإبراهيمي في مدينة ( القدس - نابلس - الخليل - عكا ) ص21
26. أنشأ صلاح الدين في القدس ما يلي عدا ( المدرسة الصلاحية - الخانقاه الصلاحية - البيمارستان الصلاحية - المدرسة التنكزية ) ص22
27. تقدم المغول إلى بلاد الشام بعد احتلال ( العراق - مصر - المغرب - اليمن ) ص22
28. جميع ما يلي من مدن الشام ماعدا ( دمشق - القاهرة - حلب - حماة ) ص22
29. تقع منطقة عين جالوت بالقرب من مدينة ( أريحا - نابلس - القدس - بيسان ) ص22
30. قرر المماليك مواجهة المغول قبل وصولهم الأراضي ( المصرية - العراقية - الفلسطينية - السورية ) ص22
31. الأمير المملوكي الذي استطلع أخبار المغول في فلسطين ( بيبرس - قطز - أيبك - أقطاي ) ص22

### السؤال الثاني: // ضع إشارة ( √ ) أمام العبارة الصحيحة وإشارة ( x ) أمام العبارة الخطأ فيما يأتي :-

1. ( عمل صلاح الدين الأيوبي بعد توليه السلطة على تحقيق الوحدة بين مصر وبلاد الشام . ) ص19
2. ( دخل صلاح الدين في معارك كبرى مع الفرنجة قبل تحقيق الوحدة الإسلامية . ) ص19
3. ( من أعمال صلاح الدين قبل مواجهة الفرنجة اهتمامه بالناحية العلمية . ) ص19
4. ( تهيأت الفرصة لإعلان صلاح الدين الجهاد ضد الفرنجة ومحاربتهم قبل الإعداد وتحقيق الوحدة . ) ص19
5. ( عسكر صلاح الدين بقواته بالقرب من بحيرة طبريا تمهيداً للمعركة الفاصلة مع الفرنجة . ) ص20
6. ( حرص صلاح الدين الأيوبي على منع الفرنجة من الوصول إلى عيون الماء في طبريا . ) ص20
7. ( تحاشى صلاح الدين مهاجمة الفرنجة في صفورية لحصانة موقعها . ) ص21
8. ( استغل صلاح الدين شروق الشمس للإحاطة بالجيش الفرنجي . ) ص21
9. ( مهد انتصار المسلمين في حطين لتحرير بيت المقدس . ) ص21
10. ( توجه صلاح الدين لتحرير مدن الساحل الفلسطيني بعد تحرير بيت المقدس . ) ص22
11. ( استقر رأي صلاح الدين في هجومه على أسوار القدس لتحريرها من الفرنجة من الجهة الجنوبية . ) ص22
12. ( أهمل صلاح الدين الناحية العلمية في القدس بعد تحريرها . ) ص23
13. ( ترتب على نشر الأمن والسلام في بيت المقدس ازدهار الحياة الاقتصادية . ) ص23

14. ( ) ازدهرت الحياة الاقتصادية في القدس عند تحريرها .
15. ( ) انتشر الأمن والسلام في مدينة القدس عندما حررها المسلمون .
16. ( ) أعمل صلاح الدين القتل والتكيد بالفرنج عند تحرير القدس .
17. ( ) أمر صلاح الدين المسيحيين العرب المحليين بمغادرة مدينة القدس .
18. ( ) سمح صلاح الدين للفرنجة بمغادرة مدينة القدس طوعاً دون إكراه .
19. ( ) لم يتعرض صلاح الدين لمفدسات المسيحيين بالأذى بعد تحرير القدس .
20. ( ) يعتبر التسامح قيمة إنسانية ومظهر من مظاهر تقدم المجتمعات .
21. ( ) قرر المسلمون مواجهة المغول قبل وصولهم الأراضي المصرية .
22. ( ) تنوع تضاريس منطقة عين جالوت حال دون مواجهة المسلمين للمغول .
23. ( ) اعتمد المسلمون في خطتهم في عين جالوت على التمويه والخداع .
24. ( ) وقع جيش المغول في الكمائن التي أعدها المسلمون في عين جالوت .
25. ( ) تمكن المماليك من إنهاء الوجود الفرنجي في بلاد الشام .
26. ( ) التحق المتطوعين الفلسطينيين في جيش المسلمين في معركة عين جالوت .
27. ( ) كان للعلماء المسلمين دوراً كبيراً في حث المماليك على خو معركة عين جالوت .
28. ( ) من شروط تحقيق النصر تحقيق الوحدة، والإعداد والتجهيز المادي والمعنوي .
29. ( ) قضى المماليك في معركة عين جالوت على أسطورة الجيش المغولي الذي لا يقهر .

~~~~~

السؤال الثالث: // اكتب ما تدل عليه العبارات الآتية :-

1. () قلعة فرنجية محصنة، أغار عليها صلاح الدين، تقع حالياً في الأردن.
2. () النهر الذي عبره صلاح الدين لملاقاة الفرنج في حطين .
3. () قرية فلسطينية صغيرة قرب طبرية في فلسطين، تجمع جيش المسلمين قربها استعداداً لمعركة حطين .
4. () المدينة الفلسطينية التي تقع على بعد 7 كم إلى الشمال الغربي من مدينة الناصرة .
5. () معركة دارت أحداثها في سهل حطين في ربيع الآخر 583هـ / 1187م ، ومهدت لتحرير بيت المقدس.
6. () مناسبة إسلامية صادف تاريخها تحرير صلاح الدين لبيت المقدس .
7. () مدرسة أنشأها صلاح الدين الأيوبي في القدس بعد تحريرها .
8. () معركة دارت رحاها إلى الشمال الغربي من مدينة بيسان شمال فلسطين .
9. () جاؤوا من القرى والمدن الفلسطينية ليلتحقوا بالجيش المملوكي في عين جالوت .

~~~~~

### السؤال الرابع: // صحح ما تحته خط في العبارات التالية :-

1. ( ) يعتبر معاوية بن أبي سفيان مؤسس الدولة الأيوبية
2. ( ) استطاع صلاح الدين أن يحقق الوحدة بين اليمن وبلاد الشام
3. ( ) توجه صلاح الدين إلى مصر بسبب الخلافات التي حدثت بين أفراد آل الزنكي .
4. ( ) دارت معركة حطين في سهل بيسان عام 1187م / 583هـ .
5. ( ) أحضر صلاح الدين منبر نور الدين زنكي من مدينة دمشق .
6. ( ) صادف تحرير صلاح الدين لبيت المقدس مناسبة المولد النبوي .
7. ( ) أحضر المسلمون منبر نور الدين زنكي من مدينة دمشق لتنصيبه في المسجد القبلي .
8. ( ) من مظاهر اهتمام المسلمين بالناحية الاجتماعية في القدس إنشاء المدرسة الصلاحية .
9. ( ) أظهر قطز مؤخره الجيش الإسلامي كجزء من خطة الهجوم .
10. ( ) اختار المماليك منطقة عين جالوت الواقعة إلى الشمال الغربي من مدينة يافا مكاناً لمواجهة المغول .
11. ( ) تقع منطقة عين جالوت بالقرب من مدينة الناصرة شمال فلسطين

~~~~~

السؤال الخامس: // من أكون :-

1. () مؤسس الدولة الأيوبية في مصر وبلاد الشام . ص 18
2. () قائد الجيش الزنكي في مصر، تولى صلاح الدين منصب الوزارة بعد وفاته . ص 18
3. () آخر خلفاء الدولة الفاطمية في مصر . ص 18
4. () السلطان الذي انقسم البيت الزنكي على نفسه إثر وفاته . ص 19
5. () حاكم الكرك الفرنجي الذي استولى على قافلة تجارية للمسلمين ، ورفضه إعادتها للمسلمين سلباً . ص 19
6. () السلطان المغولي الذي أرسل تهديداً إلى مصر يطالبها بالاستسلام . ص 24
7. () السلطان المملوكي الذي أعلن السلطان الاستعداد لحرب المغول . ص 24
8. () الأمير المملوكي الذي تقدم بجماعة من العساكر لاستطلاع أخبار المغول في فلسطين . ص 24
9. () قائد المغول الذي قتل في معركة عين جالوت . ص 24
10. () أحد العلماء المسلمين ، كان له دور كبير في توحيد صفوف المسلمين في معركة عين جالوت . ص 24

السؤال السادس: // قابل المجموعة (أ) بما يناسبها من المجموعة (ب) :

- | (أ) | (ب) |
|--|---------------------------------------|
| 1. مؤسس الدولة الأيوبية، وانتصر على الفرنجة في معركة حطين | () سيف الدين قطز ص18 |
| 2. حاكم الكرك الفرنجي الذي استولى على قافلة تجارية للمسلمين ، ورفضه إعادتها للمسلمين سلماً . | () بيبرس ص24 |
| 3. الأمير المملوكي الذي تقدم بجماعة من العساكر لاستطلاع أخبار المغول في فلسطين . | () صلاح الدين ص24 |
| 4. السلطان المملوكي الذي انتصر على المغول في معركة عين جالوت. | () عز الدين بن عبد السلام ص24 |
| 5. أحد العلماء المسلمين ، كان له دور كبير في توحيد صفوف المسلمين في معركة عين جالوت | () أرناط ص24 |

السؤال السابع: // بم تفسر :-

- السبب المباشر لمعركة حطين. **ص19**
السبب /
- نشوب الخلافات بين أبناء البيت الزنكي في بلاد الشام . **ص19**
السبب /
- تجنب صلاح الدين الدخول في معارك كبرى مع الفرنجة بعد توليه السلطة في مصر . **ص19**
السبب /
- تحاشي صلاح الدين الأيوبي مهاجمة صغورية . **ص21**
السبب /
- مهاجمة صلاح الدين الأيوبي طبريا . **ص21**
السبب /
- قتل صلاح الدين أرناط حاكم الكرك الفرنجي بعد أن وقع في الأسر . **ص21**
السبب /
- رفض صلاح الدين طلب الفرنج لمنحهم الأمان. **ص22**
السبب /
- اختيار المماليك فلسطين (عين جالوت) مكاناً لقتال المغول . **ص24**
السبب /
- انتصار المماليك في معركة عين جالوت 1260 م . **ص24**
السبب /

السؤال الثامن: // ما النتيجة المترتبة على:-

- وفاة نور الدين زنكي . **ص19**
النتيجة /
- تمكن صلاح الدين من تحقيق الوحدة بين مصر وبلاد الشام . **ص19**
النتيجة /
- قيام حاكم الكرك الفرنجي بالاستيلاء على قافلة تجارية للمسلمين ، ورفضه إعادتها للمسلمين سلماً . **ص20**
النتيجة /
- معركة حطين 1187 م . **ص21**
النتيجة /
- تحرير المسلمين معظم مناطق الساحل الفلسطيني قبل توجيههم لتحرير بيت المقدس . **ص22**
النتيجة /
- نشر صلاح الدين الأيوبي الأمن والسلام في بيت المقدس بعد تحريرها من الفرنجة . **ص23**
النتيجة /
- انتصار المسلمين في معركة عين جالوت 1260 م . **ص24**
النتيجة /

السؤال التاسع: // تأمل الخريطة، ثم أجب الأسئلة التي تليها:-

أولاً : ص 21



أ. العنوان المناسب للخريطة هو

ب. أجب عما يأتي :-

1. جيش
2. جيش
3. مدينة
4. نهر

ثانياً : ص 23



أ. العنوان المناسب للخريطة هو

ب. أجب عما يأتي :-

1. جيش
2. جيش
3. دولة
4. مدينة

الدرس الرابع : إنهاء الدولة الإسلامية في الأندلس

السؤال الأول: // ضع دائرة حول رمز الإجابة الصحيحة فيما يلي :-

1. مصطلح يطلق على الأندلس (شبه جزيرة القرم - شبه جزيرة أيبيريا - شبه الجزيرة العربية) ص27
2. يطلق اسم الأندلس على دولتي (إسبانيا والبرتغال - إسبانيا وفرنسا - البرتغال وفرنسا - إسبانيا والمغرب) ص27
3. توجد بلاد الأندلس في قارة (آسيا - أفريقيا - أوروبا - أوقيانوسيا) ص27
4. يفصل بلاد الأندلس عن المملكة المغربية (مضيق جبل طارق - المحيط الأطلسي - جبال البرانس) ص27
5. أقرب الدول العربية لبلاد الأندلس (فلسطين - سوريا - المغرب - مصر) ص27
6. يفصل دولة إسبانيا عن فرنسا جبال (الألب - أطلس - البرانس - مونت بلان) ص27
7. تشرف بلاد الأندلس على البحر المتوسط من جهة (الشمال - الشرق والشمال - الشرق والجنوب - الجنوب) ص27
8. يبلغ عرض المضيق الذي يفصل بلاد الأندلس عن المملكة المغربية (15 كم - 20 كم - 25 كم - 30 كم) ص27
9. أشهر المدن الإسبانية وتعتبر عاصمة الدولة وتشكل المركز الثقافي والتجاري فيها (مدريد - برشلونة - بلباو) ص27
10. الميناء الرئيسي لإسبانيا على البحر المتوسط ، في الشمال الشرقي ، وتشتهر بصناعة السفن (مدريد - برشلونة - بلباو) ص27
11. استمر الحكم الإسلامي في الأندلس (من نهاية القرن السابع الميلادي إلى نهاية القرن الخامس عشر الميلادي) أي قرابة : (أربعة قرون - ستة قرون - ثمانية قرون - عشرة قرون) ص28
12. أطلق على الدويلات الإسلامية المتصارعة في الأندلس اسم دول : (المحور - الطوائف - الحلفاء - التعاون) ص28
13. سقطت المناطق الإسلامية المتصارعة في الأندلس في يد (الأسبان - البرتغال - الفرنسيين - الإيطاليين) ص28
14. آخر معقل للمسلمين في الأندلس (أشبيلية - طليطلة - قرطبة - غرناطة) ص28
15. وقعت اتفاقية توقيع غرناطة مع الأسبان (صفر 897 هـ - محرم 897 هـ - ربيع أول 897 هـ - شعبان 897 هـ) ص28
16. ترك مئات الآلاف من مسلمي الأندلس وطنهم إلى (بلاد الشام - فرنسا - إيطاليا - إفريقيا) ص28
17. المحاكم التي أنشأت في الأندلس لمحاربة الديانة الإسلامية (البداية - الخاصة - التفقيش - الاستئناف) ص29

السؤال الثاني: // ضع إشارة (√) أمام العبارة الصحيحة وإشارة (x) أمام العبارة الخطأ فيما يأتي :-

1. () تتمتع الأندلس بموقع جغرافي مهم . ص27
2. () مر الحكم الإسلامي في الأندلس بفترات زاهية من التقدم والازدهار . ص28
3. () كان ملوك الطوائف في الأندلس يدفعون للمالك الأسبانية مبالغ مالية لمساعدتهم ضد بعضهم البعض . ص28
4. () حافظ الأسبان بالعمل على الحضارة العربية الإسلامية في الأندلس . ص28
5. () التزم الأسبان بما جاء في معاهدة تسليم غرناطة . ص28
6. () استمر الحكم الإسلامي للأندلس حوالي ثمانية قرون . ص28
7. () انتهى الوجود الإسلامي في الأندلس بسقوط آخر معقلهم في غرناطة 1492م . ص28

السؤال الثالث: // اكتب ما تدل عليه العبارات الآتية :- :-

1. (.....) هي عاصمة دولة أسبانيا، وتشكل المركز الثقافي والتجاري فيها . ص27
2. (.....) الاسم الذي أطلق على الدويلات الإسلامية المتصارعة في الأندلس . ص28
3. (.....) مبالغ مالية وهدايا يدفعها ملوك الطوائف للأسبان من أجل مصالحهم الخاصة . ص28
4. (.....) محكمة كنسية صليبية أنشأها الباباوات في أوروبا ، مهمتها محاربة الخروج عن المسيحية من خلال البحث عن تنصر وبقي من المسلمين في الأندلس . ص29
5. (.....) اتفاقية دولية صدرت عام 1949م تنص على معاملة الأسرى معاملة إنسانية . ص28
6. (.....) اتفاقية موقعة في محرم 897 هـ / تشرين ثاني 1491م بين المسلمين وملوك الأسبان النصارى ، ولم يلتزم الأسبان بها . ص28

السؤال الرابع: // صحح ما تحته خط في العبارات التالية :-

1. (.....) كانت تسمى أسبانيا والبرتغال في العهد الإسلامي بلاد المغرب العربي . ص27
2. (.....) تقع دولة أسبانيا في قارة أفريقيا . ص27
3. (.....) تعتبر مدينة مدريد الميناء الرئيس لأسبانيا ويقع على البحر المتوسط في الشمال الشرقي . ص27
4. (.....) استولى ألفونسو السادس ملك ليون على مدينة غرناطة، ومنها أخذ يغير على المناطق الإسلامية الأخرى في الأندلس . ص27

السؤال الخامس: // قابل المجموعة (أ) بما يناسبها من المجموعة (ب) :

ص27

(ب)

(أ)

1. أشهر المدن الإسبانية، وهي عاصمة الدولة، وهي تشكل المركز الثقافي والتجاري فيها () بلباو
2. الميناء الرئيس لإسبانيا، يقع في الشمال الشرقي للبحر المتوسط، ويشتهر بصناعة السفن () مدريد
3. ميناء رئيس لإسبانيا ، يقع على خليج البسكاي (المحيط الأطلسي) ويشتهر بتصدير الحديد () برشلونة

~~~~~

**السؤال السادس: // اذكر السبب :-**

ص27

ص28

ص28

ص28

1. تتمتع الأندلس بموقع جغرافي مهم .  
السبب / .....
2. انقسام الأندلس إلى مجموعة من الدويلات أطلق عليها ( دول الطوائف ) .  
السبب / .....
3. ضعف وانهيار الحكم العربي الإسلامي في الأندلس .  
السبب / .....
4. كانت الممالك الإسبانية في شمال الأندلس تزداد قوة وتماسكاً ووحدة .  
السبب / .....

~~~~~

السؤال السابع: // ما النتيجة المترتبة على:-

ص28

ص28

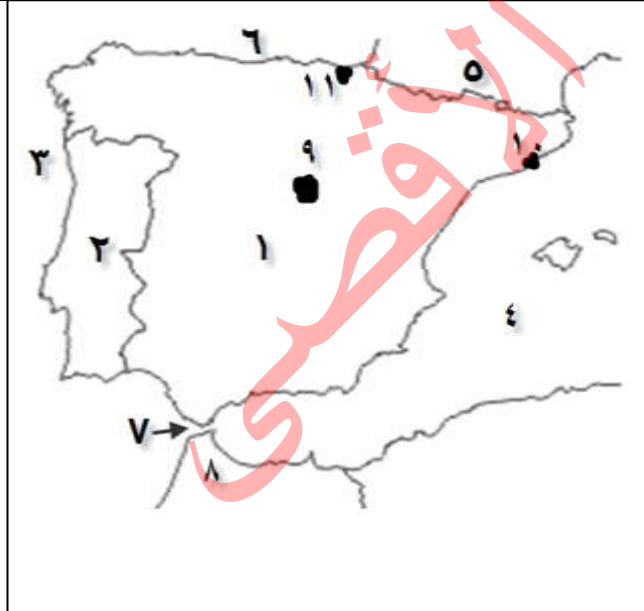
ص28

1. انقسام الأندلس إلى مناطق متصارعة مع بعضها البعض .
النتيجة /
2. تحالف مملكتي قشتالة وأرغون الإسبانيتين .
النتيجة /
3. سقوط غرناطة .
النتيجة /

~~~~~

**السؤال الثامن : تأمل الخريطة، ثم أجب الأسئلة التي تليها :-**

ص27



- أ. العنوان المناسب للخريطة هو : .....
- ب. أجب عما يأتي :-
  1. دولة : .....
  2. دولة : .....
  3. المحيط : .....
  4. البحر : .....
  5. دولة : .....
  6. خليج : .....
  7. مضيق : .....
  8. المملكة : .....
  9. العاصمة : .....
  10. مدينة : .....
  11. مدينة : .....

## الوحدة الخامسة

### الدرس الأول : الموقع الجغرافي للعالم الإسلامي وأهميته

#### السؤال الأول: // ضع دائرة حول رمز الإجابة الصحيحة فيما يلي :-

1. تبلغ عدد دوائر العرض في العالم الإسلامي الذي يمتد بين دائرتي عرض (10) جنوب خط الاستواء إلى (50) شماله : **ص33**  
( 40 دائرة - 50 دائرة - 60 دائرة - 70 دائرة )
2. عدد خطوط الطول التي تمر في العالم الإسلامي الواقع بين خطي طول (18) شمال خط جرينتش إلى (140) شرقه هي : **ص33**  
( 60 خط - 132 خط - 158 خط - 185 خط )
3. جميع ما يأتي يمر في العالم الإسلامي ما عدا ( خط الاستواء - مدار السرطان - خط جرينتش - مدار الجدي ) **ص33**
4. يطل العالم الإسلامي بواجهات بحرية واسعة على ( المحيط الهندي - المحيط الأطلسي - البحر المتوسط - جميع ما سبق ) **ص33**
5. من المضائق والممرات المائية التي يتحكم بها العالم الإسلامي عدا ( ملقا - باب المندب - جبل طارق - بيرنج ) **ص33**
6. يصنف اقتصاد العالم الإسلامي ضمن اقتصاد الدول ( النامية - المتقدمة - البدائية - المتطورة ) **ص35**
7. تتصدر قائمة الأنشطة الاقتصادية في العالم الإسلامي ( الزراعة - الإنتاج الحيواني - صيد الأسماك - البترول ) **ص35**
8. من مقومات الزراعة ( تنوع الأقاليم - تنوع التربة - توافر المياه - جميع ما سبق ) **ص35**
9. من دول العالم الإسلامي التي حققت فائض في الإنتاج الحيواني ( السودان وتشاد - إندونيسيا والمغرب - دول الخليج العربي ) **ص35**
10. يمارس سكان العالم الإسلامي مهنة صيد الأسماك في ( المحيطات - البحار - الأنهار - جميع ما سبق ) **ص35**
11. يصل إنتاج الثروة السمكية في العالم الإسلامي من الإنتاج العالمي إلى حوالي ( 5% - 10% - 15% - 20% ) **ص35**
12. المورد الاقتصادي الأكثر أهمية في دول المغرب وأندونيسيا ( الزراعة - الثروة الحيوانية - صيد الأسماك - البترول ) **ص35**
13. المورد الاقتصادي الأكثر أهمية في دول الخليج العربي ( الفوسفات - الحديد - البترول - المنجنيز ) **ص35**

#### السؤال الثاني: // ضع إشارة ( √ ) أمام العبارة الصحيحة وإشارة ( x ) أمام العبارة الخطأ فيما يأتي :-

1. ( ) الدين الرسمي للعالم الإسلامي هو الإسلام . **ص33**
2. ( ) يقع معظم العالم الإسلامي في قارتي آسيا وأفريقيا . **ص33**
3. ( ) يضم العالم الإسلامي الدول العربية، وأخرى إسلامية غير عربية . **ص33**
4. ( ) يقع العالم الإسلامي في معظمه في نصف الكرة الجنوبي . **ص33**
5. ( ) الامتداد الواسع للعالم الإسلامي ساهم في تنوع أقاليمه المناخية . **ص34**
6. ( ) وجود عوائق طبيعية في العالم الإسلامي يساهم في التواصل بين دوله . **ص34**
7. ( ) تشكل الثروات الاقتصادية دعامة أساسية لتطوير العالم الإسلامي . **ص35**
8. ( ) تتساوى الثروات الاقتصادية في حجمها وتوزيعها في العالم الإسلامي بين دولة وأخرى . **ص35**
9. ( ) يصنف اقتصاد العالم الإسلامي ضمن اقتصاديات الدول المتقدمة . **ص35**
10. ( ) تحقيق التكامل الاقتصادي بين دول العالم الإسلامي يبرزها كقوة مهمة بين التكتلات الاقتصادية العالمية . **ص35**
11. ( ) من أبرز الثروات الاقتصادية في العالم الإسلامي الزراعة . **ص35**
12. ( ) تعتبر الزراعة من بين الأنشطة الاقتصادية التقليدية القديمة . **ص35**
13. ( ) تتصدر الزراعة قائمة الأنشطة الاقتصادية نظراً لتوفر المقومات . **ص35**
14. ( ) توافر المساحات الشاسعة من المراعي ساهم في تحقيق فائض في الإنتاج الحيواني لبعض دول العالم الإسلامي . **ص35**
15. ( ) يعد البترول من الموارد الاقتصادية المهمة في دول العالم الإسلامي . **ص35**
16. ( ) يتميز العالم الإسلامي بتنوع ثرواته المعدنية . **ص35**
17. ( ) تنوع الموارد الاقتصادية في العالم الإسلامي أدى إلى تطور الصناعات المختلفة . **ص35**

#### السؤال الثالث: // اكتب ما تدل عليه العبارات الآتية :-

1. (.....) رقعة جغرافية حضارية جمعت عدة شعوب من أعراق وأجناس مختلفة وحدها الدين الإسلامي. **ص33**
2. (.....) يحتم العمل على تحقيقه بين دول العالم الإسلامي لإبرازها كقوة اقتصادية مهمة بين التكتلات الاقتصادية العالمية. **ص35**
3. (.....) تعتبر من أبرز الثروات الاقتصادية في العالم الإسلامي، وتعد من بين الأنشطة الاقتصادية التقليدية القديمة. **ص35**
4. (.....) ثروة اقتصادية تصل نسبة إنتاجها في العالم الإسلامي من الإنتاج العالمي إلى حوالي 15% . **ص35**
5. (.....) المورد الاقتصادي الأكثر أهمية في دول الخليج العربي . **ص35**



**السؤال الرابع: // صحح ما تحته خط في العبارات التالية :-**

1. (.....) يقع العالم الإسلامي في معظمة في نصف الكرة الجنوبي . ص32
2. (.....) يصنف اقتصاد العالم الإسلامي ضمن اقتصاديات الدول المتقدمة . ص35
3. (.....) يصل إنتاج الثروة السمكية في العالم الإسلامي من الإنتاج العالمي إلى حوالي 10% . ص35
4. (.....) تعتبر الأسماك المورد الاقتصادي الأكثر أهمية في دول الخليج العربي . ص35

~~~~~

السؤال الخامس: // اذكر السبب :-

1. يشغل العالم الإسلامي موقعاً جغرافياً مهماً بالنسبة لقارات العالم .
السبب / ص33
2. تنوع الأقاليم المناخية للعالم الإسلامي، وموارده الاقتصادية .
السبب / ص34
3. يحتم العمل على تحقيق التكامل الاقتصادي بين دول العالم الإسلامي .
السبب / ص35
4. تنصدر الزراعة قائمة الأنشطة الاقتصادية في العالم الإسلامي .
السبب / ص35
5. حققت بعض دول العالم الإسلامي فائضاً في الإنتاج الحيواني .
السبب / ص35
6. يتميز العالم الإسلامي بتنوع ثرواته المعدنية .
السبب / ص35
7. تطور الصناعات التجميعية ، والغذائية ، والمعدنية ، والكيميائية .
السبب / ص35

~~~~~

**السؤال السادس: // ما النتيجة المترتبة على :-**

1. امتداد العالم الإسلامي الواسع على ما يزيد عن 68 دائرة عرض بين الشمال والجنوب .  
النتيجة / ..... ص34
2. إشراف وتحكم العالم الإسلامي في عدد من المسطحات والمضايق والممرات المائية المهمة .  
النتيجة / ..... ص34
3. تحكم العالم الإسلامي في عدد من المضايق والممرات المائية المهمة .  
النتيجة / ..... ص34
4. اتساع مساحته على شكل كتلة متجانسة من حيث مظاهر السطح دون عوائق طبيعية .  
النتيجة / ..... ص34



أ. أكمل العبارات التالية :-

1. العنوان المناسب للخريطة هو .....
  2. الدولة الإسلامية غير العربية التي تقع غرب السودان .....
  3. الدولة الإسلامية الأفريقية العربية التي تقع شرق ليبيا .....
- ب. حدد على الخريطة :-
1. خط الاستواء في قارة أفريقيا .
  2. خط جرينتش .

## الدرس الثاني : شعوب العالم الإسلامي

### السؤال الأول: // ضع دائرة حول رمز الإجابة الصحيحة فيما يلي :-

1. يتوزع سكان العالم الإسلامي في قارات عدا  
( آسيا - أفريقيا - أوروبا - أمريكا الشمالية ) ص38
2. جميع ما يلي من الدول الإسلامية في قارة آسيا ما عدا  
( أندونيسيا - باكستان - نيجيريا - ماليزيا ) ص38
3. بلغ عدد الدول الإسلامية في قارة أفريقيا..... دولة  
( 25 - 26 - 27 - 28 ) ص38
4. يوجد في قارة أمريكا الجنوبية دولتان هما  
( فرنسا وألمانيا - البرتغال وأسبانيا - كسوفو و البانيا ) ص38
5. من الدول الإسلامية في قارة أوروبا  
( الجبلية - الصحراوية - الداخلية - الساحلية ) ص38
6. يتركز معظم سكان العالم الإسلامي في المناطق  
( 3.1 - 3.7 - 4.1 - 1.6 ) ص38
7. نسبة معدلات الخصوبة في فلسطين .....  
( أندونيسيا - الباكستان - بنغلادش - ماليزيا ) ص38
8. من الدول ذات الثقل السكاني في قارة آسيا والأكثر سكاناً هي  
( دول إسلامية يعتبر المسلمون فيها أغلبية بالنسبة للعدد الكلي للسكان ) ص38
9. دول إسلامية تعتبر المسلمون فيها أغلبية بالنسبة للعدد الكلي للسكان ( الهند والصين - سورينام وغويانا - أندونيسيا و الباكستان ) ص38
10. تنتمي إلى مجموعة اللغات السامية  
( العربية - الآشورية - الآرامية - جميع ما سبق ) ص39
11. اللغة السائدة في الدول العربية  
( الهندو آرية - السامية - الملاوية - التشادية ) ص39
12. تبلغ نسبة المتحدثين باللغة العربية في العالم الإسلامي ( 10 - 20 % / 20 - 30 % / 30 - 40 % / 40 - 50 % ) ص40

### السؤال الثاني: // ضع إشارة ( √ ) أمام العبارة الصحيحة وإشارة ( x ) أمام العبارة الخطأ فيما يأتي :-

1. ( ) يتركز معظم سكان العالم الإسلامي في المناطق الساحلية التي تتميز بالمناخ المعتدل . ص38
2. ( ) يمتاز العالم الإسلامي بانخفاض نسبة معدلات الخصوبة . ص38
3. ( ) تحسن المستوى الصحي في العالم الإسلامي يقلل من معدلات الوفيات . ص38
4. ( ) يعد قطاع غزة من أكثر المناطق ازدحاماً بالسكان في العالم . ص38
5. ( ) عدد سكان في العالم الإسلامي ثابت لا يتغير . ص39
6. ( ) يعود التنوع في التركيب اللغوي في العالم الإسلامي إلى تعدد الأعراق . ص40
7. ( ) تكتسب اللغة العربية أهميتها كونها لغة القرآن الكريم . ص40

### السؤال الثالث: // اكتب ما تدل عليه العبارات الآتية :-

1. (.....) بلغت نسبة معدلاتها في فلسطين (4.1) مولود . ص38
2. (.....) منطقة جغرافية من أكثر المناطق ازدحاماً بالسكان في العالم . ص38
3. (.....) من الدول ذات الثقل السكاني في قارة آسيا والأكثر سكاناً . ص39
4. (.....) اللغة السائدة في الدول العربية . ص40

### السؤال الرابع: // صحح ما تحته خط في العبارات التالية :-

1. (.....) بلغ عدد الدول الإسلامية في قارة أفريقيا 26 دولة . ص38
2. (.....) يتركز معظم سكان العالم الإسلامي في المناطق الصحراوية . ص38
3. (.....) تعتبر باكستان من أكثر الدول ذات الثقل السكاني في قارة آسيا والأكثر سكاناً . ص39

### السؤال الخامس: // قابل المجموعة ( أ ) بما يناسبها من المجموعة ( ب ) :-

- |                |        |
|----------------|--------|
| (أ)            | (ب)    |
| الأصول اللغوية | مثالها |

- |                |                             |
|----------------|-----------------------------|
| 1. السامية     | ( ) الماليزية - الأندونيسية |
| 2. الهندو آرية | ( ) اللغة العربية           |
| 3. الملاوية    | ( ) الهاوسا                 |
| 4. التشادية    | ( ) الإيرانية - الأوردية    |

**السؤال السادس: // اذكر السبب :-**

1. يتركز سكان العالم الإسلامي في السهول الساحلية .

السبب / .....  
ص38

2. قلة يمتاز العالم الإسلامي بارتفاع نسبة معدلات الخصوبة، وقلة الوفيات .

السبب / .....  
ص38

3. يعدّ قطاع غزة من أكثر المناطق ازدحاماً بالسكان في العالم .

السبب / .....  
ص38

4. التنوع في التركيب اللغوي في العالم الإسلامي .

السبب / .....  
ص40

5. أهمية اللغة العربية .

السبب / .....  
ص40

~~~~~

السؤال السابع: // ما النتيجة المترتبة على :-

- تحسن المستوى الصحي والغذائي في العالم الإسلامي .

النتيجة /
ص38

الدرس الثالث : فلسطين والعالم الإسلامي

السؤال الأول: // ضع دائرة حول رمز الإجابة الصحيحة فيما يلي :-

1. تشرف فلسطين على البحر المتوسط من جهة (الغرب - الشرق - الشمال - الجنوب)
2. يحد فلسطين من جهة الشمال (البحر المتوسط - سوريا ولبنان - الأردن وسوريا - مصر وخليج العقبة)
3. تبلغ مساحة فلسطين (27.27 كم² - 72.27 كم² - 27.27 كم²)
4. خضعت فلسطين قديماً للسيطرة التالية عدا (الآشورية - البابلية - الرومانية - البريطانية)
5. من المعارك التاريخية التي شهدتها الأراضي الفلسطينية عدا (أنجادين - بلاط الشهداء - حطين - عين جالوت)
6. من مدن الساحل الفلسطيني ما يلي عدا (نابلس - يافا - عكا - حيفا)
7. النهر الذي يصب في البحر الميت (نهر الأردن - نهر العوجا - نهر النيل - نهر الفرات)
8. من المساجد التي تشد إليها الرحال ما عدا (الحرام - الأقصى - النبوي - الأموي)
9. تتبع مدينة غزة لإقليم مناخ (البحر المتوسط - شبه الجاف - الجاف - الصحراوي)
10. تزداد كمية الأمطار في فلسطين على المناطق (الجنوبية - الشرقية - الغربية - الجنوبية والشرقية)
11. حولت القبلة إلى الكعبة المشرفة في السنة للهجرة (الأولى - الثانية - الثالثة - الرابعة)
12. تم احتلال فلسطين من قبل بريطانيا في العام (1917 - 1920 - 1948 - 1967)
13. سيطر الاحتلال الإسرائيلي على كامل فلسطين في العام (1917 - 1948 - 1957 - 1967)
14. حريق المسجد الأقصى من قبل الصهاينة كان عام (1917 - 1948 - 1967 - 1969)
15. عقد أول مؤتمر قمة إسلامي لوزراء خارجية الدول الإسلامية في (جدة - الرباط - لاهور - دكار)
16. محتويات شعار منظمة التعاون الإسلامي (خريطة العالم الإسلامي - الكعبة المشرفة - الهلال - جميع ما سبق)
17. طابع البريد الذي طالب به أعضاء منظمة المؤتمر الإسلامي يحمل اسم (فلسطين - القدس - المسجد الأقصى - قبة الصخرة)
18. من صور انتهاكات الاحتلال للقانون الدولي الإنساني بحق الفلسطينيين : (الاستيطان - طمس المعالم والمقدسات - عزل مدينة القدس وحصار قطاع غزة - جميع ما سبق)

السؤال الثاني: // ضع إشارة (√) أمام العبارة الصحيحة وإشارة (x) أمام العبارة الخطأ فيما يأتي :-

1. () يتميز موقع فلسطين الجغرافي بأهمية استراتيجية.
2. () شهدت الأراضي الفلسطينية عدداً من المعارك التاريخية المهمة .
3. () تمتاز فلسطين بتنوع تضاريسها رغم صغر مساحتها .
4. () يصب نهر الأردن في البحر الميت .
5. () تتميز فلسطين بالتنوع المناخي .
6. () تختلف درجات الحرارة في فلسطين من منطقة إلى أخرى .
7. () تتفاوت كمية الأمطار في فلسطين من منطقة لأخرى .
8. () يعد المسجد الأقصى من أقدس المساجد عند المسلمين .
9. () تعتبر قضية فلسطين هي قضية المسلمين والعرب الأولى .
10. () أقدم الاحتلال على حرق المسجد الأقصى بتاريخ 21/أب/1969م .
11. () عقد أول مؤتمر قمة إسلامي تحضيرياً في الرياض عاصمة المملكة السعودية يوم 25 أيلول 1969 م .
12. () شاركت منظمة التحرير الفلسطينية في المؤتمر بصفة عضو في منظمة المؤتمر الإسلامي .
13. () يشترط في عضوية الانضمام لمنظمة التعاون الإسلامي أن تكون الدولة ذات أغلبية مسلمة .
14. () أكدت منظمة التعاون الإسلامي على الوقوف بجانب الشعب الفلسطيني في كفاحه من أجل الاستقلال والحرية .

السؤال الثالث: // اكتب ما تدل عليه العبارات الآتية :- :-

1. (.....) من المساجد التي تشد إليها الرحال، وهو أولى القبليتين، وثاني المسجدين، وثالث الحرمين .
2. (.....) تمتد بمحاذاة البحر المتوسط من رأس الناقورة شمالاً إلى رفح جنوباً .
3. (.....) الفصل الذي تسقط فيه الأمطار على فلسطين .
4. (.....) قبلة المسلمين الأولى، ومن أقدس المساجد عند المسلمين.
5. (.....) من المنظمات الحكومية الدولية الكبرى في العالم وتضم في عضويتها سبعة وخمسين دولة ذات أغلبية مسلمة ، موزعة على أربع قارات .
6. (.....) يرأسها أمين عام المنظمة لضمان الاتصال بين الدول الأعضاء وتنسيق العمل فيما بينها .
7. (.....) المدينة التي اختيرت لتكون المقر المؤقت لمنظمة المؤتمر الإسلامي .
8. (.....) صندوق أسسته منظمة التعاون الإسلامي لدعم وتعزيز صمود الفلسطينيين في القدس .
9. (.....) الاسم الذي يحمله طابع البريد الذي أصدرته منظمة التعاون الإسلامي .

18 مادة إثرائية في الدراسات الاجتماعية للصف السابع الأساسي (الفصل الثاني) 2022/2021م منطقة غزة التعليمية أ. أمين حسين فرج الله

السؤال الرابع: // صحح ما تحته خط في العبارات التالية :-

1. (.....) تقع فلسطين جنوب خط الاستواء .
2. (.....) تقع فلسطين إلى الشرق من خط جرينتش.
3. (.....) يحد فلسطين من الغرب مصر .
4. (.....) يصب نهر الأردن في البحر المتوسط قرب مدينة يافا .
5. (.....) تسقط الأمطار على فلسطين في فصل الصيف .
6. (.....) شاركت منظمة التحرير الفلسطينية في مؤتمر جدة بصفة عضو .
7. (.....) اختيرت مدينة الرباط لتكون المقر الدائم لمنظمة المؤتمر الإسلامي .
8. (.....) عقد مؤتمر القمة الإسلامية الثاني في مدينة دكار الباكستانية .
9. (.....) تحول اسم المنظمة إلى منظمة التعاون الإسلامي في الدورة المنعقدة في باكستان .

السؤال الخامس: // قابل المجموعة (أ) بما يناسبها من المجموعة (ب) :-

- | (أ) | (ب) |
|---|-----------------------|
| 1. تمتد بمحاذاة شاطئ البحر المتوسط ما بين رأس الناقورة شمالاً ورفح جنوباً | () المرتفعات الجبلية |
| 2. تمتد في الشمال والوسط من الجليل شمالاً وحتى الخليل جنوباً | () السهول الساحلية |
| 3. يشكل نصف مساحة فلسطين ويتخذ شكل المثلث | () نهر العوجا |
| 4. يصب في البحر المتوسط قرب مدينة يافا | () نهر الأردن |
| 5. ينبع من جبل الشيخ في لبنان ويصب في البحر الميت | () هضبة النقب |

السؤال السادس: // قابل المجموعة (أ) بما يناسبها من المجموعة (ب) :-

المجموعة " ب "

المجموعة " أ "

1. مؤتمر قمة إسلامي عقد في 25 /أيلول/ 1969م أسس لقيام منظمة المؤتمر الإسلامي () مؤتمر جدة وشاركت منظمة التحرير الفلسطينية في المؤتمر بصفة مراقب
2. مؤتمر إسلامي لوزراء خارجية الدول الإسلامية ، عقد في الأول / آذار / 1970م () مؤتمر الرباط وقرر إنشاء أمانة عامة يرأسها أمين عام للمنظمة
3. مؤتمر القمة الإسلامية الثاني المنعقد في 22-24/شباط/ 1974 وأصبحت () مؤتمر لاهور منظمة التحرير الفلسطينية عضواً كامل العضوية في منظمة التعاون الإسلامي
4. في حزيران / 2011 خلال الدورة الثامنة والثلاثين لمجلس وزراء خارجية الدول الأعضاء () مؤتمر أستانة تحول اسم المنظمة من "منظمة المؤتمر الإسلامي" إلى "منظمة التعاون الإسلامي"
5. القمة الإسلامية الحادية عشرة التي عقدت يومي 13 و 14 آذار 2008 ، حددت أهداف المنظمة () مؤتمر دكار

السؤال السابع: // قابل المجموعة (أ) بما يناسبها من المجموعة (ب) :-

- | (أ) | (ب) |
|--|-----------|
| 1. تم احتلال فلسطين من قبل الانجليز في العام | () 1967م |
| 2. سلم الاحتلال الإنجليزي فلسطين للصهاينة في العام | () 1917م |
| 3. سيطر الاحتلال الاسرائيلي على كامل فلسطين في العام | () 1969م |
| 4. إحراق المسجد الأقصى المبارك في | () 1948م |

السؤال الثامن: // أذكر السبب :-

1. يتميز موقع فلسطين الجغرافي بأهمية استراتيجية .
السبب /
2. تزداد كمية الأمطار على فلسطين في المناطق الساحلية والغربية والجبلية .
السبب /

ص45

3. تقل كمية الأمطار على فلسطين في المناطق الجنوبية والشرقية .

السبب /

ص46

4. أصبحت قضية القدس وفلسطين هي قضية المسلمين والعرب الأولى .

السبب /

ص46

5. إقدام الاحتلال على حرق المسجد الأقصى بتاريخ 21/أب / 1969م .

السبب /

ص47

6. ظهور عدة أفكار تطالب بمؤتمر دولي إسلامي .

السبب /

ص47

7. عقد مؤتمر قمة إسلامي في الرباط بالمملكة المغربية في 25/أيلول/1969م .

السبب /

ص47

8. اتخاذ مدينة جدة مقراً مؤقتاً لمنظمة المؤتمر الإسلامي .

السبب /

ص47

9. إنشاء الأمانة العامة لمنظمة التعاون الإسلامي .

السبب /

ص49

10. إنشاء صندوق القدس .

السبب /

ص50

11. أكدت منظمة التعاون الإسلامي على الوقوف بجانب الشعب الفلسطيني .

السبب /

ص50

12. حث منظمة التعاون الإسلامي الدول الأعضاء على تدريس جغرافية فلسطين وتاريخها .

السبب /

~~~~~

### السؤال التاسع: // ما النتيجة المترتبة على :-

ص43

1. موقع فلسطين الاستراتيجي .

النتيجة /

ص45

2. وجود الجبال بشكل طولي شمال ووسط وجنوب فلسطين .

النتيجة /

ص46

3. احتلال فلسطين من قبل بريطانيا وتسليمها للاحتلال الإسرائيلي وسقوط القدس بأيديهم .

النتيجة /

ص47

4. إحراق المسجد الأقصى المبارك في 21 /أب / 1969م .

النتيجة /

ص50

5. بناء جدار التوسع والضم العنصري .

النتيجة /

~~~~~

ص44

السؤال العاشر: // أمامك خريطة فلسطين، أجب بحسب المطلوب :-

أ. وقع على الخريطة :-

1. مدينة القدس .

2. مدينة غزة .

3. نهر الأردن .

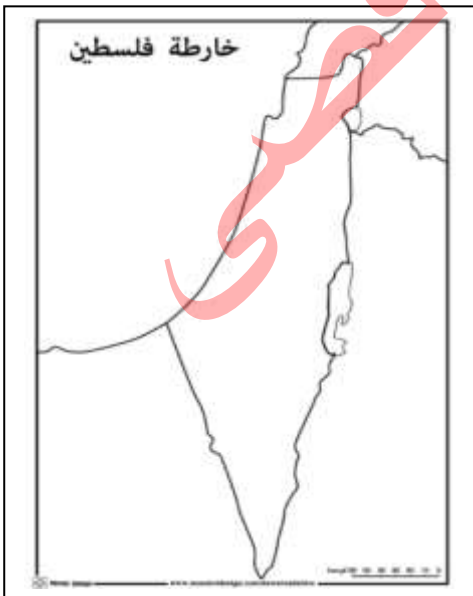
4. نهر العوجا .

ب. ظلل :-

1. هضبة النقب .

2. حدد على الخريطة بالأسهم خط سير سيارة من

غزة إلى رأس الناقورة.



الوحدة السادسة / الدرس الأول : حقوق الإنسان في الحروب

~~~~~

### السؤال الأول/ ضع دائرة حول رمز الإجابة الصحيحة فيما يلي :-

1. يطلق على القانون الدولي الإنساني ما عدا :  
ص 55  
يقصد بالمدينين :  
( الأشخاص الذين لا يشاركون في القتال - الجرحى في الحروب - الأسرى في الحروب - جميع ما سبق )
2. تمتد حماية القانون الدولي الإنساني لتشمل :  
( الممتلكات الخاصة - الممتلكات العامة - الطواقم الطبية - جميع ما سبق )
3. أي اتفاقيات جنيف الأربع تتعلق بأسرى الحرب ؟ ( اتفاقية جنيف الأولى - اتفاقية جنيف الثانية - اتفاقية جنيف الثالثة - اتفاقية جنيف الرابعة ) ص 56
4. أي الاتفاقيات الآتية توفر الحماية للمدينين في الحروب ؟  
ص 56  
( القانون الدولي الإنساني - القانون الدولي لحقوق الإنسان - البرتوكول الإضافي الأول - قانون حماية المدينين في النزاعات المسلحة )
5. أي الاتفاقيات الآتية ذكرت أن حروب التحرير الوطنية هي نزاعات دولية مسلحة ؟  
ص 56  
( اتفاقية جنيف الأولى - اتفاقية لاهاي - البرتوكول الإضافي الأول - البرتوكول الإضافي الثاني )
6. وضع الضمانات الأساسية بشأن المعاملة الإنسانية للأشخاص الذين لا يشاركون في العمليات العسكرية:  
ص 56  
( اتفاقية جنيف الأولى - اتفاقية لاهاي - البرتوكول الإضافي الأول - البرتوكول الإضافي الثاني )
7. يوجد مقر المحكمة الجنائية الدولية في مدينة ..... بهولندا  
ص 57  
( باريس - لندن - روما - لاهاي )
8. متى صدر ميثاق روما ( المحكمة الجنائية الدولية ) :  
ص 57  
( 1990 م - 1994 م - 1998 م - 2002 م )
9. من السجون التي أقامها الاحتلال في فلسطين ما يلي عدا  
ص 59  
( صرند - عسقلان - عوفر - الرملة )
10. من ممارسات الاحتلال بحق الأسرى الفلسطينيين  
ص 59  
( الضرب - الشبح - الصعق - العزل - جميع ما سبق )
11. أقرت منظمة التحرير الفلسطينية (17 نيسان) يوماً للأسير الفلسطيني عام ( 1948 - 1964 - 1967 - 1974 ) ص 59
12. يحيي الشعب الفلسطيني ذكرى يوم الأسير الفلسطيني كل عام في  
ص 59  
( 12 نيسان - 14 نيسان - 17 نيسان - 21 نيسان )
13. من واجباتنا تجاه الأسرى  
ص 59  
( دعم حقهم في الحرية - الوقوف بجانب عائلاتهم - تكريمهم - جميع ما سبق )

~~~~~

السؤال الثاني/ ضع إشارة (√) أمام العبارة الصحيحة و إشارة (x) أمام العبارة الخطأ فيما يلي:

1. () يقصد بالمدينين هم الأشخاص الذين لا يشاركون في القتال . ص 55
2. () تمتد حماية القانون الدولي الإنساني لتشمل توفير الحماية للطواقم الطبية التي تقدم المساعدات الإنسانية. ص 55
3. () يستثنى جرحى وأسرى الحروب من حماية القانون الدولي الإنساني . ص 55
4. () يهدف القانون الدولي الإنساني للحد من ويلات الحروب والدمار واحترام حقوق الإنسان. ص 55
5. () يُطبق القانون الدولي لحقوق الإنسان في حالة السلم فقط . ص 56
6. () يُطبق القانون الدولي الإنساني في حالات النزاع المسلح فقط . ص 56
7. () يمكن انتهاك حقوق الإنسان في أوقات السلم والحرب . ص 56
8. () يستمر تطبيق القانون الدولي لحقوق الإنسان حتى في حالات النزاع المسلح. ص 56
9. () يجب على الدول المتحاربة حماية حقوق شعوبها من تعسف الحكومات . ص 56
10. () يمكن انتهاك منظومة حقوق الإنسان بحجة أن الدولة في حالة حرب . ص 56
11. () يتكفل القانون الدولي للشعوب بمقاومة الاستعمار والاحتلال الأجنبي لبلادها . ص 56
12. () يعتبر القانون الدولي الاستيطان لدولة الاحتلال جريمة حرب . ص 56
13. () حماية الطواقم الطبية ووسائل النقل الطبي مكفولة بموجب القانون الدولي. ص 57
14. () يجب حماية وسائل النقل ذات العلامات المميزة مثل الصليب الأحمر والهلال الأحمر . ص 57
15. () يجب معاملة أسرى الحرب معاملة إنسانية في جميع الأحوال . ص 58
16. () يمنع السماح للأسرى بالتواصل مع أسرهم في فترة احتجازهم . ص 58
17. () يجوز ملاحقة الأسرى بسبب مشاركتهم في العمليات القتالية . ص 58
18. () يهدف احتجاز الأسرى منعهم من استمرار مشاركتهم في الحروب . ص 58
19. () يعتبر احتجاز الأسرى شكلاً من أشكال العقوبة . ص 58
20. () يجب إطلاق سراح الأسرى فور الانتهاء من القتال بين الدول المتحاربة . ص 58
21. () يجوز محاكمة الأسرى لمشاركتهم في الأعمال القتالية . ص 58
22. () يجوز محاكمة الأسرى في حال ارتكاب جرائم حرب خطيرة . ص 58
23. () يمارس الاحتلال بحق الأسرى الفلسطينيين أبشع أساليب القهر والتعذيب والإذلال . ص 59
24. () يلجأ الاحتلال إلى ممارسة التعذيب الجسدي والنفسي بحق الأسرى الفلسطينيين . ص 59
25. () من واجباتنا تجاه الأسرى دعم حقهم في الحرية والوقوف بجانب عائلاتهم . ص 59

السؤال الثالث/ اكتب ما تدل عليه العبارات الآتية :-

1. (.....) هو مجموعة من المبادئ الأساسية والقواعد القانونية التي تهدف إلى الحد من الأثار التي تسببها النزاعات . . .
ص55
 2. (.....) هم الأشخاص الذين لا يشاركون في العمليات العسكرية ، أو الأشخاص الذين لم يعودوا قادرين على الاشتراك .
ص55
 3. (.....) من الممتلكات العامة، عمل القانون الدولي الإنساني على حمايتها وقت الحرب، لأنها تقدم المساعدات الإنسانية.
ص55
 4. (.....) هي الشارة التي ترفعها بعض الدول التي لا ترغب في رفع شارتي الصليب الأحمر والهلال الأحمر .
ص57
 5. (.....) هيئة قضائية دولية دائمة، لها سلطة ممارسة اختصاصاتها على الأشخاص إزاء الجرائم التي يرتكبونها وقت الحرب .
ص55
 6. (.....) أقرته منظمة التحرير الفلسطينية (17 نيسان) من كل عام ، ليكون يوماً وطنياً للوفاء لهم .
ص59
- ولتضحياتهم ودعم حقهم في الحرية من خلف القضبان .

السؤال الرابع/ صحح ما تحته خط في العبارات التالية :-

1. (.....) تهدف اتفاقية جنيف الرابعة لحماية الأشخاص العسكريين وقت الحرب .
ص56
2. (.....) مقر المحكمة الجنائية الدولية في أمستردام بهولندا .
ص57
3. (.....) دخلت ميثاق روما حيز التنفيذ عام 1989م .
ص57

السؤال الخامس/ قابل المجموعة (أ) بما يناسبها من المجموعة (ب) :

- | (أ) | (ب) |
|-------------------------|---|
| 1. اتفاقية جنيف الأولى | () تحسين حال جرحى القوات المسلحة ومرضاهم وغرقاهم في البحار |
| 2. اتفاقية جنيف الثانية | () تحسين حال الجرحى والمرضى في القوات المسلحة في الميدان . |
| 3. اتفاقية جنيف الثالثة | () حماية الأشخاص المدنيين وقت الحرب . |
| 4. اتفاقية جنيف الرابعة | () معاملة أسرى الحرب معاملة حسنة . |

السؤال السادس/ اذكر السبب :

1. أهمية التزام الدول بقواعد القانون الدولي الإنساني وقت النزاعات .
السبب /
ص55
2. ترفع وسائل النقل الطبي علامات مميزة كشارة الصليب الأحمر والهلال الأحمر .
السبب /
ص57
3. يُحيي الفلسطينيون يوم الأسير الفلسطيني في 17 نيسان من كل عام .
السبب /
ص59

السؤال السابع/ ما النتيجة المترتبة على :

- استشهاد العشرات من الأسرى الفلسطينيين داخل سجون الاحتلال .
النتيجة :
ص59

الوحدة السادسة / الدرس الثاني : حقوق الأشخاص ذوي الإعاقة

ص62

السؤال الأول/ ضع دائرة حول رمز الإجابة الصحيحة فيما يلي :-

1. هم الأشخاص الذين يصابوا بإصابات بدنية أو عقلية أو نفسية، وتحد من قدرتهم على القيام بأداء متطلبات دورهم الطبيعي في الحياة .
(الإعاقة - المواعمة - الدمج)

ص63

2. من أمثلة البيئة المادية التي تمكن الأشخاص ذوي العلاقة من المشاركة الكاملة والفاعلة في المجتمع :

(المباني - الطرقات - السكن - جميع ما سبق)

ص63

3. الاتفاقية التي أكدت على حقوق الأشخاص ذوي الإعاقة ؟

(الاتفاقية الدولية لحقوق الأشخاص ذوي الإعاقة - القانون الدولي الإنساني - القانون الدولي لحقوق الإنسان)

ص65

4. من المباني التي يجب تجهيزها لتمكين الأشخاص ذوي الإعاقة من استخدامها بسهولة ويسر :

(المدارس و الجامعات والمشافي - أماكن العمل - الشوارع والأماكن العامة - جميع ما سبق)

ص65

5. من فوائد ومردود الدمج على الطلاب ذوي الاحتياجات الخاصة عدا:

(الانطواء والفشل - تعديل السلوك - زيادة الثقة بالنفس - زيادة الدافعية)

السؤال الثاني/ ضع إشارة (✓) أمام العبارة الصحيحة و إشارة (x) أمام العبارة الخطأ فيما يلي:

ص62

1. () تحد الإعاقة من قدرة الفرد على القيام بدوره الطبيعي في الحياة .

ص62

2. () تعتبر العوامل الوراثية من أسباب الإعاقة .

ص63

3. () يختلف التعامل مع الأشخاص ذوي الإعاقة من مجتمع لآخر .

ص63

4. () يجب إشراك ذوي الإعاقة في المجتمع مشاركة فاعلة .

ص63

5. () أكدت الاتفاقيات الدولية والتشريعات الوطنية على حقوق الأشخاص من ذوي الإعاقة واحترام كرامتهم .

ص63

6. () للأشخاص ذوي الإعاقة الحرية الكاملة في اختيار قراراتهم والمشاركة الكاملة في المجتمع .

ص63

7. () يجب مساواة ذوي الإعاقة في الحقوق والواجبات كغيرهم من الأصحاء .

ص63

8. () يجب احترام القدرات المتطورة للأطفال ذوي الإعاقة .

ص65

9. () يجب تجهيز المباني والمؤسسات المختلفة لتمكين الأشخاص من ذوي الإعاقة من استخدامها، والوصول إليها بسهولة ويسر

ص65

10. () إتاحة الفرصة للأشخاص ذوي الإعاقة للمشاركة في الحياة العامة في المجتمع يحقق العدالة والمساواة.

ص65

11. () يجب إتاحة الفرصة للأشخاص ذوي الإعاقة للمشاركة في الأنشطة الاجتماعية والتطوعية .

ص65

12. () إتاحة الفرصة للأشخاص ذوي الإعاقة للمشاركة في الحياة العامة في المجتمع كغيرهم من الأشخاص العاديين.

ص65

13. () يمكن دمج الأشخاص ذوي الإعاقة في المجتمع .

ص65

14. () حصول الأشخاص ذوي الإعاقة على التعليم المناسب يحد من دورهم في المجتمع الفلسطيني.

ص66

السؤال الثالث/ اكتب ما تدل عليه العبارات الآتية :-

1. (.....) هم الأشخاص الذين يصابوا بإصابات بدنية أو عقلية أو نفسية ، وتسبب ضرراً لنموهم البدني أو العقلي، أو كليهما، وتحد من قدرتهم على القيام بأداء متطلبات دورهم الطبيعي في الحياة .

ص62

2. (.....) هي إعداد المباني وتجهيزها لتمكين الأشخاص ذوي الإعاقة من استخدامها والوصول إليها بسهولة ويسر ،

ص64

لتسهيل دمجهم في المجتمع الذي يعيشون فيه .

3. (.....) إتاحة الفرصة للأشخاص ذوي الإعاقة للمشاركة في الحياة العامة في المجتمع كغيرهم من الأشخاص

ص65

العاديين.

السؤال الرابع/ صحح ما تحته خط في العبارات التالية :-

ص63 (.....)

1. أقر المجتمع الدولي الاتفاقية الدولية لحقوق الأشخاص ذوي الإعاقة عام 2009 م .

ص63 (.....)

2. انضمت فلسطين إلى الاتفاقية الدولية لحقوق الأشخاص ذوي الإعاقة عام 2005 م .

السؤال الخامس / ما النتيجة المترتبة على :

ص 65

. إتاحة الفرصة للأشخاص ذوي الإعاقة للمشاركة في الحياة العامة في المجتمع كغيرهم من الأشخاص العاديين.

النتيجة:

~~~~~

### السؤال السادس: أجب بحسب المطلوب :-

ص 65

ما هو المفهوم الذي تشير إليه الصور التالية :



.....

.....

مع تمنياتي لكم بالتوفيق و النجاح