

# فلسطين



بِسْمِ اللَّهِ الرَّحْمَنِ الرَّحِيمِ

وَقُلْ رَبِّ زِدْنِي عِلْمًا

## صادقة إثرائية الصف السادس

جغرافية فلسطين وتاريخها  
الحديث والمعاصر



### إعداد

أ. إسماعيل النمره  
أ. إيمان الأسطل  
أ. نقيه أبو العيش  
أ. ميسون حاتم

### إشراف مشرفو الدراسات الاجتماعية

أ. جمال رمضان  
أ. حطية أبو نمر  
أ. أيمن أبو الوفا

العام الدراسي ٢٠١٧/٢٠١٨

## الوحدة الأولى/أرض فلسطين.

### الدرس الأول : فلسطين الموقع والحدود والمساحة.

#### - أكمل الفراغات التالية:-

- ١- تقع فلسطين في قارة.....
- ٢- تتوسط فلسطين ثلاث قارات.....و.....و.....
- ٣- تقع فلسطين في الجزء الشمالي الشرقي من قارة.....
- ٤- تبلغ مساحة فلسطين.....كم٢.
- ٥- موقع الدولة بالنسبة لخطوط الطول ودوائر العرض هو الموقع.....
- ٦- تقع فلسطين بالنسبة لبلاد الشام في الجزء الجنوبي.....
- ٧- يطل البحر الأبيض المتوسط على فلسطين من جهة.....
- ٨- البحر الذي يطل على فلسطين من ناحية الجنوب هو البحر.....
- ٩- من الدول العربية الأفريقية المجاورة لفلسطين.....
- ١٠- الدولة العربية الوحيدة التي يمر بها خط الاستواء.....
- ١١- عدد الدول العربية في الجناح الآسيوي.....
- ١٢- حرر صلاح الدين الأيوبي القدس من الفرنجة عام.....م.
- ١٣- أشهر موانئ فلسطين التجارية على ساحل البحر المتوسط ميناء.....
- ١٤- البحر الذي يطل على فلسطين من ناحية الشرق هو البحر.....
- ١٥- قام الانتداب البريطاني برسم حدود لفلسطين بتأثير من.....
- ١٦- طول حدود فلسطين مع الجمهورية اللبنانية.....كم.
- ١٧- الدولة العربية التي تحد فلسطين من ناحية الشرق دولة.....
- ١٨- تبدأ الحدود الفلسطينية الأردنية من الشمال عند التقاء نهر.....
- ١٩- يبلغ طول ساحل فلسطين على خليج العقبة.....كم.
- ٢٠- يبلغ طول الحدود الفلسطينية المصرية.....كم.
- ٢١- تمتد فلسطين بشكل طولي من الشمال إلى.....



٢٢- تقع فلسطين بفف خطف طول .....و..... شرق خط غرففنتش.

٢٣- فطلق على مفهوم الوحدة الجغرافية التي تضم فلسطين والأرفف وسورفا ولبنان بلاد..... .

٢٤- البخرة التي تحد فلسطين من الجهة الشمالية الشرقية هي بخفرة..... .

- ضع علامة ( ✓ ) أمام العبارة الصأفة وعلامة ( × ) أمام العبارة الخاطئة مع تصأف الإجابة الخاطئة:-

- ١- ( ) تقع فلسطين فف الجزء الجنوبي الشرقي لقارة آسفا.
- ٢- ( ) فحد البحر المتوسط فلسطين من ناحية الشرق.
- ٣- ( ) ففعتبر البحر المتوسط جسر بحرف فربط فلسطين بالافف الأوروبية.
- ٤- ( ) تقع فلسطين فف الجناح الأفرفقي للوطن العربف.
- ٥- ( ) تعد فلسطين حلقة الوصل البرفة الوحفدة التي تربط بفف قارة آسفا وأفرفقفا.
- ٦- ( ) تعد اففلف سورفا والعراق من اففول العربفة الواقعة فف قارة أفرفقفا.
- ٧- ( ) ففعتبر الجمهورية الجزائرفة اففولة العربفة الوحفدة التي فمر بها خط غرففنتش.
- ٨- ( ) تقع فلسطين فف الجزء الجنوبي الغربف لبلاد الشام.
- ٩- ( ) ففبلغ اففد اففول العربفة فف قارة أفرفقفا ١٢ اففولة.
- ١٠- ( ) ففتشرف فلسطين على البحر الأحمر من جهة الجنوب.
- ١١- ( ) الموقع الذي ففتمفر بمكانة سفاسفة واقتصادفة وعسكرفة مألفاً وعالماً هو الموقع الاستراتيجف.
- ١٢- ( ) ففبلغ طول اففدود فلسطين مع الجمهورية السورفة ٧٩ كم.
- ١٣- ( ) تقع الجمهورية السورفة بالنسبة لفلسطين فف الجهة الشمالية الغربفة.
- ١٤- ( ) ففحد فلسطين من الجنوب أألف العأفة.
- ١٥- ( ) ففعتبر أألف العأفة البوابة البحرية الجنوبية لفلسطين.
- ١٦- ( ) ففبدأ اففدود الفلصففففة المصرية جنوباً من منطقة طابا على أألف العأفة.

- أأفر الإجابة الصأفة مما بفف القوسفن:-

- ١- من اففول بلاد الشام (مصر -الجزائر - فلسطين - افونس).
- ٢- تقع فلسطين بالنسبة لبلاد الشام فف الجزء (الجنوبف الشرقف-الجنوبف الغربف-الشمالف الشرقف-الشمالف الغربف).
- ٣- أطول اففدود فلسطين البرفة مع اففولة (الأرفف - مصر -سورفا -لبنان).
- ٤- من اففول العربفة فف الجناح الآسفف (الجزائر -مصر -المغرب -العراق).

٥- القائد المسلم الذي حرر فلسطين من الفرنجة هو

(قطز-بيبرس-صلاح الدين الأيوبي-سيف الدين قلاوون).

٦- يحد فلسطين من الشمال

(لبنان - الاردن - مصر - العراق).

٧- يبلغ طول الحدود الفلسطينية مع الاردن حوالي

(٣٦٠ كم - ٢٢٤ كم - ٧٩ كم - ٧٦ كم).

٨- تنتهي الحدود الفلسطينية الاردنية من ناحية الجنوب بساحل

(البحر المتوسط-البحر الأحمر-بحر العرب-نهر اليرموك).

٩- يبلغ طول ساحل البحر المتوسط في فلسطين

(٣٦٠ كم - ٢٢٤ كم - ٧٩ كم - ٧٦ كم).

- بم تفسر:-

١- أهمية الموقع الجغرافي لفلسطين.

.....

.....

٢- الأهمية التجارية والاقتصادية لميناء حيفا عام ١٩٤٨ م.

.....

.....

٣- قيام الانتداب البريطاني برسم الحدود الفلسطينية.

.....

.....

٤- أهمية معرفة الموقع الفلكي لفلسطين.

.....

.....

- عرف المصطلح التالي:-

١- الموقع الجغرافي:.....

.....

٢- الموقع الفلكي:.....

.....

٣- الموقع الاستراتيجي:.....

.....

**- ما النتائج المترتبة على:-**

## ١- الأهمية الاستراتيجية لموقع فلسطين.

٢ - اشرف فلسطين على البحر الأحمر من الجهة الجنوبية .

### ٣ - الأهمية التاريخية لموقع فلسطين.

٤ - وقوع فلسطين بين البحر المتوسط غرباً ونهر الأردن شرقاً.

**- أجب عن الأسئلة التالية:-**

## ١- اذكر الأهمية الاستراتيجية لموقع فلسطين.

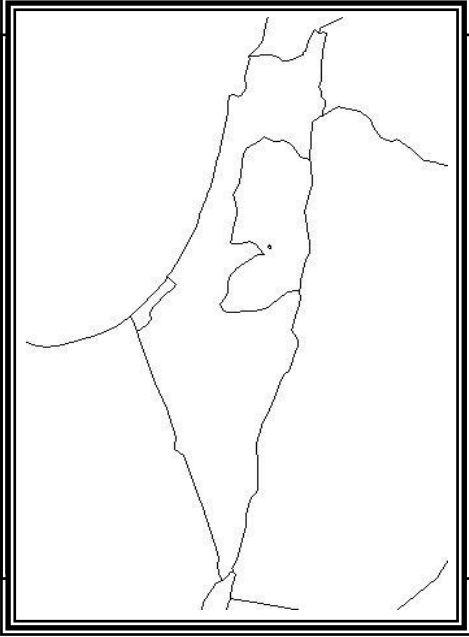
## ٢- بين الأهمية التاريخية لموقع فلسطين.

### ٣- وضح امتداد الحدود الفلسطينية الأردنية من شمال فلسطين لجنوبها.

٤- رتب حدود فلسطين من أطول الحدود إلى أقصر الحدود:

– ( ) مصر. – ( ) الأردن. – ( ) البحر المتوسط.

- ( ) سوريا. - ( ) لبنان. - ( ) خليج العقبة.

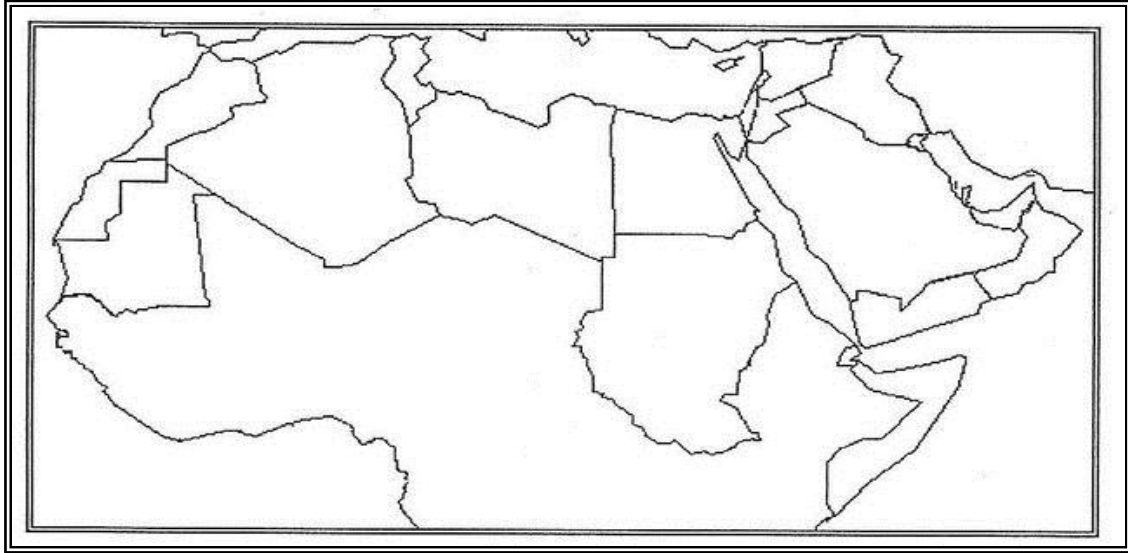


٥ - حدد على خريطة فلسطين الصماء المواقع الجغرافية الآتية:

- البحر المتوسط.
- خليج العقبة.
- بحيرة طبريا.
- البحر الميت.
- سوريا.
- لبنان.
- مصر.
- الأردن.
- نهر الأردن.
- الموقع الفلكي لفلسطين.

٦ - أمامك خريطة الوطن العربي الصماء حدد عليها المواقع الجغرافية الآتية:

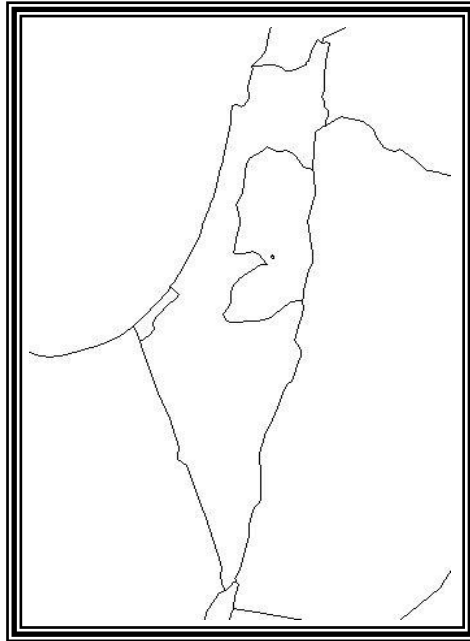
- بحر العرب. - فلسطين. - ظلل بلاد الشام. - الجزائر. - مصر. - العراق.
- البحر الأحمر. - السعودية. - دائرة الاستواء. - خط غرينتش. - الخليج العربي.



٧- وقع على خريطة العالم الصماء المواقع الجغرافية الآتية:  
- قارة آسيا. - قارة أفريقيا. - قارة أوروبا. - المحيط الهندي. - المحيط الأطلسي.



٨- باستخدام القلم والمسطرة حدد على خريطة فلسطين الصماء الموقع الفلكي لفلسطين:



## الوحدة الأولى/أرض فلسطين.

### الدرس الثاني : تضاريس فلسطين.

- أكمل الفراغات التالية:-

- ١- يبلغ انخفاض منطقة البحر الميت حوالي .....متراً .
- ٢-أعلى جبال فلسطين هو جبل..... .
- ٣-يمتد السهل الساحلي الفلسطيني بشكل موازي لساحل البحر..... .
- ٤-تبلغ مساحة السهل الساحلي الفلسطيني .....كم.٢ .
- ٥-يبدأ السهل الساحلي الشمالي من رأس الناقورة حتي جبل..... .
- ٦-يقع سهل مرج بن عامر بين جبال الجليل وجبال..... .
- ٧-تتحصن المرتفعات الجبلية بين السهل الساحلي غرباً و.....شرقاً.
- ٨-يعد جبل النبي صموئيل أعلى جبال مدينة..... .
- ٩-يبلغ ارتفاع جبل جرزيم.....متراً.
- ١٠-تمتد الأغوار من سهل الحولة شمالاً وحتى خليج..... جنوباً.
- ١١-تبلغ مساحة البحر الميت.....كم.٢ .
- ١٢-جفف الاحتلال الصهيوني بحيرة الحولة عام .....م.
- ١٣-تقع منطقة الأغوار بالنسبة لفلسطين في الجهة..... .
- ١٤-يقع سهل صانور في الجنوب الشرقي لمدينة..... .
- ١٥-من أمثلة السهول الداخلية في فلسطين..... .
- ١٦-يجري في السهل الساحلي الفلسطيني الشمالي أنهار مثل.....و..... .
- ١٧-يضم السهل الساحلي الجنوبي عدد من المدن الفلسطينية منها.....و..... .
- ١٨-تبلغ مساحة سهل مرج بن عامر.....كم.٢ .
- ١٩-تمتد المرتفعات الجبلية في فلسطين من الشمال إلى..... .
- ٢٠-يطلق على تربة البحر المتوسط الحمراء اسم..... .
- ٢١-تقسم المرتفعات الجبلية في فلسطين إلى جبال..... وجبال..... .
- ٢٢-تمتد جبال الجليل من الحدود اللبنانية حتي سهل..... .
- ٢٣-أشهر جبال الجليل جبل..... .



- ٢٤- تمتد الجبال الوسطي من سهل مرج بن عامر شمالاً حتي .....جنوباً.
- ٢٥- يبلغ ارتفاع جبل العاصور.....متر.
- ٢٦- يبلغ ارتفاع جبل النبي صموئيل.....متر.
- ٢٧- يقع جبل النبي يونس في بلدة.....
- ٢٨- من المدن الجبلية في فلسطين.....و.....
- ٢٩- أشهر مدن حوض نهر الأردن .....
- ٣٠- أعلى بحار العالم ملوحة البحر.....
- ٣١- أقصى عرض للبحر الميت هو.....كم.
- ٣٢- يمتد وادي الجببي ووادي عربية من جنوب البحر الميت حتي.....
- ٣٣- يفصل بين وادي الجببي ووادي عربية جبل.....
- ٣٤- أشهر مدن وادي الجببي ووادي عربية مدينة.....
- ٣٥- تبلغ مساحة بحيرة الحولة.....كم٢.
- ٣٦- حول الاحتلال الصهيوني بحيرة الحولة إلي سهل.....
- ٣٧- تأخذ صحراء النقب شكل مثلث قاعدته في الشمال ورأسه عند خليج.....

- ضع علامة ( √ ) أمام العبارة الصحيحة وعلامة ( × ) أمام العبارة الخاطئة مع تصحيح الإجابة الخاطئة:-

- ١- ( ) تمتد تضاريس فلسطين بشكل طولي من الشمال إلي الجنوب.
- ٢- ( ) يبلغ ارتفاع جبل الجرمق ١٢٠٨ متراً عن مستوي سطح البحر.
- ٣- ( ) يمتد السهل الساحلي الفلسطيني من رأس الناقورة شمالاً حتي غزة جنوباً.
- ٤- ( ) يبلغ طول السهل الساحلي الفلسطيني حوالي ٢٢٤ كم.
- ٥- ( ) يجري نهر العوجا في السهل الساحلي الشمالي من فلسطين.
- ٦- ( ) تقع مدينة القدس من ضمن السهل الساحلي الفلسطيني.
- ٧- ( ) يعد سهل مرج بن عامر من السهول الداخلية في فلسطين.
- ٨- ( ) يقع سهل البطوف شمال شرق مدينة الناصرة.

- ٩- ( ) تقع مدينة أريحا جنوب البحر الميت.
- ١٠- ( ) يبلغ طول البحر الميت حوالي ٥٨ كم.
- ١١- ( ) يصب وادي عربة في البحر الميت.
- ١٢- ( ) تمتد المرتفعات الجبلية في وسط وشمال فلسطين.
- ١٣- ( ) تقع هضبة النقب في شمال فلسطين.
- ١٤- ( ) يعد نهر الزرقاء والعوجا من الأنهار التي تجري في السهل الساحلي الأوسط.
- ١٥- ( ) يعد جبلي المكبر و الطور من جبال مدينة الخليل.
- ١٦- ( ) يعد البحر الميت ظاهرة نادرة في العالم.
- ١٧- ( ) استغل الفلسطينيون بحيرة طبريا بالزراعة وصيد الأسماك قبل تجفيفها.
- ١٨- ( ) تتخذ هضبة النقب شكل المثلث.

**- أختار الإجابة الصحيحة مما بين القوسين:-**

- ١- يبدأ السهل الساحلي الأوسط من جبل الكرمل حتى مدينة (حيفا - عكا - يافا - نابلس).
- ٢- النهر الذي يجري في منطقة السهل الساحلي الجنوبي (نهر الزرقاء - نهر روبين - نهر المقطع - نهر العوجا).
- ٣- تبلغ مساحة سهل البطوف حوالي... كم ٢ (٢٥ - ٣٥ - ٥٢ - ٥٥).
- ٤- من المدن التي تقع في الجبال الشمالية من فلسطين مدينة (القدس - نابلس - صفد - أريحا).
- ٥- يعد جبل عيبال أعلى جبال مدينة (حيفا - عكا - يافا - نابلس).
- ٦- يبلغ ارتفاع جبل النبي يونس... متراً (١٠١٥ - ١٠١٢ - ١٠٢٠ - ١٢٠٨).
- ٧- انخفض مستوي مياه البحر الميت في العقود الثلاثة الأخيرة حوالي..... متر (٢٥ - ٥٤ - ٢٨ - ٨٧).
- ٨- يصب وادي الجببي في البحر (الميت - المتوسط - الأحمر - الأسود).
- ٩- يمتد السهل الساحلي بالنسبة لفلسطين في جهة (الغرب - الشرق - الشمال - الجنوب).
- ١٠- يوجد جبل الجرمق ضمن جبال (الخليل - الجليل - القدس - نابلس).
- ١١- كل ما يلي من جبال فلسطين الوسطى ما عدا (جبال نابلس - جبال القدس - جبال الخليل - جبال الجليل).

- ١٢- المظهر التضاريسي الذي يمثل نصف مساحة فلسطين  
(السهل الساحلي-الجبالي-الأغوار-هضبة النقب).
- ١٣- أشهر مدن هضبة النقب (أريحا- القدس - بئر السبع- رفح).
- ١٤- كل مايلي من منطقة حوض نهر الأردن ماعدا  
(سهل الحولة-بحيرة طبريا-نهر الأردن - وادي عربة).

- بم تفسر:-

- ١- تنوع تضاريس فلسطين رغم صغر مساحتها.  
.....  
.....
- ٢- يمتاز السهل الساحلي بضيقه في الشمال.  
.....  
.....
- ٣- يتمتع السهل الساحلي الفلسطيني بأهمية اقتصادية كبيرة.  
.....  
.....
- ٤- تعد منطقة السهل الساحلي الفلسطيني منطقة تجارية وسياحية.  
.....  
.....
- ٥- تعد جبال الجليل منطقة مهمة في فلسطين.  
.....  
.....
- ٦- تتمتع المرتفعات الجبلية بأهمية اقتصادية وسياحية.  
.....  
.....
- ٧- تمتاز الأغوار بدفئها في فصل الشتاء وارتفاع درجة الحرارة صيفاً.  
.....  
.....

٨- تتميز منطقة الأغوار بارتفاع نسبه ملوحة تربتها.

.....  
.....

٩- تسمية الأغوار بهذا الاسم.

.....  
.....

١٠- يواجه البحر الميت مشكلة الجفاف.

.....  
.....

١١- تسمية جبل المكبر بهذا الاسم.

.....  
.....

١٢- أهمية الأغوار في فلسطين.

.....  
.....

١٣- أهمية هضبة النقب في فلسطين.

.....  
.....

- عرف المصطلح التالي:-

١- السهل الساحلي:.....

.....

٢- السهل الداخلي:.....

.....

- ماالنتائج المترتبة على:-

- اقتراب السلاسل الجبلية من السهل الساحلي شمالاً.

.....



- أجب عن الأسئلة التالية:-

١- اذكر أنواع التربة في السهل الساحلي في فلسطين.

.....  
.....

٢- عدد أقسام السهل الساحلي الفلسطيني.

.....  
.....

٣- صنف أسماء المظاهر التضارسية في فلسطين مع ذكر امتداد كل منها.

.....  
.....  
.....

٤- قارن بين: الجبال الشمالية والجبال الوسطى في فلسطين من حيث:  
- الامتداد. - أعلى جبل فيها. - أهميتها.

الأهمية	أعلى جبل فيها	الامتداد	الجبال
			الجبال الشمالية
			الجبال الوسطى

٥- بين الإجراءات الصهيونية في منطقة الأغوار.

.....  
.....

٦- عدد المخاطر الناجمة عن التراجع المستمر في منسوب البحر الميت.

.....  
.....



٧- صنف السهول الداخلية في فلسطين.

.....

.....

٨- اذكر أقسام منطقة الأغوار في فلسطين.

.....

.....

٩- اقترح حلول لحماية البحر الميت من الجفاف.

.....

.....

١٠- وضح الإجراءات الصهيونية في منطقة الأغوار.

.....

.....

١١- بين السياسة التي اتبعتها الحكومة الفلسطينية للحفاظ على منطقة الأغوار.

.....

.....

١٢- كيف عمل الاحتلال الصهيوني على تجفيف بحيرة الحولة.

.....

.....

١٣- اذكر مميزات هضبة النقب.

.....

.....

١٤- عدد أهم القبائل التي تسكن هضبة النقب.

.....

.....



## الوحدة الأولى/أرض فلسطين.

### الدرس الثالث: مناخ فلسطين.

#### - أكمل الفراغات التالية:-

- ١- تقع فلسطين ضمن المنطقة المدارية والمنطقة.....
- ٢- تقع فلسطين بين دائرتي عرض.....و..... شمال خط الأستواء .
- ٣- يتميز صيف مناخ البحر المتوسط بأنه جاف معتدل صيفاً و شتاء.....
- ٤- يحتفل العالم باليوم العالمي للأرصاد الجوية بتاريخ.....
- ٥- أبرد شهور السنة في فلسطين شهر.....
- ٦- تأتي الكتل الهوائية القارية الباردة من يابس قارتي.....و.....
- ٧- مصدر الكتل الهوائية القطبية .....
- ٨- تهب الرياح الشرقية والشمالية الشرقية في أواخر فصل.....
- ٩- تمتاز الرياح الشرقية في فصل الشتاء بأنها رياح.....
- ١٠- تسقط الأمطار على فلسطين في فصل.....
- ١١- تسقط الأمطار المتأخرة على فلسطين في فصل.....
- ١٢- تسقط الأمطار المبكرة على فلسطين في فصل.....

- ضع علامة ( √ ) أمام العبارة الصحيحة وعلامة ( × ) أمام العبارة الخاطئة مع تصحيح الإجابة الخاطئة:-

- ١- ( ) تختلف الظروف المناخية في فلسطين من منطقة لأخرى.
- ٢- ( ) تمتد المرتفعات الجبلية في فلسطين من الشمال إلى الجنوب.
- ٣- ( ) كمية الأمطار الساقطة على السفوح الشرقية من جبال فلسطين أكثر من السفوح الغربية.
- ٤- ( ) يعد شهر تموز أحر شهور السنة في فلسطين.
- ٥- ( ) يكون هواء الكتل القارية الباردة جاف.

- ٦- ( ) تهب الرياح الغربية والشمالية الغربية على فلسطين على شكل أنسمة قادمة من البحر الأحمر.
- ٧- ( ) تهب الرياح الغربية والشمالية الغربية على فلسطين ليلاً.
- ٨- ( ) الرياح الشرقية تهب على فلسطين قبل مرور المنخفضات الجوية.
- ٩- ( ) تصل نسبة الأمطار الساقطة على فلسطين ٧٢%.

- بم تفسر:-

١- أهمية معرفة المناخ والطقس.

.....

.....

٢- تنوع المناخ في فلسطين رغم صغر مساحتها.

.....

.....

٣- زيادة كمية الأمطار الساقطة على السواحل الغربية للمرتفعات الجبلية.

.....

.....

٤- قلة الأمطار الساقطة على السواحل الشرقية لفلسطين.

.....

.....

٥- أهمية متابعة حالة الطقس في فلسطين.

.....

.....

٦- تباين درجات الحرارة في فلسطين من شهر لآخر ومن منطقة لآخري.

.....

.....

٧- يبلغ متوسط درجة الحرارة السنوي في السهل الساحلي ٢٠ درجة مئوية.

.....

.....





٨-متوسط درجة الحرارة السنوي في المناطق الجبلية ١٦ درجة مئوية.

.....  
.....

٩-يبلغ متوسط درجة الحرارة السنوي في الأغوار ٢٣ درجة مئوية.

.....  
.....

١٠- تبلغ متوسط درجة الحرارة السنوي في هضبة النقب ٢٣ درجة مئوية.

.....  
.....

١١- يتباين الضغط الجوي في فلسطين بين فصلي الصيف والشتاء.

.....  
.....

١٢- يزداد معدل سقوط الأمطار على المناطق الساحلية والجبلية في فلسطين.

.....  
.....

١٣- قلة معدل سقوط الأمطار على المناطق الشرقية والجنوبية من فلسطين.

.....  
.....

- عرف المصطلح التالي:-

١-المناخ:.....

.....

٢-الطقس:.....

.....

٣-المناطق الحرارية:.....

.....



- ٤- ظل المطر:.....  
.....  
٥- الرياح الخماسينية:.....  
.....  
٦- الإقليم المناخي:.....  
.....

- ما النتائج المترتبة على:-

- ١- وقوع فلسطين ضمن المنطقة المدارية والمعتدلة.  
.....  
٢- امتداد فلسطين على ساحل البحر المتوسط.  
.....  
٣- امتداد السلاسل الجبلية في فلسطين من الشمال إلى الجنوب وارتفاعها.  
.....  
٤- خضوع فلسطين لتأثير مركز الضغط الجوي المداري الشمالي المرتفع الأزوري صيفاً.  
.....  
٥- تراجع مركز الضغط الجوي المداري نحو الجنوب.  
.....  
٦- هبوب كتل قارية من الشمال الغربي إلى فلسطين.  
.....

- أجب عن الأسئلة التالية:-

- ١- عدد عناصر المناخ.  
.....  
.....  
٢- اذكر أقسام الكتل الهوائية التي تتأثر بها فلسطين في فصل الشتاء.  
.....  
.....  
٣- عدد أنواع الرياح التي تهب على فلسطين في فصل الصيف.  
.....  
.....

٤- بين مميزات الرياح الجنوبية الغربية المرافقة للمنخفضات الجوية في فصل الشتاء.

.....

.....

٥- صنف الأمطار التي تسقط على فلسطين حسب فترات سقوطها.

.....

.....

٦- قارن بين: الرياح الغربية والشمالية الغربية والرياح الشرقية والشمالية الشرقية والرياح

الخماسينية من حيث:

- الجهة التي تهب منها. - النتائج المترتبة عليها.

وجه المقارنة	الرياح	الجهة التي تهب منها	النتائج المترتبة عليها
	الغربية والشمالية الغربية		
	الشرقية والشمالية الشرقية		
	الخماسينية		

٧- قارن بين: اقليم البحر المتوسط والاقليم الشبة الصحراوي والاقليم الصحراوي من حيث:

- أين يسود. - النبات. - المناخ. - كمية الأمطار.

وجه المقارنة	الاقليم	البحر المتوسط	الشبة الصحراوي	الصحراوي
	أين يسود			
	المناخ			
	النبات			
	كمية الأمطار			

## الوحدة الأولى/أرض فلسطين. الدرس الرابع : التنوع الحيوي

### - أكمل الفراغات التالية:-

- ١- يبلغ عدد النباتات الطبيعية في فلسطين حوالي..... .
- ٢- من أنواع الأعشاب المزهرة وغير المزهرة في فلسطين .....و..... .
- ٣- يوجد إقليم النباتات الصحراوية في معظم أراضي .....و..... .
- ٤- من أهم نباتات الإقليم الصحراوي .....و..... .
- ٥- يوجد إقليم النباتات شبه الصحراوي في ..... .
- ٦- من أشهر نباتات الإقليم شبه الصحراوي .....و..... .
- ٧- يتمثل إقليم نباتات الأغوار في المنطقة الممتدة من..... شمالاً حتى..... جنوباً.
- ٨- أشهر نباتات الأغوار.....و..... .
- ٩- يعطي النبات الطبيعي جمالاً للبيئة الفلسطينية خاصة في فصلي .....و..... .
- ١٠- من النباتات البرية التي تستخدم كغذاء للإنسان الفلسطيني.....و..... .
- ١١- من النباتات التي تستخدم كأعشاب طبية .....و..... .
- ١٢- يستخلص من الزهورات النباتية.....و..... .
- ١٣- تستخدم أخشاب الأشجار البرية كمصدر.....و..... .



- ١٤- توجد في فلسطين العديد من البرمائيات مثل .....و.....
- ١٥- أنواع الثدييات التي توجد في فلسطين مثل.....و.....
- ١٦- من الزواحف التي توجد في فلسطين.....و.....
- ١٧- من أنواع الديدان والحشرات المتواجدة في فلسطين.....و.....
- ١٨- من الممارسات الناجمة عن الإهمال والتخريب للحياة البرية النباتية والحيوانية .....
- ١٩- الحفاظ على البيئة الفلسطينية من واجب .....و.....

- ضع علامة ( √ ) أمام العبارة الصحيحة وعلامة ( × ) أمام العبارة الخاطئة مع تصحيح الإجابة الخاطئة:-

- ١- ( ) تمتاز فلسطين بتنوع مظاهر الحياة الطبيعية البرية التي تعيش فيها
- ٢- ( ) تعد فلسطين من أقل دول العالم تنوعاً في الغطاء النباتي الطبيعي.
- ٣- ( ) من أشجار إقليم نباتات البحر المتوسط الزعرور والبلوط والصنوبر.
- ٤- ( ) تتلاءم أعشاب اللوف والجعدة مع مناخ الإقليم شبه الصحراوي.
- ٥- ( ) يعمل النبات الطبيعي على امتصاص الأكسجين وإطلاق ثاني أكسيد الكربون .
- ٦- ( ) تتنوع الحيوانات البرية والبحرية نظراً لتنوع الموقع الفلكي.
- ٧- ( ) أحد المخاطر التي تهدد الحياة البرية الفلسطينية حرائق الغابات وجدار الضم والتوسع.
- ٨- ( ) من الانتهاكات والممارسات التي لها أثر على الحياة البرية الفلسطينية تجريف الأراضي الفلسطينية.
- ٩- ( ) بناء جدار الضم والتوسع أدى إلى القضاء على أنواع كثيرة من النباتات البرية .
- ١٠- ( ) ممارسة الصيد للطيور والحيوانات في موسم تكاثرها يؤدي إلى تزايد أعدادها.
- ١١- ( ) الحفاظ على البيئة الفلسطينية من واجب الأفراد فقط.
- ١٢- ( ) البيئة الفلسطينية جزء من الموروث الطبيعي و الوطني.
- ١٣- ( ) من السلوكيات السلبية المشاركة في زراعة الأشجار الحرجية.
- ١٤- ( ) من الممارسات الإيجابية الحرص على عدم إشعال النيران في مناطق المحميات الطبيعية.
- ١٥- ( ) دور المؤسسات سن القوانين التي تمنع قطع الأشجار.

١٦- ( ) من السلوكيات السلبية التوسع في العمران على حساب مناطق النباتات الطبيعية.

١٧- ( ) دور المؤسسات الحكومية حماية المحميات الطبيعية .

- أختار الإجابة الصحيحة مما بين القوسين:-

١- النباتات البرية في فلسطين مثل ( أشجار ، شجيرات ، أعشاب ، كل ما سبق).

٢- من أهم النباتات الصحراوية في فلسطين ( الشيح ، القطف ، الآراك ، الأثل).

٣- يعد السردين والبورى من ( الديدان ، الزواحف ، البرمائيات ، الأسماك ).

٤- المادة التي تنص على منع صيد الطيور والحيوانات البرية والبحرية والأسماك هي مادة رقم ( ٤ ، ٤٣ ، ٤٤ ، ٤٥ ).

٥- يعد الحفاظ على البيئة الفلسطينية من واجب ( الأفراد ، الجماعات ، المؤسسات الفلسطينية ، كل ما سبق ).

٦- المحميات الطبيعية تشمل ( الحيوانات البرية ، النباتات ، أماكن أثرية ، كل ما سبق ).

٧- المادة التي تنص على تحديد النباتات والأشجار الحرجية والبرية مادة رقم ( ٤ ، ٤٤ ، ٤٥ ، ٤٣ ، ٤ ).

٨- توجد محمية أم الريحان في ( مدينة نابلس ، غرب مدينة رام الله ، غرب مدينة جنين ، الجليل الأعلى ).

٩- توجد محمية وادي القلط في ( الجليل الأعلى - شرق مدينة القدس ، برك سليمان ، الباذان ).

١٠- المحمية التي توجد شرق مدينة القدس محمية ( الجليل الأعلى ، وادي القلط ، برك سليمان ، أم الريحان ).

١١- التوسع في العمران على حساب مناطق النبات الطبيعي ( الزحف العمراني ، الرعي الجائر ، المحمية الطبيعية ، الرعي المنظم ).

١٢- الرعي الغير منظم للأغنام وتركها في نفس المنطقة بصورة متكررة ( الزحف العمراني ، الرعي الجائر ، المحمية الطبيعية ، الرعي المنظم ).

- بم تفسر:-

١-تنوع النباتات الطبيعية في فلسطين.

.....

٢-يعيش في فلسطين كثير من الحيوانات البرية والبحرية المتنوعة.

.....

٣-يعد الحفاظ على البيئة الفلسطينية من واجب الافراد والجماعات والمؤسسات الفلسطينية .

.....

٤-تراجع انتشار بعض الأنواع النباتية وانقراضها.

.....

٥-تناقص أعداد الطيور والحيوانات البرية.

.....

٦-أهمية النباتات الطبيعية للإنسان.

.....

.....

٧-أهمية جذور النباتات بالنسبة للتربة.

.....

.....

- عرف المصطلح التالي:-

١ - التنوع الحيوي:.....

.....

٢ - الزحف العمراني:.....

٣ - الرعي الجائر:.....

٤ - المحمية الطبيعية:.....

.....



- ماالنتائج المترتبة على:-

١ - ممارسة الصيد للطيور والحيوانات البرية اثناء موسم تكاثرها.

٢-إشعال النيران في الغابات والأعشاب.

- أجب عن الأسئلة التالية:-

١- عدد أنواع الحياة الطبيعية النباتية التي تعيش في فلسطين.

٢- اذكر الأقاليم النباتية في فلسطين .

٣- ما دور المؤسسات في الحفاظ على النبات الطبيعي والحيوانات البرية.

٤-وضح أهمية النبات الطبيعي بالنسبة للبيئة الفلسطينية.

٥-صنف أنواع الحيوانات البرية والبحرية في فلسطين.

٦- اذكر استخدامات الأنسان الفلسطيني لأخشاب الأشجار البرية.

.....

.....

.....

٧- قارن بين: اقليم نباتات البحر المتوسط - اقليم النباتات الصحراوية - اقليم النباتات الشبة الصحراوية - اقليم نباتات الأغوار من حيث:  
- أين يسود. - النبات.

وجه المقارنة / الإقليم	أين يسود	أشهر نباتات الاقليم
نباتات البحر المتوسط		
النباتات الصحراوية		
النباتات الشبة الصحراوية لنبات		
نباتات الأغوار		

## الوحدة الأولى/أرض فلسطين. الدرس الخامس : المدن الفلسطينية.

- أكمل الفراغات التالية:-

- ١-توجد في صحراء النقب مدينة .....و.....
- ٢-عاصمة فلسطين .....
- ٣-تبعد مدينة القدس عن البحر المتوسط حوالي ..... كم.
- ٤-بنى اليبوسيون القدس قبل ..... عام .
- ٥-عندما احتل الرومان القدس أطلقوا عليها اسم .....
- ٦-ال خليفة الذي فتح القدس عام ٦٣٨م هو .....
- ٧-تسلم الخليفة عمر بن الخطاب القدس من الإمبراطور .....
- ٨-خضعت القدس للاحتلال البريطاني عام ..... م.
- ٩-وقعت مدينة القدس عام ١٩٦٧م تحت الاحتلال .....
- ١٠-المسجد الذي بنى على الصخرة التي عرج منها الرسول محمد صل الله عليه وسلم مسجد.....
- ١١-بنى مسجد قبة الصخرة عام ٦٩١م زمن الخليفة .....
- ١٢-أطلق على المصلى المرواني أثناء الاحتلال الصليبي اسم .....
- ١٣-تم ترميم مسجد المصلى المرواني وافتتاحه للمصلين عام ..... م .





- ١٤- الخليفة الذي بنى مسجد المصلى المرواني هو .....
- ١٥- من أبواب الحرم القدسي المفتوحة .....و.....
- ١٦- من أبواب الحرم القدسي المغلقة .....و.....
- ١٧- من أشهر الكنائس الموجودة في القدس.....
- ١٨- يعود بناء سور القدس إلى العهد.....
- ١٩- السلطان العثماني الذي أمر ببناء سور القدس مرة أخرى هو .....
- ٢٠- المدة التي استغرقت في بناء سور القدس هي ..... سنوات.
- ٢١- يبلغ محيط سور القدس حوالي..... كم.
- ٢٢- يبلغ ارتفاع سور القدس ..... م.
- ٢٣- من أبواب سور القدس المفتوحة .....و.....
- ٢٤- عدد أبواب سور القدس المغلقة..... أبواب.
- ٢٥- من المعالم العلمية و الثقافية في مدينة القدس.....
- ٢٦- الجدار الذي عزل مدينة القدس و ضواحيها عن بقية الأراضي الفلسطينية هو جدار .....
- ٢٧- ترتفع مدينة الخليل عن مستوى سطح البحر حوالي ..... متراً .
- ٢٨- تقع مدينة الخليل جنوب غرب مدينة .....
- ٢٩- عرفت مدينة الخليل عند الكنعانيون باسم .....
- ٣٠- تعني كلمة حبري بالكنعانية .....
- ٣١- من الصناعات التقليدية التي تشتهر بها الخليل .....و.....

- ٣٢- حدثت مجزرة الحرم الإبراهيمي في مدينة الخليل بتاريخ..... م .
- ٣٣- ترتفع مدينة بيت لحم عن مستوى سطح البحر..... متراً .
- ٣٤- تتصل مدينة بيت لحم جغرافياً مع مدينتي .....و.....
- ٣٥- توجد كنيسة المهد في مدينة.....
- ٣٦- ولد السيد المسيح عيسى عليه السلام في مدينة.....
- ٣٧- من أهم المعالم الأثرية في مدينة بيت لحم.....
- ٣٨- من أهم الصناعات التي تشتهر بها مدينة بيت لحم .....و.....
- ٣٩- تبعد مدينة يافا عن القدس حوالي ..... كم .
- ٤٠- يبلغ ارتفاع مدينة يافا عن مستوى سطح البحر ..... م .
- ٤١- أنشئ ميناء يافا عام ..... م .
- ٤٢- سميت مدينة يافا في عهد الكنعانيين باسم .....
- ٤٣- ترتفع مدينة غزة عن مستوى سطح البحر حوالي ..... م .
- ٤٤- تبعد مدينة غزة عن مدينة القدس حوالي ..... كم .
- ٤٥- خضعت مدينة غزة للاحتلال البريطاني عام ..... م .
- ٤٦- تم تأسيس السلطة الوطنية الفلسطينية عام ..... م .
- ٤٧- تتكون مدينة غزة من عدة أحياء منها.....و.....
- ٤٨- من المعالم الأثرية لمدينة غزة .....و.....

- ٤٩- من المراكز التعليمية التي توجد في مدينة غزة.....و.....
- ٥٠- تبعد مدينة نابلس عن مدينة القدس حوالي ..... كم .
- ٥١- الاسم الذي أطلق على مدينة نابلس في العهد الكنعاني ..... .
- ٥٢- سيطر الرومان على مدينة نابلس عام ..... ق.م.
- ٥٣- الاسم الذي أطلقه الرومان على نابلس هو..... .
- ٥٤- القائد المسلم الذي حرر نابلس من الصليبيون هو ..... .
- ٥٥- خضعت مدينة نابلس للاحتلال البريطاني عام.....م .
- ٥٦- خضعت مدينة نابلس للاحتلال الصهيوني عام.....م .
- ٥٧- عدد سكان الطائفة السامرية في فلسطين حوالي ..... نسمة .
- ٥٨- تمتد مدينة نابلس بين جبلي .....و..... .
- ٥٩- تشتهر مدينة نابلس بعدد من الصناعات مثل .....و..... .
- ٦٠- أهم المؤسسات التعليمية في مدينة نابلس..... .
- ٦١- من أمثلة المؤسسات الصحية في مدينة نابلس ..... .
- ٦٢- تبعد مدينة أريحا من البحر الميت حوالي ..... كم.
- ٦٣- تنخفض مدينة أريحا عن مستوى سطح البحر حوالي..... متر.
- ٦٤- أكثر المدن انخفاضاً في العالم هي مدينة..... .
- ٦٥- أقدم مدينة في فلسطين هي ..... .

- ٦٦- أطلق الكنعانيون على مدينة أريحا اسم..... .
- ٦٧- من الينابيع الموجودة في مدينة أريحا .....و..... .
- ٦٨- خضعت مدينة أريحا للاحتلال البريطاني عام ..... م .
- ٦٩- تشتهر مدينة أريحا بزراعة .....و..... .
- ٧٠- من أشهر مؤسسات مدينة أريحا التعليمية..... .
- ٧١- من أبرز المعالم السياحية و التاريخية في مدينة رام الله .....و..... .
- ٧٢- يوجد مقر المقاطعة و مقر رئاسة الوزراء في مدينة ..... .

- ضع علامة ( √ ) أمام العبارة الصحيحة وعلامة ( × ) أمام العبارة الخاطئة مع تصحيح الإجابة الخاطئة:-

- ١- ( ) أسهمت الحضارة العربية الإسلامية في إعمار الكثير من المدن الفلسطينية.
- ٢- ( ) تقع مدينة خانيونس في الجنوب الغربي من القدس .
- ٣- ( ) تعتبر مدينتي حيفا و يافا من المدن الجبلية.
- ٤- ( ) توجد مدن القدس و الخليل و بيت لحم في المناطق الجبلية.
- ٥- ( ) من مدن الأغوار مدينة بئر السبع.
- ٦- ( ) تقع مدينة القدس في منطقة الجليل الأعلى.
- ٧- ( ) ترتفع مدينة القدس عن مستوى سطح البحر حوالي ٧٥٤٠ م.
- ٨- ( ) يحد مدينة القدس من الشمال مدينة رام الله.
- ٩- ( ) يحد مدينة القدس من الجنوب اللد و الرملة.
- ١٠- ( ) عرفت مدينة القدس باسم مدينة ييوس نسبة إلى العرب اليبوسيين.
- ١١- ( ) أطلق على مدينة القدس اسم إيلياء في عهد الفرنجة.
- ١٢- ( ) الخليفة المسلم الذي فتح مدينة القدس عام ٦٣٨ م هو عمر بن الخطاب.
- ١٣- ( ) حرر صلاح الدين الأيوبي مدينة القدس خلال معركة عين جالوت.
- ١٤- ( ) من الرحالة الذين زاروا مدينة القدس ابن بطوطة و ابن حوقل و المقدسي.

- ١٥- ( يطلق اسم المسجد الأقصى على قبة الصخرة فقط.
- ١٦- ( تبلغ مساحة المسجد الأقصى حوالي ١٤٣ دونماً.
- ١٧- ( يعتبر المسجد الأقصى أولى القبلتين و ثالث الحرمين الشريفين.
- ١٨- ( بُني الجامع القبلي زمن الخليفة عمر بن الخطاب.
- ١٩- ( بني مسجد قبة الصخرة زمن الخليفة عبد الملك بن مروان عام ٦٩١م.
- ٢٠- ( المسجد الذي أطلق عليه إسطنبول سليمان في عهد الاحتلال الصليبي للقدس هو المصلى المرواني.
- ٢١- ( تم ترميم مسجد المصلى المرواني عام ١٩٩٦م.
- ٢٢- ( تعتبر مدينة القدس من الأماكن المقدسة عند المسلمين و المسيحيين.
- ٢٣- ( الإمبراطور الذي بنى كنيسة القيامة قسطنطين و أمه هيلانة.
- ٢٤- ( بنيت كنيسة القيامة عام ٣٣٣م.
- ٢٥- ( تعد كنيسة مغارة الحليب من أهم الكنائس المسيحية في مدينة الخليل.
- ٢٦- ( من أسواق مدينة القدس سوق القطنين و باب خان الزيت.
- ٢٧- ( من الأبواب المفتوحة لسور القدس باب العمود و باب الساهرة.
- ٢٨- ( من المعالم العلمية و الثقافية في مدينة القدس بيت الشرق و مسرح الحكواتي.
- ٢٩- ( توجد مستشفى المقاصد و المطلع و العيون في مدينة غزة.
- ٣٠- ( قام الاحتلال الصهيوني باحتلال مدينة غزة عام ١٩٤٨م.
- ٣١- ( تقع مدينة الخليل في المنطقة الشمالية من فلسطين.
- ٣٢- ( تبعد مدينة الخليل عن القدس حوالي ٥١ كم.
- ٣٣- ( تقع مدينة الخليل شرق مدينة بيت لحم.
- ٣٤- ( بنى الكنعانيون مدينة الخليل عام ٣٥٠٠ سنة ق.م.
- ٣٥- ( من أهم المواقع الأثرية التي توجد في مدينة الخليل تل الرميذة و البلدة القديمة.
- ٣٦- ( يوجد الحرم الإبراهيمي الشريف في مدينة القدس.
- ٣٧- ( تقع بركة السلطان جنوب غرب المسجد الإبراهيمي.
- ٣٨- ( بُنيت بركة السلطان في عهد الخليفة عمر بن الخطاب.
- ٣٩- ( من المعالم العلمية والثقافية التي توجد في الخليل جامعة بوليتكنك فلسطين.
- ٤٠- ( تشكل مدينة الخليل مركزاً تجارياً هاماً.

- ٤١- ( حدثت مجزرة الحرم الإبراهيمي الشريف بتاريخ ١٩٩٤/٢/٢٥ .
- ٤٢- ( تشتهر مدينة الخليل بالتكايا التي تقدم الطعام للمحتاجين .
- ٤٣- ( تقع مدينة بيت لحم جنوب مدينة القدس .
- ٤٤- ( تبعد مدينة بيت لحم عن مدينة القدس حوالي ١٥ كم .
- ٤٥- ( أهم الكنائس التي توجد في مدينة بيت لحم كنيسة القيامة .
- ٤٦- ( ولد السيد المسيح عليه السلام في كنيسة المهد .
- ٤٧- ( من المعالم الأثرية التي توجد في بيت لحم برك سليمان .
- ٤٨- ( تقع مدينة يافا على شاطئ البحر المتوسط .
- ٤٩- ( بنى مدينة يافا الكنعانيون و سموها يافي .
- ٥٠- ( من أشهر المعالم التاريخية لمدينة يافا مسجد يافا الكبير و مسجد حسن بك .
- ٥١- ( تشتهر مدينة يافا بالصناعات السياحية مثل المطرقات و التحف الخشبية .
- ٥٢- ( تقع مدينة غزة في الطرف الجنوبي للساحل الفلسطيني على البحر المتوسط .
- ٥٣- ( أطلق على غزة اسم (غزة هاشم) في العهد الإسلامي .
- ٤٥- ( دفن في مدينة غزة هاشم بن عبد مناف جد النبي محمد عليه الصلاة و السلام .
- ٥٥- ( خضعت غزة للاحتلال البريطاني في عام ١٩٤٨ م .
- ٥٦- ( وصل الرئيس ياسر عرفات مدينة غزة في ١٩٩٤/٧/١ م .
- ٥٧- ( من المعالم الأثرية التي توجد في مدينة غزة المسجد العمري الكبير و مسجد السيد هاشم .
- ٥٨- ( تقع مدينة نابلس في الجزء الجنوبي من فلسطين .
- ٥٩- ( سيطر الرومان على مدينة نابلس عام ٣٦ ق.م .
- ٦٠- ( الذي حرر مدينة نابلس من الصليبيين هو عمرو بن العاص .
- ٦١- ( خضعت مدينة نابلس للاحتلال البريطاني عام ١٩١٨ م .
- ٦٢- ( خضعت مدينة نابلس للاحتلال الصهيوني عام ١٩٦٧ م .
- ٦٣- ( تمتد مدينة نابلس بين جبلي الجرمق و تل العاصور .
- ٦٤- ( تعد مدينة نابلس مركزاً تجارياً و صناعياً رئيسياً في فلسطين .
- ٦٥- ( من أهم الصناعات التي توجد في مدينة نابلس صناعة البلاط و الصابون و الكفافة النابلسية .
- ٦٦- ( توجد جامعة النجاح في مدينة القدس .





- ٦٧- ) تعتبر مدينة أريحا من المدن الساحلية في فلسطين.
- ٦٨- ) تتميز أريحا بانخفاضها عن مستوى سطح البحر .
- ٦٩- ) تبعد مدينة أريحا عن القدس حوالي ٤٠ كم.
- ٧٠- ) أطلق الكنعانيون اسم يريحو على مدينة أريحا.
- ٧١- ) تعتبر مدينة أريحا سلة فلسطين الغذائية.
- ٧٢- ) يوجد في أريحا معبر الكرامة الذي يعد حلقة وصل بين فلسطين و الأردن.
- ٧٣- ) من أشهر مؤسسات يافا التعليمية جامعة الاستقلال الحكومية.
- ٧٤- ) تقع مدينة رام الله على بعد ١٦ كم شمال مدينة القدس.
- ٧٥- ) تعتبر مدينة البيرة المدينة التوأم لمدينة رام الله.
- ٧٦- ) من أبرز المعالم السياحية في مدينة البيرة البلدة القديمة.
- ٧٧- ) تشكل مدينتي رام الله و البيرة مركزاً سياسياً و اقتصادياً.
- ٧٨- ) توجد المؤسسات الحكومية و مقر الوزارات في مدينة أريحا.
- ٧٩- ) أول إذاعة فلسطينية تأسست في مدينة رام الله عام ١٩٣٦م.
- ٨٠- ) حاصر الاحتلال الصهيوني الرئيس الراحل ياسر عرفات في رام الله عام ٢٠٠٥م.
- ٨١- ) استشهد الرئيس ياسر عرفات عام ٢٠٠٤ و تم دفن جثمانه في مقر المقاطعة.

#### - أختَر الإجابة الصحيحة مما بين القوسين:-

- ١- من المدن الساحلية في فلسطين مدينة ( نابلس ، الخليل، حيفا ، بيسان ) .
- ٢- من المدن التي توجد في الأغوار مدينة ( طبريا ، عكا ، القدس ، الخليل ) .
- ٣- مدينة القدس من مدن ( الساحل ، الأغوار ، الصحراء ، الجبلية ) .
- ٤- تبعد مدينة القدس عن البحر الميت حوالي ( ٢٥ كم ، ٢٣ كم ، ٢٢ كم ، ٢٤ كم ) .
- ٥- الغزاة الذين غزو مدينة القدس هم ( الفرنسيين ، البريطانيين ، الاحتلال الصهيوني ، الاحتلال الأمريكي ) .
- ٦- أطلق الرومان على مدينة القدس اسم ( ييوس ، إيليا ، القدس ، بيت المقدس ) .
- ٧- الخليفة الذي فتح مدينة القدس من الرومان ( صلاح الدين الأيوبي ، عمر بن الخطاب ، عبد الملك بن مروان ، عمر بن عبد العزيز ) .
- ٨- القائد الذي حرر مدينة القدس من الفرنجة ( صلاح الدين الايوبي ، عمر بن الخطاب ، قطز ، بيبرس ) .

- ٩- من أشهر الكنائس الموجودة في مدينة القدس  
( كنيسة البشارة ، كنيسة القيامة ، كنيسة المهد ، كنيسة القديس برفيريوس ).
- ١٠- الامبراطور الذي بنى كنيسة القيامة ( جوستينيان ، قسطنطين ، صفرنيوس ، كل ما ذكر ).
- ١١- الأبواب المفتوحة لسور القدس ( خمسة أبواب ، أربعة أبواب ، سبعة أبواب ، ثمانية أبواب ).
- ١٢- سميت مدينة الخليل بهذا الاسم نسبة إلى سيدنا ( موسى ، عيسى ، إبراهيم ، يوسف ).
- ١٣- من أهم الكنائس التي توجد في مدينة بيت لحم  
( كنيسة المهد ، كنيسة القيامة ، كنيسة البشارة ، الجثمانية ).
- ١٤- توجد برك سليمان بالنسبة لمدينة بيت لحم في جهة  
( الشمال الغربي ، الجنوب الغربي ، الشرق ، الجنوب ).
- ١٥- السلطان العثماني الذي بنى برك سليمان هو  
( عبد الحميد الثاني ، سليم الأول ، سليمان القانوني ، عبد الحميد الثالث ).
- ١٦- تقع مدينة يافا على شاطئ البحر المتوسط قرب مصب نهر  
( النعامين ، المقطع ، العوجا ، الأردن ).
- ١٧- من أشهر معالم مدينة يافا مسجد  
( المحمودية ، العمري الكبير ، مسجد الرضوان ، الأقصى ).
- ١٨- تقع مدينة غزة بالنسبة للساحل الفلسطيني في الطرف  
( الجنوبي ، الشرقي و الجنوبي ، الشمالي ، الشرقي ).
- ١٩- من الغزاة الذين تصارعوا على مدينة غزة ( اليونان ، الإغريق ، البابليين ، الآشوريين ).
- ٢٠- يوجد في مدينة غزة حي  
( الجنيّة ، الشيخ رضوان ، السلطان ، السعودي ).
- ٢١- من الجامعات التي توجد في غزة  
( جامعة بيرزيت ، جامعة النجاح ، جامعة الأزهر ، جامعة الأردن ).
- ٢٢- المدينة التي تقع في الجزء الشمالي من فلسطين ( رهط ، بئر السبع ، غزة ، نابلس ).
- ٢٣- تقع مدينة أريحا في  
( الجبال ، الأغوار ، الصحراء ، الساحل ).
- ٢٤- أهم نبع يوجد في أريحا نبع  
( عين السلطان ، النويعة ، الديوك ، العوجا ).
- ٢٥- من المعالم الأثرية التي توجد في أريحا ( تل السلطان ، قلعة برقوق ، المسجد العمري ، مسجد حسن بيك ).
- ٢٦- أصبحت مدينة أريحا تحت السيادة الفلسطينية في عام  
( ١٩١٧م ، ١٩٦٧م ، ١٩٩٤م ، ١٩٩٠م ).

٢٧- ترتفع مدينة رام الله عن مستوى سطح البحر حوالي

(٥٨٠ كم ، ٨٧٠ كم ، ٤٣٠ كم ، ٦٢٠ كم).

٢٨- تبعد مدينة رام الله عن القدس

(١٧ كم ، ١٥ كم ، ١٦ كم ، ١٢ كم).

٢٩- السنة التي حاصر الاحتلال الصهيوني فيها الرئيس الراحل ياسر عرفات في مدينة رام الله

والبيرة ( ١٩٩٣ م ، ٢٠٠٠ م ، ٢٠٠٢ م ، ٢٠٠٤ م ).

- بم تفسر:-

١- عرفت مدينة القدس باسم مدينة ييوس.

٢- الأهمية الدينية لمدينة القدس.

٣- تأسيس الدول العربية للمشروع العربي الإنشائي عام ١٩٤٥م.

٤- تشكل مدينة الخليل مركزاً تجارياً مهماً.

٥- أهمية الموقع الجغرافي لمدينة يافا.

٦- زيارة أعداد كبيرة من المسيحيين في العالم لمدينة بيت لحم.

٧- تشكل مدينة بيت لحم مركزاً سياحياً مهماً.

٨- نفذت الحكومة الفلسطينية مشروع بيت لحم ٢٠٠٠.

٩- أهمية الموقع الجغرافي لمدينة غزة.

١٠- أطلق على مدينة غزة اسم غزة هاشم.

١١- تم تشكيل لجان إعمار لمدينة غزة من خلال الحكومة الفلسطينية.

١٢- أطلق على مدينة نابلس لقب جبل النار.

١٣- يعد نبع عين السلطان من أهم ينابيع أريحا.

١٤- تتمتع مدينة أريحا بأهمية اقتصادية كبيرة.

١٥- تعد أريحا سلة فلسطين الغذائية.

١٦- تعد رام الله مصيفاً بينما أريحا مشتّى.

١٧- التطور العمراني و الاقتصادي في مدينتي رام الله و البيرة في الوقت الحاضر.

١٨- أهمية الموقع الجغرافي لمدينة أريحا.

#### - ماالنتائج المترتبة على:-

١- زيارة آلاف المسيحيين من مختلف أنحاء العالم كل عام لكنيسة القيامة.

٢- الممارسات الصهيونية العنصرية تجاه مدينة القدس.

٣- حفر الأنفاق تحت المسجد الأقصى.

٤- مجزرة الحرم الإبراهيمي ٢٥-٢-١٩٩٤م.

٥- انتهاكات الاحتلال الصهيوني ضد مدينة الخليل.

٦- موقع مدينة الخليل المتوسط.

٧- الأهمية الدينية لمدينة بيت لحم.

٨- وجود كنيسة المهد في بيت لحم.

٩- وجود الصناعات السياحية في بيت لحم.

١٠- الحروب التي شنها الاحتلال الصهيوني على مدينة غزة.

١١- الاجتياحات الصهيونية للبلدة القديمة في مدينة نابلس.

١٢- انخفاض مدينة أريحا عن مستوى البحر.

١٣- وجود المؤسسات الحكومية و المقرات الحكومية في مدينتي رام الله و البيرة.

- أجب عن الأسئلة التالية:-

١- اذكر أشهر الحضارات التي تعاقبت على أرض فلسطين.

٢- عدد الأماكن الدينية المقدسة التي تشملها منطقة الحرم القدسي.

٣- عدد أبواب الحرم القدسي المفتوحة و المغلقة.

٤- بين الأساليب و الوسائل التي استخدمها الاحتلال الصهيوني ضد سكان مدينة القدس.

٥- اذكر أهم المعالم الدينية و الأثرية لمدينة الخليل.

.....  
.....

٦- وضح انتهاكات الاحتلال الصهيوني في مدينة الخليل.

.....  
.....

٧- عدد أشهر معالم مدينة يافا التاريخية.

.....  
.....

٨- اذكر أشهر المحاصيل الزراعية التي تشتهر بها مدينة يافا.

.....  
.....

٩- عدد أهم المراكز الثقافية و التعليمية لمدينة غزة.

.....  
.....

١٠- بين أهم ما تشتهر في إنتاجه كل من المدن الفلسطينية الآتية:

\* يافا : .....

\* غزة : .....

١١- اذكر أشهر المعالم التاريخية في مدينة نابلس.

.....  
.....

١٢- وضح أهمية الموقع الجغرافي لمدينة أريحا.

.....  
.....

١٣- اذكر المعالم الأثرية في مدينة أريحا.

.....  
.....





## الوحدة الثانية/ فلسطين في نهاية الحكم العثماني. الدرس الأول : الإدارة العثمانية المركزية في فلسطين في القرن التاسع عشر.

### - أكمل الفراغات التالية:-

- ١- خضعت فلسطين لحكم الدولة العثمانية من عام ١٥١٦م حتى عام ..... م.
- ٢- حكمت الدولة العثمانية فلسطين حوالي.....عام.
- ٣- انفصل إبراهيم باشا عن الدولة العثمانية عام .....م.
- ٤- شقت قناة السويس عام .....م.
- ٥- السلطان الذي أصدر الدستور العثماني عام ١٨٧٦م هو .....
- ٦- من المنتجات الزراعية التي تزايد عليها الطلب الأوروبي في نهاية الحكم العثماني .....
- ٧- من المصارف الأجنبية و البنوك التي تأسست في عهد الدولة العثمانية .....
- ٨- من الأسواق الفلسطينية التي وجدت في العهد العثماني .....
- ٩- تضم طبقة العامة .....و.....و.....و.....
- ١٠- تضم الطبقة الوسطى .....و.....
- ١١- الطبقة التي سيطرت على الشؤون الاقتصادية والتجارية في فلسطين زمن العثمانيون طبقة .....
- ١٢- مثل فلسطين في مجلس المبعوثان العثماني هو .....
- ١٣- كانت كل فلسطين عام ١٨٦٤م، ضمن ولاية الشام بموجب قانون .....

- ضع علامة ( √ ) أمام العبارة الصحيحة وعلامة ( × ) أمام العبارة الخاطئة مع تصحيح الإجابة الخاطئة:-

- ١- ( ) خضعت فلسطين للحكم العثماني حوالي ٤ قرون.
- ٢- ( ) كانت إصلاحات الدولة العثمانية في فلسطين أواخر القرن ال ١٩.
- ٣- ( ) السلطان الذي وضع الدستور العثماني هو عبد الحميد الثاني.
- ٤- ( ) تراجعت الأوضاع الزراعية في فلسطين في مرحلة التنظيمات.
- ٥- ( ) ازدهر قطاع الزراعة في فلسطين في مرحلة التنظيمات.
- ٦- ( ) الذي ساعد على ازدهار التجارة في فلسطين شق الطرق البرية بين المدن والقرى.
- ٧- ( ) تتكون الطبقة الوسطى من الفلاحين والبدو والحرفيين.
- ٨- ( ) الطبقة التي تسيطر على التجارة والاقتصاد طبقة كبار التجار و الملاكين.
- ٩- ( ) من الصناعات التي ظهرت في عهد الدولة العثمانية في فلسطين الصابون والنسيج والفخار.
- ١٠- ( ) ظهر نوعان من المدارس في فلسطين في أواخر الحكم العثماني العمومية والخاصة.
- ١١- ( ) أقيمت مستعمرة بتاح تكفا على أراضي قرية ملبس عام ١٨٨٢م.
- ١٢- ( ) يتألف المجلس العمومي من ثلاث مجالس.
- ١٣- ( ) لم تشجع بريطانيا الهجرة الصهيونية إلى فلسطين.
- ١٤- ( ) ربطت الدولة العثمانية قنصلية القدس بالعاصمة استانبول.
- ١٥- ( ) بريطانيا أول دولة أوروبية أنشأت لها قنصلية في القدس عام ١٨٣٨م.
- ١٦- ( ) أصبح لفلسطين أول تمثيل سياسي في مجلس المبعوثان أواخر الحكم العثماني.
- ١٧- ( ) تنبع أهمية قناة السويس بالنسبة لبريطانيا أنها تختصر المسافة بين بريطانيا وبين مستعمراتها في الهند.
- ١٨- ( ) أسهم نظام الالتزام في فلسطين في تطور الزراعة أواخر العهد العثماني.
- ١٩- ( ) من مظاهر الفساد الإداري في أواخر عهد الدولة العثمانية الرشوة.
- ٢٠- ( ) كان التعليم في أوائل العهد العثماني يتم في الكتاتيب والمساجد.

- أختار الإجابة الصحيحة مما بين القوسين:-

١- نشطت الحركة التجارية داخل وخارج فلسطين في العهد

(الصهيوني ، البريطاني، العثماني ، الروماني).

- ٢- أكثر الدول الاستعمارية التي اهتمت للسيطرة على قناة السويس لوجود مستعمراتها في الهند ( فرنسا ، أمريكا، بريطانيا ، البرتغال ).
- ٣- انقسم المجتمع الفلسطيني أواخر الحكم العثماني إلى ( طبقتين ، ثلاث طبقات ، أربع طبقات، خمس طبقات ).
- ٣- كان التعليم في فلسطين يتم في ( الجامعات ، المدارس ، الكليات ، الكتاتيب والمساجد ).
- ٤- توجد مدرسة المطران في مدينة ( القدس، نابلس ، رام الله ، الخليل ).
- ٥- أنشأ اليهود مستعمرة بتاح تكفا على أراضي قرية ملبس عام ( ١٨٨٣م ، ١٨٨٥م ، ١٨٨٤م ، ١٨٨٢م ).
- ٦- كان لفلسطين في مجلس المبعوثين ( نائبين ،نائب واحد ، ثلاث نواب ، خمس نواب ).
- ٧- تم تقسيم فلسطين إلى قسمين إداريين ( في أوائل الحكم العثماني ، في أواسط الحكم العثماني، في أواخر الحكم العثماني، بداية الحكم البريطاني ).
- ٨- من مظاهر الفساد الإداري (تقديم الخدمة للمواطنين على أحسن وجه، الالتزام بمواعيد العمل، رفض الرشوة، إفشاء سر العمل ).
- ٩- ساءت أحوال المزارعين في أواخر العهد العثماني بفعل ( تجريف الأراضي ، مصادرة الأراضي ، الضرائب المفروضة عليهم ، شق الطرق الالتفافية ).

- بم تفسر:-

- ١- قيام الدولة العثمانية بعده إصلاحات .
- ٢- تقسيم الدولة العثمانية إلى عدة ألوية ومحاافظات .
- ٣- ربطت الدولة العثمانية متصرفية القدس بالعاصمة استانبول مباشرة.
- ٤- عدم ثبات التقسيمات الإدارية أواخر الحكم العثماني في فلسطين.
- ٥- تدهور الزراعة في نهاية العصر العثماني .

٦- ازدهار قطاع الزراعة في فلسطين في مرحلة التنظيمات.

.....

٧- ازدهار التجارة في فلسطين زمن الدولة العثمانية.

.....

٨- اصدار السلطان عبدالحميد الدستور العثماني عام ١٨٧٦م.

.....

#### - عرف المصطلح التالي:-

١ - قناة السويس:.....

.....

٢ - نظام الالتزام:.....

.....

#### - ماالنتائج المترتبة على:-

١- الضرائب المرتفعة المفروضة على المزارعين في أواخر الحكم العثماني .

.....

٢- منح المزارعين تسهيلات واسعة واتساع المساحات المستصلحة من الأراضي في مرحلة التنظيمات.

.....

٣- سن الدولة العثمانية للقوانين والتشريعات التي تتناسب مع خط شريف كلخانة وخط شريف همايون.

.....

٤- شق قناة السويس.

.....

#### - أجب عن الأسئلة التالية:-

١- وضح الظروف والأحداث التي أثرت على أوضاع فلسطين في أواخر الحكم العثماني.

.....

.....

.....

٢- عدد إصلاحات الدولة العثمانية في فلسطين أواخر عهدها ( القرن التاسع عشر)

.....

.....



٣- قارن بين: خط شريف كلخانة وخط شريف همايون ، من حيث: " تاريخ الإصدار - البنود".-

خط شريف همايون	خط شريف كلخانة	التنظيمات الخيرية
		تاريخ الإصدار
		البنود

٤- وضح أهداف الدولة العثمانية من اصدار الدستور العثماني ١٨٧٦م في عهد السلطان عبد الحميد الثاني.

.....

.....

.....

٥- عدد طبقات المجتمع الفلسطيني أواخر الحكم العثماني.

.....

.....

.....

٦- صف الأوضاع التعليمية في فلسطين أواخر الحكم العثماني.

.....

.....

.....

٧- تحدث عن الأوضاع السياسية التي شهدتها فلسطين في أواخر الحكم العثماني.

.....

.....

.....

٨- كانت فلسطين في أواخر الحكم العثماني تقع في قسمين إداريين أذكرهما.

.....

.....

## الوحدة الثانية/ فلسطين في نهاية الحكم العثماني.

### الدرس الثاني : النفوذ الأجنبي في فلسطين "القرن التاسع عشر"

#### - أكمل الفراغات التالية:-

- ١- أول قنصلية أجنبية تم انشائها في مدينة القدس زمن العثمانيون هي القنصلية.....
- ٢- من ايجابيات الامتيازات الأجنبية بناء ميناء .....و.....
- ٣- من التجمعات العمرانية الأوروبية في فلسطين زمن العثمانيون المجمع الروسي في مدينة.....
- ٤- من المستشفيات الأجنبية في فلسطين زمن العثمانيون مستشفى .....
- ٥- نشطت الإرساليات التبشيرية بعد منتصف القرن .....
- ٦- من القنصليات الأجنبية التي ظهرت في أواخر الحكم العثماني في فلسطين .....

- ضع علامة ( √ ) أمام العبارة الصحيحة وعلامة ( × ) أمام العبارة الخاطئة مع تصحيح الإجابة الخاطئة:-

- ١- ( ) كانت الامتيازات الأجنبية في بدايتها نعمة وفي أواخر الدولة العثمانية نقمة.
- ٢- ( ) منحت الدولة العثمانية لفرنسا تسهيلات بإنشاء ميناء حيفا ويافا ومد سكة حديد بين يافا و القدس.
- ٣- ( ) من مظاهر التدخل الأجنبي في فلسطين الامتيازات الأجنبية والقنصليات الأجنبية و المؤسسات التبشيرية .
- ٤- ( ) أسهمت الإرساليات التبشيرية في نقل المهاجرين الصهاينة إلى فلسطين بصورة غير شرعية.
- ٥- ( ) تعتبر الإرسالات التبشيرية من أخطر وسائل الاستعمار .
- ٦- ( ) من إيجابيات الإرساليات التبشيرية تنشيط الحركة التعليمية كإنشاء المدارس والمعاهد.
- ٧- ( ) منعت الإرساليات التبشيرية إدخال المطابع إلى فلسطين .
- ٨- ( ) التبشير هو نشر الدين المسيحي.



- ٩- ( ) ساعدت القنصليات الأوروبية المقاومة العربية.  
١٠- ( ) أنشأت روسيا المجمع الروسي في يافا.  
١١- ( ) عملت فرنسا على بناء المستشفى الفرنسي في القدس

- أختار الإجابة الصحيحة مما بين القوسين:-

- ١-الإرساليات التبشيرية هي حركات تزعمتها الدول  
( العربية ،الاسلامية ، الأوروبية ، الأمريكية).  
٢-من الأمثلة على التجمعات العمرانية الأوربية في فلسطين  
( المجمع الروسي في القدس المسكوبية ،المجمع الأمريكي ، المجمع البريطاني، المجمع السوري ).  
٣-من الآثار الإيجابية للإرساليات التبشيرية في فلسطين  
(نشر الدين الاسلامي ، تخريج عدد من الأدباء الفلسطينيين ، نشر الدين المسيحي ، التشجيع على الهجرة).  
٤-أول قنصلية تم انشاؤها في فلسطين هي القنصلية(الأمريكية ، الروسية ، البريطانية ،الألمانية ).  
٥-أنشئت القنصلية البريطانية في مدينة القدس عام...م ( ١٨٣٩ ، ١٨٣٧ ، ١٨٣٨ ، ١٨٣٥ ).

- بم تفسر:-

- ١-خروج الأقليات غير المسلمة في فلسطين من تحت سيادة الدولة العثمانية.  
.....  
٢-أثرت القنصليات الأجنبية سلباً على فلسطين أواخر الدولة العثمانية .  
.....  
٣-إساءة استغلال الدول الأجنبية للامتيازات الممنوحة لها في فلسطين.  
.....  
٤-منحت الدولة العثمانية تسهيلات تجارية وحماية شخصية لرعايا الدول الأجنبية .  
.....  
٥-تعد الإرساليات التبشيرية من أخطر وسائل الاستعمار .  
.....

- عرف المصطلح التالي:-

- ١- التبشير:.....
- ٢- الامتيازات التبشيرية:.....
- ٣- القنصلية:.....
- ٤- الباب العالي:.....
- ٥- الارساليات التبشيرية:.....

- ماالنتائج المترتبة على:-

- ١- ضعف الدولة العثمانية أواخر عهدها.
- ٢- منح الدولة العثمانية الامتيازات الأجنبية لرعايا الدول الأوروبية.

- أجب عن الأسئلة التالية:-

- ١- ناقش الدور السلبي للقنصليات الأجنبية وتقديم كافة التسهيلات للحركة الصهيونية.
- ٢- وضح الأثر السلبي والايجابي لمنح الدولة العثمانية الامتيازات الأجنبية لرعايا الدول الأوروبية.
- ٣- اذكر الآثار السلبية للإرساليات التبشيرية في فلسطين في أواخر العهد العثماني .

٤- وضح الآثار الإيجابية للإرساليات التبشيرية في فلسطين

.....

.....

.....

٥- عدد مظاهر التدخل الأجنبي أواخر الحكم العثماني.

.....

.....

٦- اذكر أمثلة على التجمعات العمرانية الأوروبية في فلسطين التي ظهرت أواخر الحكم العثماني.

.....

.....



## الوحدة الثانية/ فلسطين في نهاية الحكم العثماني. الدرس الثالث: الاستعمار والصهيونية

### - أكمل الفراغات التالية:-

- ١- من أشهر دعاة الفكر الصهيوني ..... و ..... .
- ٢- صاحب مقولة " هناك شعب بلا أرض وأرض بلا شعب " هو ..... .
- ٣- القائد الفرنسي الذي وجه نداءً لليهود عام ١٧٩٩م لإقامة وطن قومي لهم في فلسطين هو..... .
- ٤- من الجهود التي بذلها هرتسل لإقامة وطن قومي لليهود في فلسطين ..... و ..... .
- ٥- من المؤسسات الصهيونية التي دعمت المشروع الاستعماري في فلسطين ..... و ..... .
- ٦- السلطان العثماني الذي رفض السماح لليهود بالهجرة إلى فلسطين هو..... .

- ضع علامة ( √ ) أمام العبارة الصحيحة وعلامة ( × ) أمام العبارة الخاطئة مع تصحيح الإجابة الخاطئة:-

- ١- ( ) اليهودية هي إحدى الديانات السماوية الثلاث .
- ٢- ( ) اتهم الروس اليهود باغتيال قيصرهم عام ١٨٨٢م .
- ٣- ( ) نجحت كافة البلدان الأوروبية في استيعاب اليهود ومساواتهم في الحقوق مع مواطنيها .
- ٤- ( ) سعت فرنسا لدعم الفكرة الصهيونية لتضمن دعمهم لها في تأمين طريقها التجاري إلى مستعمراتها في الشرق .
- ٥- ( ) كان مؤتمر بازل الميلاد الحقيقي للصهيونية العالمية .
- ٦- ( ) أول مؤتمر صهيوني عقد في سويسرا عام ١٧٩٨م .
- ٧- ( ) حقق هرتسل حلمه في إقامة وطن قومي لليهود في فلسطين قبل وفاته .
- ٨- ( ) نجح هرتسل في الحصول على الدعم الألماني لمشروعه الاستعماري .
- ٩- ( ) الصهيونية واليهودية مفهوماً واحداً .

- أختار الإجابة الصحيحة مما بين القوسين:-

- ١- ظهرت فكرة الصهيونية في أوروبا في النصف الثاني من القرن :  
( التاسع عشر - الثامن عشر - السابع عشر - السادس عشر ) .
- ٢- تعرض اليهود إلى الاضطهاد في ألمانيا بعد حكم الحزب :  
( الفاشي - النازي - الدكتاتوري - الديمقراطي ) .
- ٣- دولة استعمارية دعمت المشروع الصهيوني لتضمن بقاء قناة السويس تحت سيطرتها :  
( ألمانيا - فرنسا - إيطاليا - بريطانيا ) .
- ٤- اصدر وعد بلفور المشؤوم بتاريخ :  
( ٢/أكتوبر/١٩١٧م - ٢/نوفمبر/١٩١٧م - ٢/ديسمبر/١٩١٧م - ٢/يناير/١٩١٧م ) .
- ٥- ترأس المؤتمر الصهيوني الأول المنعقد في بال بسويسرا :  
( ليو بنسكر - موشيه هس - ثيودور هرتسل - روتشيلد ) .
- ٦- أول دولة توجه إليها هرتسل لمساعدته في تحقيق أطماعه في فلسطين :  
( ألمانيا - روسيا - بريطانيا - الدولة العثمانية ) .
- ٧- المنطقة التي طالب بها هرتسل لإقامة المشروع الاستيطاني الصهيوني عليها هي :  
( مصر - السودان - فلسطين - الأرجنتين ) .
- ٨- عقد المؤتمر الصهيوني الأول بمدينة بازل بسويسرا عام :  
( ١٨٩٥م - ١٨٩٦م - ١٨٩٧م - ١٨٩٨م ) .

- بم تفسر:-

- ١- إصدار بريطانيا وعد بلفور المشؤوم عام ١٩١٧م .  
.....
- ٢- تعرض اليهود للاضطهاد في روسيا عام ١٨٨١م .  
.....
- ٣- سعي فرنسا لدعم الفكرة الصهيونية .  
.....
- ٤- مساندة بريطانيا للحركة الصهيونية في فلسطين .  
.....



٥- توجه هرتسل إلى ألمانيا لدعم مشروعه الاستعماري .

- عرف المصطلح التالي:-

١- الصهيونية:.....

٢- الاستعمار:.....

- ماالنتائج المترتبة على:-

١- فشل البلدان الأوروبية في استيعاب اليهود ومساواتهم بالحقوق مع مواطنيها .

٢- توطين بريطانيا للصهاينة في فلسطين .

- أجب عن الأسئلة التالية:-

١- حلل مضمون المقولة الآتية " هناك شعب بلا أرض وأرض بلا شعب ".

٢- عدد قرارات مؤتمر بازل عام ١٨٩٧ م .

٣- استنتج أوراق الضغط التي استخدمها هرتسل للضغط على السلطان عبد الحميد الثاني.

٤- بين موقف السلطان عبد الحميد الثاني من طلب هرتسل منحه فلسطين وطناً لليهود .

٥- اذكر العوامل التي ساعدت على ظهور الصهيونية.

## الوحدة الثانية/ فلسطين في نهاية الحكم العثماني. الدرس الرابع: الهجرة والاستيطان الصهيوني في فلسطين أواخر الحكم العثماني.

### - أكمل الفراغات التالية:-

- ١- من المؤسسات المالية التي أسهمت في تسهيل الهجرة اليهودية إلى فلسطين .....
- ٢- المستوطنة الصهيونية التي يعيش سكانها بشكل تعاوني ومنظم هي .....
- ٣- من المهام التي يقوم بها صندوق التأسيس الصهيوني ..... و .....
- ٤- انشئت عدد من المستوطنات على أرض فلسطين في الفترة الممتدة من ١٨٨٢م حتى ١٩٠٣م منها ..... و .....
- ٥- ارتكزت الحركة الصهيونية في تحقيق مشروعها في فلسطين أواخر الحكم العثماني على ..... و .....
- ٦- تحايل الصهاينة على القوانين العثمانية بدخولهم إلى فلسطين بـ .....
- ٧- أبرز الأعمال التي قامت بها جمعية الاتحاد والترقي عند وصولها لحكم الدولة العثمانية عام ١٩٠٩م هي .....
- ٨- من أشهر الكُتاب الفلسطينيين الذين قاوموا الهجرة الصهيونية .....
- ٩- صاحب كتاب " تاريخ الصهيونية " هو .....
- ١٠- مؤلف كتاب " الساحر اليهودي " هو .....
- ١١- وقعت صدامات بين الفلاحين الفلسطينيين والصهاينة عام ١٨٨٦م في قريتي ..... و .....
- ١٢- تم تأسيس الحزب الوطني العثماني عام ..... م.
- ١٣- الهدف من تأسيس الحزب الوطني العثماني هو .....



- ضع علامة ( √ ) أمام العبارة الصحيحة وعلامة ( × ) أمام العبارة الخاطئة مع تصحيح الإجابة الخاطئة:-

- ١- ( ) كانت الحركة الصهيونية حركة منظمة لها أهداف محددة قبل عقد مؤتمر بازل بسويسرا.
- ٢- ( ) بلغ عدد المهاجرين اليهود الذين قدموا إلى فلسطين في الموجة الأولى حوالي ٤٠ ألف مهاجر .
- ٣- ( ) ساعد ضعف الدولة العثمانية الحركة الصهيونية في تحقيق مشروعها الاستعماري على أرض فلسطين .
- ٤- ( ) من الإجراءات التي اتبعتها الدولة العثمانية لمنع الهجرة الصهيونية لفلسطين إنشاء متصرفية القدس عام ١٨٧٤م .
- ٥- ( ) بموجب القانون العثماني الصادر عام ١٨٨٧م يمنع اليهود من الإقامة في فلسطين أكثر من ثلاثة أشهر .
- ٦- ( ) وصلت جمعية الاتحاد والترقي إلى الحكم في الدولة العثمانية عام ١٩٠٨م .
- ٧- ( ) وقف الفلسطينيون مكتوفي الأيدي أمام ازدياد أعداد المهاجرين اليهود إلى فلسطين .
- ٨- ( ) من الجمعيات السياسية السرية التي قاومت مشروع الحركة الصهيونية جمعية المنتدى الأدبي .

- أختَر الإجابة الصحيحة مما بين القوسين:-

- ١- صندوق الانتماء الصهيوني للاستعمار هو أول مصرف صهيوني انشئ عام :  
( ١٨٩٩م - ١٩٨٩م - ١٨٨٩م - ١٨٨٢م ) .
- ٢- الاتحاد العام للعمال على أرض فلسطين هو :  
( الكيبوتس - الهستدروت - الكيرن هايسود - الكيرن كاييميت ) .
- ٣- نجح الصهاينة في انشاء حي لهم خارج أسوار مدينة القدس عام :  
( ١٨٥٧م - ١٨٨٢م - ١٨٣٠م - ١٨٧٥م ) .
- ٤- اقيمت مستوطنة بتاح تكفا " مفتاح الأمل " عام ١٨٨٢م على أراضي قرية :  
( الخضيرية - ملبس - يازور - يافا ) .
- ٥- بلغت نسبة الأراضي الفلسطينية التي أصبحت وفقاً للدولة العثمانية حسب قانون عام ١٨٨٣م :  
( ٢٠% - ٣٠% - ٧٠% - ٨٠% ) .
- ٦- نجحت جمعية الاتحاد والترقي في الوصول إلى الحكم عام ١٩٠٩م وعزل السلطان :  
( سليم الأول - سليمان القانوني - عبد الحميد الثاني - كمال أتاتورك ) .

٧- من الصحف الفلسطينية التي نهبت لمخاطر الهجرة اليهودية والصادرة في حيفا :  
( القدس - الكرمل - الأيام - الحياة ).

- بم تفسر:-

١- إنشاء الحركة الصهيونية مؤسسات مالية وإدارية متنوعة بعد عام ١٨٩٧م.

٢ - فتح مقر للوكالة اليهودية في استانبول .

٣ - توظيف الصهاينة في القنصليات والمؤسسات الأجنبية .

٤ - إصدار السلطان العثماني قانون عام ١٩٠٠م .

٥ - ترحيب الحركة الصهيونية بنجاح جمعية الاتحاد والترقي في اعتلاء عرش الدولة العثمانية .

- عرف المصطلح التالي:-

١ - الوثيقة الحمراء : .....

٢ - يهود الدونمة : .....

٣ - الإرساليات التبشيرية : .....

٤ - قانون عام ١٩٠٠م : .....

٥ - سياسة التتريك : .....

- ماالنتائج المترتبة على:-

١- وصول جمعية الاتحاد والترقي إلى حكم الدولة العثمانية عام ١٩٠٩م .

٢ - ازدياد أعداد المهاجرين اليهود إلى فلسطين .

- أجب عن الأسئلة التالية:-

٣- استنتج الأساليب و الوسائل التي اتبعتها الحركة الصهيونية في الهجرة والاستيطان في فلسطين .

.....

.....

.....

٤-وضح إجراءات الدولة العثمانية للحد من الهجرة الصهيونية إلى فلسطين .

.....

.....

.....

٥- بين الموقف العربي من الهجرة الصهيونية إلى فلسطين .

.....

.....

.....



## الوحدة الثانية/ فلسطين في نهاية الحكم العثماني.

### الدرس الخامس : المؤامرات الدولية على فلسطين خلال الحرب العالمية الأولى.

#### - أكمل الفراغات التالية:-

- ١- شاركت الدولة العثمانية في الحرب العالمية الأولى عام ١٩١٤م إلى جانب .....
- ٢- هدّد امتياز إنشاء الخط الحديدي الألماني العثماني بين برلين وبغداد مصالح بريطانيا في .....
- ٣- من الولايات التي تم استثناءها من حدود الدولة العربية المستقلة التي طالب بها الشريف حسين ..... و .....
- ٤- أعلن الشريف حسين ثورته على الدولة العثمانية فيما يعرف بالثورة العربية الكبرى بتاريخ .....
- ٥- تبعاً لاتفاقية سايكس بيكو نجحت بريطانيا في السيطرة على مينائي ..... و .....
- ٦- دخلت القوات البريطانية بقيادة النبي مدينة القدس بتاريخ .....

- ضع علامة ( √ ) أمام العبارة الصحيحة وعلامة ( × ) أمام العبارة الخاطئة مع تصحيح الإجابة الخاطئة:-

- ١- ( ) وعدت ألمانيا الدولة العثمانية باستعادة ممتلكاتها التي فقدتها بسبب الاستعمار الأوروبي.
- ٢- ( ) كان رد فعل بريطانيا على وقوف الدولة العثمانية إلى جانب ألمانيا في الحرب العالمية الأولى احتلال فلسطين .
- ٣- ( ) بدأت الاتصالات السرية بين الشريف حسين وبريطانيا عام ١٩١٦م .
- ٤- ( ) تم الكشف عن مراسلات حسين - مكماهون عام ١٩٣٩م .
- ٥- ( ) كانت فلسطين من المناطق التي استثنتها بريطانيا من حدود الدولة العربية التي طالب بها الشريف حسين .
- ٦- ( ) وضعت فلسطين تحت إدارة دولية وفقاً لمؤتمر سان ريمو ١٩٢٠م .

٧- ( ) من المؤامرات التي حيكت ضد الشعب الفلسطيني أثناء الحرب العالمية الأولى وعد بلفور المشؤوم عام ١٩١٧ م .

٨- ( ) احتلت بريطانيا فلسطين عام ١٩١٧ م وأنشأت فيها إدارة مدنية .

٩- ( ) قسمت بلاد الشام والعراق تبعاً لاتفاقية سايكس بيكو بين فرنسا وبريطانيا .

١٠- ( ) وافقت بريطانيا على حدود الدولة العربية التي طالب بها الشريف حسين ونفذتها .

#### - أختار الإجابة الصحيحة مما بين القوسين :-

١- ممثل بريطانيا في المراسلات السرية التي جرت بين بريطانيا والشريف حسين :

( اللورد كتشنر - آرثر بلفور - هنري مكماهون - اللنبي ) .

٢- اندلعت الحرب العالمية الأولى عام :

( ١٩١٤ م - ١٩١٨ م - ١٩٣٩ م - ١٩٤٥ م ) .

٣- تم اقتسام بلاد الشام والعراق سراً عام ١٩١٦ م تبعاً لاتفاقية :

( مدروس - رودس - سان ريمو - سايكس بيكو ) .

٤- من الدول الأوروبية التي شاركت في المفاوضات السرية عام ١٩١٦ م " اتفاقية سايكس بيكو " :

( فرنسا بريطانيا ألمانيا - فرنسا بريطانيا إيطاليا - فرنسا بريطانيا روسيا - فرنسا بريطانيا أمريكا )

٥- حدث تقارب بين الدولة العثمانية ودولة أوروبية قبيل اندلاع الحرب العالمية الأولى هي :

( بريطانيا - ألمانيا - فرنسا - إيطاليا ) .

٦- أعلن الشريف حسين الثورة على الدولة العثمانية بتاريخ :

( ١٠/ حزيران/ ١٩١٦ م - ١٠/ تشرين الأول/ ١٩١٦ م - ١٠/ تشرين الثاني/ ١٩١٦ م - ١٠/ تموز/ ١٩١٦ م ) .

٧- المدينة التي سيطر عليها أبناء الشريف حسين وكانت سبباً في شل حركة الأتراك وتقدمهم هي

( بئر السبع - العقبة - اللد - الرملة ) .

٨- عند صدور وعد بلفور المشؤوم عام ١٩١٧ م كان العرب يمتلكون ما نسبته من أراضي فلسطين

( ٩٢% - ٩٨.٥% - ٩٣% - ٩٤% ) .

٩- انتهت الحرب العالمية الأولى عام :

( ١٩٤٥ م - ١٩٣٩ م - ١٩١٨ م - ١٩١٤ م ) .

١٠- سيطرت بريطانيا عند دخولها فلسطين على مدينتي :

( بئر السبع وغزة - اللد والرملة - حيفا وعكا - بيسان وأريحا ) .



- بم تفسر:-

- ١- تأييد العسكريين الأتراك دخول الدولة العثمانية الحرب العالمية الأولى إلى جانب دول الوسط.  
.....
- ٢- دخول الدولة العثمانية إلى جانب ألمانيا " الوسط " في الحرب العالمية الأولى.  
.....
- ٣- اختيار بريطانيا للشريف حسين للثورة على الدولة العثمانية .  
.....
- ٤- تشجيع بريطانيا الشريف حسين للثورة على الدولة العثمانية.  
.....
- ٥- وضع مينائي حيفا وعكا تحت إدارة بريطانية وفق اتفاقية سايكس بيكو عام ١٩١٦ م .  
.....
- ٦- سميت اتفاقية سايكس بيكو بهذا الاسم .  
.....
- ٧- وعد بلفور باطل قانونياً وتاريخياً.  
.....
- ٨- انسحبت روسيا من الحرب العالمية الأولى عام ١٩١٧ م.  
.....

- عرف المصطلح التالي:-

- ١- مراسلات حسين - مكماهون :  
.....
- ٢- وعد بلفور :  
.....
- ٣- اتفاقية سايكس بيكو :  
.....



٤- سيطرة بريطانيا على مدينة العقبة .

.....

.....

٥- التقارب العثماني الألماني قبيل الحرب العالمية الأولى .

.....

.....

٦- هزيمة الدولة العثمانية في الحرب العالمية الأولى .

.....

.....

- أجب عن الأسئلة التالية:-

١- عدد بنود اتفاقية سايكس بيكو .

.....

.....

.....

٢- بين موقف العرب من اتفاقية سايكس بيكو و وعد بلفور .

.....

.....

.....

٣- وضح الشروط العربية المقدمة لبريطانيا للوقوف إلى جانبها في الحرب العالمية الأولى .

.....

.....

.....

٤- تتبع التغيرات التي أحدثتها اتفاقية سايكس بيكو في بلاد الشام والعراق .

.....

.....

.....



## الوحدة الثالثة/الانتداب البريطاني على فلسطين.

### الدرس الأول : الإدارة البريطانية على فلسطين " ١٩١٧م - ١٩٢٢م

- أكمل الفراغات التالية:-

- ١- احتلت بريطانيا فلسطين عام ١٩١٧م وأقامت فيها حكومة .....
- ٢- انتهت الإدارة العسكرية البريطانية في فلسطين عام .....
- ٣- المحكمة التي أسستها بريطانيا للنظر في الجرائم المهمة في القدس هي محكمة .....
- ٤- عانت فلسطين أزمة اقتصادية حادة بسبب الحرب العالمية الأولى ومن مظاهرها .....
- ٥- من الدول التي شاركت في مؤتمر سان ريمو .....
- ٦- اعتمد نظام التعليم في فلسطين أثناء الإدارة العسكرية البريطانية على .....
- ٧- أول مندوب سامي على فلسطين هو الصهيوني .....

- ضع علامة ( √ ) أمام العبارة الصحيحة وعلامة ( × ) أمام العبارة الخاطئة مع تصحيح الإجابة الخاطئة:-

- ١- ( ) اتبعت الدول الاستعمارية في سيطرتها على الشعوب شكلاً واحداً للاستعمار هو الاحتلال العسكري .
- ٢- ( ) قسمت بريطانيا فلسطين إلى ١٣ مقاطعة يحكم كل مقاطعة حاكماً عسكرياً .
- ٣- ( ) تبعاً لاتفاقية سايكس بيكو وضعت فلسطين والعراق وشرقي الأردن تحت الانتداب البريطاني .
- ٤- ( ) اهتمت الإدارة العسكرية البريطانية بالتعليم في فلسطين .
- ٥- ( ) افتتحت الجامعة العبرية في مدينة القدس عام ١٩١٨م .
- ٦- ( ) أصدر المفتي الحاج محمد أمين الحسيني فتوى تكفر من يقوم ببيع أرضه لليهود .

- اختر الإجابة الصحيحة مما بين القوسين:-

- ١- أقامت بريطانيا عند احتلالها فلسطين عام ١٩١٧م حكومة :  
( دكتاتورية - مدنية - عسكرية - ديمقراطية ) .

- ٢- عطلت بريطانيا المحاكم المدنية في فلسطين حتى عام :  
( ١٩١٧م - ١٩١٨م - ١٩١٩م - ١٩٢٠م ) .
- ٣- تبعاً لمؤتمر سان ريمو ١٩٢٠م فرض على سوريا ولبنان الانتداب :  
( الألماني - الفرنسي - الإيطالي - البريطاني ) .
- ٤- تم الاتفاق على قرار صك الانتداب من قبل عصبة الأمم عام :  
( ١٩٢٠م - ١٩٢٢م - ١٩٢٤م - ١٩٢٦م ) .
- ٥- عقد مؤتمر سان ريمو عام ١٩٢٠م في :  
( فرنسا - بريطانيا - ألمانيا - إيطاليا ) .
- ٦- موافقة عصبة الأمم على قرار صك الانتداب البريطاني على فلسطين تحقق :  
( استقلال فلسطين - وحدة عربية - وعد بلفور المشؤوم - العدل والمساواة ) .
- ٧- ترأس المجلس الإسلامي الأعلى المفتي الحاج :  
( محمد أمين الحسيني - عز الدين القسام - جمال الحسيني - عبد القادر الحسيني ) .

#### - بم تفسر:-

- ١- فرض عصبة الأمم نظام الانتداب على المناطق التي انتزعت من الدولة العثمانية بعد الحرب العالمية الأولى .  
.....
- ٢- الانتداب في حقيقته ليس في مصلحة الشعب الذي يخضع له .  
.....
- ٣- قدمت بريطانيا خدمة كبيرة للصهاينة عند تعيين هريبرت صموئيل مندوباً سامياً على فلسطين .  
.....
- ٤- تأسيس المجلس الإسلامي الشرعي الأعلى .  
.....

#### - عرف المصطلح التالي:-

- ١- سياسة فرق تسد :  
.....
- ٢- صك الانتداب :  
.....

٣- المجلس الإسلامي الأعلى : .....

.....

٤- الانتداب : .....

.....

٥- التهويد : .....

.....

**- ماالنتائج المترتبة على:-**

١- تدهور الوضع الاقتصادي في فلسطين بعد الحرب العالمية الأولى .

.....

.....

٢- وقوع أي دولة تحت الاحتلال العسكري .

.....

.....

**- أجب عن الأسئلة التالية:-**

١- صف أحوال فلسطين في فترة الاحتلال العسكري البريطاني منذ ١٩١٧م حتى ١٩٢٠م .

.....

.....

٢- عدد أهم قرارات المؤتمر السوري العام المنعقد عام ١٩١٩م .

.....

.....

٣- وضح العلاقة بين وعد بلفور وصك الانتداب البريطاني على فلسطين .

.....

.....

٤- بين الدور الذي لعبه المجلس الإسلامي الأعلى في مواجهة المخطط الصهيوني .

.....

## الوحدة الثالثة/الانتداب البريطاني على فلسطين.

### الدرس الثاني:الهجرة الصهيونية والسيطرة على الأراضي.

- أكمل الفراغات التالية:-

- ١- وزير خارجية بريطانيا الذي أصدر وعد بلفور هو .....
- ٢- صدر وعد بلفور عام..... م .
- ٣- اصدرت بريطانيا قانون الهجرة عام..... م .
- ٤- بلغ عدد المهاجرين اليهود إلى فلسطين في الهجرة الثالثة حوالي.....
- ٥- الدول التي جاءت منها الهجرة الصهيونية الثالثة الى فلسطين مثل.....
- ٦- بدأت الهجرة الرابعة عام..... م .
- ٧- بلغ اعداد اليهود في الهجرة الصهيونية السادسة نحو.....
- ٨- منحت بريطانيا مشروع شركة كهرباء فلسطين ل.....

- ضع علامة ( √ ) أمام العبارة الصحيحة وعلامة ( × ) أمام العبارة الخاطئة مع تصحيح الإجابة الخاطئة:-

- ١- ( ) بلغ عدد الصهاينة في الهجرة الخامس حوالي ٨٩ ألف مهاجر.
- ٢- ( ) بدأت الهجرة الصهيونية الخامسة عام ١٩٢٤ م .
- ٣- ( ) بريطانيا هي السبب في مأساة الشعب الفلسطيني .
- ٤- ( ) قام الفلسطينيون بتأسيس الكشافة الفلسطينية لمنع تهريب اليهود لفلسطين .
- ٥- ( ) اصدرت بريطانيا قانون الهجرة عام ١٩٢٢ م.
- ٦- ( ) سهلت بريطانيا الاستيلاء على الاراضي لصالح اليهود عن طريق سن قانون انتقال الاراضي عام ١٩٢٠ م.
- ٧- ( ) زادت الهجرة الصهيونية في فترة الانتداب البريطاني أكثر من الفترة العثمانية.
- ٨- ( ) مكن الانتداب البريطاني الحركة الصهيونية من السيطرة على الأرضى واستغلالها.



- أختار الإجابة الصحيحة مما بين القوسين:-

- ١- اصل المندوب السامي الذي عينته بريطانيا على فلسطين  
(فلسطيني - صهيوني - فرنسي - بريطاني).
- ٢- صدر وعد بلفور عام ( ١٩١٧م - ١٩٢٠م - ١٩٢٢م - ١٩٤٨م).
- ٣- جاءت الهجرة الصهيونية الثالثة من ( روسيا - رومانيا - بولونيا - استراليا ).
- ٤- بلغ اعداد اليهود في الهجرة الصهيونية السادسة ( ١٢ ألف - ٢١٥ ألف - ٨٩ ألف - ٣٥ ألف ).
- ٥- جاءت الهجرة الصهيونية الرابعة من دولة ( روسيا - رومانيا - المانيا - بولونيا ).

- بم تفسر:-

- ١- قيام الفلسطينيين بتأسيس الكشافة الفلسطينية.
- ٢- تسهيل بريطانيا الهجرة الصهيونية علي فلسطين.

- عرف المصطلح التالي:-

- ١- املاك الدولة :.....
- ٢- الكشافة الفلسطينية:.....
- ٣- قانون انتقال الاراضي:.....
- ٤- قانون الهجرة عام ١٩٢٠م :.....

- ماالنتائج المترتبة على:-

- ١- زيادة موجات الهجرة الصهيونية علي فلسطين.

٢- التسهيلات التي منحتها بريطانيا لليهود.

٣- تأسيس الفلسطينيين الكشافة الفلسطينية.

٤- اصدار صك الانتداب.

.....

- أجب عن الأسئلة التالية:-

١- قارن بين موجات الهجرات الصهيونية الثالثة الرابعة و الخامسة والسادسة من حيث:  
\*الفترة الزمنية - أعداد المهاجرين - الدول التي جاء منها:

الهجرة الصهيونية الخامسة	الهجرة الصهيونية الرابعة	الهجرة الصهيونية الثالثة	الهجرة الصهيونية
			الفترة الزمنية
			أعداد المهاجرين اليهود
			الدول التي جاءت منها

٢- تحدث بإيجاز عن مضمون صك الانتداب

.....

.....

.....



٣- اذكر أمثلة على التسهيلات التي قدمتها بريطانيا لتمكين الحركة الصهيونية في فلسطين.

.....

.....

.....

٤- عدد مقومات المشروع الصهيوني في فلسطين.

.....

.....

.....

٥- اذكر الطرق التي اتبعتها الصهاينة في الهجرة لفلسطين.

.....

.....

.....



## الوحدة الثالثة/الانتداب البريطاني على فلسطين.

### الدرس الثالث : المقاومة الفلسطينية ضد الانتداب البريطاني.

- أكمل الفراغات التالية:-

- ١- وزير خارجية بريطانيا الذي أصدر وعد بلفور هو .....
- ٢- يوجد حي المنشية الذي هاجمه الصهاينة في مدينة .....
- ٣- اللجنة التي شكلتها بريطانيا لدراسة أحداث ثورة النبي موسى هي .....
- ٤- المستوطنة التي أقيمت على أراضي قرية ملبس هي .....
- ٥- ولد عز الدين القسام في دولة .....
- ٦- قامت ثورة البراق عام .....
- ٧- اللجنة التي شكلتها بريطانيا لتحقيق بأحداث البراق هي .....
- ٨- عرف اليوم الذي استشهد به فؤاد حجازي وعطا الزير و محمد جمجوم بيوم .....
- ٩- استشهد المجاهد عز الدين القسام في أحراش .....

- ضع علامة ( √ ) أمام العبارة الصحيحة وعلامة ( × ) أمام العبارة الخاطئة مع تصحيح الإجابة الخاطئة:-

- ١- ( ) عقد المؤتمر الرابع في القدس عام ١٩٢٢م.
- ٢- ( ) طالب المؤتمر الرابع باستقلال فلسطين وإلغاء وعد بلفور.
- ٣- ( ) عُقد مؤتمر العلماء الأول عام ١٩٣٥م في القدس .
- ٤- ( ) قدم المجاهد عز الدين القسام إلى مدينة حيفا عام ١٩٢٢م.
- ٥- ( ) هدف الأحزاب الفلسطينية توعية الشعب الفلسطيني لمخاطر الحركة الصهيونية.
- ٦- ( ) صدر الكتاب الأبيض الأول عام ١٩٣٣م.
- ٧- ( ) تمثلت المقاومة في المظاهرات والاحتجاجات والثورات الشعبية.
- ٨- ( ) أيد الفلسطينيون والمسيحيون تحريم بيع الأراضي لليهود.

- أختَر الإجابة الصحيحة مما بين القوسين:-

- ١- عقد المؤتمر الاسلامي الاول في مدينة ( بيروت - جدة - القدس - الرياض ).
- ٢- عقد مؤتمر العلماء الاول عام ( ١٩٢٥م - ١٩٣٥م - ١٩٣١م - ١٩٢١م ).
- ٢- استشهد عز الدين القسام في مدينة ( القدس- حيفا- يافا- جنين ).
- ٣- اللجنة التي شكلت للتحقيق في احداث البراق (بالن- شو- هيكرفت - بيل).
- ٤- المؤتمر الذي حرم بيع الارضي لليهود (مؤتمر الرابع- المؤتمر الاول- المؤتمر الاسلامي- مؤتمر علماء الاول).
- ٥- أصدرت بريطانيا الكتاب الثاني عام ( ١٩٢٢م - ١٩٣٠م - ١٩٣٣م - ١٩٢٠م ).

- بم تفسر:-

- ١- قيام الفلسطينيين بمظاهرات و الاحتجاجات والإضرابات.  
.....
- ٢- تشكيل بريطانيا لجنة بالن.  
.....
- ٣- تشكيل بريطانيا لجنة هيكرفت.  
.....
- ٤- اندلاع ثورة البراق عام ١٩٢٩م.  
.....
- ٥- تنظيم الجمعيات الفلسطينية والأحزاب مظاهرات ضخمة عام ١٩٣٣م.  
.....
- ٦- شكلت ثورة عز الدين القسام منعطفاً في تاريخ الحركة الوطنية الفلسطينية.  
.....
- ٧- إصدار بريطانيا الكتاب الابيض الأول و الثاني.  
.....



- ماالنتائج المترتبة على:-

١- تنظيم الأحزاب والجمعيات الفلسطينية مظاهرات ضخمة عام ١٩٣٣م.

٢- ثورة النبي موسى عام ١٩٢٠م.

٣- هجوم اليهود على حي المنشية بتاريخ ١٩٢١/٥/١م في يافا.

٤- تشكيل عصبة الأمم لجنة البراق الدولية.

٥- ثورة عز الدين القسام ١٩٣٥م.

- أجب عن الأسئلة التالية:-

- ١- قارن بين :الكتاب الأبيض الأول – الكتاب الأبيض الثاني من حيث:  
- تاريخ الصدور -أهم التوصيات التي جاءت به.

وجه المقارنة	الكتاب الأبيض الأول	الكتاب الأبيض الثاني
تاريخ الصدور		
أهم التوصيات التي جاءت به		

٢- اذكر أسباب ظهور المقاومة الفلسطينية زمن الانتداب البريطاني.

٣- عدد اشكال المقاومة التي اتبعها الشعب الفلسطيني ضد الحركة الصهيونية وسلطات الانتداب.

.....  
.....

٤- اذكر قرارات لجنة هيكرفت.

.....  
.....

٥- وضح الاساليب الوسائل التي اتبعتها سلطات الانتداب البريطاني للقضاء علي المقاومة الفلسطينية.

.....  
.....

٦- عدد مطالب العرب في المؤتمر الإسلامي الأول عام ١٩٣١م.

.....  
.....

٧- اذكر أهم المؤتمرات التي عقدها الفلسطينيون لمقاومة الانتداب البريطاني.

.....  
.....

٨- ما رأيك في موقف الفلسطينيين و المسيحيون لتحريم بيع الأراضي للصهاينة.

.....  
.....

.....  
.....

٩- اذكر أسماء الأحزاب الفلسطينية التي شكّلت لتوعية الفلسطينيين من مخاطر الحركة الصهيونية.

.....  
.....

١٠- قارن بين توصيات لجنة شو للتحقيق في أحداث البراق وقرار لجنة البراق الدولية عام ١٩٢٩م.

.....  
.....  
.....



مادة اثرائية في مادة جغرافية فلسطين وتاريخها الحديث والمعاصر للصف العاشر الفصل الدراسي الأول للعام الدراسي ٢٠١٧ - ٢٠١٨ م.

## الوحدة الثالثة/الانتداب البريطاني على فلسطين.

### الدرس الرابع : الثورة الفلسطينية الكبرى..

- أكمل الفراغات التالية:-

- ١- بدأت المرحلة الاولى من الثورة الفلسطينية الكبرى بإعلان الإضراب من مدينة.....
- ٢- المدينة التي اتخذتها اللجنة العربية العليا مقراً لها هي .....
- ٣- القائد العسكري الذي تولى القيادة العامة للثورة هو.....
- ٤- اللجنة التي أرسلتها بريطانيا لتقصي الحقائق لمعرفة أسباب الإضراب هي لجنة...
- ٥- اعدام الشيخ فرحان السعدي علي اثر اغتيال الجنرال .....
- ٦- المؤتمر الذي عقد عام ١٩٣٩ م لبحث القضية الفلسطينية في لندن هو .....
- ٧- صدر الكتاب الابيض الثالث عام..... م.
- ٨- تأسست جامعة الدول العربية عام..... م.
- ٩- مؤسس حزب الأمة العربية في بغداد هو.....
- ١٠- الهدف من تأسيس حزب الأمة العربية .....
- ١١- تم تأسيس الهيئة العربية العليا من قبل جامعة الدول العربية برئاسة.....

- ضع علامة ( √ ) أمام العبارة الصحيحة وعلامة ( × ) أمام العبارة الخاطئة مع تصحيح الإجابة الخاطئة:-

- ١- ( ) استمرت الثورة الفلسطينية الكبرى حتي عام ١٩٣٩ م.
- ٢- ( ) أيدت جامعة الدول العربية على مقاطعة المنتوجات الصهيونية.
- ٣- ( ) قسمت فلسطين الى دولتين يهودية و عربية عام ١٩٣٧ م.
- ٤- ( ) اندلعت الثورة الفلسطينية عام ١٩٣٦ م.
- ٥- ( ) اتسمت الثورة الفلسطينية بالتنظيم.
- ٦- ( ) بدأت المرحلة الاولى من الثورة الفلسطينية الكبرى في مدينة حيفا.

- ٧- ( ) شكلت اللجنة العربية العليا بفلسطين بقيادة عبد القادر الحسيني.
- ٨- ( ) استمر اضراب الثورة العربية عام ١٩٣٦م حوالى ٤ شهور.
- ٩- ( ) ولد الشيخ فرحان السعدي في قرية المزار الفلسطينية.
- ١٠- ( ) وقف الحاج محمد أمين الحسيني مع الحلفاء خلال الحرب العالمية الثانية.
- ١١- ( ) تنافس الحزبان الديمقراطي والجمهوري في أمريكا على مساندة الشعب الفلسطيني.
- ١٢- ( ) نص ميثاق جامعة الدول العربية على استقلال فلسطين كحق ثابت.

**- أختار الإجابة الصحيحة مما بين القوسين:-**

- ١- قامت الدورة الثانية لجامعة الدول العربية عام ( ١٩٤٧م - ١٩٤٦م - ١٩٤٥م - ١٩٤٤م ).
- ٢- استمر اضراب الثورة الفلسطينية عام ١٩٣٦م ( أربعة أشهر - ستة أشهر - سنة - تسعة أشهر ).
- ٣- للحصول على استقلال الدول العربية استغل الحاج امين الحسيني العداوة التي بين المانيا و..... (بريطانيا - فرنسا - الولايات المتحدة - روسيا ).
- ٤- انتقل مقر الصهيونية الي دولة (بريطانيا - فرنسا - ألمانيا - الولايات المتحدة).
- ٥- أصدرت بريطانيا الكتاب الابيض الثالث عام ( ١٩٣٨م - ١٩٣٩م - ١٩٤٠م - ١٩٣٧م ).
- ٦- تعبر الثورة الفلسطينية من أهم محطات التصالح الوطني ضد (الصهيونية- الأمريكية - الفرنسية- الألمانية).
- ٧- اتسمت الثورة الفلسطينية الكبرى بـ (عدم التنظيم- إتباع أسلوب الإضراب- الانفتاح على بريطانيا- مهادنة الصهاينة).
- ٨- تشكلت اللجنة العربية العليا لفلسطين برئاسة (عبد القادر الحسيني- أمين الحسيني- فوزي القاوقجي- ليس ما سبق).



٩- دخل الثوار العرب إلى فلسطين من دولة ( العراق - سوريا - شرق الاردن - الجزائر )

١٠- القائد العسكري الذي تزعم ثورة العرب هو

( عبد القادر الحسيني - أمين الحسيني - فوزي القاوقجي - ياسر عرفات ) .

١١- اللجنة التي أرسلتها بريطانيا لمعرفة أسباب الاضراب

( بيل - بالن - شو - هيكرفت ) .

١٢- نص ميثاق جامعة الدول العربية على أن يكون اختيار منسق فلسطين بالجامعة من اختيار:

(الشعب الفلسطيني- جامعة الدول العربية- الهيئة العربية العليا- الحاج أمين الحسيني).

- بم تفسر:-

١- قيام الثورة الفلسطينية عام ١٩٣٦ م.

.....

٢- تراجع بريطانيا عن فكرة تقسيم فلسطين عام ١٩٣٧ م.

.....

٣- تشكيل لجنة بيل عام ١٩٣٧ م.

.....

٤- تحول الحركة الصهيونية نحو الولايات المتحدة الامريكية اثناء الحرب العالمية الثانية.

.....

٥- توقف الثورة الفلسطينية عام ١٩٣٩ م.

.....

٦- حضور اللجنة العربية العليا مؤتمر المائدة المستديرة.

.....

٧- صدور الكتاب الأبيض الثالث عام ١٩٣٩ م.

.....



٨- رفض العرب الكتاب الابيض الثالث ١٩٣٩م.

.....

٩- رفض اليهود الكتاب الابيض الثالث ١٩٣٩م.

.....

١٠- تشكيل أمين الحسيني حزب الامة العربية في بغداد.

.....

١١- اجراء الحاج أمين الحسيني اتصالات مع المانيا فترة الحرب العالمية الثانية.

.....

١٢- عقد مؤتمر الطاولة المستديرة عام ١٩٣٩م.

.....

- مالناتج المترتبة على:-

١- الثورة الفلسطينية الكبرى.

.....

.....

٢- رفض اللجنة العليا والحركة الصهيونية لجنة بيل.

.....

.....

- أجب عن الأسئلة التالية:-

١- عدد مميزات الثورة الفلسطينية الكبرى عام ١٩٣٦م.

.....

.....

.....

٢- اذكر قرارات جامعة الدول العربية الخاصة بفلسطين في الدورة الثانية لها عام ١٩٤٦م.

.....

.....

.....

٣- عدد توصيات مؤتمر بتليمور في نيويورك عام ١٩٤٢م.

.....

.....

.....



٤- وضح موقف كل من العرب والصهاينة من الكتاب الأبيض الثالث عام ١٩٣٩م.

.....

.....

.....

٥- عدد الظروف التي أدت إلى قيام الثورة الفلسطينية الكبرى عام ١٩٣٦م.

.....

.....

.....

٦- بين الاساليب التي اتبعتها الانتداب البريطاني لإخماد الثورة الفلسطينية الكبرى.

.....

.....

.....

٧- قارن بين أحداث المرحلة الأولى والمرحلة الثانية للثورة الفلسطينية الكبرى عام ١٩٣٦م.

.....

.....

.....

مادة اثرانية في مادة جغرافية فلسطين وتاريخها الحديث والمعاصر للصف العاشر الفصل الدراسي الأول للعام الدراسي ٢٠١٧-٢٠١٨ م.

## الوحدة الثالثة/الانتداب البريطاني على فلسطين.

### الدرس الخامس : قرار تقسيم فلسطين "١٨١" ١٩٤٧م.

- أكمل الفراغات التالية:-

- ١- انتهت الحرب العالمية الثانية عام.....م.
- ٢- دفعت بريطانيا ملف القضية الفلسطينية عام ١٩٤٧ م الي.....
- ٣- الهدف من تشكيل قوة الجهاد المقدس هو.....
- ٤- أصدر قرار التقسيم رقم ١٨١ بتاريخ.....م.
- ٥- المستفيد الأكبر من قرار التقسيم ١٨١ هو.....
- ٦- تشمل الدولة اليهودية في قرار التقسيم ١٨١.....و.....
- ٧- حدثت مجزرة دير ياسين عام.....م.
- ٨- شُكل جيش الإنقاذ بقيادة.....
- ٩- من الفرق العربية التي تشكلت للدفاع عن فلسطين.....و.....
- ١٠- الدول التي هددها الولايات المتحدة بعدم شراء المطاط منها في حالة عدم التصويت لقرار التقسيم هي.....
- ١١- بلغ عدد المتطوعين في جيش الإنقاذ حوالي.....متطوع.
- ١٢- انسحبت بريطانيا من فلسطين بتاريخ.....م.

- ضع علامة ( √ ) أمام العبارة الصحيحة وعلامة ( × ) أمام العبارة الخاطئة مع تصحيح الإجابة الخاطئة:-

- ١- ( ) قامت بريطانيا برفع ملف القضية الفلسطينية للأمم المتحدة عام ١٩٤٦م.
- ٢- ( ) نص مشروع الأكثرية علي وحدة فلسطين واستقلالها.
- ٣- ( ) نص مشروع الأقلية علي تقسيم فلسطين الي دولتين يهودية و عربية.
- ٤- ( ) تبنت هيئة الامم مشروع الاكثرية الخاص بتقسيم فلسطين.
- ٥- ( ) انتهت الحرب العالمية الثانية عام ١٩٤٨م.

- ٦- ( ) صدر قرار تقسيم فلسطين ٢٩-١١-١٩٤٧م.
- ٧- ( ) تشمل المناطق اليهودية في قرار التقسيم منطقة الجليل الأعلى والمنطقة الوسطى.
- ٨- ( ) فرحت الحركة الصهيونية بقرار التقسيم رقم ١٨١.
- ٩- ( ) قائد قوة الجهاد المقدس هو امين الحسيني.
- ١٠- ( ) تشكلت جمعية إنقاذ فلسطين بالعراق .
- ١١- ( ) كانت القدس في قرار التقسيم ١٨١ من نصيب فلسطين.

**- أختار الإجابة الصحيحة مما بين القوسين:-**

- ١- اندلعت الثورة الفلسطينية الكبرى عام (١٩٣٣م-١٩٣٤م-١٩٣٥م-١٩٣٦م).
- ٢- المجزرة التي ارتكبها الصهاينة في القدس عام ١٩٤٨م  
(ديرياسين-كفر قاسم-الحرم الإبراهيمي-صبرا وشاتيلا).
- ٣- أعلنت اللجنة العربية العليا بتاريخ ١٧/٦/١٩٤٧م من مدينة (حيفا-القدس-يافا-نابلس).
- ٤- تشكلت جمعية إنقاذ فلسطين في دولة (مصر-سوريا-العراق-الجزائر).

**- بم تفسر:-**

- ١- قررت اللجنة العربية العليا مقاطعة اللجنة الدولية التي شكلتها الأمم المتحدة.  
.....
- ٢- رفض الفلسطينيون لقرار التقسيم ١٨١.  
.....
- ٣- عبر الصهاينة عن فرحتهم لصدور قرار التقسيم ١٨١.  
.....

**- عرف المصطلح التالي:-**

- ١- قانون الأكثرية: .....  
.....
- ٢- قانون الأقلية: .....  
.....

- ما النتائج المترتبة على:-

١- اصدار قرار التقسيم ١٨١.

.....

.....

- أجب عن الأسئلة التالية:-

١- عدد قرارات جامعة الدول العربية في اجتماع القاهرة ١٩٤٧ م.

.....

.....

.....

٢- وضح دور الولايات المتحدة الأمريكية في الضغط على الدول للتصويت لصالح قرار تقسيم فلسطين.

.....

.....

.....



وحتي لو لم يسألني أحد عن هذا في  
الحيا، فاني أعلم وأؤمن بأنني سأحاسب  
يوم الحشر عن كل ما فعلته.

بسم الله الرحمن الرحيم

## رسالتي إلى الأقصى

أكتب للأقصى أجمل الحروف بألوان الدمع  
فهو الأقصى ... دمة القلب ودماء البحر و  
كبرياء المؤمنين ونحن في كنفه دوما إلى يوم  
الدين لنكون أمته العائدة من عمق الرماد  
ترعد بصوت الدين وتجدد أيام الفاتحين  
ليعود المنبر عودة عز وتكون الصلاة المشهد  
الحاضر في كل مكان في باب المقاربة وفي  
كنف البراق الخزين فلأجله سنبقى نصرخ  
أن الأقصى في خطر ولأجله نبقي نحمله  
طيرا مفردا في العقل ودمة مترققة في  
الشؤاد وسيظل مباركا بإرادة الله رب  
العالمين.

ابن فلسطين

