





اسم الطالب/ة: .....

التقدير / .....

نشاط رقم (١): أكتب الأعداد، ثم أجد ناتج الجمع:

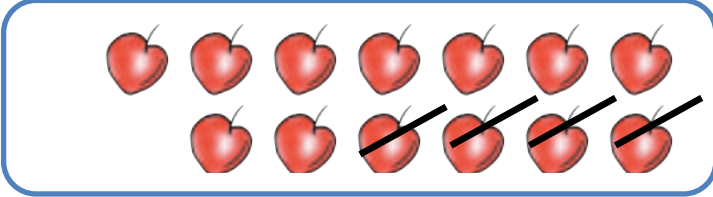


$$\square = \square + \square$$



$$\square = \square + \square$$

نشاط رقم (٢): أكتب معادلة الطرح المناسبة بحسب الرسم:

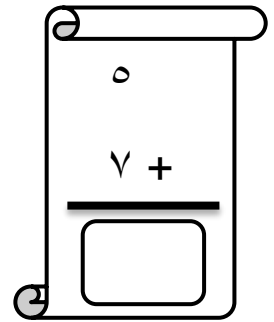
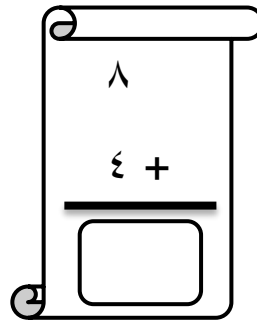
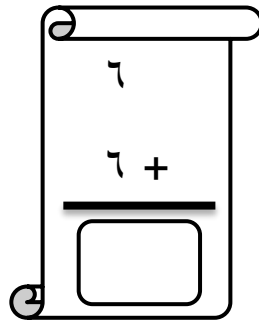
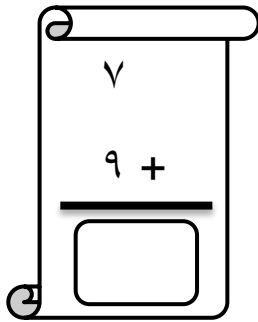
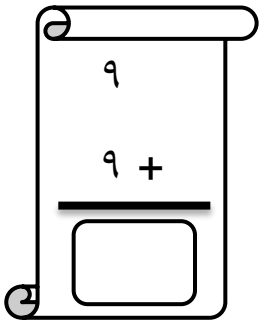


$$\square = \square - \square$$



$$\square = \square - \square$$

نشاط رقم (٣): أجد ناتج الجمع:



نشاط رقم (٤): أكتب الأعداد بحسب الرسم:



$$\square = \square + \square$$

نشاط رقم (٥): أجد باقي الطرح:

١٥ - ٢ ----- □	١٨ - ٧ ----- □	١٦ - ٣ ----- □	١٣ - ٢ ----- □	١٧ - ٦ ----- □
-------------------------	-------------------------	-------------------------	-------------------------	-------------------------

نشاط رقم (٦) : أكتب العدد المناسب:

$١٠ = \square - ١٥$	$١٥ = ٧ + \square$	$١١ = ٥ - \square$
$١١ = \square - ١٣$	$١٣ = ٨ + \square$	$١٤ = \square + ٨$

نشاط رقم (٧): أجب حسب المطلوب:

أ) قصة بها ١٨ صفحة، قرأت هالة ٧ صفحات. كم صفحة لم تقرأها هالة؟

الحل:

ب) بستان به ٨ أشجار نخيل، و ٩ أشجار لوز. كم مجموع أشجار النخيل واللوز معاً؟

الحل:

ملاحظات المعلم/ة.....

ورقة عمل تقييمية في مادة الرياضيات - للصف الأول الأساسي - نصف الفصل



الشهر الثاني - مارس - العام الدراسي ٢٠٢١ - ٢٠٢٢ م

الدروس / من الجمع ضمن العدد ١٠ - الطرح ضمن ١٨ أولاً



اسم الطالب/ة: .....

التقدير / .....

نشاط رقم (١): أكتب العدد المناسب في ☐:



$$\boxed{\phantom{00}} = \boxed{7} + \boxed{\phantom{00}}$$



$$\boxed{11} = \boxed{\phantom{00}} + \boxed{\phantom{00}}$$

نشاط رقم (٢): أكتب معادلة الطرح المناسبة بحسب الرسم:

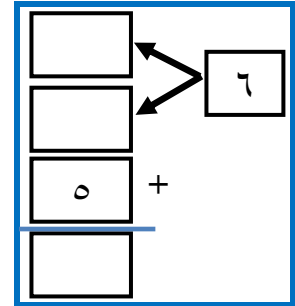
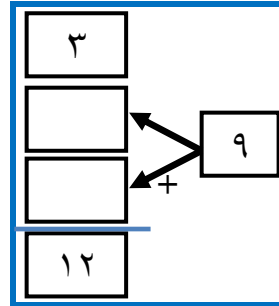
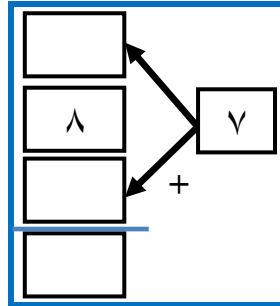
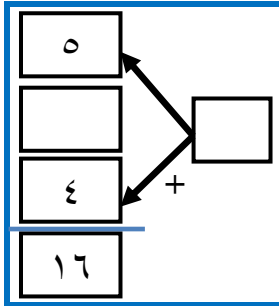


$$\boxed{\phantom{00}} = \boxed{\phantom{00}} - \boxed{\phantom{00}}$$



$$\boxed{\phantom{00}} = \boxed{\phantom{00}} - \boxed{\phantom{00}}$$

نشاط رقم (٣): أكتب العدد المناسب في ☐:



نشاط رقم (٤): أكتب الأعداد بحسب الرسم:



$$\boxed{\phantom{00}} = \boxed{\phantom{00}} + \boxed{\phantom{00}}$$

نشاط رقم (٥): أكتب العدد المناسب في □:

$$3 = \square - 16$$

$$15 = 6 + \square$$

$$10 = 4 - \square$$

$$12 = \square - 18$$

$$14 = 4 + \square$$

$$14 = \square + 6$$

نشاط رقم (٦): أجد ناتج الجمع:

$$\begin{array}{r} 8 \\ 8 + \\ \hline \square \end{array}$$

$$\begin{array}{r} 9 \\ 7 + \\ \hline \square \end{array}$$

$$\begin{array}{r} 10 \\ 5 + \\ \hline \square \end{array}$$

$$\begin{array}{r} 9 \\ 5 + \\ \hline \square \end{array}$$

$$\begin{array}{r} 6 \\ 7 + \\ \hline \square \end{array}$$

نشاط رقم (٧): أجد باقي الطرح:

$$\begin{array}{r} 15 \\ 4 - \\ \hline \square \end{array}$$

$$\begin{array}{r} 18 \\ 7 - \\ \hline \square \end{array}$$

$$\begin{array}{r} 15 \\ 3 - \\ \hline \square \end{array}$$

$$\begin{array}{r} 17 \\ 2 - \\ \hline \square \end{array}$$

$$\begin{array}{r} 13 \\ 3 - \\ \hline \square \end{array}$$

نشاط رقم (٨): أجب حسب المطلوب:

أ) معي ٨ بالونات حمراء، و ٩ بالونات زرقاء. كم مجموع البالونات الحمراء والزرقاء؟

الحل:

ب) شجرة عليها ١٥ عصفوراً، طار منهم ٤ عصفير. كم عصفوراً بقي على الشجرة؟

الحل:


ت) حظيرة بها ٦ خراف، واثنين من الماعز، و ٣ أبقار. كم مجموع الحيوانات في الحظيرة؟

الحل:


ملاحظات المعلم/ة.....

اسم الطالب/ة: ..... التقدير / .....


نشاط رقم (١): أكتب العدد المناسب ثم أجد ناتج الجمع:



$$\square = \square + \square$$



$$\square = \square + \square$$



نشاط رقم (٢): أشطب بحسب جملة الطرح، ثم أجد باقي الطرح:

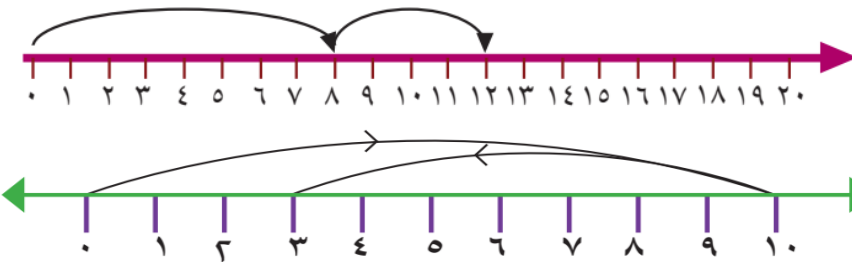


$$\square = \square - \square$$



$$\square = \square - \square$$

نشاط رقم (٣): أكتب الأعداد بحسب الرسم:



$$\square = \square + \square$$

$$\square = \square - \square$$

نشاط رقم (٤): أكتب العدد المناسب في □:

$$\begin{array}{|c|} \hline 5 \\ \hline \\ \hline 4 \\ \hline \hline 16 \\ \hline \end{array} + \begin{array}{|c|} \hline 9 \\ \hline \end{array} = \square$$

$$\begin{array}{|c|} \hline \\ \hline 8 \\ \hline \\ \hline 15 \\ \hline \end{array} + \begin{array}{|c|} \hline 7 \\ \hline \end{array} = \square$$

$$\begin{array}{|c|} \hline \\ \hline 3 \\ \hline 3 \\ \hline \hline 14 \\ \hline \end{array} + \begin{array}{|c|} \hline \square \\ \hline \end{array} = \square$$

$$\begin{array}{|c|} \hline 7 \\ \hline 3 \\ \hline 5 \\ \hline \hline \end{array} + \begin{array}{|c|} \hline \square \\ \hline \end{array} = \square$$

نشاط رقم (٥): أجد ناتج الجمع:

$\begin{array}{r} 4 \\ + 8 \\ \hline \end{array}$	$\begin{array}{r} 9 \\ + 7 \\ \hline \end{array}$	$\begin{array}{r} 10 \\ + 6 \\ \hline \end{array}$	$\begin{array}{r} 7 \\ + 5 \\ \hline \end{array}$	$\begin{array}{r} 4 \\ + 9 \\ \hline \end{array}$
---	---	--	---	---

نشاط رقم (٦): أجد باقي الطرح:

$\begin{array}{r} 13 \\ - 0 \\ \hline \end{array}$	$\begin{array}{r} 17 \\ - 4 \\ \hline \end{array}$	$\begin{array}{r} 16 \\ - 3 \\ \hline \end{array}$	$\begin{array}{r} 15 \\ - 4 \\ \hline \end{array}$	$\begin{array}{r} 14 \\ - 0 \\ \hline \end{array}$
--	--	--	--	--

نشاط رقم (٦): أكتب العدد المناسب في □:

$10 = \square - 16$	$11 = 3 + \square$	$12 = 4 - \square$
$11 = \square - 17$	$18 = 9 + \square$	$14 = \square + 7$

نشاط رقم (٧): أجيب حسب المطلوب:

(أ) مزرعة حيوانات بها ١٨ خروفاً و ٧ بقرات. كم يزيد عدد الخراف عن عدد البقرات؟

الحل: \_\_\_\_\_


(ب) قرأ رامي ٨ صفحات من قصة في الصباح ثم قرأ ٦ صفحات في المساء. كم صفحة قرأ رامي؟

الحل: \_\_\_\_\_



ملاحظات المعلم/ة.....

اسم الطالب/ة: ..... التقدير / .....


نشاط رقم (١): أكتب العدد المناسب ثم أجد ناتج الجمع:



$$\square = \square + \square$$




$$\square = \square + \square$$



نشاط رقم (٢): أكتب العدد المناسب، ثم أجد باقي الطرح:



$$\square = \square - \square$$



$$\square = \square - \square$$

نشاط رقم (٣): أكتب عدداً مناسباً لتكون المقارنة صحيحة:

$$\square > ١٧ + ٠$$
$$\square < ٩ + ١٠$$













$$\square < ٣ + ١٢$$
$$\square = ٥ - ٩$$

نشاط رقم (٤): أضع إشارة ( < ) أو ( > ) أو ( = ) في




$$٣ - ١٥ \bigcirc ٥ + ٩$$
$$٧ \bigcirc ٢ - ١٤$$

$$٧ + ٦ \bigcirc ٦ + ٥$$
$$٧ + ٨ \bigcirc ٨ + ٧$$

نشاط رقم (٥): أجب حسب المطلوب:

أ- أجد ناتج الجمع:	ب- أجد باقي الطرح:
 =  + 	 =  - 
 =  + 	 =  - 

نشاط رقم (٦): أكون من كل مجموعة أعداد جملة جمع مناسبة:

		
<input type="text"/> = <input type="text"/> + <input type="text"/>	<input type="text"/> = <input type="text"/> + <input type="text"/>	<input type="text"/> = <input type="text"/> + <input type="text"/>

نشاط رقم (٧): أضع الإشارة المناسبة ( + - ) في □:



$$17 = 8 \square 9$$

$$14 = 8 \square 6$$

$$12 = 6 \square 18$$

$$10 = 5 \square 15$$

نشاط رقم (٨): أجب حسب المطلوب:

كان معي ٧ قروش، أعطتني أُمي ٥ قروش، اشتريت لعبة ثمنها ٣ قروش. كم قرشاً بقي معي؟  
الحل: \_\_\_\_\_

ملاحظات المعلم/ة.....