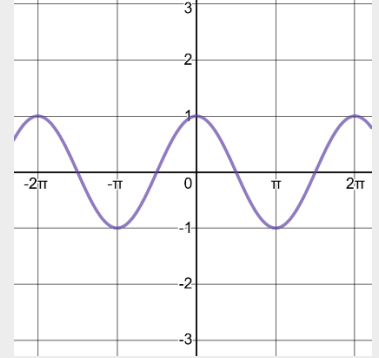
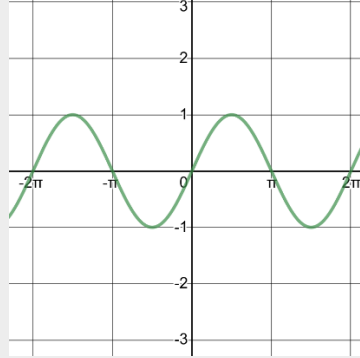
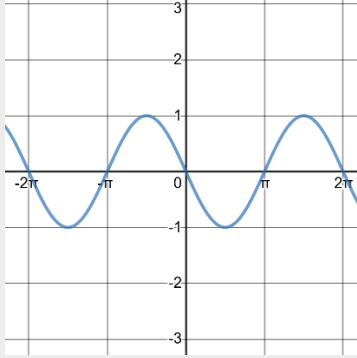


ورقة عمل للصف العاشر

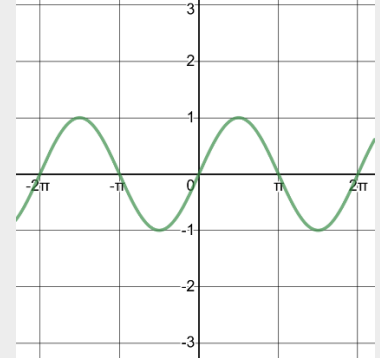
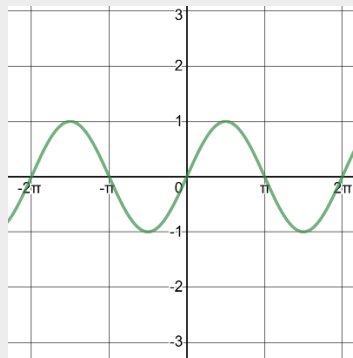
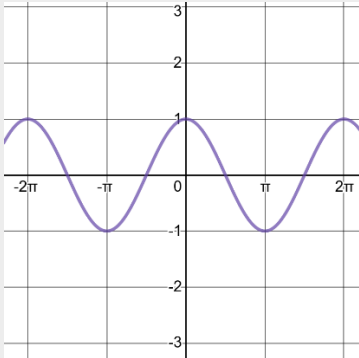
في تمثيل الاقترانات المثلثية بيانياً

اختر الإجابة الصحيحة من البدائل التالية لها:

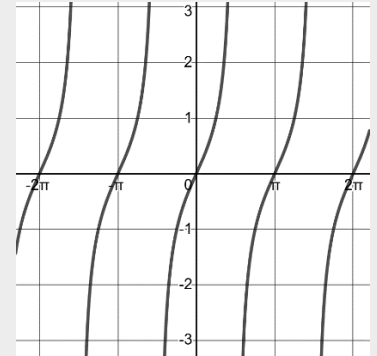
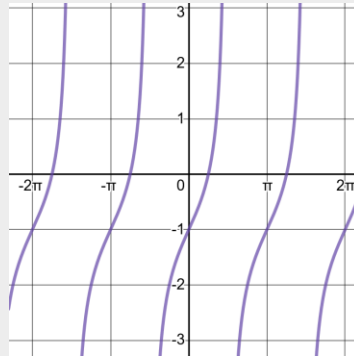
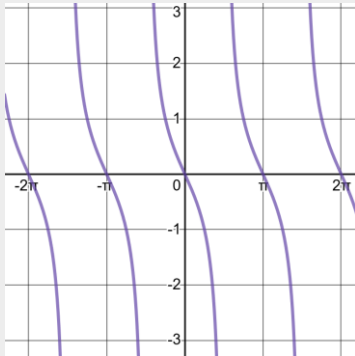
١- التمثيل الصحيح للإقتران ق(س) = جا س هو



٢- التمثيل الصحيح للإقتران ق(س) = جتا س هو

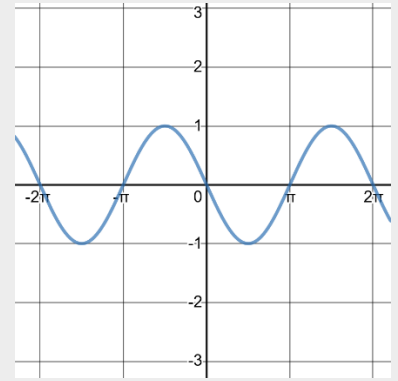
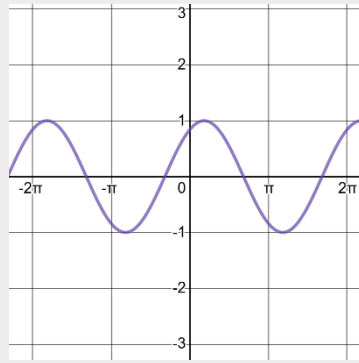
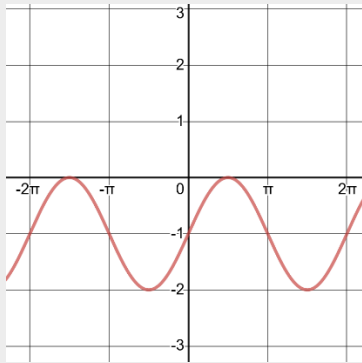


٣- التمثيل الصحيح للإقتران ق(س) = ظا س هو

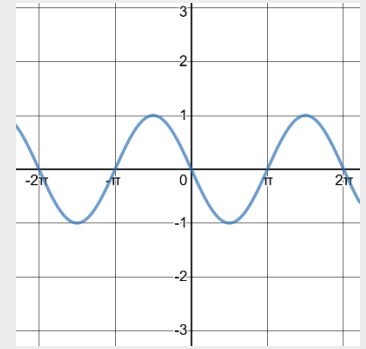
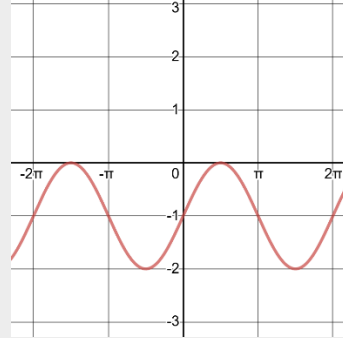
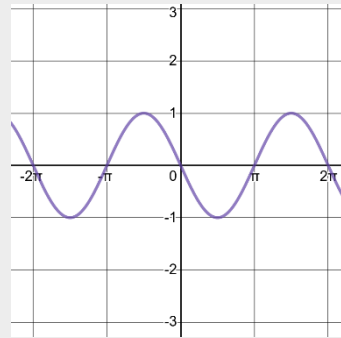


الصفحة ١ من ورقة عمل للصف العاشر في تمثيل الاقترانات المثلثية بيانياً - أ. نجلاء الحاج

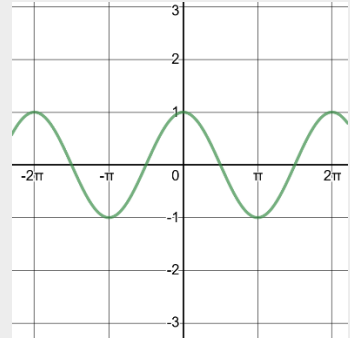
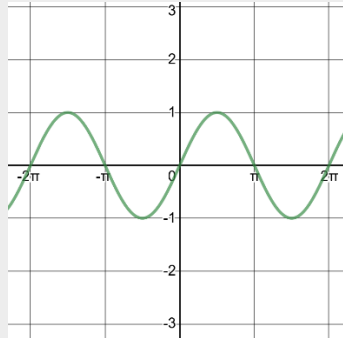
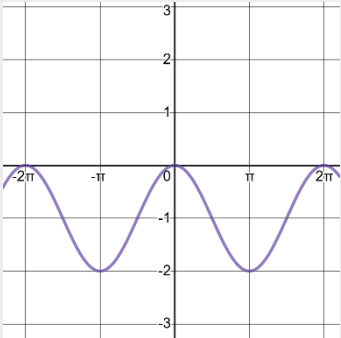
٤- التمثيل الصحيح للإقتران ق(س) = جا س - ١ هو



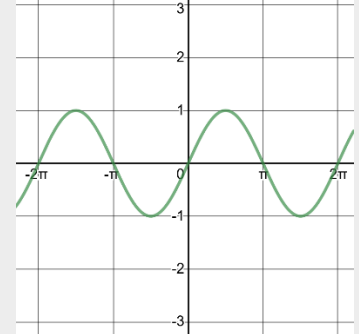
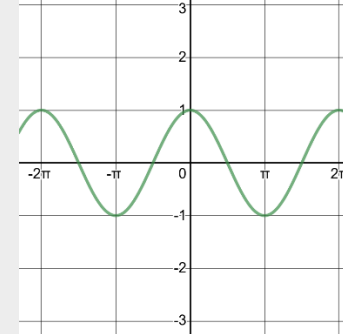
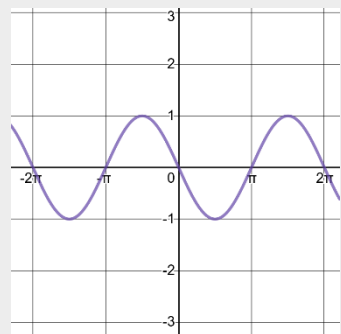
٥- التمثيل الصحيح للإقتران ق(س) = - جا س هو



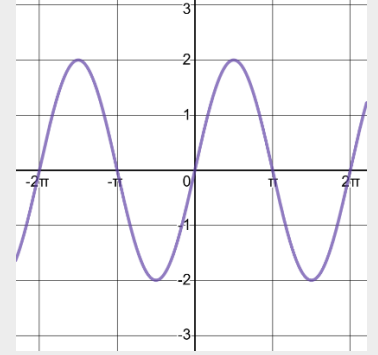
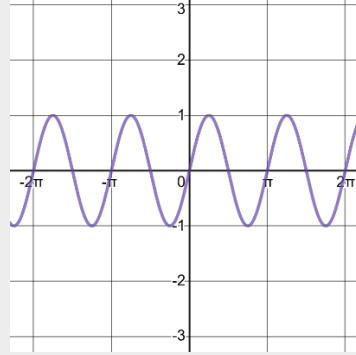
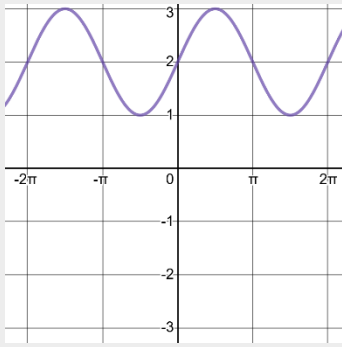
٦- التمثيل الصحيح للإقتران ق(س) = جتا (- س) هو



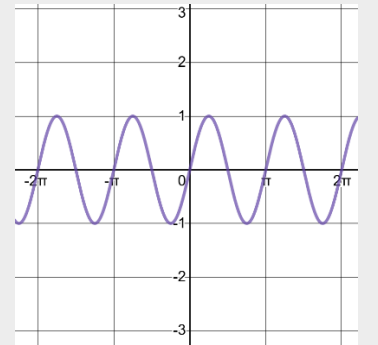
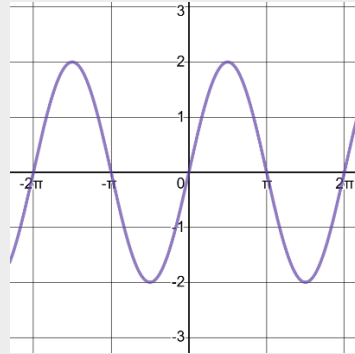
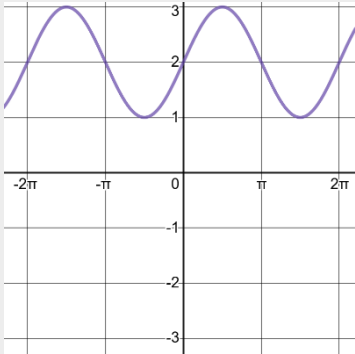
٧- التمثيل الصحيح للإقتران ق(س) = جتا ($\frac{\pi}{4}$ - س) هو



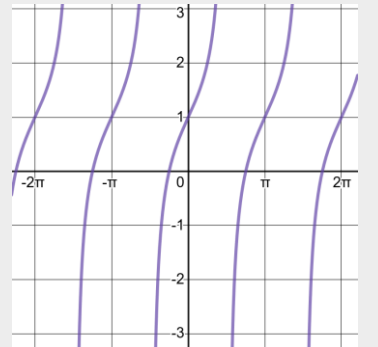
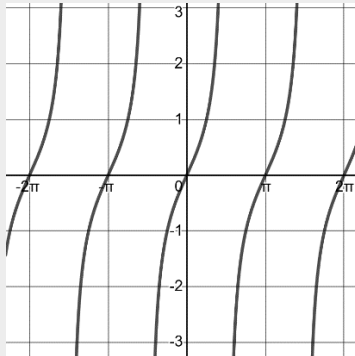
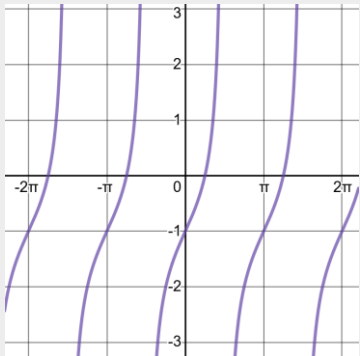
٨- التمثيل الصحيح للإقتران ق(س) = ٢ جا س هو



٩- التمثيل الصحيح للإقتران ق(س) = جا ٢س هو



١٠- التمثيل الصحيح للإقتران ق(س) = ظا س - ١ هو



انتهت الأسئلة

الصفحة ٤ من ورقة عمل للصف العاشر في تمثيل الاقتترانات المثلثية بيانياً -أ. نجلاء الحاج