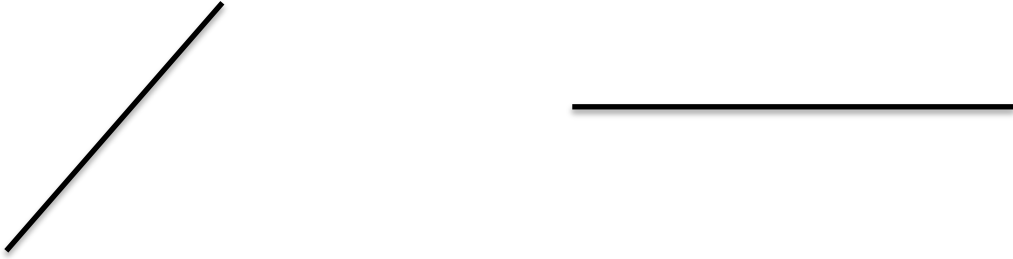


ورقة عمل (١)

إنشاءات هندسية (١)

الهدف : تتصف الطالبة قطعة مستقيمة .

أ- نصفي القطع المستقيمة التالية :



ب- اكمل لأنصف القطعة أب :



ج- في الشكل طاولة نريد وضع مظلة في منتصفها ساعدونا لتحديد

مكان المظلة:



ورقة عمل (٢)

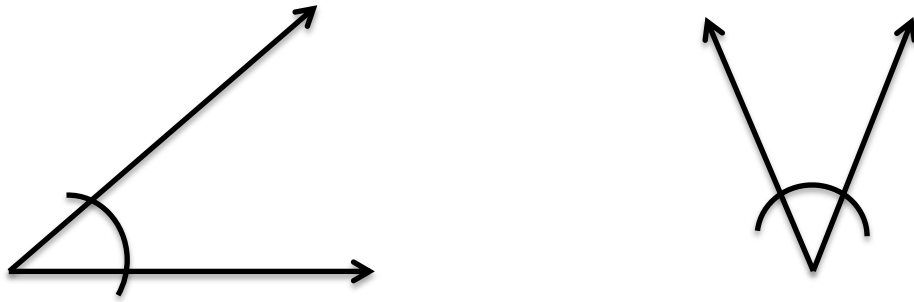
إنشاءات هندسية (١)

الهدف : تتصف الطالبة زاوية .

أ- نصفى الزوايا الآتية :




ب- اكمل لأنصف الزوايا التالية :



ج- في المثلث ارسم منصفات زواياه واثبت ان المنصفات تتلاقى

في نقطة واحدة :



ورقة عمل (٣)

المثلث

الهدف : تتعرف الطالبة انواع المثلثات من حيث الاضلاع .

تذكري : تنقسم المثلثات حسب اضلاعها الى :

أ- متساوية اضلاع ب- متساوية ساقين ج- مختلفة اضلاع .

